

# 五年真题 2020-2024

## 专题 02 秦汉统一多民族国家建立巩固

### 与魏晋南北朝的民族交融（选择题部分）

#### 五年考情·探规律

年份	考点分布	
2024	1. 浙江·秦朝的地方行政管理 2. 湖北·秦朝延续秦国耕战 3. 浙江·汉代尚书职能 4. 浙江·汉代均输平准 5. 浙江·汉代西域都护 6. 浙江·汉唐时期天文学成就 7. 全国新课标卷·门阀政治	8. 浙江·汉至唐政治特征 9. 安徽·魏晋时期的民族交融 10. 浙江·东晋门阀政治 11. 湖南·豪强大族势力膨胀 12. 广东·北魏的传统习俗 13. 辽宁·北魏对儒家文化的推广 14. 甘肃·孝文帝修定律法
2023	1. 天津·楚汉战争 2. 天津·汉初郡国并行制的影响 3. 广东·汉初的修养生息 4. 北京·汉朝的行政体制 5. 福建·东汉的南北经济发展	6. 山东·东汉社会风尚的变化 7. 全国新课标·两汉地方监察演变 8. 辽宁·史记的史学研究 9. 江苏·曹操的大一统思想 10. 湖南·南北政权对华夏的认同
2022	1. 湖北·秦汉大一统的时代特征 2. 河北·秦朝的文书行政 3. 浙江·古代职官的演变 4. 浙江·西汉的刺史制度 5. 天津·汉武帝的财政政策 6. 湖南·汉代重农抑商政策 7. 广东·两汉的政治制度	8. 辽宁·汉代的的大一统政治理念 9. 山东·汉代相马术 10. 山东·汉代的官员素养建设 11. 浙江·西汉造纸术 12. 浙江·汉代指南仪 13. 海南·西晋时期的民族交融 14. 北京·魏晋江南经济开发
2021	1. 浙江·秦兵马俑 2. 湖南·汉抑制外戚干政 3. 河北·汉中外朝制度 4. 广东·汉至魏晋的相权变化 5. 重庆·汉朝的丝绸之路 6. 全国甲卷·汉代监察制度 7. 河北·魏晋刺史制度 8. 江苏·司马迁的史学研究	9. 福建·东汉的农业 10. 浙江·评价历史人物 11. 浙江·汉代教育 12. 浙江·素纱禅衣 13. 全国乙·汉代经济发展 14. 福建·三国鼎立 15. 天津·魏晋书法发展条件
2020	1. 浙江·著名水利工程（空间布局） 2. 浙江·秦汉政治沿革 3. 全国新课标III·古代货币演变 4. 浙江·汉代手工业	5. 全国乙卷·汉代文化 6. 山东·重农抑商政策 7. 北京·三国两晋南北朝民族交融 8. 浙江·晋代书法

#### 命题趋势：

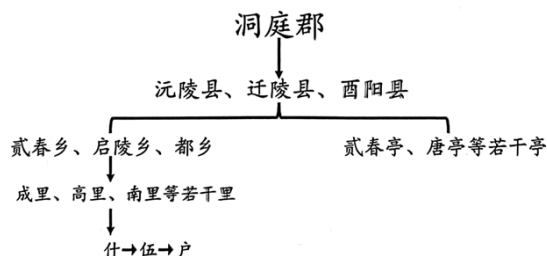
秦汉时期主要围绕大一统国家的建立与巩固，注意掌握秦汉时期各自采取的加强中央集权和巩固国家统一的措施，尤其是秦朝加强大一统的措施，民族政策和边疆的管理制度

也需要重点关注。三国两晋南北朝时期注意政治现象、经济现象及思想文化现象的特点、影响及出现的原因等；把握分裂时期蕴含着统一的趋势；关注江南开发的重要作用；注重这一时期的民族交融。

## 五年考题·精准练

### 2024年真题

1. (2024·浙江卷) 以下是某时期洞庭郡行政管理体系示意图。该时期是 ( )



A. 春秋                      B. 秦朝                      C. 宋朝                      D. 元朝

2. (2024·湖北卷) 《岳麓书院藏秦简》记载：“丞相其以制明告郡县……毋令吏以苛徭夺黔首春夏时。令皆明焉，以为恒。不从令者，赏（处罚）丞、令、令史、尉、尉史、士吏、发弩各二甲（甲冑）。”这表明秦朝 ( )

A. 相权挑战皇权      B. 延续秦国耕战国策      C. 统治残暴严苛      D. 崇尚儒家民本思想

3. (2024·浙江卷) 史载：“（西）汉成帝初置尚书五人，其一人为仆射，四人分为四曹：常侍曹（主公卿），二千石曹（主郡国二千石），民曹（主凡吏民上书），客曹（主外国夷狄）。后又置三公曹（主断狱），是为五曹。”由此可知 ( )

A. 尚书台正式确立为新行政中枢                      B. 汉成帝开始设立中朝削弱相权  
C. 尚书各曹掌握朝廷的重要职能                      D. 尚书仆射控制中朝威胁到皇权

4. (2024·浙江卷) 有史料记载：“往者，郡国诸侯各以其物贡输，往来烦杂，物多苦恶，或不偿其费；故郡国置输官以相给运，而便远方之贡。”“大农之诸官，尽笼天下之货物，贵即卖之，贱则买之。”以上史料反映的是 ( )

A. 相地而衰征      B. 盐铁官营      C. 均输平准      D. 摊丁入亩

5. (2024·浙江卷) 公元前 60 年，西汉在乌垒城设置管理西域的军政机构，该机构位于下图中的 ( )



- A. ①                      B. ②                      C. ③                      D. ④

6. (2024·浙江卷) 中国天文学起步较早, 成果丰硕。下列成就按时间先后排序正确的是 ( )

- ①创立延续至今的干支纪日法    ②编订新的历法《授时历》  
③僧一行测算地球子午线长度    ④张衡撰写天文学专著《灵宪》

- A. ①④②③              B. ①④③②              C. ④②①③              D. ④①③②

7. (2024·全国新课标卷) 三国魏代汉、西晋代魏, 都通过“禅让”实现: 权臣在切实掌握军政权力后, 皇帝下诏表彰其功业、德行, 表示尊重天意、民心, 主动让位; 公卿大臣则群起劝进, 权臣再三谦退, “不得已”建立新政权。“禅让”反复出现 ( )

- A. 保障了政治和平稳定              B. 放弃了血缘世袭传统  
C. 维护了特权阶层利益              D. 巩固了儒学忠孝伦理

8. (2024·浙江卷) 据《通典》记载, 西汉末人口约 6000 万, 历经 700 余年之发展, 至唐中期鼎盛的天宝年间, 人口约 5300 万, 才大体接近西汉末的数字。关于造成这种现象的主要原因, 下列说法中, 正确的是 ( )

- A. 生产工具、技术长期停滞不前              B. 政局长期动荡、战乱频繁  
C. 疆域变化不定、人口不断外迁              D. 土地兼并、南北经济衰退

9. (2024·安徽卷) 《晋书·陶侃传》记载, 陶侃为武昌太守时“立夷市于郡东, 大收其利”。《梁书·张稷传》亦载: “郁州(今属连云港市)接边陲, 民俗多与魏人交市。”此类记载所反映的现象表明, 这一时期 ( )

- A. 海外贸易增加财政收入              B. 市镇兴起维护了时局稳定  
C. 互市交易促进民族交往              D. 榷场的设立带动民间交流

10. (2024·浙江卷) 东晋政权以“王与马共天下”为开端, 下启庾、桓、谢氏迭相执政局面, 这种“共天下”的局面是秦汉以来专制皇权结构的一大变化。这说明当时的政治特征是 ( )

- A. 相权崛起              B. 民族交融              C. 政权更替              D. 士族专权

11. (2024·湖南卷) 下表为史籍所载东汉至南朝时期官府掌握的湖南地区户口数和人口数。其变化的主要原因是 ( )

时间	户口数(万)	人口数(万)
东汉永和五年(140)	64.98	281.32

西晋太康初年（280-289）	14.23	85.39
南朝宋昇明三年（479）	4.19	33.48

- A. 大规模的瘟疫流行  
B. 战乱异常频繁  
C. 豪强大族势力膨胀  
D. 官府组织移民

12. （2024·广东卷）如表《魏书》记载的部分皇帝赏赐

道武帝登国3年（388年）	杂畜十余万……各有差
明元帝永兴5年（413年）	赏征还将士牛马、奴婢各有差
太武帝始光4年（427年）	留文武生口、缯帛、马牛各有差

由此可知（ ）

- A. 北方游牧经济衰落  
B. 封建等级制度森严  
C. 鲜卑民族习俗的延续  
D. 俸禄制改革不彻底

13. （2024·辽宁卷）下表是北魏皇族女性墓志的部分内容。

人物	内容
将军冯邕之妻元氏	母义三恪，道著二王，肃穆闺闱，见重君子。
长乐长公主元瑛	六行允备，四德无违，孝友出于自然，柔恭表于天性。
乐安郡公主元仲英	女节茂于公宫，妇道显于邦国。

该表反映了当时（ ）

- A. 门第观念得到强化  
B. 因俗而治政策得到推广  
C. 礼仪规范得到传承  
D. 儒家伦理道德得到认同

14. （2024·甘肃卷）北魏孝文帝留心刑法，多次下诏改定刑律，其中太和元年诏令提到“参详旧典，务从宽仁”“民由化穆，非严刑所制”“齐之以法，示之以礼”。从上述诏令可知，孝文帝修定律法（ ）

- A. 深受儒家影响  
B. 借鉴南朝经验  
C. 沿袭鲜卑传统  
D. 意在托古改制

## 2023年真题

1. （2023·天津卷）秦朝灭亡后，项羽在具有绝对优势兵力的情况下，取得咸阳后没有称帝，而是分封诸王，并自立为西楚霸王；他认为“富贵不归故乡，如衣绣夜行”，遂率部东归。这主要反映了项羽（ ）

- A. 目光远大  
B. 观念传统  
C. 审时度势  
D. 优柔寡断

2. （2023·天津卷）汉初采取郡国并行制，后爆发“七国之乱”；曹魏创立九品中正制，后出现门阀士族把持政权；唐朝在边境重地设置军镇，后藩镇势大引发“安史之乱”。对上述三组历史现象的共性。解释正确的是（ ）

- A. 历史评判要以成败为基本依据  
B. 制度设立之初存在明显弊端

C. 中央与地方矛盾导致社会动荡

D. 历史事物之间因果关联复杂

3. (2023·广东卷) 汉初儒家代表人物陆贾的《新语》云：“昔舜治天下也，弹五弦之琴，歌南风之诗，寂若无治国之意，漠若无忧天下之心，然而天下大治……故无为者乃有为也。”陆贾的上述思想（ ）


A. 适应了休养生息的政治需要

B. 契合了德法并用的治国理念

C. 为尊崇儒术提供依据

D. 有利于加强中央集权

4. (2023·北京卷) “邮”是汉代一种通信机构，官府的重要文书可以通过“邮”传递，称为“以邮行”。1930年，新疆罗布泊北岸的遗址出土大量汉代简牍，如图为其中一件的照片。据研究推断，此遗址是汉代设立的居卢訾(zǐ)粮仓。这一发现说明，汉朝（ ）



①推动中外丝绸贸易的发展 ②有较发达的信息传递体系

③在西域地区推行了郡县制 ④发展交通有利于边疆治理

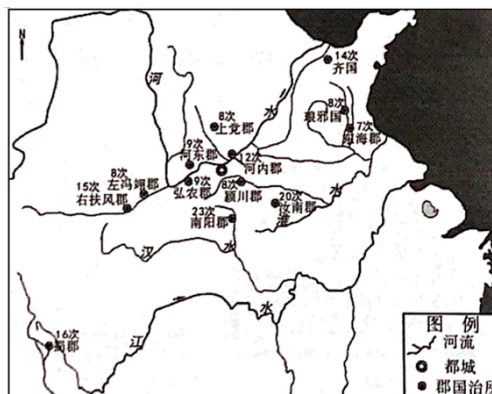
A. ①③

B. ②④

C. ①④

D. ②③

5. (2023·福建卷) 东汉前期，许慎在编撰《说文解字》时，征引全国各地的政区地名资料，用以分析字形、考辨字义。其中提及次数较多的郡、国如图所示。这反映了该时期（ ）



A. 行政制度的重大调整

B. 豪强势力的地方割据

C. 儒家思想的主导地位

D. 经济发展的南北差异

6. (2023·山东卷) 先秦贵族尚马车，贱牛车，此风秦汉犹存。及至东汉晚期，天子至士因牛车慢、稳、宽敞、严密，可障帷设几、任意坐卧而竞相乘坐，出行乘牛车遂成为一种风尚。这种“风尚”反映了（ ）

A. 政治衰颓的时代景象

B. 戒奢尚俭的社会风气

C. 重农崇耕的思想观念

D. 豪强势重的政治现实

7. (2023·全国新课标卷) 汉武帝时设置十三州部，州部可以推举秀才。东汉，“州里”“州闾”“州党”

等语汇逐渐行用，意为同乡，州刺史被尊称为“使君”。东汉后期，以州为中心的地域观念逐渐形成，这在当时（ ）

- A. 推动了察举制度的形成  
B. 不利于统一国家的巩固  
C. 有利于抑制豪强的势力  
D. 强化了监察制度的效力

8. (2023·辽宁卷)《史记》注最有影响的是“三家注”，即南朝裴驷的《史记集解》、唐司马贞的《史记索隐》和唐张守节的《史记正义》。今有学者认为，除“三家注”外，还应有第四家注，即考古学家的注。该学者意在强调（ ）

- A. 《史记》具有真实性和文学性  
B. 文献价值有赖于当代学者阐释  
C. 文献必须得到出土文物的印证  
D. 考古资料有助于探求历史真实

9. (2023·江苏卷)建安十八年(213)，曹操以汉献帝的名义下诏恢复古代九州之制，“省幽、并州，以其郡国并于冀州”，裁撤本为孙权控制的交州。至建安二十四年，将全国州数始终维持在九个。曹操复古改制的实践体现了（ ）

- A. 魏国在三国中占据优势  
B. 大一统思想的历史传承  
C. 东汉朝廷政令执行通畅  
D. 地方行政层级持续变化

10. (2023·湖南卷)南北朝后期，南北政权遣使频繁，双方挑选使节，必求“容止可观，文学优赡者”。北朝使节皆为汉族高门人物，而非鲜卑子弟。这说明（ ）

- A. 南方政权整体实力占优  
B. 南北政权文化认同趋近  
C. 南北政权关系趋向和好  
D. 汉族高门控制南北政权

## 2022年真题

1. (2022·湖北卷)下列关于秦汉历史的记述，集中反映了（ ）

文献记述	出处
秦并海内，兼诸侯，南面称帝，以养四海	贾谊《过秦论》
拨乱诛暴，平定海内，卒践帝祚，成于汉家。	《史记秦楚之际月表序》
接汉绪，茂育群生，恢复疆宇。	《后汉书·班固传》

- A. 统一多民族国家形成与发展  
B. 家国同构模式改变  
C. “大一统”的观念开始出现  
D. 华夏认同不断增强

2. (2022·河北卷)有学者研究简牍发现，秦代上级机构向下级机构下达的行政文书中通常有“书到相报，不报，追”等字样，郡向属县下发文书时也特别要求“别书相报……”，汉代同类文书则不再额外强调。这说明（ ）

- A. 秦代集权体制有其限度  
B. 汉代官吏管理水平提高  
C. 汉代交通利于文书传递  
D. 秦汉治国思想发生转变



3. (2022·浙江卷) 历代职官制度的演进, 既有传承又有创新。下表所列秦、元、明、清四朝职官信息, 按时序排列正确的是 ( )

①	理藩院尚书、军机大臣、水师提督
②	丞相、御史大夫、郡守
③	大学士、内阁首辅、锦衣卫指挥使
④	监察御史、宣政院使、福建行省右丞

A. ①③②④      B. ②④③①      C. ③①②④      D. ④②①③

4. (2022·浙江卷) 汉武帝置十三州部, 每州部设刺史一人。刺史定期在辖区内巡行, 年终赴京奏事。刺史秩仅 600 石, 但能以卑临尊, 监察秩 2000 石的郡太守和王国相。由此可知, 西汉刺史的设置

A. 可以弥补宰相才干不足的缺陷      B. 有利于加强中央对地方的控制  
C. 是地方行政体制建设的重要内容      D. 代表着社会履行监察官员的职能

5. (2022·天津卷) 汉武帝时期, “以均输调盐铁助赋”, 国家财政收入增加; 但武帝常年对外用兵, 还前后巡游二十余次, 仅一次巡游“所过赏赐, 用帛百余万匹, 钱金以巨万计”。这一时期国家财政没有得到根本好转, 主要是由于 ( )

A. 朝廷过度干预经济      B. 国家经济资源枯竭  
C. 盐铁官营不合时宜      D. 只重开源未能节流

6. (2022·湖南卷) 汉武帝南征北伐, 东巡西幸, 奢靡无度, 政府库告竭, 遂用聚敛之臣, “至于卖爵、更币、算车船、租六畜、告缗、均输、盐铁、榷酤, 凡可以佐用者一孔不遗, 独于田租不敢增益”。武帝此举 ( )

A. 体现以农为本      B. 服务于汉初战事  
C. 意在藏富于民      D. 解决了财政危机

7. (2022·广东卷) “奉朝请”是两汉朝廷给予退休大臣和列侯、宗室、外戚的特殊待遇, 被授予者特许参加朝会, 地位也随之提高。东汉 中叶以后, 王、侯多不就国, 而是以“奉朝请”的名义留驻京师, 封国大权操于国相, 这客观上

A. 有助于遏制地方豪强势力的扩张      B. 埋下了东汉末年军阀割据的隐患  
C. 为外戚干政提供了便利的条件      D. 有利于朝廷对封国的直接控制

8. (2022·辽宁卷) 《史记》《汉书》《后汉书》等文献中常见有“四海之内”“六合同风”“九州共贯”“方内安宁”“日月所照”等类似表述。这反映了汉代 ( )

A. 边疆治理趋于完善      B. 地方行政制度的发展  
C. “大一统”的政治理念      D. “华夷之辨”的思想意识

9. (2022·山东卷) 云梦秦简《日书》对选择善马的标准有严格规定, 汉代官府内有专门学习相马理论者, 相马术已成为专门技术自设一科, 与书数、射御等同。这一时期相马术的发展主要服务于



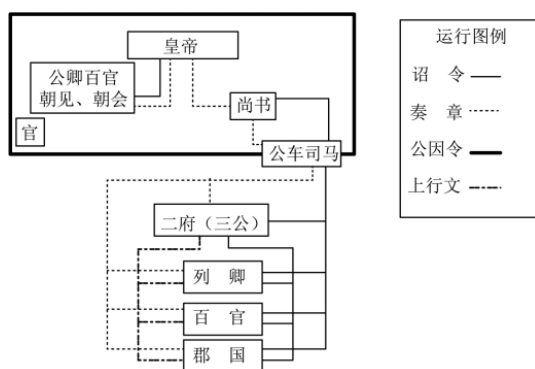


C. 鲜明的民本意识和高超的表现技巧      D. 高度概括和细腻写实的艺术手法

2. (2021·湖南卷) 汉初, 丞相陈平、太尉周勃与宗室大臣平定“诸吕之乱”后, 商议新帝人选, 经再三讨论, 认为代王刘恒在高祖刘邦在世诸子中, “最长, 仁孝宽厚, 太后家薄氏谨良”, 决定迎立刘恒为帝, 是为汉文帝。这一做法

- A. 反映嫡长子继承制得到执行                      B. 旨在预防外戚干政的重演  
C. 推动仁孝成为选帝主要标准                      D. 表明相权对皇权构成威胁

3. (2021·河北卷) 下图为中国古代某皇帝在位期间政令信息承转运行关系示意图, 对图中信息解读正确的是



- A. 尚书是中央最高行政机构                      B. 分权造成了冗官现象  
C. 决策权与执行权出现分离                      D. 王国问题得到了解决

4. (2021·广东卷) 汉代设尚书台, 其首领是尚书令、尚书仆射。魏晋时期, “事无大小, 咸归令、仆”。这一现象说明

- A. 皇权旁落    B. 相权转移  
C. 地方权力削弱                                      D. 行政效率降低

5. (2021·重庆卷) 如图是分别在埃及、阿富汗和中国出土的罗马搅胎玻璃瓶, 有学者指出它们是罗马工匠制作的。这可用于佐证 ( )



埃及出土的罗马搅胎玻璃瓶(公元1世纪)      大月氏王陵出土的罗马搅胎玻璃瓶(公元30年)      洛阳东汉墓出土的罗马搅胎玻璃瓶(公元2世纪)

- A. 大月氏成为丝绸之路的中心                      B. 丝绸之路促进中西文化交流  
C. 罗马搅胎玻璃瓶技术沿丝绸之路东传                      D. 东汉与罗马帝国建立了官方直接往来

6. (2021·全国甲卷) 汉代, 中央各部门长官与地方各郡太守自行辟召属官, 曾一度出现“名公巨卿, 以能致贤才为高; 而英才俊士, 以得所依乘为重”的现象。能够保障辟召制度有效运作的是 ( )

- A. 分科考试选官制建立                              B. 监察体系的改进

C. 郡国并行制度的完善

D. 察举制度的实施

7. (2021·河北高考)三国时期,魏明帝召集大臣议政。针对刺史制度问题,杜恕建言:“古之刺史,奉宣六条,以清静为名,威风著称,今可勿令领兵,以专民事。”由此可见,与西汉相比,当时魏国( )

A. 地方监察制度逐渐完善

B. 刺史制度加强了中央集权

C. 刺史的职权发生了异变

D. 刺史制度保障了吏治清明

8. (2021·江苏高考·2)《史记·淮阴侯列传》:“吾如淮阴,淮阴人为余言,韩信虽为布衣时,其志与众异。其母死,贫无以葬,然乃行营高敞地,令其旁可置万家。余视其母冢,良然。”在这里,司马迁采用的史学方法是( )

A. 档案文献与现场考察结合

B. 口述资料与实地探访互证

C. 出土简牍与历史文献参校

D. 民间传说与墓志铭文比对

9. (2021·福建高考·2)图1为今内蒙古呼和浩特地区出土的东汉墓壁画(局部),描绘了农业生产的场景。据此可推知,东汉时期该地区( )




图1

A. 存在大量戍边军民

B. 生计方式受中原影响

C. 耕作方式日益完善

D. 农耕经济占优势地位

10. (2021·浙江高考)历史人物评价常易引发讨论,如对商纣王、曹操、武则天等人,古今史家众说纷纭。尤其是新材料的发现会引发新一波的讨论,以曹操墓的发现为例,一时曾有“不堪寂寞,曹操出土”的说辞。如何正确看待和评价历史人物,是历史学习与研究的重要内容。下列历史人物评价标准和方法,合理的是( )

A. 知人论世,以当时当地大多数人的利益为评价标准

B. 与时俱进,以今日之价值标准全面衡量前人之是非

C. 察言观行,评价历史人物活动应侧重动机而非效果

D. 综合考量,看是否符合历史运动趋势推动社会进步

11. (2021·浙江高考)《汉书》称颂汉武帝:“雄材大略……虽《诗》《书》所称,何有加焉!”他在位期间( )

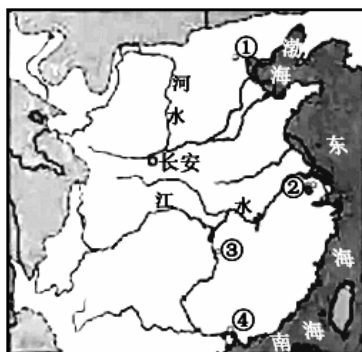
A. 推行科举制

B. 令各郡国建立学校

C. 不改汉初的休养生息政策

D. 重新确立儒学为正统思想

12. (2021·浙江高考)中国是丝的国度,创造了灿烂辉煌的丝绸文明。至汉,纺织技术已经相当发达。在某汉代考古遗址发现有一件素纱禅衣,重量仅49克。识图(右为汉代局部示意图)判断,该遗址位于( )



- A. ①                      B. ②                      C. ③                      D. ④

13. (2021·全国乙卷)

表1 西汉末、东汉中期部分地区民户数量表 单位：户

郡名	西汉末	东汉中期
代郡(今河北、山西间)	56771	20123
太原(今属山西)	169863	30902
南阳(今河南南部及湖北、陕西部分地区)	359316	528551
汝南(今河南东南、安徽西北)	461587	404448
豫章(今属江西)	67462	406496
零陵(今湖南、广西间)	21092	212284

据表1可知,在此期间( )

- A. 长江以南经济发展加速                      B. 豪强大族势力没落  
C. 南北经济的不平衡加剧                      D. 个体农耕经济衰退

14. (2021·福建高考)三国时期,孙吴立国江东59年,前后四帝共有18个年号,如黄龙、赤乌、神凤、天册、天玺、天纪等,而曹魏和蜀汉此类符瑞年号较少。据此可知,孙吴政权( )

- A. 推崇天人感应思想                      B. 权力更迭导致年号更换频繁  
C. 借助年号宣扬正统                      D. 大力削弱儒家思想主导地位

15. (2021·天津高考)魏晋时期,一批书法家的书法艺术各具特色,如钟繇“每点多异”、王羲之“万字不同”,表明书法艺术的发展从自发进入自觉阶段。这一转折所依托的条件是( )

- A. 书法实用性加强                      B. 书法流派的统一  
C. 竹简木牍的应用                      D. 纸张使用的推广



1. (2020·浙江卷)中国古代劳动人民以非凡的智慧和勤劳的双手兴修了许多著名的工程。观察下图(局部),对图中所示区位,命名及标注正确的是( )。

以上内容仅为本文档的试下载部分,为可阅读页数的一半内容。如要下载或阅读全文,请访问: <https://d.book118.com/758034015120007002>