

# 福建省福州市长乐区 2023-2024 学年八年级上学期期末历史

## 试题

学校:\_\_\_\_\_ 姓名:\_\_\_\_\_ 班级:\_\_\_\_\_ 考号:\_\_\_\_\_

### 一、选择题


1. 小历同学准备为班级出一期题为《近代中国民族英雄》的黑板报, 林则徐可归入的栏目是 ( )

- A. 禁毒先驱      B. 农民领袖      C. 甲午英烈      D. 变法志士

2. 1840 年英国为打开中国市场, 对中国发动鸦片战争, 《南京条约》内容中, 最能体现英国发动鸦片战争的本质意图是 ( )

- A. 开放五个通商口岸      B. 赔偿 2100 万银元  
C. 割让香港岛      D. 协定关税

3. 下图是《“文明人”的行径》漫画。此漫画揭露的所谓“文明人”罪行是 ( )



《“文明人”的行径》

- A. 英国发动的鸦片战争      B. 英法联军洗劫圆明园  
C. 俄国侵占中国东北领土      D. 八国联军进犯北京城

4. 有人把太平天国运动的发展历程分为宗教构梦、战争追梦、政策筑梦、内乱毁梦四个篇章。“内乱毁梦”是指 ( )

- A. 永安建制, 分封诸王      B. 定都天京, 军事全盛  
C. 天京变乱, 由盛转衰      D. 颁布《天朝田亩制度》

5. 19 世纪六七十年代, 洋务派引进了西方的机器生产技术, 创办了江南制造总局、福州船政局等一批官办军事工业。这些举措 ( )

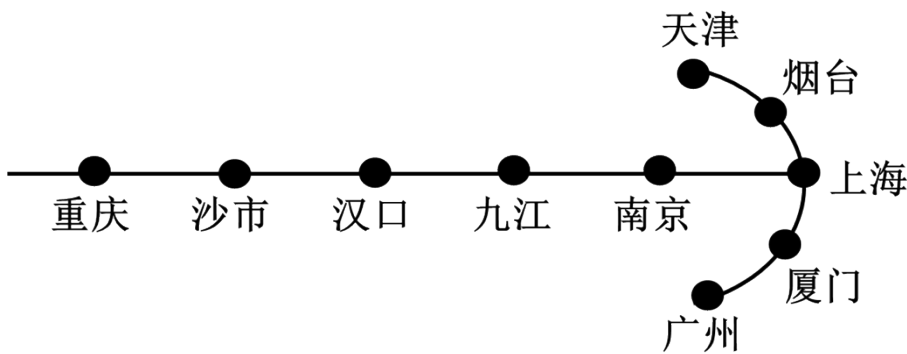
- A. 开启了向西方学习的历程      B. 推动了中国近代化的进程  
C. 保证了清朝政府财政收入      D. 维护了民族资产阶级利益

6. 张之洞在武昌设立湖北织布局之后, 该厂纺织的棉纱、棉布“甚合华人之用, 通行各

省，购取者争先恐后，以故货不停留，利源日广”；“自湖北设织布局以来，每年汉口进口之洋布，已较往年少来十四万匹”。这表明湖北织布局的设立（ ）

- A. 有利于外国的商品大量进入中国
- B. 推动中国教育文化的繁荣
- C. 一定程度上抵制了外国经济入侵
- D. 促进了洋务运动目标实现

7. 下图是中国近代史上被迫开放的部分通商口岸方位示意图。它反映出西方列强的侵华特点是（ ）



部分通商口岸方位示意图

- A. 由内地扩大到沿海地区
- B. 由沿海地区深入到内地
- C. 分布于长江中下游地区
- D. 位于中国东部沿海地区

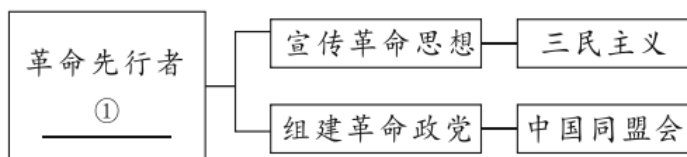
8. 1898 年，光绪皇帝在 103 天内先后发布上百道变法诏令，涉及政治、经济、军事、文化、教育等多个方面。这表明（ ）

- A. 变法诏令得以有效实施
- B. 维新人士具有创新意识
- C. 维新变法推行急于求成
- D. 变法图存成为社会共识

9. 1900 年 6 月 21 日，清政府发布上谕称：“近畿及山东等省义兵，同日不期而集者不下数十万人，执干戈以卫社稷，……人人敢死，张我国威。”材料表明义和团运动（ ）

- A. 是一场反帝爱国运动
- B. 具有盲目排外的性质
- C. 得到清政府一贯支持
- D. 使变法图强成为共识

10. 下图中横线①处的内容应是（ ）



- A. 邓世昌
- B. 康有为
- C. 孙中山
- D. 陈独秀

11. 《中华民国临时约法》规定：中华民国以参议院、临时大总统、国务员、法院行使其统治权，国务员须副署临时大总统公布的法律及命令。这些规定有助于

- A. 推翻封建君主专制
- B. 打击帝国主义势力
- C. 鼓励人民参政议政
- D. 维护民主共和制度

12. 据统计，民国初期以“民主”“国民”等命名的政党达 200 多个，报纸达 500 余家。这一现象说明（ ）

- A. 封建制度完全废除
- B. 中国社会性质改变
- C. 文学革命蓬勃发展
- D. 民主思想得到传播

13. 孙中山曾在《讨袁檄文》中称：袁世凯“既忘共和，即称民贼……誓死戮此民贼，以拯吾民……愿与爱国之豪俊共图之”。是因为袁世凯

- A. 复辟帝制
- B. 取消帝制
- C. 成为临时大总统
- D. 镇压二次革命

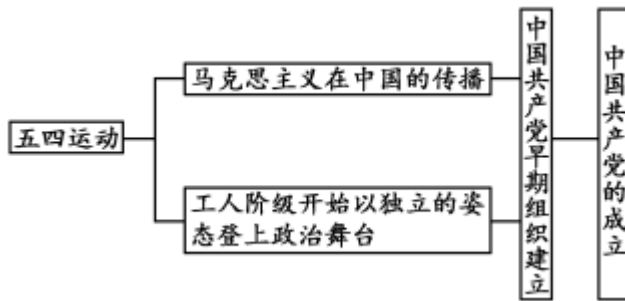
14. 以 1915 年陈独秀在上海创办《青年杂志》为发端，一批知识分子标举“民主与科学”在思想文化领域发起了影响深远的新文化运动。此举旨在（ ）

- A. 引进西方先进技术
- B. 谋求政治制度变革
- C. 推翻君主专制制度
- D. 培养国民独立人格

15. 1919 年北京学生高呼“中国存亡，就在此举了！……中国的土地可以征服而不可以断送！中国的人民可以杀戮而不可以低头！同胞们起来呀！”这体现了北京学生（ ）

- A. 追求自由平等的决心
- B. 具有强烈的爱国情怀
- C. 拥有改造社会的勇气
- D. 关注马克思主义传播

16. 下图为某同学制作的单元知识结构图。据此可知，该单元主题是（ ）



- A. 近代化的早期探索
- B. 新民主主义革命的开始
- C. 国共合作与北伐战争
- D. 井冈山道路的开辟

17. 下表是 1923-1926 年江苏地区党组织的发展情况。这说明国民革命运动（ ）


时间	组织情况
1923 年	仅有 2 个中共小组（后发展为 2 个独立支部）
1925 年 12 月	中共南京地方委员会，下辖 4 个支部
1926 年初	中共南京地委等 7 组织
1926 年底	全省已有 18 个市、县建立了中共组织

- A. 推动地方党组织发展
- B. 基本推翻北洋军阀统治

C. 促进了政治觉悟提高

D. 培养大批军事政治人才

18. 用图示法理清历史事件之间的联系是学习历史常用的一种方法。下面图示中空白方框内应填写（ ）



A. 北伐战争

B. 南昌起义

C. 井冈山会师

D. 红军长征

19. “一渡赤水、扎西整编，二渡赤水、再占遵义，三渡赤水、调虎离山，四渡赤水、出奇制胜。”材料所反映战役的历史背景是（ ）

A. 井冈山革命根据地的创建

B. 中央红军进行战略转移

C. 遵义会议确立了正确路线

D. 红军三大主力胜利会师

20. “九一八！九一八，从那个悲惨的时候，脱离了我的家乡，抛弃那无尽的宝藏……”这首凄怆的歌曲唱出了中国人民对日寇的无比痛恨和对家乡的深切思念。歌中的“家乡”在

A. 东北

B. 华北

C. 西南

D. 西北

21. 下图为国家公祭日，与该公祭日相关的历史事件是（ ）



A. 《马关条约》签订

B. 九一八事变

C. 七七事变

D. 南京大屠杀

22. 中国共产党领导的人民军队在不同时期有着不同的名称，七七事变后，中国工农红军改编为国民革命军第八路军，南方八省的游击队改编为国民革命军新编第四军，人民军队名称的变化反映出（ ）

A. 社会性质的变化

B. 中共地位的变化

C. 社会矛盾的变化

化 D. 领导阶级的变化

23. 下列表格内容描述的战役是

作战时间	参战部队	战斗次数	毙伤日、伪军人数	破坏交通线
1940年	八路军	1800多次	2.5万多人	2000多千米

- A. 平型关大捷 B. 百团大战 C. 挺进大别山 D. 渡江战役

24. “抗日战争的胜利是中华民族由衰败走向复兴的重大转折点”。这表述的是抗日战争的（ ）

- A. 背景 B. 目的 C. 意义 D. 性质

25. 毛泽东代表中国共产党参加重庆谈判主要是为了

- A. 推迟内战爆发  
B. 争取和平民主  
C. 争取更大利益  
D. 争取舆论支持

26. 下图所示大纲的颁布（ ）




宣传《中国土地法大纲》

- A. 巩固了井冈山农村革命根据地 B. 团结了全国各民族抗战的力量  
C. 提供了人民解放战争胜利保障 D. 宣告了国民党反动统治的覆灭

27. 1899年，张謇的大生纱厂建成投产，因资金周转困难，向官府求援无果，开工不久就准备出让、闭厂。这反映了当时的大生纱厂（ ）

- A. 注重产品质量 B. 发展举步维艰  
C. 采用先进技术 D. 推动交通革新

28. 下图漫画形象地描绘了20世纪初社会习俗的变化，这些变化体现出当时的



- A. 婚姻自主意识
- B. 崇洋逐新趋向
- C. 民族风情特征
- D. 自由平等风尚

二、辨析题

29. 阅读材料，完成下列要求。

材料 在辽沈战役顺利进行的时候，毛泽东为首的党中央便决定组织、发动淮海战役。针对淮海战役，党中央的作战方针是：“本战役第一阶段的重心，是集中兵力歼灭黄伯韬兵团……”。不使敌人撤退，不让敌人收缩，就成为平津战役的主要关键。据此，中央军委制定了“隔而不围”，“围而不打”，待部署完备，然后各个歼灭的作战方针。平津战役胜利结束，基本上解放了华北全境。三大战役（下图）是人民解放战争中的伟大战略决战，取得了辉煌的胜利，显示了人民战争的强大威力，闪耀着毛泽东军事思想的光辉。

——摘编自马群《论三大战役的战略方针与战术指导》等

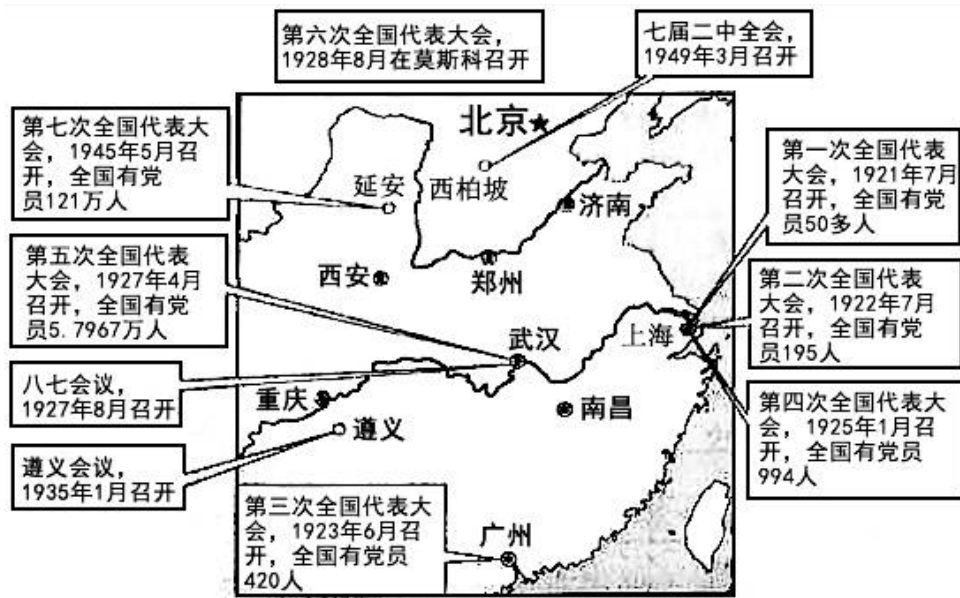


- (1)据材料，简述发生在东北地区的战役名称。
- (2)你是否同意材料中关于“三大战役的胜利与针对三个战场的不同特点制定不同的作战方针有关”的观点？结合材料与所学知识简要说明理由。

### 三、综合题

30. 阅读材料，完成下列要求。

材料一 新民主主义革命时期党的重要会议（部分）示意图



材料二 一九三五年一月，中央政治局在长征途中举行遵义会议，事实上确立了毛泽东同志在党中央和红军的领导地位，开始确立以毛泽东同志为主要代表的马克思主义正确路线在党中央的领导地位，开始形成以毛泽东同志为核心的党的第一代中央领导集体，开启了党独立自主解决中国革命实际问题新阶段。

——摘自《中共中央关于党的百年奋斗重大成就和历史经验的决议》

材料三 我们的任务不是别的，就是放手发动群众，壮大人民力量，团结全国一切可能团结的力量，在我们党领导之下，为着打败日本侵略者，建设一个光明的新中国，建设一个独立的、自由的、民主的、统一的、富强的新中国而奋斗。这就是我们大会的任务，这就是我们全党的任务，这就是全中国人民的任务。

——摘自毛泽东的七大开幕词《两个中国之命运》

(1)据材料一，指出党的一大召开的地点；并概括从1921至1945年共产党员人数变化的趋势。

(2)据材料二，归纳遵义会议的历史功绩。

(3)据材料三，概括“全国人民的任务”的主要内容。

(4)综合上述材料并结合所学知识，归纳中国共产党领导新民主主义革命取得胜利的主要原因。

31. 阅读材料，完成下列要求。

材料一 张学良的部队冲入委员长行营，要求他停止对共产党的“围剿”，以便一致

对日抗战。这兵变的目的既达，中国的政治从此改观。

——摘编自黄仁宇《中国大历史》



材料二 “全国同胞们!平津危急!华北危急!中华民族危急!只有全民族实行抗战，才是我们的出路。”

——1937年7月8日，中共中央向全国发表号召抗战的宣言

“如果战端一开，那就地无分南北，人无分老幼，无论何人皆有守土抗战之责任”

——1937年7月17日，蒋介石在庐山发表谈话

材料三 四万万同胞，同仇敌忾，用自己的血肉筑起了坚不可摧的长城，使日本侵略者陷入人民战争的汪洋大海之中。中国共产党领导的人民武装力量抗击大部分日军和几乎全部伪军。国民党爱国将士也在正面战场英勇抗击日军。

——摘编自人民日报社论《和平与正义是不可战胜的》

- (1)据材料一，简述其反映的历史事件；并结合所学知识说明“中国的政治从此改观”的含义。
- (2)据材料二，概括国共两党的共同主张；并结合所学知识分析国共两党的宣言（谈话）发表的背景。
- (3)根据材料三并结合所学知识，指出抗日战争的战场组成。
- (4)综合上述三则材料，概括抗日战争取得胜利的主要原因。

#### 四、论述题

32. 阅读材料，完成下列要求。

材料 中国近代史大事记(部分)

时间	事件



1921 年	中国共产党一大召开
1924 年	国民党一大召开，第一次国共合作正式形成
1926 年	国民革命出师北伐
1927 年	秋收起义；井冈山农村革命根据地创建
1928 年	井冈山会师
1931 年	九一八事变爆发
1934—1936 年	红军长征
1935 年	遵义会议召开
1936 年	西安事变及和平解决
1937 年	七七事变，国共第二次合作实现

——据张海鹏主编《中国近代通史》等编制阅读以上材料，选择两个历史事件，确定观点，并结合材料和所学知识加以论述。(要求：观点明确，根据选择的两个历史事件，并结合所学中国近代史至少一个历史事件，加以论述，史论结合，条理清楚)



以上内容仅为本文档的试下载部分，为可阅读页数的一半内容。如要下载或阅读全文，请访问：<https://d.book118.com/786221221054010105>