

2010-2023 历年安徽省屯溪一中高三上学期 期中考试政治试卷（带解析）

第1卷


一. 参考题库(共 25 题)

1.马克思主义哲学同旧哲学的区别是（ ）

- ①旧哲学是唯心论，马克思主义哲学是唯物论
- ②旧哲学是形而上学，马克思主义哲学是辩证法
- ③旧哲学只是说明世界，马克思主义哲学强调革命地改造世界
- ④旧哲学一般代表剥削阶级的利益，马克思主义哲学代表无产阶级和劳动人民的利益

- A. ①②③
- B. ③④
- C. ②③④
- D. ①②④

2.漫画《那是对岸》讽刺了经济生活中的哪种现象（ ）



那是对岸

- A. 强词夺理，漠视市场法律法规

- B. 见利忘义，破坏市场准入规则
- C. 置若罔闻，违背诚实守信原则
- D. 投机取巧，扰乱公平交易秩序

3.材料一 马克思指出，哲学并不像蘑菇那样是从地里冒出来的，他们是自己时代、自己人民的产物，人民的最美好、最珍贵、最隐蔽的精髓都汇集在哲学思想里。

材料二 中国特色社会主义理论体系，形成于改革开放的伟大历史实践，进一步开展了马克思主义中国化的新境界，是马克思主义中国化的最新成果，是党最可宝贵的政治和精神财富，是全国各族人民团结奋斗的共同思想基础。

结合材料一、二，简要说明坚持中国特色社会主义理论体系的必要性（6分）

4.自加入 WTO 以来，中国外贸年年上一个新台阶。海关总署公布的数据显示，2011 年 8 月，我国进出口总值 3288.7 亿美元，同比增长 27.1%。其中出口 1733.1 亿美元，同比增长 24.5%；进口 1555.6 亿美元，同比增长 30.2%，月度进口规模又创下新记录；月度贸易顺差为 177.5 亿美元，环比明显回落。

材料二 美国国会参议院于 2011 年 10 月 3 日，程序性投票通过了《2011 年货币汇率监督改革议案》立项预案。该案以所谓“货币失衡”为借口，将汇率问题进一步升级，采取保护主义措施，严重违背世贸组织规则，严重干扰中美经贸关系，中方对此表示坚决反对。

材料三 目前，中国经济依然存在着诸多问题，如经济发展方式不尽合理，特别是经济发展过分依赖于投资和出口，在外贸出口领域，往往以相对低廉的价格依靠出口量的增加来增加出口换汇额，这造成了中国与贸易伙伴之间的贸易摩擦不断升级，经济发展不可持续。

(1) 结合材料，从《经济生活》角度分析，当前我国外贸领域取得巨大成就的原因是什么？（8分）

(2) 在人民币升值和贸易保护主义升温形势下中国应怎样实施“引进来”和“走出去”相结合的战略？（9分）

5.“社会保障”连续多年蝉联网上调查热度排行榜首，反映了广大网民对完善社会保障制度的期待。完善社会保障制度有利于（ ）

- ①完善社会主义市场经济体制 ②提高劳动报酬在初次分配中的比重
③优化资源配置，增强企业社会责任感 ④提高消费预期，提高社会消费能力
- A. ①③
B. ①④
C. ②③
D. ②④

6.“有物混成，先天地生，寂兮寥兮，独立而不改，周行而不怠，可以为天下母，吾不知其名，字之曰道。”——《老子》第二十五章。下列选项中与老子的观点属于同一阵营的是（ ）

- ①死生，命也。有其旦暮之常，天也 ②夫民，神之主也，是以先王先臣民而后致力于神
③天地成于元气，万物成于天地 ④气之所聚，理即在焉，然理终为主
- A. ①②
B. ②③
C. ③④
D. ①④

7.黑格尔说：“美是理念的感性显现。”下列四个选项均是黑格尔的名言，与“美是理念的感性显现”蕴含的哲学思想一致的是（ ）

- A. 运伟大之思想者，必行伟大之迷途
B. 世界历史无非是自由意识的进展
C. 绝对的光明如同绝对的黑暗

D. 凡是存在的事物就天然具有合理性

8.当前我国经济社会发展要突出把握好“稳中求进”的工作总基调。下列选项中符合这一要求且表述正确的是（ ）

A. 运用经济手段——国内生产总值增长目标调低为 7.5%

B. 运用行政手段——调整金融机构存款准备金率

C. 采取积极的财政政策——规范并引导民间融资健康发展

D. 采取稳健的货币政策——落实和完善支持小微企业的税收优惠政策

9.英国诗人雪莱在《无常》中吟唱道，“今天，花儿喜爱欢悦/明天，就会凋谢/我们希望常驻一切/诱惑你，然后飞逸/什么是人间的欢乐/那是戏弄黑夜的电光/像闪光一样短促”。下列选项与诗中的哲理相近的是（ ）

A. 不是风动，不是幡动，仁者心动

B. 人一次也不能踏进同一条河流

C. 万物都在运动，但只是在概念中运动

D. 静者静动，非不动也。静即含动，动不舍静

10.货币最早是以足值的金属货币形式出现的。随着商品生产和商品交换的发展，商品流通中产生了作为价值符号的纸币，并逐渐取代了金属货币。纸币之所以能取代金属货币是因为：（ ）

①纸币容易产生，且同样具有充当贮藏手段的职能

②使用纸币能够有效降低货币制作成本

③纸币的使用范围更广

④纸币同样能执行价值尺度和流通手段的职能

- A. ①②
- B. ②③
- C. ②④
- D. ③④

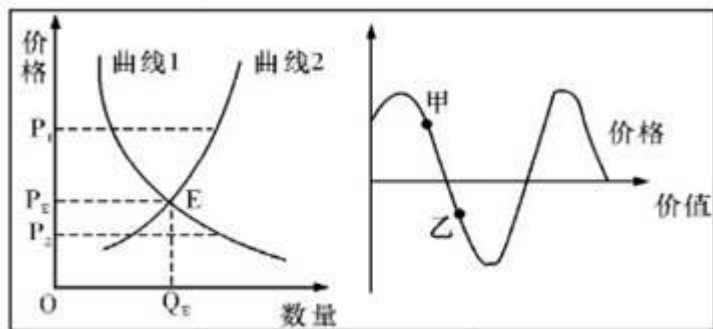
11.有一种观点认为哲学是“科学之科学”，持这种观点的人其实是认为（ ）

- A. 哲学是包罗万象、凌驾于一切科学之上的，可取代具体科学
- B. 哲学是关于自然、社会和思维领域发展的一般本质和普遍规律的科学
- C. 哲学是研究特定领域问题并揭示其特殊本质和规律的科学
- D. 哲学是从某方面反映人们对客观世界和认识人生价值认知的科学

12.王守仁认为“人者，天地万物之心也；心者，天地万物之主也。”下列说法与王守仁的观点同属一个哲学流派的是（ ）

- ①万物森然于方寸间，满心而发，充塞宇宙，无非此理
 - ②未有天地之先，毕竟也只是理。有此理，便由此天地
 - ③“自我”是自身的原因和世界的本原，“自我”周围的现实世界是“自我”创造的“非我”
 - ④为天地立心，为生民立命，为往圣继绝学，为万世开天平
- A. ①②
 - B. ②④
 - C. ①③
 - D. ③④

13.下图反映的是某种商品需求、供给和价格的关系，E点是供需平衡状态。不考虑其他因素，可以推断（ ）



①曲线1反映的是需求曲线，曲线2是供给曲线

②曲线1反映的是供给曲线，曲线2是需求曲线

③与商品价格在 P_2 时对应的点是乙点

④与商品价格在 P_2 时对应的点是甲点

- A. ①②
- B. ③④
- C. ②④
- D. ①③

14.某股票的上市流通盘为 2000 万股，当预期股息为 0.4 元时，股票的市场价格为 20 元。如果银行利息率提高 2%，当预期股息为 0.6 时，该股票的市场价格是 ()

- A. 15 元
- B. 20 元
- C. 30 元
- D. 40 元

15.在我国灿烂的历史文化宝库中，有许多言简意赅的成语，凝聚着深刻的生活智慧。下列对成语的哲学寓意理解正确的有 ()

- ①刻舟求剑——静止是认识事物的基础
- ②画龙点睛——重视解决主要矛盾
- ③见仁见智——真理是相对的有条件的
- ④胸有成竹——意识具有能动作用

- A. ①②
- B. ①③
- C. ②④
- D. ③④

16.2012年某企业生产A商品的价值量和价值总量用货币表示分别为24元和240万元。假设2013年该国货币贬值20%，该年该企业生产A商品的价值量和价值总量用货币表示分别为30元和360万元。在其他条件不变的情况下，2013年生产A商品的社会劳动生产率和该企业的个别劳动生产率的变动情况分别是（
）

- A. 不变下降20%
- B. 不变提高20%
- C. 下降20%提高20%
- D. 提高20%下降20%

17.2010年11月11日，国家统计局发布的数据显示，我国居民消费价格指数(CPI)已连续4个月上涨达到4.4%。至此，1—10月份CPI同比上涨3.0%，触及年初提出的3%左右的“警戒线”，居民的生活已受到明显的影响。造成此次物价上涨的因素是多方面的，有流动性货币过剩的原因，有部分商品供应临时性短缺或部分地区临时性短缺的原因，也有热钱炒作等因素。对此，国家采取多种措施应对物价上涨压力：央行已多次上调商业银行的存款准备金率达到有史以来的最高值，同时上调存贷款利率；财政部门对低收入群体发放临时性补贴，并对一些生产和流通部门进行降税和补贴以降低生产和流通企业的成本：物价部门对一些产品价格进行临时性干预……，使得物价总体稳中有降，社会经济总体平稳运行。

从宏观调控的角度谈谈你对材料的认识。（10分）

18.材料一 当前，中国人均GDP已经超过3600美元，迈入中等收入国家行列。喜的是，中国保持了持续30余年GDP年均增速9.8%

的记录，当前经济增长势头依然强劲；忧的是，中等收入发展阶段的各类陷阱已不同程度地凸显。世界银行行长左利克在北京举行的中国与世行合作 30 周年座谈会上再一次表示，目前摆在中国面前的新问题是“中等收入国家陷阱”，即从中等收入过渡到高收入，比从低收入过渡到中等收入更难。可以说，未来五年，即“十二五”期间，是中国跨越“中等收入国家陷阱”的关键时期。

从经济生活角度分析我国经济保持了持续 30 余年快速发展的原因。（8 分）

19.《吕氏春秋·察今》记载：荆人欲袭宋，使人先表澠水。澠水暴益，荆人弗知。循表而夜涉，溺死者千有余人，军惊而坏都舍。以下选项，与荆人教训具有相同哲学寓意的是（ ）

- A. 士以进死为荣，退生为辱
- B. 国虽大，好战必亡；天下虽安，忘战必危
- C. 九河盈溢，非一块所防；带甲百万，非一勇所抗
- D. 兵无常势，水无常形；能因敌变化而取胜者，谓之神

20.2011 年 9 月 17 日，美国爆发“占领华尔街”运动，并迅速蔓延至全国各大城市。运动发起者喊出了“我代表 99%，不再忍受 1%的贪婪与腐败”。这给我们的经济学启示是（ ）

- ①坚持效率与公平并重，让全体人民共享改革开放成果
- ②整顿规范分配秩序，坚持按生产要素分配的制度
- ③要防止出现严重的两极分化，实现共同富裕目标
- ④坚持公有制主体地位，建立信用监督的失信惩戒制度

- A. ①③
- B. ②③
- C. ②④
- D. ①④

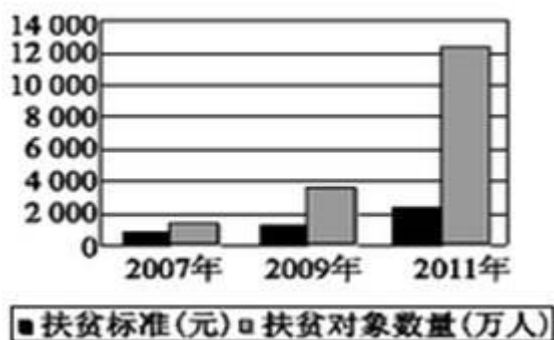
21.农副产品“卖难”的问题是困扰农民的突出问题，因此需要大力调整农业和农村经济结构。没有卖出去的农副产品从商品的角度看（ ）

- A. 有价值，但没有使用价值
- B. 有价值，但价值还未实现
- C. 有的有价值，有的没有价值
- D. 有价值，但没有交换价值

22.当前，中国经济国内生产总值增长预期目标为 7.5%，低于 8%。对此，中央认为，这是综合各方面的情况确定的：国内生产总值增长略微调低，主要是要与“十二五”规划目标逐步衔接，引导各方面把工作着力点放到加快转变经济发展方式、切实提高经济发展质量和效益上来，以利于实现更长期、更高水平、更好质量发展。

结合材料，分析我国经济增长预期目标主动降速给我们的唯物论启示。（9分）

23.下图是我国对农村人口的扶贫标准以及对应的扶贫对象数量的柱形图。对该图的正确解读是（ ）



- A. 扶贫对象数量的多少，标志着治理贫困成效的大小
- B. 扶贫对象数量的增加，实现了人人享有基本生活保障
- C. 扶贫标准的提高，有利于使经济发展成果惠及更多人口

D. 扶贫标准的提高，促成了合理有序分配格局的形成

24.漫画《菜贱伤农》蕴含的经济生活道理有（ ）



菜贱伤农

- ①商品价格下降，伤害了农民生产的积极性
- ②市场调节具有盲目性，应引导农民掌握市场信息
- ③政府应通过行政手段，提高农产品市场价格
- ④价格变动影响生产，农民需要增强风险意识

- A. ①④
- B. ①③
- C. ②④
- D. ②③

25.2012年的中央“一号文件”明确提出，要再接再厉、迎难而上、开拓进取，奋力夺取农业好收成，确保农产品有效供给。千方百计保障农产品有效供给的经济学依据是（ ）

- ①价值决定价格 ②供求影响价格 ③生产决定消费 ④生活必需品的价格弹性

小

- A. ①②
- B. ②③
- C. ③④
- D. ①④

以上内容仅为本文档的试下载部分，为可阅读页数的一半内容。

如要下载或阅读全文，请访问：

<https://d.book118.com/796043140032011004>