

广西2024年04月广西水文中心公务员考试国家公务员

考试笔试历年典型考题与考点剖析含答案详解

(图片大小可自由调整)

一、单项选择题(共125题)

1、

作为智慧的标志，幽默不分国界，但会因民族、文化的差异，呈现出不同的特质。大不列颠的幽默有不少反讽、奚落、荒诞和双关；中国等东亚国家的幽默则较为含蓄，比如泰国人常说，“遇见苦难，我们用幽默活下来”，需要读出字面意思背后的内涵。如果对当地文化不够了解，理解其幽默自然也会“差点意思”。换句话说，幽默中包含了一个民族的鲜明个性，抓住笑点，读懂幽默，_____。

填入画横线部分最恰当的一句是：_____

- A.是一个人“智慧”的最生动体现
- B.其实是在体味不同国家的文化内涵
- C.也就读懂了一个民族苦难奋斗的历史
- D.可以打破国家之间的界限以促进彼此交流

解析：

参考答案：B

[解析]

横线位于文段末尾，根据“换句话说”可知，尾句起总结全文的作用。前文首句通过转折词“但”指出幽默会因民族、文化的差异呈现出不同的特质并举例说明，之后从反面强调了要先了解当地文化，才能理解其幽默，故尾句应总结前文，强调“幽默”与“文化”的关系，对应B项。

A、D两项：没有提到文段的核心话题“文化”，与前文衔接不当，均排除。

C项：“民族苦难奋斗的历史”对应举例说明的内容，无法总结前文，排除。

故正确答案为B。

文段出处：《域外听风：我们需要“制造快乐的能力”》

2、

“先天下之忧而忧，后天下之乐而乐”是_的千古名句。

- A.韩愈
- B.王安石
- C.苏东坡

D.范仲淹

解析：

参考答案：D

3、

清末学者康有为在《广艺舟双楫》中将晚清书法衰微的现象归咎为传统书法范本面目失真，这是承袭了清代中叶学者对书法范本的认识，与书法史的真实状况并不十分吻合，与书法史发展的实际趋势也多有出入。当代书法家启功先生则在《论书绝句》提出，这种令人生厌的“馆阁书”与朝廷在科举考试中标举卷面书写“黑大光圆”密不可分。那么，在不能废除“馆阁书”书写要求的前提下，士人即便有条件取法摹刻精良的书法范本，也不能从根本上改掉“馆阁书”的书写习惯，这在康氏写成《广艺舟双楫》之后的时代中得到了验证。

对这段文字的主旨概括最准确的是_____。

- A.批评康有为书法研究中存在的误区
- B.探讨晚清书法艺术衰微不振的原因
- C.强调科举考试对书法艺术的负面影响
- D.分析书写模式与创作风气之间的关系

解析：

参考答案：B

[解析]

总的来说，文段分为两部分，前半部分简要介绍康有为对晚清书法衰微原因的看法，并给予其评价；后半部分主要介绍启功先生对晚清书法衰微原因的看法及进一步的分析。由此不难看出，整个文段主要是在对晚清书法艺术衰微不振的原因进行探讨。因此本题正确答案为B。

4、

毗边区：是指在领海以外而又与领海毗连，由沿海国对海关、财政、移民和卫生等特定事项行使管制权的一个海域。毗边区从测算领海宽度的基线起不得超过24海里。

根据以上定义，下列陈述中属于毗边区的是()

- A.中国黄河入海口处
- B.黄海海域12海里以外24海里以内的区域
- C.中蒙边界12公里左右的区域
- D.中国大陆与香港边界的海域

解析：

参考答案：B

5、

我国历史上曾有一些人因参与处理中央政权与少数民族政权的关系而知名，下列对应不正确的是_____。

- A.霍去病——匈奴
- B.岳飞——女真
- C.文天祥——蒙古
- D.于谦——鲜卑

解析：

参考答案：D

[解析]

于谦在处理明朝与瓦剌(也称斡亦剌、厄鲁特，是我国蒙古族的一支)的关系中做出了突出贡献。故选D。

6、

蓝图再美好，没有监督落实，也只能是_____。

填入画横线部分最恰当的一项是：_____

- A.金迷纸醉
- B.纸上谈兵
- C.纸糊老虎
- D.落纸云烟

解析：

参考答案：B

[解析]

句意是蓝图再美好，不监督落实也只是一种空头计划。“金迷纸醉”指被光芒四射的金纸所迷住，比喻奢侈豪华、腐朽享乐的生活。“纸糊老虎”比喻看似实力强大，实际不堪一击。“落纸云烟”形容书法或诗文高超玄妙，变化多姿。三者填入均不符合句意，排除A、C、D。“纸上谈兵”指在纸面上谈论打仗，比喻空谈理论，不能解决实际问题，也比喻空谈不能成为现实。其填入符合语境。故本题选B。

7、

就个人和民族的作用而言，文化素质主要是通过形成特定的文化氛围，浸润其心灵，提升其境界；人文精神则主要是通过具体的价值意识，指导其行为，推动其前进。换言之，文化素质的作用是间接的、抽象的；人文精神的作用则比较直接、具体。因此_____。

- A.文化素质实际上就是人文精神的间接的、抽象的反映
- B.人文精神实际上就是文化素质的直接的、具体的体现
- C.在大力提高民族文化素质的同时，应当高度重视人文精神的建设
- D.人文精神、文化素质二者相辅相成，密不可分

解析：

参考答案：D

[解析]

本段文字阐述文化素质和人文精神对个人和民族的作用，文章的末尾指出，文化素质的作用是间接的、抽象的，而人文精神的作用是直接的、具体的，通过分析这些可知，人文精神和文化素质二者的关系应该是相辅相成的，密不可分的，故本题应选D。

8、

事物的发展，内因是根据，外因是条件，内因和外因同时具备才能使事物发生质的飞跃。因此下列不正确的是_____。

- A.石头是不可能孵出小鸡的
- B.好人是不可能变坏的
- C.学生在学习中，老师的教学是外因，自己的学习是内因
- D.有鸡蛋还必须保证有适当的温度才能孵出小鸡

解析：

参考答案：B

9、

徐霞客的山水之志来源于父亲的榜样、游记书籍的熏陶和母亲的支持，大概因为读书有偏好，霞客十来岁时童子试不成，索性改志投奔山水之间，到此时，霞客的所为并不_____，古代这样的人很多，但他从此以后_____，纯粹一生，别无他顾，这就难得了。依次填入划横线部分最恰当的一项是_____。

- A.出格 专心致志
- B.独特 坚韧不拔
- C.新鲜 矢志不渝
- D.另类 持之以恒

解析：

参考答案：C

[解析]

专心致志形容一心一意，集中精神，聚精会神，把心思全放在上面；坚韧不拔形容信念坚定，意志顽强，不可动摇；矢志不渝指立下誓言或志愿，绝不会改变；持之以恒指面对任何事情恒心对待。由题干“纯粹一生，别无他顾”可知，第二个空应填表示志向坚定不变的词语，“矢志不渝”最合适。由最后一句“这就难得了”可知，第一个空应填与“难得”语义轻重程度相近的词语，选“新鲜”。故选C。

10、

我国志愿服务起步晚，但发展迅速，具备一定的后发优势，应借鉴海外经验，____中国特色的现代志愿服务体系。中国社会工作协会志愿者委员会研究中心常务副主任谭建光认为，东方社会强调“邻里相助”“亲友互助”等，我国应利用年轻父母们希望培养孩子社会责任感的____，鼓励以家庭为单位广泛参与志愿服务。

依次填入画横线部分最恰当的一项是_____。

- A.建设 意愿
- B.形成 机会
- C.构建 契机
- D.发展 条件

解析：

参考答案：C

[解析]

本题可从第一空入手，根据文段语境信息“我国志愿服务起步晚，发展迅速，具备一定的后发优势”，第一空填入“发展”表意重复，排除D项。结合上下文，我国志愿服务在探索发展、“借鉴海外经验”可知，应是“逐渐形成”中国特色的现代志愿服务体系，故排除B项。“构建”指全方位、多角度、深层次地建立，多用于抽象事物。“建设”指创立新事业，增加新设施，充实新精神。中国特色的现代志愿服务体系是抽象事物，“构建”更合适。验证第二空，“契机”符合，故本题正确答案为C。

11、

任何城市的演变都是城市的历史与新元素的_____。城市的历史和历史建筑应当是我们的资源、城市的特色，而不应被看作城市建设的_____。

依次填入划横线部分最恰当的一项是：

- A.融会贯通 负担
- B.兼收并蓄 阻力
- C.此消彼长 包袱
- D.相辅相成 障碍

解析：

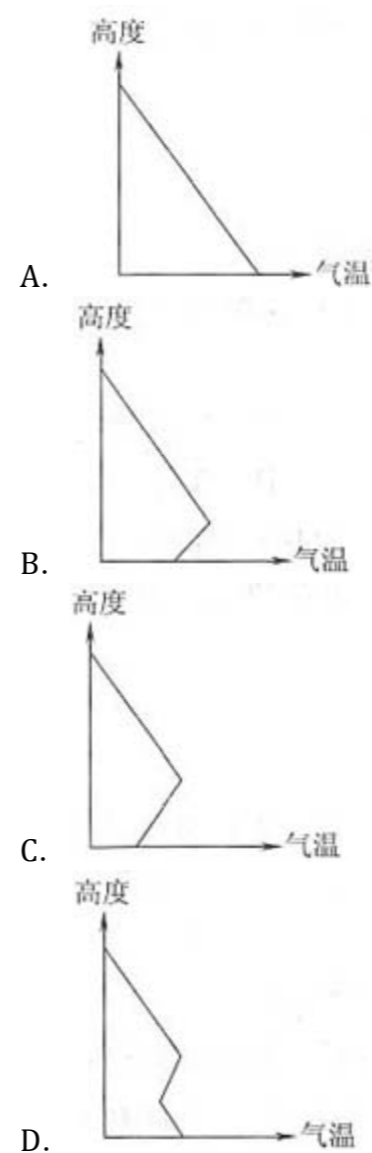
参考答案：D

[解析]

通过“都是.....历史与新元素的”可知历史与新元素应是共存的，排除C项“此消彼长”。A项“融会贯通”指把各方面的知识和道理融化汇合，得到全面透彻的理解。B项“兼收并蓄”指把不同内容、不同性质的东西收下来，保存起来。A、B两项的意思与题干内容不符，故排除。D项“相辅相成”指两件事物互相配合，互相辅助，缺一不可，符合历史与新元素的关系。

12、

近年来，雾霾天气在我国频繁出现，空气质量问题已引起全社会高度关注。下图是气温垂直分布的4种情形。图中最有利于雾霾大气污染物扩散的情形是_____。



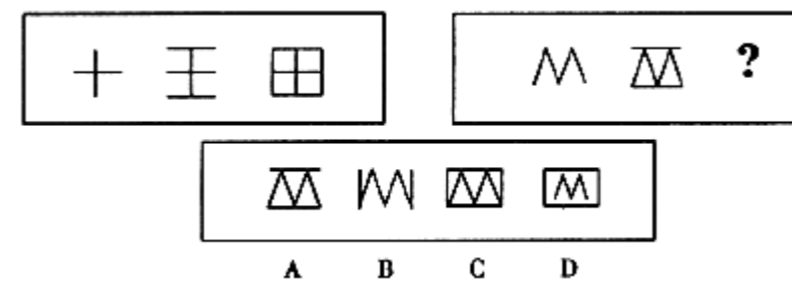
解析：

参考答案：A

[解析]

对流层气温随海拔高度升高而降低，海拔每升高100米，气温下降0.6℃，大气以对流运动为主，有利于污染物的扩散；如果对流层出现气温随海拔高度升高而升高现象，即为逆温现象，出现逆温现象，空气对流运动减弱，不利于污染物的扩散。图中B、C、D三项都出现了逆温现象，不利于污染物的扩散。A项气温随海拔高度升高而降低，对流运动显著，有利于污染物的扩散。故选A。

13、



解析：

参考答案：C

[解析] 考查基础图形上线段的变化。

[解题思路]

仔细分析第一套图形，第二个图形是在第一个图形的上下各增加一条线段，第三个图形是在第二个图形的左右两边各增加一条线段，构成一个封闭的图形。在第二套图形中，第二个图形是在第一个图形的上下各增加一条线段而构成的图形，依据规律，第三个图形则是在第二个图形的左右各增加一条边而构成的封闭图形。故选C。

14、

以下关于生活常识，说法不正确的是：

- A.微波炉的加热原理是电能转化为电磁能，再将电磁能转化为内能
- B.堆煤的墙角变黑是因为分子永不停息地做无规则的运动
- C.人民币最早的硬币材质是铝镍合金
- D.低碳生活会降低城市居民的生活水平

解析：

参考答案：D

15、

对于中国提出的“一带一路”建设战略构想，绝大多数国家表示欢迎并积极谋求参与和合作，但也有美国等少数国家表示不信任并进行阻挠。这表明：_____

- ①合作、竞争、冲突都是国际关系的基本形式
- ②中国的崛起会对美国等最发达国家构成威胁
- ③绝大多数国家与中国结成了利益命运共同体
- ④当今世界的多极化趋势充满曲折但不可逆转

- A.①②
- B.③④
- C.①④
- D.②③

解析：

参考答案：C

[解析]

对于中国提出的“一带一路”建设战略构想，绝大多数国家表示欢迎并积极谋求参与和合作，但也有美国等少数国家表示不信任并进行阻挠。这表明合作、竞争、冲突都是国际关系的基本形式，当今世界的多极化趋势充满曲折但不可逆转。①④说法正确。中国的崛起是和平崛起，不会对美国等最发达国家构成威胁。②说法错误。对于中国提出的“一带一路”建设战略构想，绝大多数国家表示欢迎并积极谋求参与和合作，但这并不意味着绝大多数国家与中国结成了利益命运共同体。③说法错误。故本题答案选C。

16、

20世纪70~90年代，带有多个短波波段的便携式收音机是全球流行的小电器，人们通过短波收听国际新闻，追逐世界流行，甚至通过短波学外语、交笔友。“十波段”便携式收音机的落魄始于上世纪末网络时代的到来，同时追逐国际信息，网络资讯不论速度、数量、覆盖面各方面都远胜传统的短波电台，强大的网络冲击令许多老资格的短波电台或关门大吉，或转入在线服务，或缩减语种、波段、广播时长，红极一时的“十波段”自然也就“_____”了。

填入上文横线处最恰当的是_____。

- A.耳听为虚，眼见为实
- B.皮之不存，毛将焉附
- C.言之无文，行而不远
- D.失之毫厘，谬之千里

解析：

参考答案：B

[解析]

“皮之不存，毛将焉附”指皮都没有了，毛往哪里依附呢?比喻事物失去了借以生存的基础，就不能存在。文段的意思是短波电台的市场越来越小，“十波段”自然也就越来越不行了。故选B。

17、

在1956年完成汉字革命的第二年，也就是1957年，汉字拼音化被进一步提上议事____，吴玉章领导的文改会拟定《汉语拼音文字方案》上报国务院，周恩来似乎意识到不宜____，便删除“文字”两字，从而使“拼音方案”未能剧变为“拼音文字”。

依次填入画横线部分最恰当的一项是_____。

- A.日程 急于求成
- B.行程 操之过急
- C.日程 操之过急
- D.行程 急于求成

解析：

参考答案：C

[解析]

“操之过急”和“急于求成”都有“急于做事”的意思。不同之处在于“操之过急”偏重在“急”，指急躁；“急于求成”偏重在“成”，指成功。由“未能剧变为”可知，此段话侧重于“急”，排除A、D。行程指路程或进程；日程指每天排定的程序，常见搭配有“议事日程”“排上工作日程”。故选C。

18、

在阅读物理学家的传记时，我们可以发现一个十分有趣的_____：许多物理学家都是音乐爱好者。物理学研究要运用_____思维和数学语言；而从事音乐活动则主要运用形象思维和艺术语言。这两种思维_____迥然不同，可是他们竟如此_____地统一在了物理学家身上。

填入画横线部分最恰当的一项是：

- A.现象 逻辑 方式 神奇
- B.事实 抽象 形式 神秘
- C.事情 复杂 过程 巧妙
- D.规律 全面 能力 奇妙

解析：

参考答案：A

[解析]

本题可从第二空入手，“复杂”“全面”通常不与“思维”搭配，排除C、D。再看第三空，“思维方式”是习惯搭配。故本题答案为A。

19、

在保险合同纠纷中，如果对合同条款有两种以上解释的，人民法院或者仲裁机构应当作出_____的解释。

- A.符合惯例
- B.符合法律一般规定
- C.有利于实现合同目的
- D.有利于被保险人和受益人

解析：

参考答案：D

[解析]

我国最新修订的《保险法》第30条规定：采用保险人提供的格式条款订立的保险合同，保险人与投保人、被保险人或者受益人对合同条款有争议的，应当按照通常理解予以解释。对合同条款有两种以上解释的，人民法院或者仲裁机构应当作出有利于被保险人和受益人的解释。这一规定的立法目的在于，保障在保险关系中处于被动地位的被保险人和受益人的权益。本题正确答案为D。

20、

古代的宗法礼仪非常严格，孔子非常重视“孝悌”，其中“悌”是指敬重_____。

- A.父母
- B.兄长
- C.朋友
- D.子侄

解析：

参考答案：B

[解析]

孝，指对父母要孝顺、服从；悌，指对兄长要敬重、顺从。孔子非常重视孝悌，把孝悌作为实行“仁”的根本，提出“三年无改于父道”“父母在，不远游”等一系列孝悌主张。孟子也把孝悌视为基本的道德规范。

21、

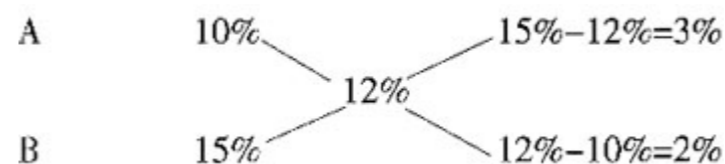
一只猫每天吃由食品A和食品B搅拌成的食物300克，食品A的蛋白质含量为10%，食品B的蛋白质含量为15%。如果该猫每天需要36克蛋白质，问食物中食品A的比重是百分之几？

- A.35%
- B.40%
- C.60%
- D.50%

解析：

参考答案：C

[解析] 搅拌成的食物中蛋白质的含量为 $\frac{36}{300} \times 100\% = 12\%$ 。根据十字交叉法可得



A、B两种食物的质量比为 $\frac{3\%}{2\%} = \frac{3}{2}$ ，所以食物中食品A的比重是 $\frac{3}{3+2} = \frac{3}{5}$ 。

22、

花盆：花卉：观赏

- A.假山：猴子：喂食
- B.字帖：汉字：临摹
- C.书架：图书：阅读
- D.古玩：书画：收藏

解析：

参考答案：C

[解析] 花卉放置在花盆中，可供观赏；图书摆放在书架上，可供阅读。

23、



解析：

参考答案：D

[解析] 一、三、五图形的线条数分别是1, 2, 3。

24、

某商店被盗，警方掌握的线索如下：

- ①甲、乙、丙三人中最多有一个是罪犯
- ②如果甲是罪犯，乙肯定是同犯
- ③盗窃案发生时，丙正在家里吃饭。可见__

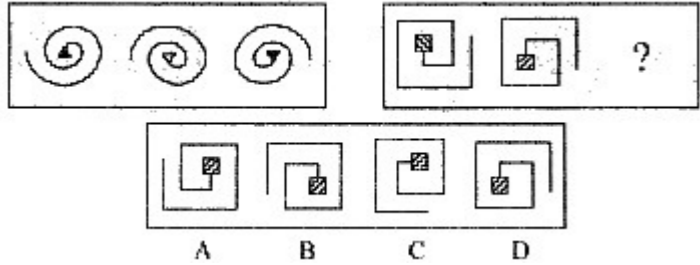
- A.甲、丙都不是罪犯
- B.甲是罪犯
- C.乙是罪犯
- D.丙是罪犯

解析：

参考答案：A

25、

从所给的四个选项中，选择最合适的一个填入问号处，使之呈现一定的规律性__。



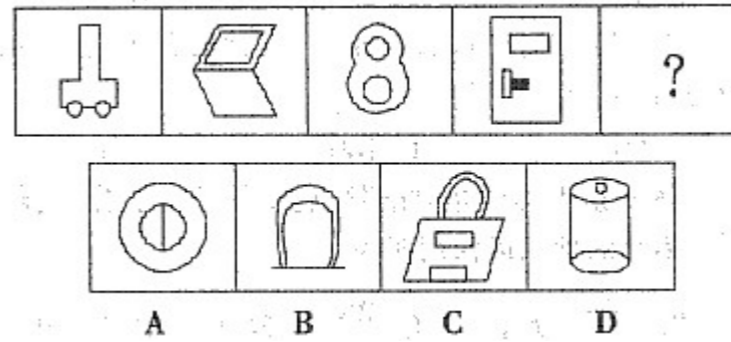
解析：

参考答案：B

[解析] 本题考查的是图形旋转与翻转的规律。在前一组图中，第一幅图通过翻转旋转后可得到第二幅图，且中心部分变为白色；第一幅图旋转后可得到第三幅图。由此可知，在第二组图中，所求图形可由第一个图形旋转后得到，首先排除A、D项；而且中心部分的花纹应与第一个图形一致，故答案为B。

26、

从所给的四个选项中，选择最合适的一个填入问号处，使之呈现一定的规律性：



解析：

参考答案：A

[解析] 题干图形都含有三个封闭区域，选项中只有A项符合条件。

27、

一个地方有一种习惯：男人和男孩子说真话；女人和女孩子从不连续地说真话或假话。即前句真而后句假或后句真而前句为假。有一次杰克问一对夫妻的孩子：“他是男孩吗？”父母中一人说：“孩子说‘我是男孩子’。”另一人说：“孩子是女孩，孩子说谎了。”请问孩子是_____，先说话的是_____()

- A.男 母
- B.女 母
- C.男 父
- D.男 母

解析：

参考答案：B

28、

面对激烈的竞争环境，小微企业要脱颖而出，要么在产品上能做到____，对原有产品起到颠覆性的变革，要么在营销模式上独创一格。

填入划横线部分最恰当的一项是：

- A.独一无二
- B.精益求精
- C.家喻户晓
- D.耳目一新

解析：

参考答案：A

29、

下列诗句中，哪一项不是表达诗人的思乡之情?_____

- A.独在异乡为异客，每逢佳节倍思亲
- B.月是故乡明，露从今夜白
- C.海内存知己，天涯若比邻
- D.夕阳西下，断肠人在天涯

解析：

参考答案：C

[解析]

选项C的意思是：四海之内都有知心朋友，远在天边就好像近在眼前，形容思想感情相通，再远也能感受到亲近。此句不是表达诗人的思乡之情。故本题答案选C。

30、

1, $\frac{1}{2}$, $\frac{1}{2}$, 0, ()

- A. $-\frac{1}{2}$
- B. 1
- C. $\frac{1}{2}$
- D. 0

解析：

参考答案：C

31、

当西方企业还在产品质量的竞争中拼搏，日本企业却已开始改变竞争方式，将重点转移到顾客服务方面来。继质量之后，服务变成了企业下一个全力以赴的目标。

以下哪项不符合上文的意思?_

- A.质量是企业生存的根本，是迎合顾客消费心理的唯一法宝
- B.要通过实用、创新、符合市场需求的产品，来增加顾客满意度
- C.通过合理的雇用程序，录用最能为顾客着想和最有责任心的员工
- D.让产品超越顾客的期待，是使顾客建立忠诚度的最有效的办法

解析：

参考答案：A

[解析]

由“继质量之后，服务变成了企业下一个全力以赴的目标”可知，质量和服务都是迎合顾客消费心理的法宝。因此A项说法错误，故选A。

32、

科考队在苏必利尔湖北部的某个湖泊中，取自此前无人进去的森林岛屿上的泥土包含有毒的化学物质，其中包括“毒杀芬”，一种曾经用于棉花而今已被禁止的剧毒农药。但是，这种农药的制造与使用并不在加拿大或美国北部的附近区域，而是在美国的南部。这个岛上没有被堆放过垃圾，这个岛屿的位置足够高，使苏必利尔湖的湖水不能流进来。

如果以上的陈述为真，最强地支持以下哪项假说?

- A.这个岛屿湖泊的水域比苏必利尔湖的水域污染程度更深
- B.诸如“毒杀芬”等农药可以从大气中随风飘落到其他地方
- C.对剧毒农药的禁止无助于自然环境的改善
- D.农药残留对人和其他生物都有很大影响

解析：

参考答案：B

[解析]

题干指出，苏必利尔湖北部某个湖泊无人进入、没有堆放过垃圾、苏必利尔湖湖水流不进去的森林岛屿上的泥土里发现了在美国南部制造与使用的剧毒农药“毒杀芬”，排除了除空气以外任何可能污染泥土的因素，故而最能支持B项。题干没有对这个岛屿湖泊与苏必利尔湖的污染程度进行对比，无法支持A项；C、D两项与题干论述无关。故答案选B。

33、

-1, 0, -1, -1, (), -3

- A.-2
- B.2
- C.-3
- D.3

解析：

参考答案：A

[解析] 典型和数列，即从第三项开始，每一项都等于它前面两项的和，故-1+(-2)=-3

34、

在古代，每遇战乱，手艺人都会成为战争双方争夺的对象，这是因为手艺人掌握着传统社会中最重要的技术，他们代表着当时最先进的社会生产力。如今，尽管现代科学技术取代了手工技能，成为当今时代最强大的生产力，但传统工艺完全可以借助现代科技而提升，继续服务于大众。这段文字说明_。

- A.与现代科技联姻是传统工艺发展的有效途径
- B.任何时代，社会发展的第一要素是社会生产力
- C.现代科技的进步对传统手工艺产生的深远影响
- D.现代科技可以解决制约着生产的传统工艺难题

解析：

参考答案：A

[解析]

本段话的中心句是“但传统工艺完全可以借助现代科技而提升，继续服务于大众。”与此意思最为接近的便是选项A。故选A。

35、

我国目前存在的混合所有制经济不包括_。

- A.股份公司
- B.中外合资或合作企业
- C.私营企业
- D.跨所有制组成的企业集团

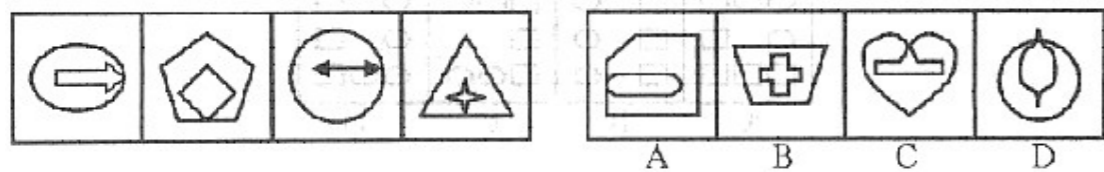
解析：

参考答案：C

混合所有制经济是指有不同所有制的经济，以控股、参股等不同方式投资形成法人财产，由企业法人进行经营的企业，主要有股份制企业、跨所有制组成的企业及企业集团、中外合资和中外合作企业等。私营企业中，生产资料和劳动产品都归私营企业主占有和支配，不属于混合所有制企业。故选C。

36、

从所给的四个选项中，选择最符合左侧图形规律的一项：



解析：

参考答案：C

[解析]

题干四个图形中，小图形全部位于大图形中，有一个公共点，且构成大图形的分别是曲线、直线、曲线、直线，因此下一个大图形应由曲线构成，符合这些条件的只有C项。

37、

海洋中珊瑚的美丽颜色来自于其体内与之共存的藻类生物，其中虫黄藻是最重要的一类单细胞海藻。二者各取所需，相互提供食物。全球气候变暖造成的海水升温导致虫黄藻等藻类大量死亡，进而造成珊瑚本身死亡，引发珊瑚礁白化现象。然而研究发现，珊瑚能通过选择耐热的其他藻类生物等途径，来应对气候变暖带来的挑战。

以下哪项如果为真，将削弱这一研究发现？

- A.一些虫黄藻能够比耐热的其他藻类耐受更高的海水温度
- B.有些藻类耐热性的形成需要一个长期的过程
- C.有些虫黄藻逐渐适应了海水温度的升高并存活下来
- D.有些已白化的珊瑚礁中也发现了死去的耐热藻类生物

解析：

参考答案：D

[解析]

根据题干推理，A项说明海水升温也可能导致耐热的其他藻类死亡，但一些不代表全部，当这些虫黄藻只是未死亡的小部分时，则耐热的其他藻类仍比死亡的虫黄藻耐受温度高，不能削弱题干的研究发现；B项有些藻类耐热性的形成需要一个长期过程，不影响研究发现的成立；C项也不影响研究发现的成立；D项说明其他耐热藻类并不一定能帮助珊瑚应对气候变暖，直接削弱了题干中的研究发现。

38、

中俄计划携手建设从莫斯科出发，穿越哈萨克斯坦通往北京的欧亚高速运输走廊。新铁路的兴建可能要耗时八至十年。从工程的规模及价值来看，它堪与苏伊士运河_____。后者大幅缩短了通航里程及时间，迅速对全球贸易产生了_____的影响。

填入画横线部分最恰当的一项是：_____

- A.比肩 不可估量
- B.媲美 旷日持久
- C.争雄 超乎预期
- D.匹敌 源源不断

解析：

参考答案：A

[解析]

第二空，句子强调的是苏伊士运河迅速对全球贸易产生了很大的影响。“旷日持久”强调长期性，与“迅速”之义相悖，排除B。“超乎预期”强调实际超过计划。此处强调的是影响大，未涉及计划与实际的对比，排除C。“源源不断”强调持续，也不符合影响大的语境，排除D。第一空，“比肩”指相当，比美。“堪与……比肩”搭配恰当。故本题选A。

39、

智力早熟的人都英年早逝，如王勃、徐志摩，英年早逝的人有的是因为走了极端。因此()。

- A.智力早熟的人有的会走极端
- B.英年早逝的人都智力早熟
- C.走极端的人都英年早逝
- D.走极端的人都智力早熟

解析：

参考答案：A

40、

安徒生：丑小鸭

A.格林：小红帽

B.马克吐温：海的女儿

C.王尔得：灰姑娘

D.欧·亨利：小王子

解析：

参考答案：A

[解析]

丑小鸭是安徒生童话中塑造的一个角色，小红帽是格林童话中塑造的一个人物，其余三项对应不正确，故选A。

41、

深入：浅尝辄止

A.疏远：形影不离

B.细致：事无巨细

C.安定：水深火热

D.独立：自食其力

解析：

参考答案：A

[解析]

深入与浅尝辄止为反义词关系，疏远与形影不离为反义词关系。B、D两项均为近义词关系；C项水深火热比喻人民生活极端痛苦，与安定不构成反义词。

42、

20世纪90年代起，我国实施允许国内民间资本和外资参与国有企业改革改组的政策。截至2012年底，银行业中股份制商业银行总股本中民间资本占比达到45%，城市商业银行总股本中民间资本占比则超过半数，农村中小金融机构股本中民间资本超过90%。到2012年，中国已有2494家境内上市公司，股票市值达23万亿元，占当年GDP的43%，股票有效账户数14046万户。

以下概括与文意不符的一项是_____。

A.至2012年底城商银行民间资本参股占比超过50%

B.2012年我国GDP已超过60万亿元

C.2012年我国股票有效账户数已经过亿

D.2012年我国境内上市公司已接近2500家

解析：

参考答案：B

[解析]

文段论述了我国企业改组过程中国内民间资本以及境内上市公司的发展现状。由“到2012年，中国……股票市值达23万亿元，占当年GDP的43%”可知，2012年我国GDP约为53万亿，B项说法错误。A、C、D三项均可在文段中找到对应内容。故本题选B。

43、

某外国航空公司经理：“新开发的避撞系统，虽然还未经全面测试以发现潜在的问题，但也必须马上在客机上安装，因为这个系统的机械报警装置可以使飞行员避免撞机事故。”

该公司飞行员：“飞行员不能驾驶一架避撞系统未经全面测试的飞机，因为有故障的避撞系统将会误导飞行员，造成撞机。”

以下哪项如果为真，最能加强飞行员的反对意见?_。

A.机械设备总是有可能出故障

B.喷气式发动机在第一次投入使用之前也未经彻底测试，但是其性能与安全记录却是有目共睹的

C.虽然避撞系统能使飞行员避免一些相撞事故，但是未经测试的避撞系统的潜在问题可能会造成更多的撞机事故

D.许多撞机事故是由于飞行员过度疲劳造成的

解析：

参考答案：C

[解析]

选项C与题干中飞行员的反对意见完全一致，即都强调了使用未经测试的避撞系统可能会带来的害处，所以最能加强飞行员的反对意见。选项A和B都加强了航空公司经理的意见，选项D是无关的选项，所以，正确答案是C。

44、

①人的新陈代谢由无数生化反应组成，每一个反应都需要特定的酸碱环境

②血液对生命活动的进行至关重要，其pH非常精确地维持在7.35到7.45之间

③我们先从人体的酸碱性说起

④这个pH范围属于“弱碱性”，所以如果说要维持人体的“弱碱性”，也没有什么不对

⑤在科学上，酸碱性用pH值来表示。pH值在0到14之间，小的那头是酸性，大的那头是碱性

⑥超出了这个范围，不管是低还是高，生命活动都无法正常进行

将以上6个句子重新排列，语序正确的是_____。

A.①⑤③②④⑥

B.⑤①⑥③②④

C.③①⑤②⑥④

D.②⑤①⑥④③

解析：

参考答案：C

[解析]

通读题干给出的6个句子可知，文段主要讲的是人体的酸碱性，句③具有统领性，应为首句。验证C项，语句通顺。故选C。

45、

避险过当的_。

A.应当从轻处罚

B.应当减轻或者免除处罚

C.可以从轻处罚

D.可以减轻或者免除处罚

解析：

参考答案：B

[解析]

本题考查对避险过当的处罚

【解题要点】

了解避险过当的处罚原则

【答案与解析】

根据《刑法》规定，紧急避险超过必要限度造成不应有的损害的，应当负刑事责任，但是应当减轻或者免除处罚。故选B。

46、

①让世代居住在古城的居民全搬到城外，破坏了历史街区的真实与完整，不利于古城文化遗产和原生态文化的保护与传承

②人口流动是一个长期自然发展的过程

③既要保护古城历史文化遗存、历史街区等物质载体，也要传承风土人情、生活习俗等文化生态，实现传统文化生活和古城文明的延续

④仅就商业运营来说，这种模式在一些地方也并不成功

⑤如果把古城内的物质文化遗产比作人的“肌肉和骨架”，那么非物质文化遗产就是人体里流淌的“血液”，两者密不可分

⑥现在有种现象，政府或公司把古城里的街区甚至整体城区买下来，把原来居民安置到城外，然后引来商户进城经营

将以上6个句子重新排列，语序正确的是：

A.①④②⑥③⑤

B.②⑤⑥③④①

C.⑤③⑥②①④

D.⑥①②④⑤③

解析：

参考答案：C

[解析]

④句中的“这种模式”指的是①句中的“让世代居住在古城的居民全搬到城外”，故①④应前后相连，排除B、D。分析可知，③句中“既要……也要……”是对⑤句中“两者密不可分”的进一步说明，故二者应紧密相连，顺序为⑤③，排除A。故本题选C。

47、

老人家谈及自己的儿女，那真是_____，细致入微，没完没了。

填入画横线部分最恰当的一项是：

A.绘声绘色

B.活灵活现

C.平淡无奇

D.栩栩如生

解析：

参考答案：A

[解析]

空缺处所填词语应表达老人家谈及自己儿女的状态，且与后句的“细致入微，没完没了”构成对应。“平淡无奇”不合句意，排除C。“活灵活现”“栩栩如生”都侧重于模仿的逼真，“绘声绘色”侧重于叙述描写的逼真。“绘声绘色”与“谈”的语境更对应。故本题选A。

48、

石油:汽油

A.铁矿石:钢铁

B.木材:家具

C.水泥:房屋

D.玻璃:窗户

解析：

参考答案：A

[解析]

汽油从石油中提炼而出，钢铁从铁矿石中冶炼而出均由原料中分离而出。其余选项均无此对应关系。故选A。

49、

世界局势云诡波谲，_____、相互包容是中国和亚洲各国持续发展、行稳致远的必然选择，更加开放的中国将与亚洲各国_____，在世界舞台发挥更加重要的作用。

填入画横线部分最恰当的一项是：_____

- A.和而不同 共商国是
- B.虚怀若谷 通力合作
- C.兼收并蓄 鼎力相助
- D.求同存异 同心共济

解析：

参考答案：D

[解析]

第一空，“虚怀若谷”形容十分谦虚，不能表达国家间相处的原则，排除B。第二空，“共商国是”指共同商量国家的政策和方针，不能用于国家与国家之间，排除A。“鼎力相助”指别人对自己的大力相助，为敬辞，一般用于请人帮助时的客气话，排除C。故本题选D。

50、

某日，一位上车不久的乘客发现手提袋被人割开，装在里面的两千元钱不见了。乘客说上车前手提袋还是好的，因当时还没有人下车，司机于是把车开到附近的派出所。经过调查寻找，发现两千元已被扒手扔在椅子下面，嫌疑人有甲、乙、丙、丁。

甲说：“反正不是我干的”

乙说：“是丁干的”

丙说：“是乙干的”

丁说：“乙是诬陷”

他们当中只有一人说假话，扒手只有一个，是()。

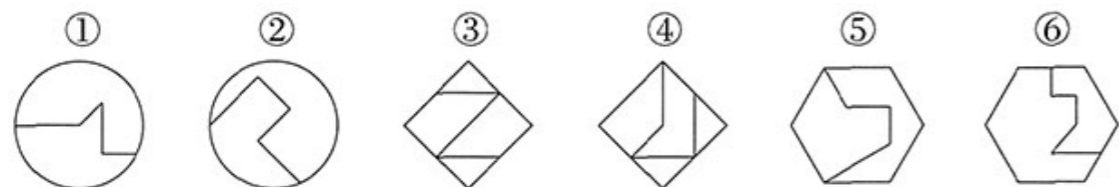
- A.甲
- B.乙
- C.丙
- D.丁

解析：

参考答案：B

51、

把下面的六个图形分为两类，使每一类图形都有各自的共同特征或规律，分类正确的一项是：_____



- A.①②⑥, ③④⑤
- B.①③④, ②⑤⑥
- C.①③⑤, ②④⑥
- D.①④⑥, ②③⑤

解析：

参考答案：B

[解析]

题干图形构成具有一定的相似性，根据封闭区域、直线数等都无法分类。进一步观察发现，内部线条有些相互垂直，有些相互平行，考虑内部线条的位置关系。图形①③④中内部起始直线与终止直线平行，图形②⑤⑥中内部起始直线与终止直线垂直。故本题选B。

52、

在《爱丽丝镜中奇遇记》中。红皇后对爱丽丝答道：“在这个国度中，必须不停地奔跑，才能使你保持在原地。”美国进化生物学家利·范·瓦伦于1973年据此提出红皇后假说，恰如其分地描绘了自然界中激烈的生存竞争法则：不进即是倒退，停滞等于灭亡。在环境条件稳定时，一个物种的任何进化改进都可能构成对其他物种的竞争压力，即使物理环境不变，种间关系也可能推动生物进化。

根据上述定义，下列哪一项不涉及红皇后假说?_____

- A.一个物种要在生态系统中获得有利地位就要比别的物种跑得更快。一个物种若具有较大的进化潜力，就等于在进化赛跑中有超常的速度与耐力
- B.猎豹必须抓到瞪羚，否则就会饿死。经过一代代的激烈竞争，跑得慢的猎豹饿死了，活下来的都是短跑界的精锐。然而最善跑的猎豹捕到的瞪羚却不比祖先多。
- C.在通常的环境下，物种间生态关系的牵制作用使得物种之间保持着一种动态的平衡：后代与祖先，新物种与老物种绝灭的机会几乎是相同的
- D.绦虫靠皮肤吸收生存所需的全部营养物质，根本不需要消化道。对绦虫来说，把消化道统统扔掉，绝对是百利而无一害。毕竟，保留一个非必需的生理功能，所需的能量成本是很高的

解析：

参考答案：D

[解析]

“红皇后假说”的定义要件是：主动的进化。某种生物的进化会导致这种生物数量的增加，那么对生活在同一环境中的其他生物就会造成很大的压力，如果要生存下来，其他生物也必须进行相应的进化，这样即使物理环境不变，种间关系也可能推动生物进化。A、B、C三项符合定义。D项绦虫摆脱代价相对较高的生理功能，体现的是一个被动的、“堕落”的过程，是退化的表现。本题答案为D。

53、

0, 5, 8, 17, _____, 37。

- A.31
- B.27
- C.24
- D.22

解析：

参考答案：C

[解析] 平方修正数列，原数列可变为 $1^2-1=0$ ， $2^2+1=5$ ， $3^2-1=8$ ， $4^2+1=17$ ，_____， $6^2+1=37$ ，空缺项为 $5^2-1=24$ ，故本题应选C。

54、

关于海水利用，下列说法不正确的是：_____

A.海水有“化学元素的故乡”之称，溴被称为“海洋元素”

B.加入明矾是淡化海水的方法之一

C.利用海水通过物理变化可获得食盐

D.发展氯碱工业是利用海水的一大方向

解析：

参考答案：B

[解析] 人类在陆地上发现100多种化学元素，在海水中可以找到80多种，地球上99%的溴蕴藏在大海中，故溴有“海洋元素”的美称。A项正确。明矾可水解生成氢氧化铝胶体，其具有吸附性，可除去水中悬浮物而净水，但不能淡化海水。B项错误。海水蒸发，只将海水中的食盐分离了出来，并没有新物质生成，属于物理变化。C项正确。D项说法正确。故本题答案选B。

55、

以下哪项最不可能是政府实施最低价控制的原因?_____

A.避免价格上的恶性竞争

B.保护某行业的收入

C.避免某些商品出现短缺

D.防止垄断行业索取高额利润

解析：

参考答案：D

[解析] 最低价格，又称支持价格或价格下限，是政府为了支持某一行业而规定的该行业产品的最低价格，这一价格高于市场自发形成的均衡价格。产生原因为：由于商品或者某种东西的市场价格过低，伤害了商家或者普通百姓的利益，政府出面提高价格，即在供求曲线的均衡点上方设定一个下限，任何价格都不准低于这个下限，所以最低价格又叫价格下限。题干中A、B两个选项的说法是政府实施最低价控制的原因，C选项的情况是由市场上此类货物供应过多导致商家不愿意生产某类商品而产生的，所以也是政府实施最低价控制的原因之一。故选D。

56、

我国政府恢复对澳门行使主权的日期是_____。

A.1999年7月1日

B.1999年12月31日

C.1999年12月20日

D.1998年12月31日

解析：

参考答案：C

[解析] 1999年12月20日中国政府恢复对澳门行使主权，故正确答案是C。

57、

现代农业的发展不能脱离生态安全和产品安全两个基本要求，因此，农业污染防治应作为现代农业发展的重要任务之一。不同于工业污染和城市污染，农业污染涉及面广而隐蔽性强，评估难度大，不适合建立惩罚型机制。同时，由于农民收入水平相对较低，不可能进行“污染收费”。所以说，必须建立激励型经济补偿机制，从根本上提高农户防控污染的积极性。这种补偿机制实质上是对生态建设与保护所付出的成本(包括放弃发展机会的损失)进行补偿。

对这段文字的主旨概括最准确的是_____。

A.农业污染防治是现代农业发展的重要任务

B.治理农业污染与工业污染的方法有所不同

C.转变农业发展模式是治理农业污染的前提

D.现代农业污染防治应树立激励补偿型理念

解析：

参考答案：D

[解析] 本题是一道主旨概括题，整段文字是分—总结构，“所以说”引导总部分主旨句——“必须建立激励型经济补偿机制”，其主体是“现代农业污染”。所以本题选D。

58、

全球气温升高和生态环境恶化是人类面临的共同问题。在造成生态环境恶化的多种原因中，难以人为改变的是_____。

A.高消费、高浪费、大排放的生活方式

B.对资源、能源的掠夺性开采

C.生产工艺水平低

D.自然资源的有限承载力

解析：

参考答案：D

[解析] 本题A、B、C三项，只要人类发挥自己的主观能动性，都能够有效地改变，只有D项除外。

以上内容仅为本文档的试下载部分，为可阅读页数的一半内容。如要下载或阅读全文，请访问：<https://d.book118.com/797020164021006200>