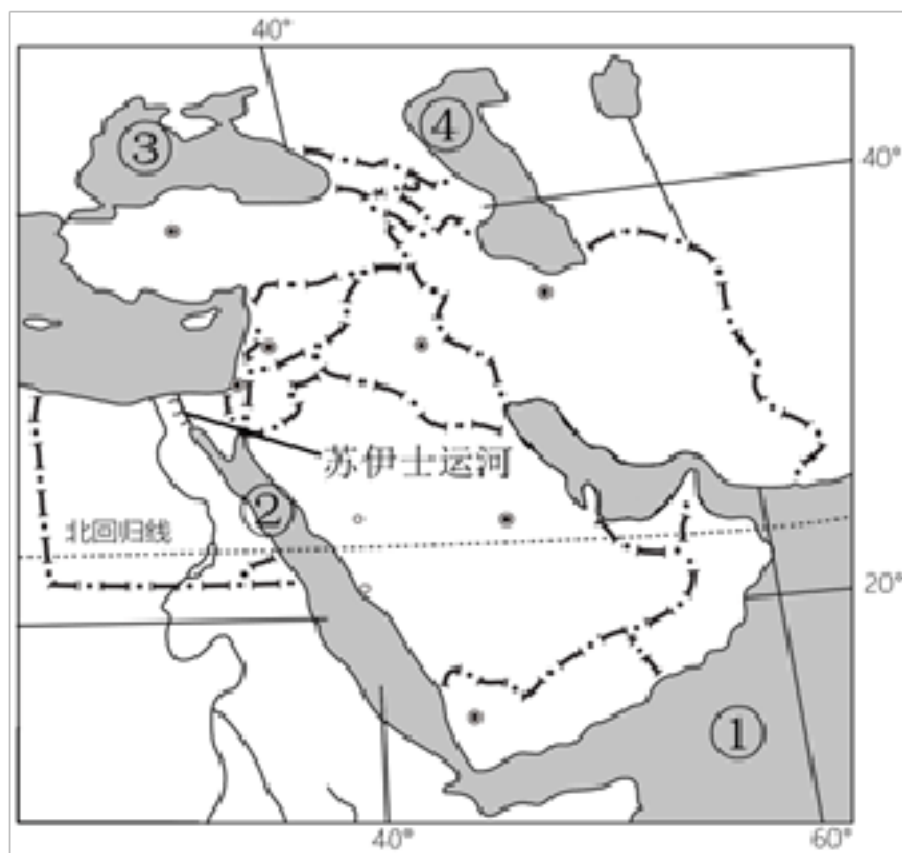


## 2022-2023 学年江苏省常州市七年级（下）期中地理试卷

### 一、单选题（本大题共 30 小题，共 12.0 分）

北京时间 2023 年 2 月 6 日 9 时 17 分，在土耳其发生 7.8 级地震，18 时 24 分再次发生 7.8 级地震。土耳其一天内两次 7.8 级强震，是由于土耳其特殊的地理位置，土耳其地跨亚、欧两大洲，97% 的领土在亚洲，这个面积不大却跨越两大洲的国家，就像“坐在火药桶上”，96% 的领土都位于地震带上。读图土耳其位置示意图，完成各小题。



- 土耳其属于以下哪个地理分区（ ）  
A. 撒哈拉以南的非洲      B. 东南亚      C. 中东      D. 欧洲西部
- 此地区地势不稳的原因不包括（ ）  
A. 石油资源丰富    B. 淡水资源短缺    C. 宗教文化差异    D. 地势东高西低
- 关于此地主要资源的外运航线，正确的是（ ）  
A. 阿拉伯海→孟加拉湾→马六甲海峡→大西洋  
B. 阿拉伯海→红海→苏伊士运河→地中海→大西洋  
C. 阿拉伯海→印度洋→好望角→太平洋  
D. 阿拉伯海→红海→黑海→北冰洋
- 图中数字所代表的地理事物不正确的是（ ）  
A. ①—阿拉伯海    B. ②—红海      C. ③—波斯湾      D. ④—里海
- 此地区有世界上最大的湖泊（ ）

- A. 死海                      B. 里海                      C. 红海                      D. 贝加尔湖

日本也是一个多火山地震的国家，孩子们从幼儿园起就接受防震教育和应急避险训练，据此完成各小题。

6. 日本多火山地震的原因是（     ）
- A. 处在太平洋板块与非洲板块交界处    B. 处在印度洋板块与太平洋板块交界处  
C. 处在亚欧板块与太平洋板块交界处    D. 处在南极洲板块与美洲板块交界处
7. 下列有关日本的说法不正确的是（     ）
- A. 地形以平原为主                              B. 和服是传统服饰  
C. 最大的岛是本州岛                            D. 海岸线曲折，多优良港湾
8. 日本的工业主要分布在沿海地区的原因不包括（     ）
- A. 原料依靠进口    B. 沿海地区资源丰富                              C. 产品主要出口                              D. 交通便利
9. 日本经济对外依赖性很强，这是因为（     ）
- A. 资源贫乏、国内市场狭小                      B. 多火山地震，需要外国的帮助  
C. 文化具有东西方兼容的特点                      D. 经济技术水平低

某经贸代表团准备于今年7月份赴东南亚采购货物，并观光考察。据此完成各小题。

10. 东南亚地区称为“海上生命线”的海峡是（     ）
- A. 土耳其海峡    B. 直布罗陀海峡    C. 白令海峡                              D. 马六甲海峡
11. 该代表团的随行物品中，最不需要准备的是（     ）
- A. 雨伞                      B. 御寒衣物                      C. 摄像机                              D. 地图
12. 下列产品最有可能出现在订货合同中的是（     ）
- A. 棕榈油、锡矿砂    B. 棉布、服装                      C. 椰枣、铁矿石    D. 羊毛、小麦

俄罗斯和土耳其一样横跨亚、欧两大洲，是世界上面积最大的国家，完成各小题。

13. 下列油田中位于俄罗斯境内的有（     ）
- A. 秋明油田                      B. 北海油田                      C. 加勒比海油田    D. 大庆油田
14. 关于俄罗斯的说法，正确的是（     ）
- A. 大河众多，航运价值高                      B. 政治、经济中心在东部地区  
C. 重工业发达                                      D. 以温带季风气候为主
15. 制约俄罗斯农业发展的主要因素是（     ）
- A. 耕地不足                      B. 劳动力不足                      C. 降水不足                              D. 热量不足

16. 有甲、乙、丙、丁四个中国商人到俄罗斯参加产品宣传会。请分析收到订单最少的商人应该是（ ）

- A. 甲商人：其产品是服装                      B. 乙商人：其产品是重型机械  
C. 丙商人：其产品是方便面                    D. 丁商人：其产品是儿童玩具

读图亚洲轮廓图，完成各小题。



17. 关于亚洲，下列说法正确的是（ ）

- A. 亚洲大部分位于热带地区                      B. 亚洲没有被赤道穿过  
C. 亚洲西临太平洋                                  D. 亚洲是跨纬度最广的大洲

18. 下列地方不属于亚洲的是（ ）

- A. 阿拉伯半岛      B. 格陵兰岛      C. 马来群岛      D. 印度半岛

19. 亚洲河流众多，奔流不息，关于亚洲河流说法正确的是（ ）

- A. 大河多发源于中部高原、山地，呈放射状流向周边的海洋  
B. 我国的河流自东向西流，注入太平洋  
C. 鄂毕河、叶尼塞河自南向北流，注入印度洋  
D. 印度河主要流经印度，注入大西洋

20. 对图中 A、B、C、D 四地的描述，最不可信的是（ ）

- A. A 地是世界最高的高原——青藏高原      B. B 地是人口众多的国家——印度  
C. C 地有注入太平洋的湄公河                      D. D 地可以体验热带雨林探险

21. 下列一组国家全部位于西亚的是（ ）

- A. 阿富汗、韩国、印度
- B. 沙特阿拉伯、泰国、缅甸
- C. 中国、俄罗斯、朝鲜
- D. 伊朗、伊拉克、叙利亚

22. 亚洲分布面积最广的气候类型和亚洲没有的气候类型分别是 ( )

- A. 亚热带季风气候、热带雨林气候
- B. 温带大陆性气候、温带海洋性气候
- C. 温带季风气候、热带草原气候
- D. 热带沙漠气候、地中海气候

23. 亚洲因迅速发展服务外包产业而被称为“世界办公室”的国家是 ( )

- A. 俄罗斯
- B. 南非
- C. 印度
- D. 中国

欧洲位于亚洲的西面，是亚欧大陆的一部分，其中欧洲西部是工业革命的发源地，也是世界上发达国家最集中的地区。读欧洲西部轮廓图，完成各小题。



24. 与亚洲相比，欧洲西部气候的显著特征是 ( )

- A. 海洋性特征显著
- B. 季风气候显著
- C. 地中海气候显著
- D. 大陆性特征显著

25. 下列城市都属于首都的一组是 ( )

- A. 柏林、赫尔辛基、米兰
- B. 威尼斯、伦敦、马德里
- C. 巴黎、罗马、里斯本
- D. 华沙、汉堡、伯明翰

26. 关于图中数字所代表国家和景点连线不正确的是 ( )

- A. ①—白金汉宫
- B. ②—埃菲尔铁塔
- C. ③—卢浮宫
- D. ④—古斗兽场

27. 在欧洲西部，被称为“绿色金子”的是（ ）
- A. 牧草                      B. 大麦                      C. 水稻                      D. 橄榄
28. 欧洲人以牛羊肉和乳产品为主要食物，和下列哪个因素有关（ ）
- A. 地形以高原为主                      B. 种植业发达
- C. 地处中纬度大陆东岸                      D. 温带海洋性气候广布
29. 关于欧洲西部的说法，不正确的是（ ）
- A. 人口稠密，人口自然增长率低                      B. 濒临太平洋和北冰洋
- C. 服务业是国民经济的支柱                      D. 大多数国家使用统一的货币欧元
30. 连接地中海和大西洋的海峡是（ ）
- A. 马六甲海峡              B. 霍尔木兹海峡              C. 土耳其海峡              D. 直布罗陀海峡

二、填空题（本大题共 10 小题，共 10.0 分）

31. 亚洲地跨东、南、西、北四个半球。 \_\_\_\_\_（判断对错）
- A. 正确 B. 错误
32. 日本平原面积广阔，有利于水稻种植。 \_\_\_\_\_（判断对错）
- A. 正确 B. 错误
33. 世界经济对日本影响较小。 \_\_\_\_\_（判断对错）
- A. 正确 B. 错误
34. 中南半岛的大城市主要分布在河流沿岸及河口三角洲。 \_\_\_\_\_。（判断对错）
35. 1 月份，印度盛行西北风，雨量充沛。 \_\_\_\_\_（判断对错）
- A. 正确 B. 错误
36. 对南亚农业生产有重要影响的是东南季风。 \_\_\_\_\_（判断对错）
- A. 正确 B. 错误
37. 俄罗斯东西跨经度广，时间差异大。 \_\_\_\_\_（判断对错）

A. 正确 B. 错误

38. 中东石油主要分布在里海及其沿岸地区。 \_\_\_\_\_ (判断对错)

A. 正确 B. 错误

39. 畜牧业在中东的农业生产中占有重要地位。 \_\_\_\_\_ (判断对错)

A. 正确 B. 错误

40. 欧洲西部全部是发达国家。 \_\_\_\_\_ (判断对错)

A. 正确 B. 错误

三、综合题 (本大题共 2 小题, 共 30.0 分)

41. 读南亚示意图, 回答问题。

(1) 写出图中字母所代表的地形区名称。

A \_\_\_\_\_ 山脉, B \_\_\_\_\_ 高原, C \_\_\_\_\_ 平原

(2) 填写图中序号所代表的洋、海、湾。

① \_\_\_\_\_ , ② \_\_\_\_\_ , ③ \_\_\_\_\_ 。

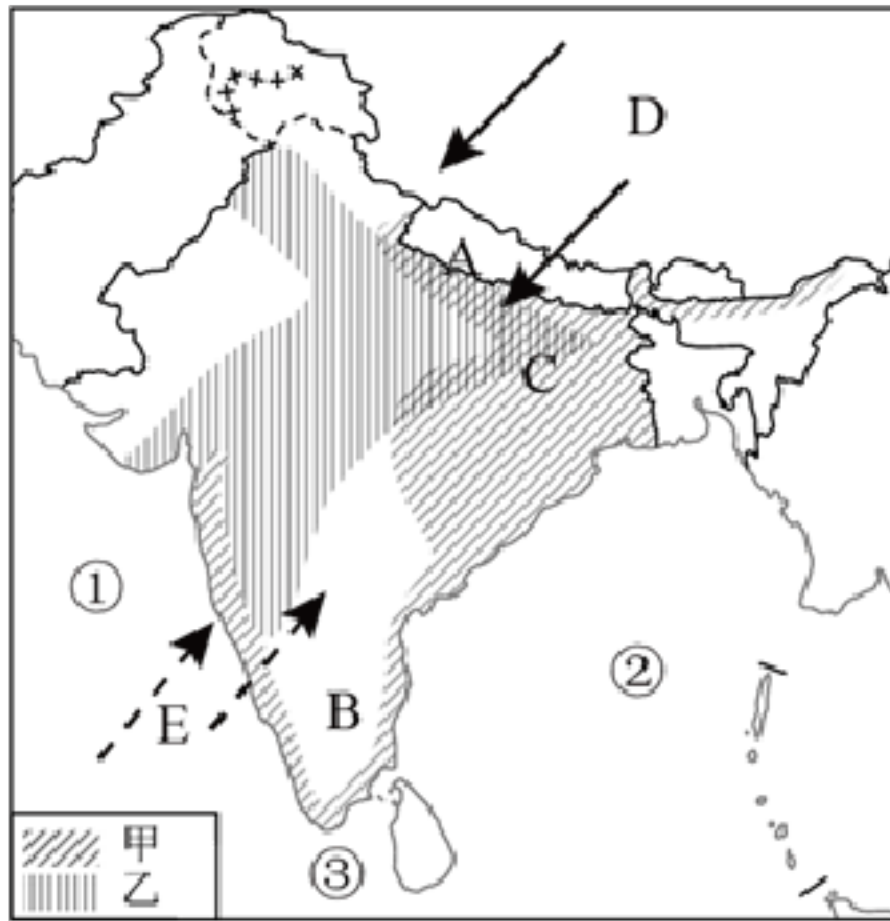
(3) 印度的气候类型以 \_\_\_\_\_ 气候为主, 气候特征是 \_\_\_\_\_ , 降水集中在 \_\_\_\_\_ 月, D 箭头代表 \_\_\_\_\_ 季风, E 箭头代表 \_\_\_\_\_ 季风。

(4) 印度的主要粮食作物是甲 \_\_\_\_\_ 、乙 \_\_\_\_\_ 。

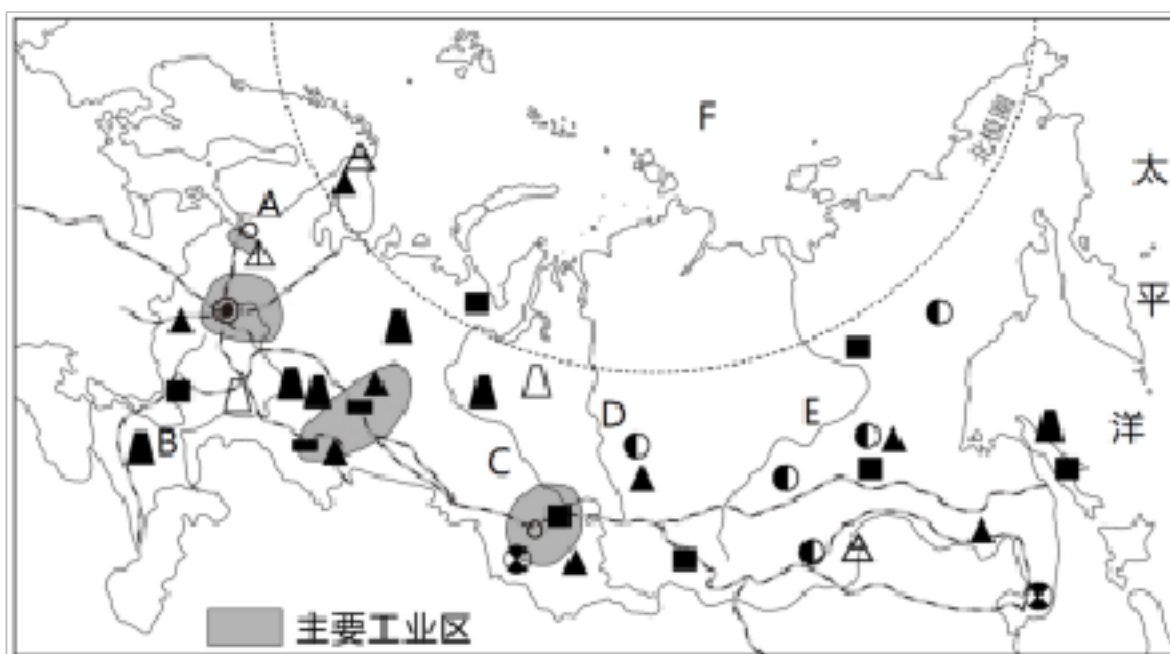
(5) 印度的气候对印度农业生产的不利影响是 \_\_\_\_\_ 。

(6) 印度软件外包产业的发源地城市是 \_\_\_\_\_ 。





42. 读俄罗斯示意图，回答下列问题。



(1) 写出下列河流和海洋的名称

B \_\_\_\_\_ , C \_\_\_\_\_ , D \_\_\_\_\_ , E \_\_\_\_\_ , F \_\_\_\_\_ 。 B、C、D、E 四条河流中，航运价值最高的是 \_\_\_\_\_ (填写字母)。

(2) 在图中适当位置画出乌拉尔山脉并标注。

(3) 从图中可知，俄罗斯 \_\_\_\_\_ 丰富， \_\_\_\_\_ 发达，是世界上最大的能源出口国之一，被称为 \_\_\_\_\_ ，最发达的工业区是 \_\_\_\_\_ ，波罗的海沿岸的重要港口城市 A 是 \_\_\_\_\_ 。

(4) 俄罗斯交通部门齐全，图中的 \_\_\_\_\_ 大铁路横跨亚欧大陆，被称为 \_\_\_\_\_ 。

## 答案和解析

1~5. 【答案】 C、D、B、C、B

【解析】解：土耳其位于中东地区，扼守土耳其海峡，是横跨亚欧两大洲的国家。

故选：C。

中东地处“三洲五海之地”，战略位置极为重要。中东石油资源丰富，主要分布在波斯湾及其沿岸地区。

本题主要考查土耳其的地理特征，结合所学知识点理解解答即可。

解：读图可知，图示地区是中东地区。中东地区位于“三洲五海之地”，这里石油资源丰富，淡水资源匮乏，是基督教、伊斯兰教、犹太教的发源地，人们为了争夺领土、石油和淡水，加上宗教信仰不同，经常发生冲突。

故选：D。

中东位于“三洲五海之地”，地理位置重要，为争夺苏伊士运河和霍尔木兹海峡的控制权，经常发生冲突；中东石油资源丰富，为争夺石油资源经常发生冲突；中东水资源匮乏，为争夺水资源经常发生冲突；由于历史、政治、文化等方面的原因，信仰犹太教的以色列和周边的阿拉伯国家的土地之争、宗教之争由来已久，并愈演愈烈。

本题主要考查中东地区经常发生冲突的因素，应理解掌握。

解：读图可知，此地是西亚地区，主要资源是石油，其外运航线是：阿拉伯海→孟加拉湾→马六甲海峡→太平洋，故A错误；阿拉伯海→红海→苏伊士运河→地中海→大西洋，故B正确；阿拉伯海→印度洋→好望角→大西洋，故C错误；阿拉伯海→红海→黑海→欧洲西部，故D错误。

故选：B。

西亚地区的三条石油运输路线是：波斯湾—霍尔木兹海峡—阿拉伯海—曼德海峡—红海—苏伊士运河—地中海—直布罗陀海峡—大西洋—西欧或北美；波斯湾—霍尔木兹海峡—阿拉伯海—印度洋—好望角—大西洋—西欧或北美；波斯湾—霍尔木兹海峡—阿拉伯海—印度洋—马六甲海峡—南海—台湾海峡—东海—日本。

本题考查了西亚地区的石油运输线路，要结合教材中相关地图记忆解答。

解：西亚地处“三洲五海之地”，战略位置极为重要。读图可知，①是阿拉伯海，②是红海，③



是黑海，④是里海。

故选：C。

西亚地处“三洲五海之地”，战略位置极为重要。西亚石油资源丰富，主要分布在波斯湾及其沿岸地区。

本题主要考查西亚的地理特征，结合所学知识点理解解答即可。

解：图中所示的是中东地区，此地区有世界上最大的湖泊即里海，属于内陆湖。

故选：B。

亚洲有众多的湖泊，如里海是世界上最大的湖泊，死海是世界陆地表面最低点，贝加尔湖是世界上最深的湖泊，巴尔喀什湖一半是淡水，一半是咸水。

本题考查亚洲的湖泊及特点，读图解答即可。

#### 6~9. 【答案】 C、A、B、A

【解析】解：日本处于亚欧板块和太平洋板块的交界处，位于环太平洋火山、地震带上，地壳运动活跃，火山、地震频发。

故选：C。

日本是太平洋西北部的岛国，由北海道、本州、四国、九州四个大岛和数千个小岛及附近的海域组成。日本海岸线曲折，多优良港湾，经济发达，但是由于地域狭小，资源贫乏，国内市场狭小，对外依赖性较强。日本工业主要分布在太平洋沿岸和濑户内海沿岸的狭长地带。

本题主要考查日本的地理特征，结合所学知识点理解解答即可。

解：根据所学知识可知，日本地形以山地、丘陵为主；和服是传统服饰；日本最大的岛屿是本州岛；日本海岸线曲折，多优良港湾。

故选：A。

日本是太平洋西北部的岛国，由北海道、本州、四国、九州四个大岛和数千个小岛及附近的海域组成。日本海岸线曲折，多优良港湾，经济发达，但是由于地域狭小，资源贫乏，国内市场狭小，对外依赖性较强。日本工业主要分布在太平洋沿岸和濑户内海沿岸的狭长地带。

本题主要考查日本的地理特征，结合所学知识点理解解答即可。

解：日本地域狭小，资源贫乏，国内市场狭小，海岸线曲折，多优良港湾，日本工业大多分布在海运便利的太平洋沿岸和濑户内海沿岸地带，以便于原料的进口和工业品的出口。

故选： 。

日本是太平洋西北部的岛国，由北海道、本州、四国、九州四个大岛和数千个小岛及附近的海域组成。日本海岸线曲折，多优良港湾，经济发达，但是由于地域狭小，资源贫乏，国内市场狭小，对外依赖性较强。日本工业主要分布在太平洋沿岸和濑户内海沿岸的狭长地带。

本题主要考查日本的地理特征，结合所学知识点理解解答即可。

解：日本地域狭小，资源贫乏，国内市场狭小，对外依赖性较强。

故选：A。

日本是太平洋西北部的岛国，由北海道、本州、四国、九州四个大岛和数千个小岛及附近的海域组成。日本海岸线曲折，多优良港湾，经济发达，但是由于地域狭小，资源贫乏，国内市场狭小，对外依赖性较强。日本工业主要分布在太平洋沿岸和濑户内海沿岸的狭长地带。

本题主要考查日本的地理特征，结合所学知识点理解解答即可。

10~12. 【答案】D B、A

【解析】解：东南亚被称为“海上生命线”的是马六甲海峡，该海峡位苏门答腊岛与马来半岛之间，沟通了太平洋与印度洋。

故选：D。

马六甲海峡位于马来半岛和苏门答腊岛之间，是沟通太平洋与印度洋的天然水道，也是连接欧洲、印度洋沿岸港口与太平洋西岸港口的重要航道。

本题考查马六甲海峡地理位置的重要性，牢记即可。

解：中南半岛以热带季风气候为主，因降水年内分配不均而分为旱季和雨季。赤道横穿马来群岛中部，群岛大部分地区属于热带雨林气候。这里终年高温多雨，许多地方分布着茂密的热带雨林，农作物可以随时播种，一年到头都有收获。所以代表团成员没有必要携带的是御寒衣物。根据题意。

故选：B。

东南亚位于亚洲的东南部，包括中南半岛和马来群岛的大部分，该地区主要属于热带季风气候和热带雨林气候。

本题考查东南亚的气候及特点，理解解答即可。

解：东南亚是世界上天然橡胶、油棕、椰子和蕉麻的最大产地。东南亚主要的矿产资源有石油、

以上内容仅为本文档的试下载部分，为可阅读页数的一半内容。如要下载或阅读全文，请访问：<https://d.book118.com/798010107056006041>