

二年级数学下册期末模拟试卷

一、我会填。（每空1分，共13分）

1、 $5 \times 8 =$ （ ），我用的口诀是（ ）。

2、3个百，7个十组成的数是（ ）。

3、按规律填一填。

2 4 8 14 22 () 44
 └─┘ └─┘ └─┘ └─┘ └─┘ └─┘
+2 +4 +6 +8 + () + ()

4、在○里填上“>”、“<”或“=”。


1570 ○ 1470 $3 \times 8 \div 6$ ○ $8 \div 4 \times 2$ 2800 克 ○ 3 千克

5、2364 是一个（ ）位数，读作（ ）。

6、一个养鸡场平均每天收鸡蛋 3006 个，约是（ ）个。

一台电视机 988 元，约是（ ）元。

二、我会选。（每小题1分，共5分）

1、 这个角是（ ）。

①锐角 ②直角 ③钝角

2、五千三百零一写作（ ）。

①5310 ②5031 ③5301

3、书包 42 元，铅笔盒 6 元。书包的价钱是铅笔盒的（ ）倍。

① 8 ② 7 ③ 6

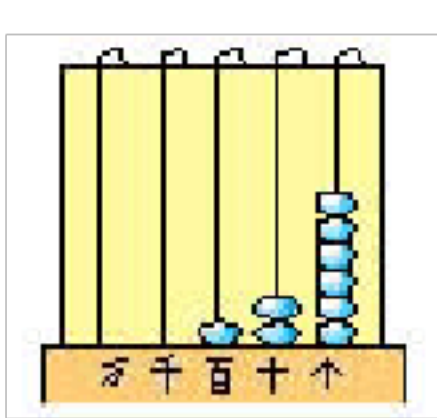
4、一个四位数，它的最高位是（ ）位。

① 百 ② 千 ③ 万

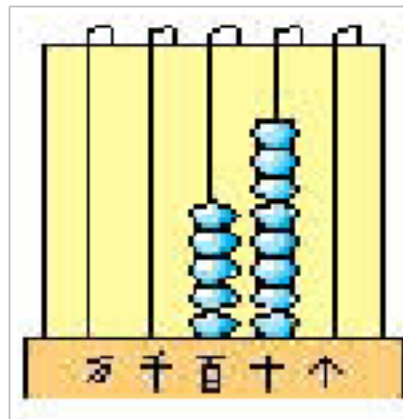
5、这些现象中（ ）是旋转。

- ①抽拉窗户 ②电扇工作 ③拉抽屉

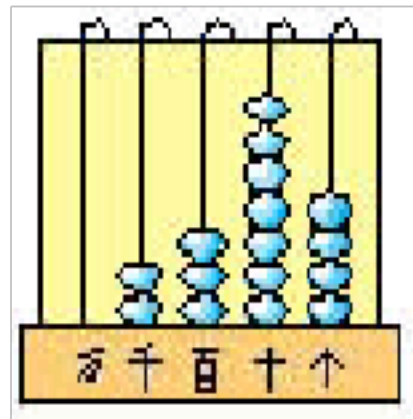
三. 看图写数。(每小题 2 分, 共 8 分)



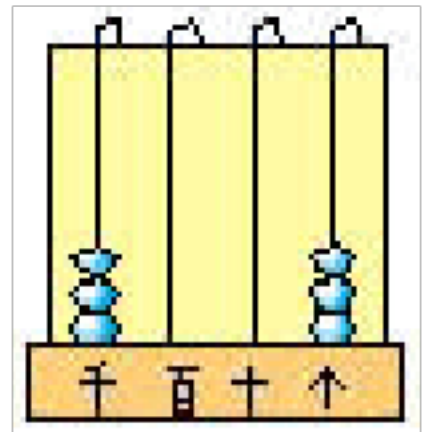
()



()



()



()

四、判断题。(对的打“√”, 错的打“×”)(每题 1 分, 共 6 分)

- 1、8 个百 3 个一组成的数是 830 ()
- 2、最大的四位数是 9000 ()
- 3、最小的四位数和最大的三位数相差 1 ()
- 4、一个数最高位是千位, 这个数一定是三位数 ()
- 5、在除法里, 商一定小于被除数 ()
- 6、大三角尺上的直角比小三角尺上的直角大 ()

五. 我会算。(45 分)

1. 直接写得数。(每小题 1 分, 共 24 分)

$18 \div 9 =$	$4 \times 3 =$	$16 \div 4 =$	$81 \div 9 =$	$45 \div 5 =$
$12 \div 2 =$	$56 \div 7 =$	$8 \div 8 =$	$30 + 80 =$	$150 - 60 =$
$64 \div 8 =$	$72 \div 9 =$	$8 \div 8 =$	$42 \div 7 =$	$820 - 370 =$
$340 + 800 =$	$4200 - 20 =$	$8800 - 80 =$	$690 + 40 =$	
$91 - 28 =$	$52 - 36 =$	$320 + 200 =$	$1000 - 500 =$	$1200 - 600 =$

2、竖式计算。(每小题 3 分, 共 9 分)

$$\begin{array}{r} 77 \\ - 42 \\ \hline \end{array}$$

()

$$\begin{array}{r} 540 \\ + 280 \\ \hline \end{array}$$

()

$$\begin{array}{r} 360 \\ - 190 \\ \hline \end{array}$$

()

3、脱式计算。(每小题 3 分，共 12 分)

① $4054 - 507 + 614$

② $25 \div 5 + 168$

③ $(416 - 360) \div 7$

④ $580 - 8 \times 9$

五. 我能解决问题。(共 23 分)

1、有本故事书 36 页，小红每天看 6 页，几天可以看完？小明 4 天看完，平均每天看几页？(5 分)

答：平均每天看 () 页。

2、做游戏。每 8 人一个小组。我们班有 26 名男生、30 名女生，全班同学可以分成几个小组？(5 分)

答：全班同学可以分成 () 个小组。

3、妈妈有 500 元钱，想买这两样商品，够吗？(5 分)



116 元



268 元

答：

4、水果店里有 62 个西瓜，卖出了 20 个，又运来 36 个，水果店里现在有多少个西瓜？（5 分）

答：水果店里现在有（ ）个西瓜。

5、下面的统计表记录的是二年级（1）班和（2）班同学的课余生活情况：
（3 分）

	看动画片	读课外书	去户外玩	打游戏机
二（1）班	11 人	8 人	7 人	12 人
二（2）班	13 人	4 人	9 人	10 人

（1）二（1）班同学在课余时间喜欢（ ）的人最多。

（2）二（2）班同学在课余时间喜欢（ ）的人最少。

（3）你在课余时间喜欢（ ）。

人教版二年级下册数学期末

一、填空。

- 比 680 少 90 的数是 () 300 比 120 多 ()
- 5206 是 () 位数, 最高位是 (), 计数单位是 ()。
- $40 \div 8 = ()$, 读作: (), 被除数是 (), 除数是 (), 商是 ()。
表示把 () 平均分成 () 份, 每份是 ()。还表示 40 里面有 () 个 ()。
- 一个数从右边起第 () 位是百位, 第 () 位是千位。
- 一个四位数, 最高位是 8, 十位上是 3, 其余数位上的数是 0 这个数写作 () 读作 ()。
- 10 个 () 是一万; 2438 是由 () 个千、() 个百、() 个十和 () 个一组成; 一个数是由 5 个千和 3 个十组成, 这 \triangle , 每 3 个一份, 可以分成 () 份, 算式是 () 个数是 ()。
- 填上合适的单位。
一块橡皮重 20 () 文具盒长大约 22 ()
房间宽 4 () 小明体重 43 ()
- 在 \bigcirc 里填上 $>$ 、 $<$ 或 $=$ 。
 $3 \text{ 千克} + 2000 \text{ 克} \bigcirc 5 \text{ 千克}$ $900 - 200 \bigcirc 809$
 $24 \div 6 \bigcirc 30 \div 6$ $25 \div 5 \bigcirc 48 \div 6$ $7 \times 5 \bigcirc 35 \div 7$
 $81 \div 9 \bigcirc 12 \div 2$ $5 \times 6 \bigcirc 100$ $64 \div 4 \bigcirc 24 \div 3$
- 在 \square 里填上一个适当的数。
 $785 < \square 84$ $\square 10 > 6 \square 4$
- 三 (1) 班同学去植树, 如果每人植 8 棵, 则多 2 棵; 如果每人植 9 棵, 也多 2 棵。这批树苗一共有 () 棵。
- 用 4、9、3 这三个数字组成的三位数中, () 最大, 最小数是 ()
- 60 个十是 (); 10 个百是 (), 10 个千是 ()
- 有 24 个百是 ()。
- $56 \div 8 = ()$, 想: $8 \times () = 56$, 口诀是 ()。
- 长方形有 () 条对称轴, 正方形有 () 条对称轴, 圆有 () 条对称轴。
- 拉抽屉、升降国旗、电梯上下等这些都是 () 现象。酒店里的转门、公园里的木马、吹大风车等这些现象都是 () 现象。
- 从 0、4、8、3 中选出三个数字组成的最大的四位数是 (), 最小的四位数是 ()。
- 从 45 里连续减去 5, 减 () 次还剩 5。

19 $60-40\div 8$ 这个算式里有 () 法和 () 法, 计算时要先算 () 法, 再算 () 法。

20 在 () 里最大能填几?

$$() \times 7 < 36 \quad 9 \times () < 40 \quad 73 > 8 \times ()$$

二、判断:

- (1) 读数和写数时, 都要从最高位读起和写起。 ()
- (2) 在除法中, 余数必须小于除数。 ()
- (3) 一个四位数减一个三位数, 可能得一个三位数, 也可能得一个四位数。 ()
- (4) 1 千克棉花和 1000 克铁比较, 铁比较重。 ()
- (5) 男生比女生多 35 人, 女生比男生少 35 人。 ()
- (6) $24 \div 6 = 4$ 读作 24 除 6 等于 4。 ()
- (7) 计算 8×6 和 6×8 , $48 \div 8$ 用同一句乘法口诀。 ()
- (8) 所有的长方形都是轴对称图形。 ()
- (9) 计算 $32 \div 4 \times 2$ 时, 先算乘法再算除法。 ()
- (10) 把 6 个苹果分给两个小朋友, 每个小朋友一定分 3 个。 ()
- (11) 一个乒乓球约重 3 克。 ()
- (12) 小胖今年 7 岁, 约重 2 千克。 ()

三、选择: (选序号)

(1) 678 最接近几百? ()。

- ①800 ②600 ③700

(2) 由 6 个十、5 个百和 3 个一组成的数是 ()。

- ①653 ②563 ③635

(3) 与 499 相邻的两个数是 ()。

- ①497 和 498 ②500 和 501 ③498 和 500

(4) 下面几个数中最接近 1000 的数是 ()。

- ①999 ②899 ③1009

四、直接写得数

$$300+400= \quad 430 - 30= \quad 80+600= \quad 650 - 600= \quad 200+800=$$

$$110 - 80= \quad 45 \div 9= \quad 1000 - 300= \quad 8 \times 9= \quad 400+600=$$

$$28 \div 7 = \quad 54 \div 6 = \quad 60 \times 5= \quad 90 \times 3= \quad 3 \times 9=$$

$$4 \times 6= \quad 2 \times 9= \quad 7 \times 3= \quad 40 \div 7= \quad 81 \div 9=$$

五、1、用竖式计算，

$40 \div 8$

$87 \div 9$

$48 + 29$

$70 - 56$

2、脱式计算。

$6 \times (49 - 40)$

$7 \times 2 + 24$

$8 + 16 \div 4$

$45 + 4 \times 3$

$81 \div 9 \div 3$

$7 \times (5 + 2)$

六、我是小小统计员。

下表是统计二（1）班同学的兴趣爱好。

项目	游戏	踢球	唱歌	跳舞
人数	正正正正	正正正一	正正正	正正一

1、二（1）班喜欢（ ）的人最多，喜欢（ ）的人最少。

2、二（1）班一共有（ ）人。

3、喜欢踢球的人比喜欢唱歌的多（ ）人。

4、你能提一个数学问题并解答吗？

七、解决问题。

1、同学们去郊游，一年级去了 27 人，二年级去了 34 人，三年级去的人数与一年级同样多，三个年级一共去了多少人？

2、一堆砖，第一天为小狗做房子，用了 220 块，第二天为小鸡做房子用了 340 块，还剩下 300 块。这堆砖原来有多少块？

3、一捆电线长 1000 米，用去了 700 米。剩下的比用去的少多少米？

4、有一串珠子，按“三黑二白”排列。（如图）想一想，第 28 个珠子是黑的还是白的？第 40 个呢？



5、饲养员养了 20 只公鸡， 12 只母鸡， 每 4 只放入一个笼子， 需要多少个笼子？

6、小兔种了 5 行萝卜， 每行 9 个， 送给邻居王奶奶 15 个， 还剩多少个？

7、 22 个学生去划船， 每条船最多坐 4 人。他们至少要租多少条船？

8、小马虎在计算 $25 + () \div 5$ 时，先算的加法，后算的除法，最后结果是 8。请你帮助小马虎算出正确的结果是多少？

9、欢欢、乐乐和笑笑是三只可爱的小狗。乐乐比欢欢重，笑笑是最轻的。你能写出它们的名字吗？



7 千克重的是 ()，5 千克重的是 ()，
9 千克重的是 ()。

10 在右面的方格中，每行、每列都有 1~4 这四个数，并且每个数在每行、每列都只出现一次。B 应该是几？

	3		
		B	1
	2		
4	A	2	

二年级下册数学期末试卷 24

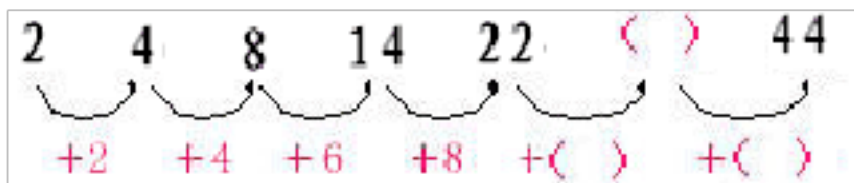
班级 _____ 姓名 _____

亲爱的小朋友，在这学期里你一定又结识了不少数学朋友，收获很多吧？我们一起来做闯关游戏，相信你一定行！

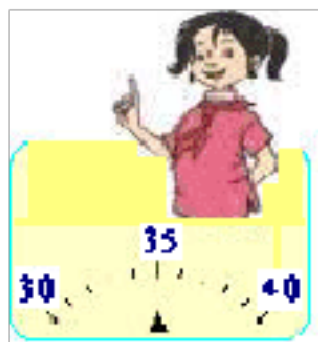


第一关 我会填。


- $5 \times 8 = (\quad)$ 我用的口诀是 (\quad)。
- 3个百，7个十组成的数是 (\quad)。
- *按规律填一填。



- 在○里填上“>”、“<”或“=”。
 $1570 \bigcirc 1470$ $3 \times 8 \div 6 \bigcirc 8 \div 4 \times 2$ $2800 \text{ 克} \bigcirc 3 \text{ 千克}$
- 2364 是一个 (\quad) 位数，读作 (\quad)。
- 6、



(\quad) 千克

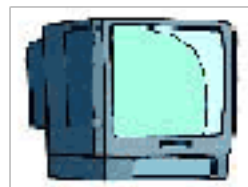


(\quad) 千克

7、




这个养鸡场平均每天手鸡蛋 3006 个，约是 (\quad) 个。



一台电视机 988 元 约是 (\quad) 元。

- 我估计我的数学书约重 (\quad) 克 一颗大西瓜约重 (\quad) 千克。

第二关 我会选。

-  这个角是 (\quad)。①锐角 ②直角 ③钝角


- 五千三百零一写作 (\quad)。①5310 ②5031 ③5301
- 书包的价钱是铅笔盒的 (\quad) 倍。



- ① 8 ② 7 ③ 6



42 元 6 元

- 一个四位数，它的最高位是 (\quad) 位。①百 ②千 ③万
- 这些现象中 (\quad) 是旋转。

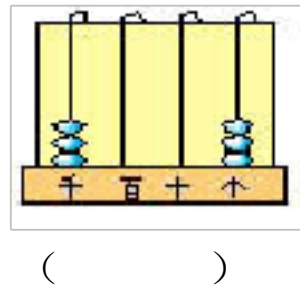
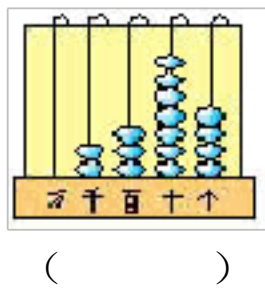
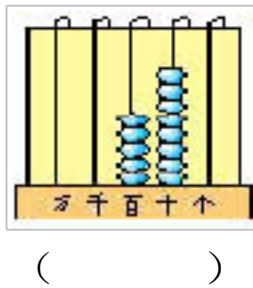
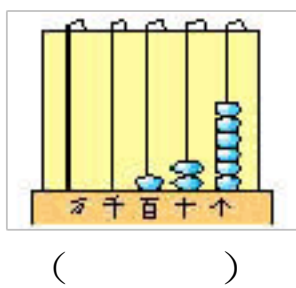


☀️ 第三关 我会做。

1、看图填算式。



2、看图写数。



☀️ 第四关 我会算。

1、直接写得数。

$18 \div 9 =$	$4 \times 3 =$	$16 \div 4 =$	$81 \div 9 =$	$45 \div 5 =$
$12 \div 2 =$	$56 \div 7 =$	$8 \div 8 =$	$30 + 80 =$	$150 - 60 =$
$120 + 200 =$	$400 + 700 =$	$6000 - 5000 =$	$1700 - 800 =$	

2、	$\begin{array}{r} 77 \\ - 42 \\ \hline \end{array}$	$\begin{array}{r} 540 \\ + 280 \\ \hline \end{array}$	$\begin{array}{r} 360 \\ - 190 \\ \hline \end{array}$
----	---	---	---

☀️ 第五关 我能解决问题。

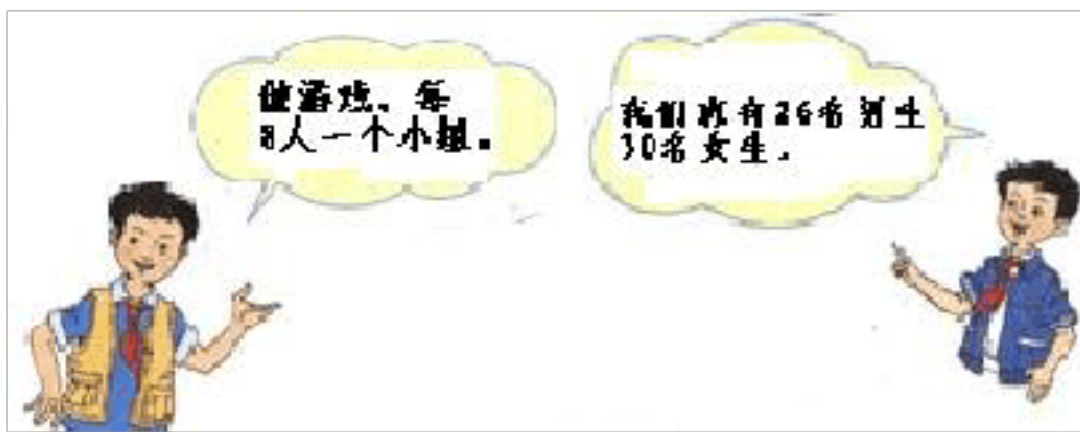
1、



36 页



2、



全班同学可以分成几个小组？

3、妈妈有 500 元钱，想买这两样商品，够吗？



116 元



268 元

4、下面的统计表记录的是二年级（1）班和（2）班同学的课余生活情况：

人数 \ 名称	看动画片	读课外书	去户外玩	打游戏机
二（1）班	11	8	7	12
二（2）班	13	4	9	10

- (1) 二（1）班同学在课余时间喜欢（ ）的人最多。
- (2) 二（2）班同学在课余时间喜欢（ ）的人最少。
- (3) 你在课余时间喜欢（ ）。
- (4) 你还能提出什么数学问题？（请你提一个问题并解答）


(5) 看了上面的统计表，你有什么发现？想给同学们提那些建议？

*
 第六关 智慧屋。

- 1、由 8、0、2、4 组成的最大四位数是（ ），最小四位数是（ ）。
- 2、按规律填数：1 4 9 16 （ ） （ ）

亲爱的小朋友，祝

贺你勇敢地闯过了六关！你对自己的表现满意吗？



自己评价一下：

非常满意()

比较满意()

还需努力()

以上内容仅为本文档的试下载部分，为可阅读页数的一半内容。如要下载或阅读全文，请访问：<https://d.book118.com/815120243344011333>