

湖南长沙市实验中学数学七年级上册整式的加减重点解析

考试时间：90 分钟；命题人：教研组

考生注意：

- 1、本卷分第 I 卷（选择题）和第 II 卷（非选择题）两部分，满分 100 分，考试时间 90 分钟
- 2、答卷前，考生务必用 0.5 毫米黑色签字笔将自己的姓名、班级填写在试卷规定位置上
- 3、答案必须写在试卷各个题目指定区域内相应的位置，如需改动，先划掉原来的答案，然后再写上新的答案；不准使用涂改液、胶带纸、修正带，不按以上要求作答的答案无效。

第 I 卷（选择题 20 分）

一、单选题（10 小题，每小题 2 分，共计 20 分）

1、下列运算中，正确的是（ ）

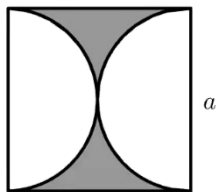
A. $3x+4y=12xy$

B. $x^9 \div x^3 = x^3$

C. $(x^2)^3 = x^6$

D. $(x - y)^2 = x^2 - y^2$

2、如图所示，边长为 a 的正方形中阴影部分的周长为（ ）




A. $a^2 - \frac{1}{4} \pi a^2$

B. $a^2 - \pi a^2$

C. $2a + \pi a$

D. $2a + 2\pi a$

3、有一题目：点 P 、 Q 、 M 分别表示数 -1 、 1 、 5 ，三点在数轴上同时开始运动，点 P 运动方向是向左，运动速度是 $2/s$ ；点 Q 、 M 的运动方向是向右，运动速度分别 $1/s$ 、 $3/s$ ，如图，在运动过程中，甲、乙两位同学提出不同的看法，甲： $3PM - 5PQ$ 的值不变；乙： $5QM - 3PQ$ 的值不变；下列选项中，正确的是（ ）



- A. 甲、乙均正确
 B. 甲正确、乙错误
 C. 甲错误、乙正确
 D. 甲、乙均错误

4、下列式子中不是代数式的是 ()

- A. $3a+2b$ B. $5+2$ C. $a+b=1$ D. $\frac{b}{a+1}$

5、单项式 $2a^3b$ 的次数是 ()

- A. 2 B. 3 C. 4 D. 5

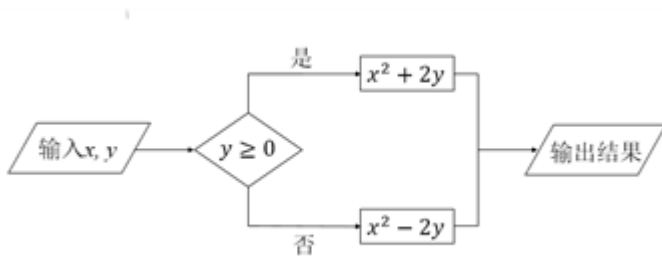
6、下列说法错误的是 ()

- A. 单项式 a^2h 的系数是 1 B. 多项式 $a-2.5$ 的次数是 1
 C. $m+2$ 和 3 都是整式 D. 3^2xy^3 是六次单项式

7、观察下面一列有序数对: $(1, 1)$, $(1, 2)$, $(2, 1)$, $(1, 3)$, $(2, 2)$, $(3, 1)$, $(1, 4)$, $(2, 3)$, $(3, 2)$, $(4, 1)$, $(1, 5)$, $(2, 4)$, \dots , 按这些规律, 第 50 个有序数对是 ()

- A. $(3, 8)$ B. $(4, 7)$ C. $(5, 6)$ D. $(6, 5)$

8、按如图所示的运算程序, 能使输出的结果为 12 的是 ()



- A. $x=3, y=3$
 B. $x=-4, y=-2$
 C. $x=2, y=4$

D. $x=4, y=2$

9、已知 x 与 3 互为相反数，计算 $x^2 - |x+1| + x$ 的结果是 ()

- A. 4 B. -14 C. -8 D. 8

10、如果 $xy \neq 0$ ， $\frac{1}{3}xy^2 + axy^2 = 0$ ，那么 a 的值为 ()


- A. -3 B. $-\frac{1}{3}$ C. 0 D. 3

第 II 卷 (非选择题 80 分)

二、填空题 (10 小题，每小题 3 分，共计 30 分)

1、多项式 $-1+2x-5x^2+9x^4$ 是按照字母 x 的_____排列的，多项式 $9a^3b-5a^2b^2-\frac{1}{2}ab-4$ 是按照字母_____的_____排列的.

2、下面是用棋子摆成的“上”字型图案：



按照以上规律继续摆下去，通过观察，可以发现：(1) 第五个“上”字需用_____枚棋子；(2) 第 n 个“上”字需用_____枚棋子.

3、若单项式 $3x^m y^3$ 与 $-2x^5 y^{n+1}$ 是同类型项，则 $(-n)^m =$ _____.

4、关于 x 的多项式 $(a+2)x^3 - 3x^b + 5$ 的次数是 2，那么 $a =$ _____， $b =$ _____.

5、某厢式货车从物流中心出发，向东行驶 2 小时，速度为 a 千米/小时，卸下一部分货后，掉头以同样的速度向西行驶 5 小时后，把其余货物卸掉，接着向东再行驶 1 小时又装满了货，问此时货车距离物流中心_____千米.

6、在代数式 $3xy^2$, m , $6a^2 - a + 3$, 12 , $4x^2yzx - \frac{1}{5}xy^2$, $\frac{2}{3ab}$ 中, 单项式有_____个.

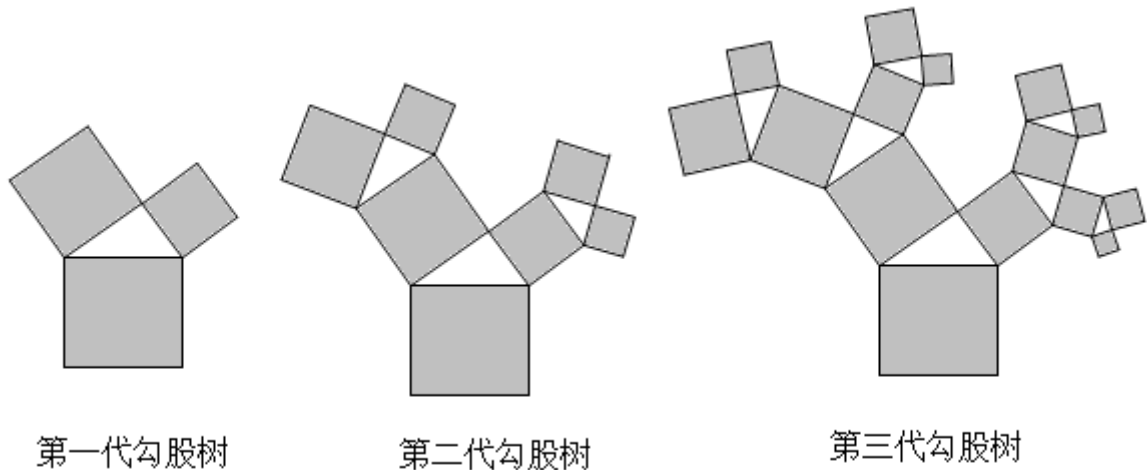
7、如果多项式 $4x^3 - 2x^2 - (kx^2 + 17x - 6)$ 中不含 x^2 的项, 则 k 的值为_____

8、去括号并合并同类项:

(1) $3a + b + 2(a - 2b) =$ _____; (2) $2(x - 3) - (5x + 2) =$ _____;

(3) $a - 5(a + b) + 3(2a - b) =$ _____; (4) $3x - (6a + x - 2) + 4a - 1 =$ _____.

9、“勾股树”是以正方形一边为斜边向外作直角三角形, 再以该直角三角形的两直角边分别向外作正方形, 重复这一过程所画出来的图形, 因为重复数次后的形状好似一棵树而得名. 假设如图分别是第一代勾股树、第二代勾股树、第三代勾股树, 按照勾股树的作图原理作图, 则第六代勾股树中正方形的个数为_____.



10、按一定规律排列的单项式: $-a^2$, $4a^3$, $-9a^4$, $16a^5$, $-25a^6$, \dots , 第 n 个单项式是_____.


三、解答题 (5 小题, 每小题 10 分, 共计 50 分)

1、单项式 $-\frac{5}{8}a^2b^m$ 与 $-\frac{11}{7}x^3y^4$, 是次数相同的单项式, 求 m 的值.

2、若 $(x^2 + px + q)(x^2 - 2x - 3)$ 展开后不含 x^2 、 x^3 项, 求 pq 的值.

3、如图, 在一个长方形休闲广场的四角都设计一块半径相同的四分之一圆形的花坛. 若圆形的半径为

rm ，广场长为 am ，宽为 bm 。

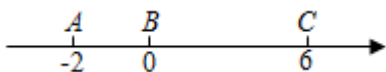


(1) 列式表示广场空地的面积；

(2) 若广场的长为500m，宽为200m，圆形花坛的半径为20m，求广场空地的面积（计算结果保留 π ）.

4、先化简，再求值： $2(3a^2b - ab^2) - 3(a^2b - 1 - 2ab^2) - 3$ ，其中 $a = -\frac{1}{2}, b = 2$.

5、如图所示，在数轴上点 A, B, C 表示得数为 $-2, 0, 6$ ，点 A 与点 B 之间的距离表示为 AB ，点 B 与点 C 之间的距离表示为 BC ，点 A 与点 C 之间的距离表示为 AC .



(1) 求 AB, AC 的长；

(2) 点 A, B, C 开始在数轴上运动，若点 A 以每秒2个单位长度的速度向左运动，同时，点 B 和点 C 分别以每秒3个单位长度和4个单位长度的速度向右运动. 请问： $BC - AB$ 的值是否随着运动时间 t 的变化而变化？若不变，请求其值；若变化，请说明理由并判断是否有最值，若有求其最值.

-参考答案-

一、单选题

1、C

【解析】

【分析】

直接应用整式的运算法则进行计算得到结果

【详解】

解：A、原式不能合并，错误；

B、原式 = x^6 ，错误；

C、原式 = x^6 ，正确；

D、原式 = $x^2 - 2xy + y^2$ ，错误，

故选：C.

【考点】

整式的乘除运算是进行整式的运算的基础，需要完全掌握.

2、C

【解析】

【分析】

圆的周长+2 倍正方形的边长等于阴影部分的周长.

【详解】

解：由图像可知：

阴影部分的周长 = $2a + \pi a$ ，

故选：C

【考点】

本题考查了代数式和圆的周长，结合题意正确表示代数式是解题的关键.

3、B


【解析】

【分析】

设运动时间为 x s，则 P 表示的数为 $-1-2x$ ， Q 表示的数为 $1+x$ ，点 M 表示的数为 $5+3x$ ，根据数轴上两点间的距离公式计算整理即可判断.

【详解】

∵点 P 、 Q 、 M 分别表示数 -1 、 1 、 5 ，三点在数轴上同时开始运动，点 P 运动方向是向左，运动速度是 $2/s$ ；点 Q 、 M 的运动方向是向右，运动速度分别 $1/s$ 、 $3/s$ ，



∴设运动时间为 x s，则 P 表示的数为 $-1-2x$ ， Q 表示的数为 $1+x$ ，点 M 表示的数为 $5+3x$ ，

∴ $3PM-5PQ=3(5+3x+1+2x)-5(1+x+1+2x)=8$ ，保持不变；

∴甲的说法正确；

∴ $3QM-3PQ=3(5+3x-1-x)-3(1+x+1+2x)=6-3x$ ，与 x 有关，会变化；

∴乙的说法不正确；

故选 B 。

【考点】

本题考查了数轴上的两点间的距离，数轴上点与数的关系，准确表示数轴上两个动点之间的距离是解题的关键。

4、C

【解析】

【分析】

根据代数式的定义：用基本运算符号（基本运算包括加减乘除、乘方和开方）把数或表示数的字母连接起来的式子，由此可排除选项。

【详解】

解：A、是代数式，故不符合题意；

B、是代数式，故不符合题意；

C、中含有“=”，不是代数式，故符合题意；

D、是代数式，故不符合题意；

故选 C.

【考点】

本题主要考查代数式的定义，熟练掌握代数式的定义是解题的关键.

5、C

【解析】

【详解】

分析：根据单项式的性质即可求出答案.

详解：该单项式的次数为： $3+1=4$

故选 C.

点睛：本题考查单项式的次数定义，解题的关键是熟练运用单项式的次数定义，本题属于基础题型.

6、D

【解析】

【分析】

如果两个单项式，他们所含的字母相同，并且相同字母的指数也分别相同，那么就称这两个单项式为同类项.

【详解】

A、B、C 说法均是正确的，D 中 $3^2 \cdot xy^3$ 是四次单项式.

【考点】

本题考察单项式知识的相关应用.

7、C

【解析】

【分析】

不难发现横坐标依次是:1、1、2、1、2、3、1、2、3、4、1、2、3、4、5..., 纵坐标依次是:1、2、1、3、2、1、4、3、2、1、5、4、3、2、1..., 根据此规律即可知第 50 个有序数对.

【详解】

观察发现, 横坐标依次是:1、1、2、1、2、3、1、2、3、4、1、2、3、4、5..., 纵坐标依次是:1、2、1、3、2、1、4、3、2、1、5、4、3、2、1...,

$$Q1+2+3+4+5+6+7+8+9=45,$$

∴ 第 46、47、48、49、50 个有序数对依次是(1,10)、(2,9)、(3,8)、(4,7)、(5,6).

所以 C 选项是正确的.

【考点】

本题主要考查了点的坐标探索规律题, 找出有序数对的横、纵坐标变化规律是解决问题的关键.

8、C

【解析】

【分析】

由题可知, 代入 x 、 y 值前需先判断 y 的正负, 再进行运算方式选择, 据此逐项进行计算即可得.

【详解】

A 选项 $y \geq 0$, 故将 x 、 y 代入 $x^2 + 2y$, 输出结果为 15, 不符合题意;

B 选项 $y \leq 0$, 故将 x 、 y 代入 $x^2 - 2y$, 输出结果为 20, 不符合题意;

C 选项 $y \geq 0$, 故将 x 、 y 代入 $x^2 + 2y$, 输出结果为 12, 符合题意;

D 选项 $y \geq 0$, 故将 x 、 y 代入 $x^2 + 2y$, 输出结果为 20, 不符合题意,

故选 C.

【考点】

本题主要考查程序型代数式求值, 解题的关键是根据运算程序, 先进行 y 的正负判断, 选择对应运算

方式，然后再进行计算.

9、A

【解析】

【分析】

根据相反数的性质求得 x 的值，代入求解即可。

【详解】

解：∵ x 与 3 互为相反数，

$$\therefore x = -3,$$

$$\therefore x^2 - |x+1| + x$$

$$= (-3)^2 - |-3+1| - 3$$

$$= 9 - 2 - 3$$

$$= 4.$$

故选：A.

【考点】

本题主要考查了绝对值、乘方和相反数的定义，熟练掌握相关定义是解题的关键。

10、B

【解析】

【分析】

根据同类项的定义可知， $\frac{1}{3}xy^2$ 和 axy^2 是同类项，两数和为 0，且 $xy \neq 0$ ，则系数 $\frac{1}{3}$ 和 a 互为相反数，求解即可。

【详解】

$$\because xy \neq 0, \frac{1}{3}xy^2 + axy^2 = 0, \text{ 则 } \frac{1}{3}xy^2 \text{ 和 } axy^2 \text{ 是同类项,}$$

以上内容仅为本文档的试下载部分，为可阅读页数的一半内容。如要下载或阅读全文，请访问：<https://d.book118.com/817003052055010013>