

2024年人教新起点七年级地理上册阶段测试试卷457

考试试卷

考试范围：全部知识点；考试时间：120分钟

学校：_____ 姓名：_____ 班级：_____ 考号：_____

总分栏

题号	一	二	三	四	五	总分
得分						

评卷人	得分

一、选择题(共6题，共12分)

1、下列属于第三产业的是（ ）

- A. 建筑业。
- B. 畜牧业。
- C. 种植业。
- D. 交通运输业。

2、下列叙述不能证明海陆变迁的是（ ）

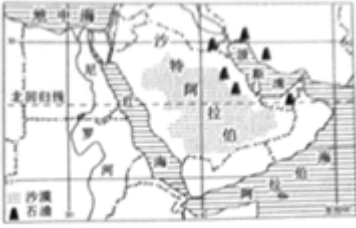
- A. 台湾海峡海底发现森林遗迹和古河道
- B. 极地地区发现煤田
- C. 东非大裂谷不断扩张
- D. 海岛涨潮被淹没，退潮露出

3、

下列说法正确的是（ ）

- A. ①为陆地
- B. ②为海洋
- C. ①为陆地，②为海洋
- D. ①为海洋，②为陆地

4、如图是中东地区图；读图完成7-11题。



近年来中东国家加快经济转型步伐，以下不利于其可持续发展的措施是（ ）

- A. 加大石油开采量
- B. 大力发展旅游业
- C. 加强国际经贸合作
- D. 科技兴农

5、比较图幅相同的江苏政区图和姜堰政区图发现，姜堰政区图具有的特点是

- A. 表示的范围较大，比例尺较大
- B. 表示的范围较小，比例尺较大
- C. 表示的范围较大，比例尺较小
- D. 表示的范围较小，比例尺较小

6、世界上面积最小的大洋是（ ）

- A. 大西洋
- B. 印度洋
- C. 北冰洋
- D. 太平洋

评卷人	得分

二、填空题(共8题，共16分)

7、世界上最高的高原是____，世界上最大的盆地是_____。

8、地球在自转的同时，还围绕____不停地公转。地球公转的方向是____，公转一周的时间是____。地球公转时，地轴是____，而且它的空间指向_____。

9、根据提示填空：（12分）

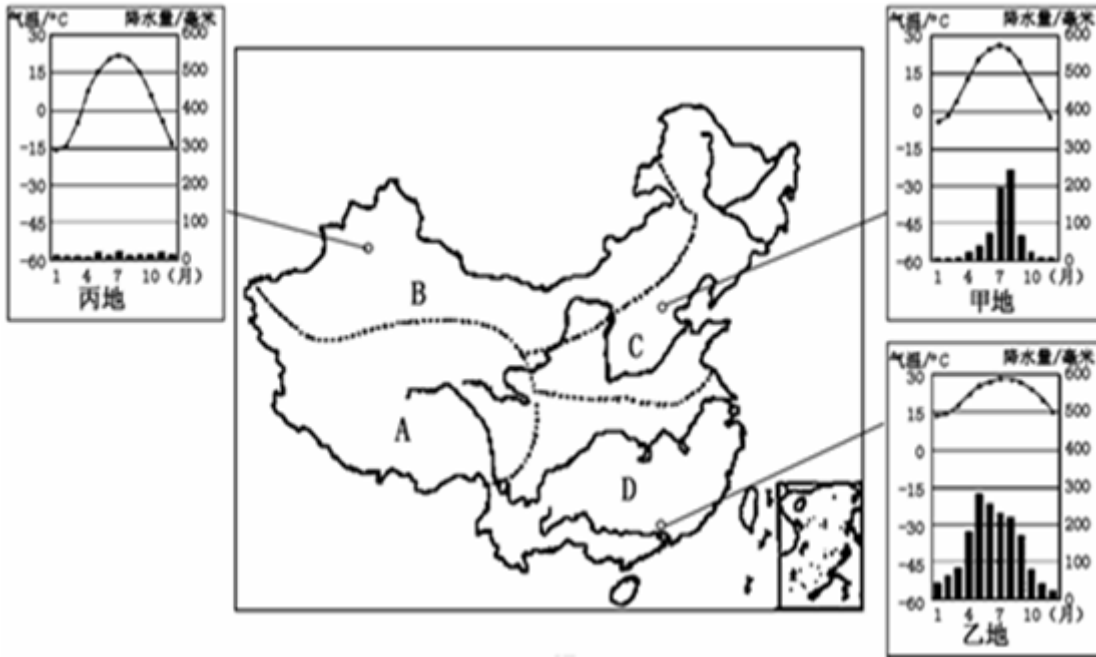
（1）世界平均气温分布的一般规律：①低纬度气温____，高纬度气温____；②同纬度地带，夏季陆地气温____，海洋气温____，冬季相反。③在山地，气温随海拔升高而____，海拔每升高100米，气温下降约_____。

（2）世界年降水量的分布规律：①赤道附近降水____，两极地区降水____。②南、北回归线两侧，大陆东岸降水____，大陆西岸降水____。③中纬度沿海地区降水____，内陆地区降水_____。



loading...

- 10、根据板块构造理论，未来地中海的面积应该_____，红海的面积应该_____。
- 11、北京是一座_____的城市，建城已有_____多年，作为统一王朝的都城也有_____多年的历史。北京又是一座_____都市，她充满_____与_____，正以前所未有的速度快速发展着。
- 12、日本相对丰富的能源资源是_____。
- 13、地球赤道半径_____千米，极半径_____千米，平均半径_____千米。
- 14、
读图填空



(1) 区域C和区域D的分界线大致是_____（山脉）—_____（河流）一线。

(2) 甲地与乙地相比，冬季气温较低的是_____地，导致这种差异的主要因素是_____（纬度因素、海陆因素、地形）；甲地与丙地相比，年降水量较少的是_____地，导致这种差异的主要因素是_____（纬度因素、海陆因素、地形）。

(3) 下列项目中属于区域A的是_____，属于区域D的是_____。（填代号）

- ①赏冰灯 ②赛龙舟 ③献哈达 ④那达慕大会

(4) C地区的主要运输方式_____、_____（铁路、公路、水运）

评卷人	得分

三、判断题(共7题，共14分)

15、我们的家乡江津经纬度约为29°N、106°E，夏至日正午有阳光直射。（ ）

16、全球气候有变暖的趋势，其主要原因是大气中尘埃日益增多。（ ）（判断对错）

17、地球上并没有经纬线.

18、2015年11月2日在上海总装的国产大飞机C919正式下线，体现中国综合国力的进一步提升（）

19、所有经线相交于一点.

20、亚马孙平原属于热带雨林气候（）（判断对错）

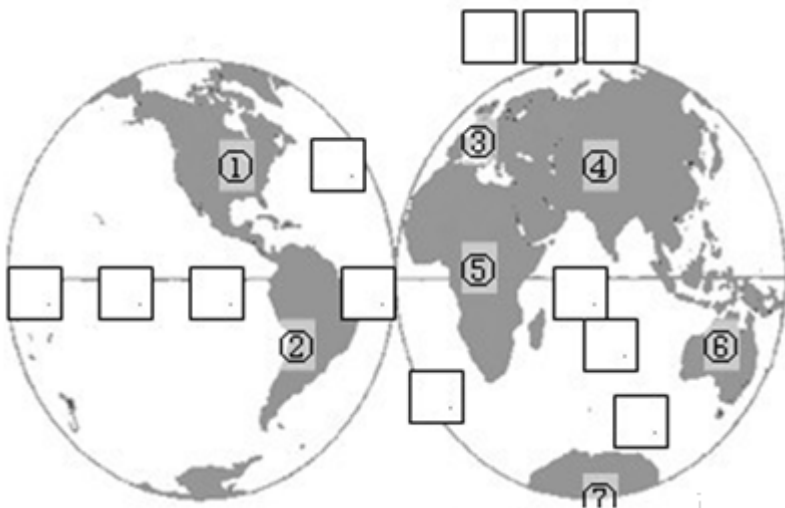
21、欧洲是世界第一大洲.

评卷人	得分

四、简答题(共3题，共6分)

22、苏伊士运河位于_____海与红海之间.

23、读图；回答下列问题：



(1) 在图中方框内填注：太平洋；大西洋、北冰洋、印度洋.

(2) 写出图中数字代表的大洲名称：

①_____ ②_____ ③_____ ④_____ ⑤_____ ⑥_____ ⑦_____

(3) ①与②的分界线是_____；七大洲中面积最大的是_____，面积最小的是_____.

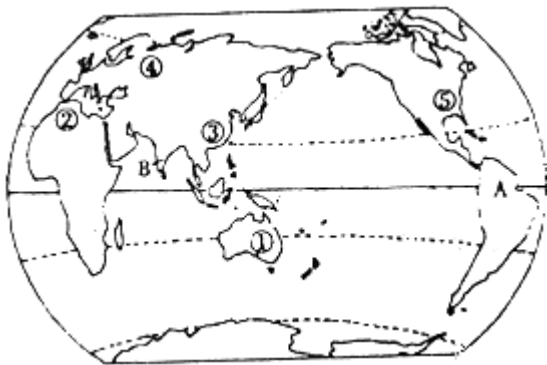
24、读图；完成下列内容：

(1) ①地居民的主要人种是_____；主要信仰_____教，通用_____语.

(2) ②地居民的主要人种是_____；主要信仰_____教，通用_____语.

(3) ③地的主要人种是_____；通用_____语.

(4) A； B两地中；人口密度较大的是_____.


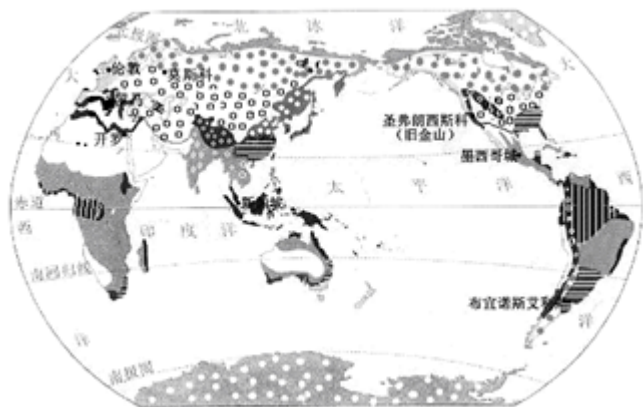


评卷人	得分

五、综合题(共4题, 共24分)

25、

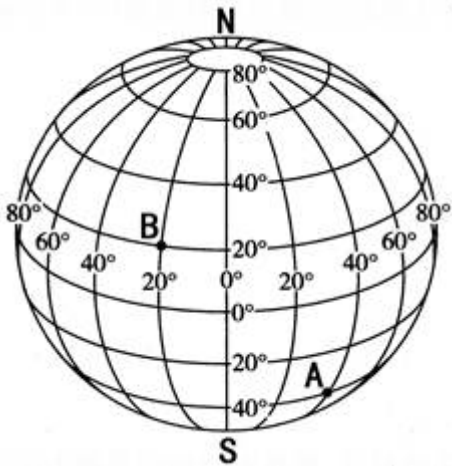
【题文】读以下世界气候类型分布图及三幅气候资料图; 回答问题。(6分)



- (1) 以上三地中, 气温年较差最大的是____, 属于冬季多雨的是____。
- (2) 以上三地中, 属于温带海洋性气候的是____。
- (3) 以上三种气候类型中, 在亚洲分布面积最广的是____, 亚洲没有的是____。
- (4) 以上三种气候类型中, 分布纬度最低的是____。

26、

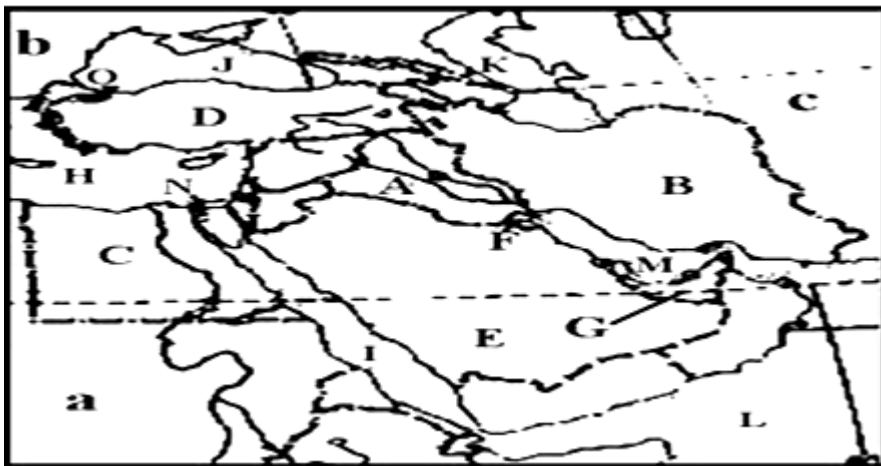
【题文】读图; 回答下列问题。(4分)



- (1) 写出图中A、B两点的经纬度：A _____； B _____。
- (2) 判断：B点在A点的 _____ 方。
- (3) 如果在南极点建一座房子，它的四面都朝 _____ (方向)。

27、

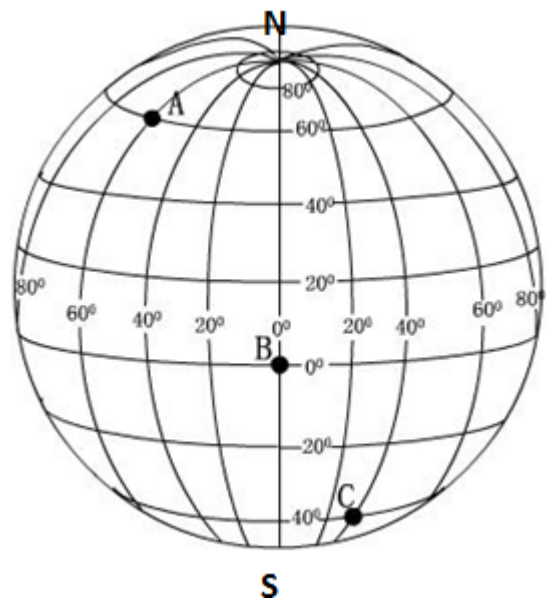
读中东地区图；回答。



- (1) 三洲五海之地：a是 _____ 洲，b是 _____ 洲；c是 _____ 洲。H是 _____ 海，I是 _____ 海，J是 _____ 海，K是 _____ 海，L是 _____ 海。

(2) 中东石油主要分布于M _____ 湾及其沿岸地区；中东输出的石油，绝大部分是通过海洋运输运往东亚；欧洲西部、北美洲等发达国家。运往西欧其中最大的输油路线绕非洲南端的 _____，最短路线经 _____ 运河。

- (3) 沙特阿拉伯、伊朗、伊拉克、科威特、阿拉伯联合酋长国是中东主要的产油国家，其中，E是 _____ (国家)； F是 _____ (国家)



28、读经纬网图；回答下列为题。

- (1) 写出图中A、B、C三点的地理坐标。

A _____

B _____

C_____

(2) 从东西半球的划分来看：A、B、C三点中；

位于东半球的是_____。

位于西半球的是_____。

(3) 图中A点位于B点的_____方向。

参考答案

一、选择题(共6题，共12分)

1、D

【分析】

农业是第一产业；工业和建筑业是第二产业，流通部门和服务业是第三产业，畜牧业与种植业是农业属第一产业；建筑业属于第二产业外；交通运输业属于第三产业。

故选：D。

【解析】

【答案】根据经济发展水平的差异；通常把世界上的国家分为发达国家和发展中国家。通常，人们把社会生产的各部门划分为三类产业。农业是第一产业，工业和建筑业是第二产业，流通部门和服务业是第三产业。

2、D

【分析】

【分析】地表形态处于不断的运动和变化之中；海陆不断发生变迁。海洋可以变成陆地，陆地也可变成海洋。海岛涨潮被淹没，退潮露出。不属于海陆变迁。故选：D。

【点评】本题考查海陆变迁的现象，属于基础题目。

3、D

【分析】

解：读图可知；图中等温线从北向南气温逐渐降低，该半球为北半球，若此时为7月份，即北半球的夏季，陆地气温高；①②两点同纬度，①地气温在0℃~10℃之间，②地气温在10℃~20℃之间，①地气温低，②地气温高，因此①地为海洋，②地为陆地。故选项D符合题意。

故选：D。

世界年平均气温的分布规律有三条：①从纬度位置看：从低纬度向两极气温逐渐降低；②从海陆位置看：同纬度的海洋和陆地气温并不一样；夏季陆地气温高，冬季海洋气温高；③从海拔高度看：地势越高气温越低，海拔每升高100米气温下降0.6℃。影响气候的因素主要有纬度因素；海陆因素、洋流、地形地势因素和人类活动等。

本题考查了世界年平均气温的分布规律，读图理解解答。

【解析】

D

4、A

【分析】

解：中东地区石油资源丰富；但是这种资源是非可再生资源，将会越用越少；要实现经济的可持续发展，需要加快经济转型，如加强国际经贸合作，进行加工制造业，科技兴农，开展旅游业等。故选项A符合题意。

故选：A。

中东地处“五海三洲”之地；是亚、非、欧三大洲的汇合点和交通枢纽，由此向东可通往印度洋和南亚、东南亚各国，向西进入地中海，向西南可达非洲各国，向西北则与东、西欧各国相通。这里是犹太教、基督教、伊斯兰教三大宗教在这片土地上起源，民族矛盾、宗教纠纷、领土争端、对石油和水资源的争夺、帝国主义和殖民主义的侵略和压迫，使这片土地长期动荡不安，战火连绵。

本题考查了中东地区的资源及经济可持续发展的方向，理解解答即可。

【解析】

A

5、B

【分析】

【解析】

试题分析：在图幅大小相同的情况下，实际范围越大，比例尺越小，内容越粗略，精确度越低；反之，实际范围越小，尺越大越大，内容越详细，精确度越高。A、B、C、D四幅图虽然图幅相同，但是实际范围是姜堰政区图小，那么所用的比例尺也就大。故选B。

考点：比例尺大小与地图内容的关系。

【解析】

【答案】

B

6、C

【分析】

解：四大洋按面积排列为太平洋；大西洋、印度洋、北冰洋。依据题意。

故选：C。

地球上广阔的海洋连为一体；习惯上人们把大洋分为四大部分，分别为太平洋；大西洋、印度洋、北冰洋。

本题考查大洋的面积大小，牢记即可。

【解析】

C

二、填空题(共8题，共16分)

7、略

【分析】

世界上最高的高原是青藏高原；有“世界屋脊”之称；世界上最大的盆地是刚果盆地。

故答案为：青藏高原；刚果盆地。

【解析】

以上内容仅为本文档的试下载部分，为可阅读页数的一半内容。如要下载或阅读全文，请访问：<https://d.book118.com/828100137134007011>