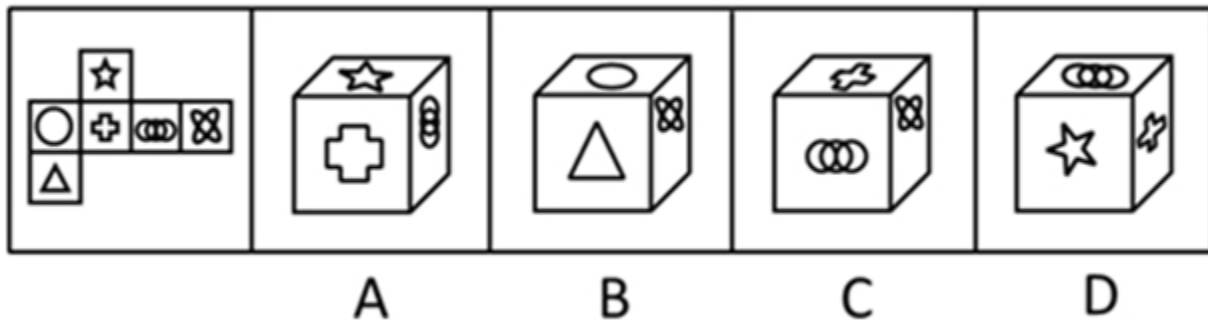


2023年10月浙江省湖州市教育局赴湖南师范大学公开招聘36名优秀毕业生5 笔试历年高频考点-难、易错点荟萃附答案带详解

一. 单项选择题(共45题)

1.

右图的四个图形，只有一个是左面的纸板向外折叠而成。请选出正确的一个：【2009安徽079】



A、如图所示

B、如图所示

C、如图所示

D、如图所示

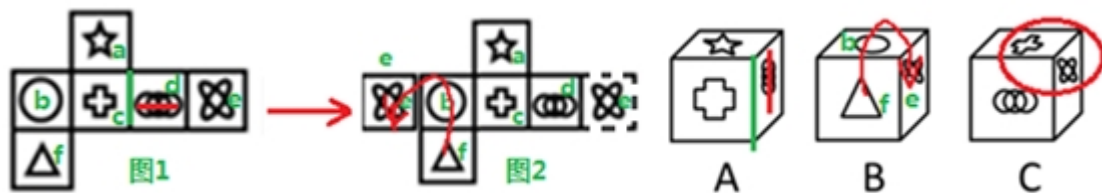
参考答案：D,

答案解析

本题为折纸盒题目。

(图片大小可任意调节)

将平面图中的各面进行标号，如下图所示：



A选项：上面为面a，前面为面c，右面为面d，面d内部图形的方向平行于面d和面c的相邻线（如上图A中红线为面d内图形的方向，绿线为面d和面c的交线），而展开图中面d内部图形的方向垂直于面d和面c的相邻线（如上面展开图1中红线为面d内图形的方向，绿线为面d和面c的交线），由此可见A选项与展开图不一致，所以A选项错误。

B选项：上面为面b，前面为面f，右面为面c，因为展开图中三个面未直接相邻，所以先将展开图中面e平移到面b的左侧，可得展开图2，观察展开图中从面f到面b再到面e是逆时针方向，而B选项折叠图中从面f到面b再到面e是顺时针方向，由此可见B选项与展开图不一致，所以B选项错误。

C选项：上面为面c，右面为面e，二者为相邻面（如上图C中红圈内的标示），而展开图中这两面为相对面，因为相对面不相邻，所以C选项错误。

D选项：可由左侧图形折成。

故本题选D。

2.

（图片大小可任意调节）

代际歧视，指上代人从自己的视角对新生代整体形象作出的描述性或定位性负面评价，这种评价往往不够客观、准确。

下列属于代际歧视的是：

- A、年近花甲的钱总在职工大会上批评少数年轻的技术人员缺乏创新意识，不思进取，要求他们尽快改变目前的精神状态
- B、80后曾被父辈斥为“叛逆的一代”，被指责为自我、叛逆和缺乏责任感，然而最近某七十高龄的作家却称80后是“懦弱的一代”，缺乏反叛精神
- C、孙大妈学会了使用微信，经常关注女儿的朋友圈，由于女儿经常分享一些充满正能量的短文，饭桌上她戏称女儿是“鸡汤党”
- D、某啃老男整天游手好闲、惹是生非，父母恨铁不成钢欲将其赶出家门，他却指责父母这一代人自私自利，不顾子女

参考答案：B，

答案解析

本题题干为经济学类定义判断。

第一步：关键信息——①上代人对新生代整体形象做出的负面评价；②不够客观、准确。

第二步：题目详解

B选项：80后相对于父辈是新生代，80后的父辈是上代人，且“叛逆的一代”、“懦弱的一代”是不客观、不准确的，符合定义，当选。

A选项：少数年轻的技术人员并不能代表新生代整体形象，不是对新生代整体形象的评价；且缺乏创新意识，是客观的评价，不符合②，排除。

C选项：孙大妈戏称女儿是“鸡汤党”，不是负面评价，也不是对新生代整体形象的评价，不符合①②，排除。

（图片大小可任意调节）

D选项：父母对某啃老男恨铁不成钢欲将其赶出家门，是对个体的态度，不是对新生代整体的负面评价，也并非不客观，不符合①②，排除。

故本题选B。

3.

我们都有过不由自主的时刻，就好像有一种我们所无法控制的力量，违背我们的意志，支配我们做下平时不会做的事，说出平时不会说的话。人越年轻，不由自主的时候就有可能越多，而会使我们陷入不由自主境地的导火索，往往都是由过往事件引发的情绪。它们的逻辑关系是：过往某个重大生活事件发生后，人们在意识层面可能会遗忘这个事件本身，但是这个事件引发的情绪却会被永远铭记，在日后的成长过程中，如果我们遭遇某个类似事件时，以往事件中产生的情绪就会在瞬间以迅雷不及掩耳之势爆发，直至把我们淹没。

上文中的“它们”指的是：

- A、不由自主的时刻、我们无法控制的力量、意志
- B、过往事件、情绪、不由自主行为的发生
- C、重大生活事件、情绪
- D、年轻人、不由自主的时刻、情绪

（图片大小可任意调节）

参考答案：B，

答案解析

第一步：判断题型——本题为词句理解题

第二步：分析题干

首先定位原文，“它们”出现在文段第三句，由“：”可知，后文是对“它们”的逻辑关系的解释，后文主要说了过往某个重大事件发生后，事件引发的情绪会被永远铭记，并且以后遭遇类似事件时，曾经引发的情绪会迅速爆发，促使我们发生不由自主的行为，提取关键信息，所以“它们”指的是过往事件、情绪、不由自主行为的发生，所以选择B。

第三步：分析选项

A选项：“它们”指代的内容没有提到“我们无法控制的力量、意志”，所以A错。

C选项：没有“不由自主行为的发生”，且后文说的是“过往某个重大生活事件”，不是“重大生活事件”，所以C错。

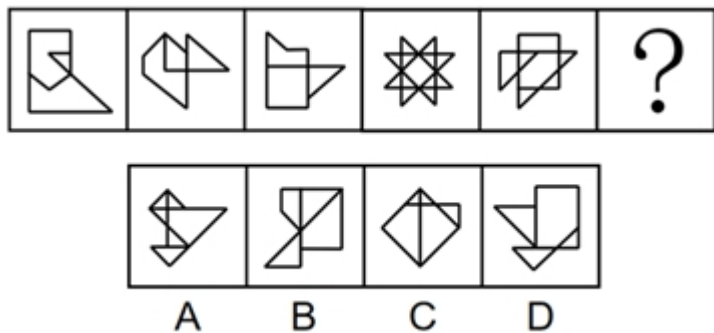
D选项：“它们”指代的内容没有提到“年轻人”，所以D错。

故本题选B。

(图片大小可任意调节)

4.

从所给的四个选项中，选择最合适的一个填入问号处，使之呈现一定的规律性：【2022联考/福建074】



A、如图所示

B、如图所示

C、如图所示

D、如图所示

参考答案：D,

答案解析

第一步：判断题型——本题题干图形相异，优先考虑数数量、对称、一笔画、曲直、连接形式等；最后考虑找共性。

第二步：题目详解

(图片大小可任意调节)

突破口：图3为“日”字格变形，为一笔画图形，考虑笔画数。

本题规律：

题干图形均为一笔画图形，？处图形也应为一笔画图形。

选项图形笔画数依次为：2，2，2，1，只有D选项符合。

故本题选D。

5.

学习迁移即一种学习对另一种学习的影响，它广泛地存在于知识、技能、态度和行为规范的学习中。任何一种学习都会受到学习者已有知识经验、技能、态度等的影响，只要有学习，就有迁移。

下列属于学习迁移的是：

- A、小王的父亲是著名的画家，受父亲影响，他从小就对绘画产生了兴趣，后来也成为一名画家
- B、某大学生在人多的教室里复习功课总容易分心，于是换到一个独处的安静环境，学习效率非常高
- C、小芳学会了拉二胡，自己尝试拉小提琴，结果也很快学会
- D、某学生沉迷于网络游戏致使学习成绩下降，后来通过老师的教育和同学的帮助，改掉了毛病，学习进步非常快

（图片大小可任意调节）

以上内容仅为本文档的试下载部分，为可阅读页数的一半内容。如要下载或阅读全文，请访问：<https://d.book118.com/836115214054010044>