

# 2023-2024 河南省郑州市科目一模拟考试 100 题【精品加答案】

1、驾驶机动车违反道路交通安全法律法规发生交通事故属于交通违章行为。

A、正确

B、错误

正确答案：B

分析：“违反道路交通安全法”，明显的是违法，它都暗示了是“违法”行为。现在已经没有违章这一说了。

2、图中这个标志提示前方有环形交叉路口，前方路口可以掉头行驶。



A、正确

B、错误

正确答案：A

分析：警示标志，前方是环形交叉路口，是可以掉头的。

3、这个标志是何含义？



A、指示标志

B、指路标志

C、禁令标志

D、警告标志

正确答案：D

分析：黄色底色的都是警告标志，图中表示驾驶者需要注意前方有十字路口。

4、灯光开关在该位置时，后雾灯点亮。



A、正确

B、错误

正确答案：A

分析：雾在左边是前雾灯，雾在右边是后雾灯，这样旋转会拧至前雾灯位置。

5、机动车交通事故责任强制保险的保险期间为多长时间？

A、6个月

B、1年

C、2年

D、3年

正确答案：B

分析：机动车交强险保险期间为1年。

6、下列哪个标志禁止一切车辆长时间停放，临时停车不受限制？



A、图 1

B、图 2

C、图 3

D、图 4

正确答案：D

分析：图 4 是区域禁止长时间停车标志，不影响临时停车。记住就可以了，其他图标是什么？去“交通标志”里学习一遍吧。

7、驾驶机动车在距离下述哪些地点 50 米以内的路段，不得停车？

A、急救站

B、消防栓

C、交叉路口

D、公共汽车站

正确答案：C

分析：交叉路口、铁路道口、急转弯、宽度不足 4 米的窄路、桥梁、陡坡、隧道以及距离上述地点 50 米以内的路段，不得停车；

8、超过机动车驾驶证有效期一年以上未换证被注销，但未超过 2 年的，机动车驾驶人应当如何恢复驾驶资格？

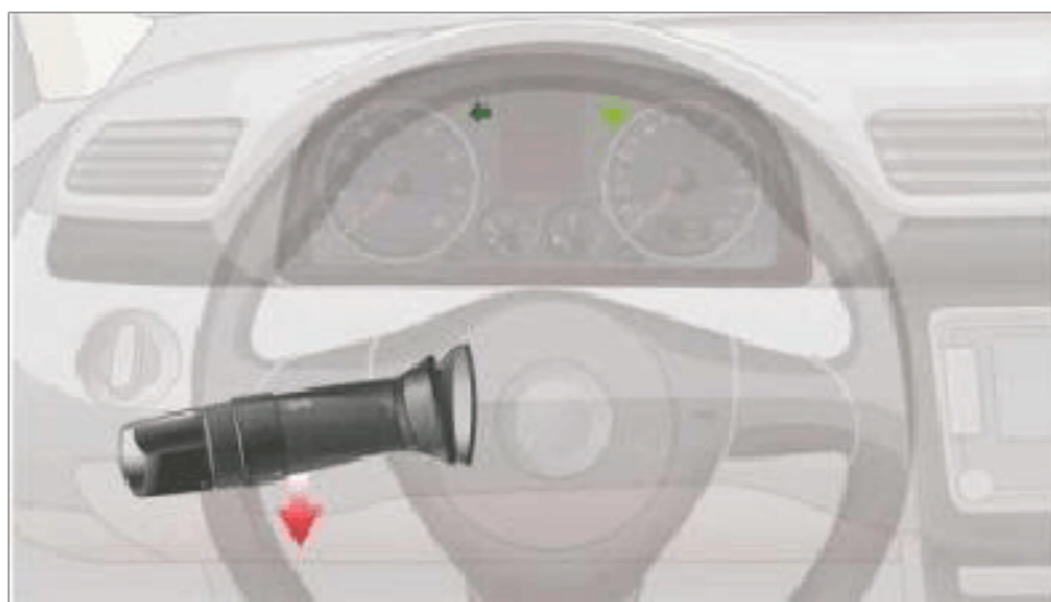
A、参加道路交通安全法律、法规和相关知识考试合格后

- B、参加场地考试合格后
- C、参加道路驾驶技能考试合格后
- D、参加安全文明驾驶常识考试合格后

正确答案：A

分析：《机动车驾驶证申领和使用规定》被注销机动车驾驶证未超过两年的，机动车驾驶人考试科目一合格后，可以恢复驾驶资格。

9、将转向灯开关向下拉，右转向灯亮。



- A、正确
- B、错误

正确答案：B

分析：转向灯操作：上右下左。

10、以下选项中，定速巡航系统的英文缩写是什么？

- A、FCW
- B、CCS
- C、ACC
- D、ABS

正确答案：B

分析：定速巡航系统（英语：Cruise Control System）是安装在汽车中能够自动控制车辆行驶速度的装置。

11、这属于哪一类标志？



- A、警告标志
- B、指路标志
- C、指示标志
- D、禁令标志

正确答案：A

分析：黄色就代表警告，不用想

12、驾驶证审验内容不包括以下哪一项？

- A、道路交通安全违法行为、交通事故处理情况
- B、身体条件情况
- C、道路交通安全违法行为记分及记满 12 分后参加学习和考试情况
- D、机动车检验情况

正确答案：D

分析：驾驶证审验内容包括：道路交通安全违法行为、交通事故处理情况；身体条件情况；道路交通安全违法行为记分及记满 12 分后参加学习和考试情况。


13、交通信号包括交通信号灯、交通标志、交通标线和交通警察的指挥。

- A、正确
- B、错误

正确答案：A

分析：常识题，死记题。

14、如图所示，遇到车辆无法继续行驶的情况时，怎样按规定放置危险警告标志？



- A、在车后 50 米处放置警告标志
- B、在车后 50 米至 100 米处放置警告标志
- C、在车后 150 米以外放置警告标志
- D、根据道路交通情况在适当位置放置警告标志

正确答案：C

分析：机动车在高速公路上发生故障时，警告标志应当设置在故障车来车方向 150 米以外，车上人员应当迅速转移到右侧路肩上或者应急车道内，并且迅速报警。（注意：最安全的是车上人员应迅速转移至车辆右前方护栏外的安全地带。）

15、机动车驾驶人在一个记分周期内累积记分满 24 分未满 36 分的，在道路交通安全法律、法规和相关知识考试合格后即可发还机动车驾驶证。

- A、正确
- B、错误

正确答案：B

分析：《道路交通安全违法行为记分管理办法》第二十二条，机动车驾驶人在一个记分周期内二次累积记分满 12 分或者累积记分满 24 分未满 36 分的，应当在道路交通安全法律、法规和相关知识考试合格后，按照《机动车驾驶证申领和使用规定》第四十四条的规定预约参加道路驾驶技能考试。考试不合格的，十日后预约重新考试。

16、驾驶人的机动车驾驶证被依法扣留、暂扣的情况下不得驾驶机动车。

- A、正确

B、错误

正确答案：A

分析：没驾驶本了还怎么开车，逮住了就是无证驾驶。

17、机动车属于被盗抢骗的，不予办理注册登记。

A、正确

B、错误

正确答案：A

分析：《机动车登记规定》规定：有下列情形之一的，不予办理注册登记：（一）机动车所有人提交的证明、凭证无效的；（二）机动车来历证明被涂改或者机动车来历证明记载的机动车所有人与身份证明不符的；（三）机动车所有人提交的证明、凭证与机动车不符的；（四）机动车未经国务院机动车产品主管部门许可生产或者未经国家进口机动车主管部门许可进口的；（五）机动车的型号或者有关技术参数与国务院机动车产品主管部门公告不符的；（六）机动车的车辆识别代号或者有关技术参数不符合国家安全技术标准的；（七）机动车达到国家规定的强制报废标准的；（八）机动车被监察机关、人民法院、人民检察院、行政执法部门依法查封、扣押的；（九）机动车属于被盗抢骗的；（十）其他不符合法律、行政法规规定的情形。

18、驾驶人在观察后方无来车的情况下，未开转向灯就变更车道也是合理的。

A、正确

B、错误

正确答案：B

分析：没车也得开转向，基本的交通规则啊！

19、这个标志是何含义？



- A、右侧通行
- B、左侧通行
- C、向右行驶
- D、环岛行驶

正确答案：D

分析：环岛行驶：表示只准车辆靠右环行。此标志设在环岛面向路口来车方向适当位置。

20、年满 70 周岁的普通三轮摩托车驾驶人，应到车管所换领轻便摩托车的机动车驾驶证。

- A、正确
- B、错误

正确答案：A

分析：《机动车驾驶证申领和使用规定》规定：年龄在 70 周岁以上的，不得驾驶低速载货汽车、三轮汽车、轻型牵引挂车、普通三轮摩托车、普通二轮摩托车。持有普通三轮摩托车、普通二轮摩托车驾驶证的，应当到机动车驾驶证核发地或者核发地以外的车辆管理所换领准驾车型为轻便摩托车的机动车驾驶证；持有驾驶证包含轻型牵引挂车准驾车型的，应当到机动车驾驶证核发地或者核发地以外的车辆管理所换领准驾车型为小型汽车或者小型自动挡汽车的机动车驾驶证。

21、遇到图中所示前方车辆停车等待的情形，我方车应如何行驶？



- A、鸣喇叭催促蓝色小型客车前移
- B、依次在蓝色小型客车后停车等待
- C、向前直行至不能继续行驶为止
- D、穿插到蓝色小型客车前停车



正确答案：B

分析：车辆拥堵的路段，应该要依次排队等候。

22、以下哪个仪表表示燃油表



A、图 1

B、图 2

C、图 3

D、图 4

正确答案：D

分析：燃油表上有个加油站里的加油机的标志

23、在道路上遇到这种情况可以从两侧超车。



A、正确

B、错误

正确答案：B

分析：任何情况下都要记得，只能左侧超车。

24、申请准驾车型为残疾人专用小型自动挡载客汽车驾驶证的申请人，应当符合的年龄条件是多少？

A、18 周岁以上，无上限年龄

B、18 周岁以上 60 周岁以下

C、20 周岁以上 70 周岁以下

D、20 周岁以上 60 周岁以下

正确答案：A

分析：根据公安部交通管理局发布的新措施，自 2020 年 11 月 20 日起，申请小型汽车、小型自动挡汽车、轻便摩托车驾驶证 18 周岁以上，取消 70 周岁的年龄上限。对 70 周岁以上人员考领驾驶证的，增加记忆力、判断力、反应力等能力测试，保证身体条件符合安全驾驶要求。

25、驾驶校车、中型以上载客载货汽车、危险物品运输车辆以外的机动车在高速公路、城市快速路上行驶超过规定时速百分之五十以上的，一次记 6 分。

A、正确

B、错误

正确答案：B

分析：《道路交通安全违法行为记分管理办法》规定，机动车驾驶人有下列交通违法行为之一，一次记 12 分：（一）饮酒后驾驶机动车的；（二）造成致人轻伤以上或者死亡的交通事故后逃逸，尚不构成犯罪的；（三）使用伪造、变造的机动车号牌、行驶证、驾驶证、校车标牌或者使用其他机动车号牌、行驶证的；（四）驾驶校车、公路客运汽车、旅游客运汽车载人超过核定人数百分之二十以上，或者驾驶其他载客汽车载人超过核定人数百分之百以上的；（五）驾驶校车、中型以上载客载货汽车、危险物品运输车辆在高速公路、城市快速路上行驶超过规定时速百分之二十以上，或者驾驶其他机动车在高速公路、城市快速路上行驶超过规定时速百分之五十以上的；（六）驾驶机动车在高速公路、城市快速路上倒车、逆行、穿越中央分隔带掉头的；（七）代替实际机动车驾驶人接受交通违法行为处罚和记分牟取经济利益的。

26、在路口直行时，遇这种情形如何通行？



- A、让左方道路车辆先行
- B、让右方道路车辆先行
- C、直接加速直行通过
- D、开启危险报警闪光灯通行

正确答案：B

分析：三个先行原则：转弯的机动车让直行的车辆先行，右方道路来车先行，右转弯车让左转弯车先行。

27、驾驶技巧准考证证明的有效期是多久？

- A、1 年
- B、2 年
- C、3 年
- D、4 年

正确答案：C

分析：正确答案：C 驾驶技能准考证证明的有效期是 3 年，过期作废。


28、夜间驾驶车辆遇自行车对向驶来时，应怎样做？

- A、连续变换远、近光灯
- B、不断鸣喇叭
- C、使用远光灯
- D、使用近光灯，减速或停车避让

正确答案：D

分析：注意审题 是遇见自行车。 车让自行车 大让小 故选 D.

29、如图所示，驾驶这辆小型客车能否进入高速公路行驶？



- A、由取得该车型驾驶证的驾驶人随车指导可以进入
- B、由持该车型驾驶证 3 年以上驾驶人陪同允许进入
- C、取得准驾该车型驾驶证的驾驶人可以独立驾驶进入
- D、在高速公路收费人员许可的前提下通过收费口进入

正确答案：B

分析：如图所示车辆贴有“实习”标志，实习期驾驶人不可独自驾车上高速公路行驶。根据《机动车驾驶证申领和使用规定》第七十七条，驾驶人在实习期内驾驶机动车上高速公路行驶，应当由持相应或者包含其准驾车型驾驶证三年以上的驾驶人陪同。其中，驾驶残疾人专用小型自动挡载客汽车的，可以由持有小型自动挡载客汽车以上准驾车型驾驶证的驾驶人陪同。

30、驾驶人户籍迁出原车辆管理所应当向什么地方方的车辆管理所提出申请？

- A、迁出地
- B、居住地
- C、所在地
- D、迁入地

正确答案：D

分析：因为你要去下一个迁入地办理迁入手续，即申请更换。方便驾驶员不用去以前那个

车管所再办理手续，减少了办理程序，各车管所的信息是联网的。

31、机动车仪表板上（如图所示）亮时，表示什么？



- A、空气内循环
- B、侧面出风
- C、空气外循环
- D、迎面出风

正确答案：D

分析：直吹人脸表示迎面出风，垂直向下表示吹地板。

32、上道路行驶的机动车有哪种情形交通警察可依法扣留车辆？

- A、未携带身份证
- B、未放置检验合格标志
- C、未放置城市环保标志
- D、未携带机动车登记证书

正确答案：B

分析：未放置检验合格标志，未悬挂机动车号牌，未放置保险标志的，未携带机动车行驶证的都是可依法扣留车辆的。

33、非法安装警报器、标志灯具的，由公安机关交通管理部门\_\_\_\_\_，予以收缴，并处 200 元以上 2000 元以下罚款。

- A、扣留行驶证
- B、扣留驾驶证
- C、收缴号牌

D、强制拆除

正确答案：D

分析：根据《中华人民共和国道路交通安全法》第九十七条规定：非法安装警报器、标志灯具的，由公安机关交通管理部门强制拆除，予以收缴，并处二百元以上二千元以下罚款。

34、下列哪种情况可以向机动车驾驶证核发地车辆管理所申请补发？

A、驾驶证被扣押

B、驾驶证被扣留

C、驾驶证遗失

D、驾驶证被暂扣

正确答案：C

分析：驾驶证被扣留、扣押及暂扣都可再次取回，机动车驾驶证遗失、损毁无法辨认时，机动车驾驶人应当向机动车驾驶证核发地车辆管理所申请补发。

35、这种白色矩形标线框含义是什么？



A、出租车专用上下客车停车位

B、平行式停车位

C、倾斜式停车位

D、垂直式停车位

正确答案：B

分析：依道路平行停车都是平行停车位

36、看到图中所示道路信号灯不断闪烁时，表示机动车可以加速通过。



A、正确

B、错误

正确答案：B

分析：黄灯闪烁提示车辆注意减速，确认安全后缓慢通过。遇到此类黄灯时，需减速慢行。且机动车不能加速通过。

37、在道路上驾驶机动车与对向来车会车时，可以不注意两车横向间距。

A、正确

B、错误

正确答案：B

分析：在道路上驾驶机动车与对向来车会车时，要注意保持足够的安全横向间距，做到“礼让三先”，即先让、先慢、先停，并注意非机动车和来往行人。

38、安全文明行车是机动车驾驶员应当具备的基本素质要求。

A、正确

B、错误

正确答案：A

分析：根据《中华人民共和国道路交通安全法》第二十二条：机动车驾驶人应当遵守道路交通安全法律、法规的规定，按照操作规范安全驾驶、文明驾驶。

39、已取得驾驶小型汽车准驾车型资格多少年以上，可以申请增加中型客车准驾车型？

A、1

B、5

C、3

D、2

正确答案：D

分析：《机动车驾驶证申领和使用规定》规定，已持有机动车驾驶证，申请增加准驾车型的，应当在本记分周期和申请前最近一个记分周期内没有记满12分记录。申请增加轻型牵引挂车、中型客车、重型牵引挂车、大型客车准驾车型的，还应当符合下列规定：（一）申请增加轻型牵引挂车准驾车型的，已取得驾驶小型汽车、小型自动挡汽车准驾车型资格一年以上；（二）申请增加中型客车准驾车型的，已取得驾驶城市公交车、大型货车、小型汽车、小型自动挡汽车、低速载货汽车或者三轮汽车准驾车型资格二年以上，并在申请前最近连续二个记分周期内没有记满12分记录；（三）申请增加重型牵引挂车准驾车型的，已取得驾驶中型客车或者大型货车准驾车型资格二年以上，或者取得驾驶大型客车准驾车型资格一年以上，并在申请前最近连续二个记分周期内没有记满12分记录；（四）申请增加大型客车准驾车型的，已取得驾驶城市公交车、中型客车准驾车型资格二年以上、已取得驾驶大型货车准驾车型资格三年以上，或者取得驾驶重型牵引挂车准驾车型资格一年以上，并在申请前最近连续三个记分周期内没有记满12分记录。正在接受全日制驾驶职业教育的学生，已在校取得驾驶小型汽车准驾车型资格，并在本记分周期和申请前最近一个记分周期内没有记满12分记录的，可以申请增加大型客车、重型牵引挂车准驾车型。

40、如图所示，驾驶机动车在路口遇到这种信号灯亮时，应当确认安全后通过。



A、正确

B、错误

正确答案：A

分析：驾驶机动车通过有交通信号灯控制的交叉路口，绿灯亮时，注意观察确认安全后通过。

41、申请人以欺骗、贿赂等不正当手段取得机动车驾驶证的，公安机关交通管理部门收缴机动车驾驶证，撤销机动车驾驶许可，处二千元以下罚款。

A、正确



B、错误

正确答案：A

分析：《机动车驾驶证申领和使用规定》规定：申请人以欺骗、贿赂等不正当手段取得机动车驾驶证的，公安机关交通管理部门收缴机动车驾驶证，撤销机动车驾驶许可，处二千元以下罚款；申请人在三年内不得再次申领机动车驾驶证。

42、路面上导向箭头是何含义？



A、提示前方有左弯或需向左合流

B、提示前方有右弯或需向右合流

C、提示前方有障碍需向左合流

D、提示前方有左弯或需向左绕行

正确答案：B

分析：提示前方有右弯或需向右合流

43、遇到这种情况可以优先通行



A、正确

B、错误

正确答案：A

分析：这题图上前面有辆车过来。。有障碍的要让没障碍的先走，所以可以优先

44、记分满 12 分的驾驶人拒不参加学习和考试的将被公告驾驶证停止使用。

A、正确

B、错误

正确答案：A

分析：满了 12 分，还有最后一次机会，赶紧参加学习班吧，不然亏大了。

45、驾驶机动车在没有交通信号的路口要尽快通过。

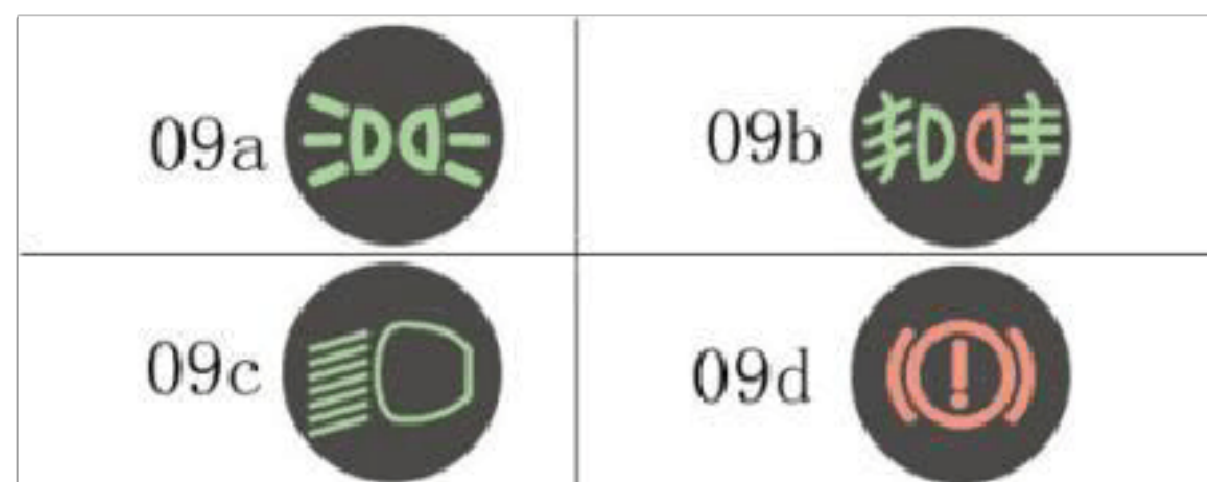
A、正确

B、错误

正确答案：B

分析：一定要注意观察，在通过啊，哪能尽快通过。

46、下列哪个指示灯亮表示车辆在使用近光灯？



A、9a

B、9b

C、9c

D、9d

正确答案：C

分析：A 是示宽灯，B 是雾灯，C 是近光灯，D 是驻车指示灯。

47、牵引发生交通事故的机动车时，最高车速不得超过多少？

A、20 公里/小时

B、30 公里/小时

C、40 公里/小时

D、50 公里/小时

正确答案：B

分析：《道路交通安全法实施条例》第四十六条，机动车行驶中遇有下列情形之一的，最高行驶速度不得超过每小时 30 公里，其中拖拉机、电瓶车、轮式专用机械车不得超过每小时 15 公里：1、进出非机动车道，通过铁路道口、急弯路、窄路、窄桥时；2、掉头、转弯、下陡坡时；3、遇雾、雨、雪、沙尘、冰雹，能见度在 50 米以内时；4、在冰雪、泥泞的道路上行驶时；5、牵引发生故障的机动车时。

48、驾驶人进入驾驶室前，首先要观察机动车周围情况，确认安全后再上车。

A、正确

B、错误

正确答案：A

分析：注意“进入驾驶室前”，也就是上车前。上车前，要从驾驶室车门外开始，逆时针绕车一周，检查车辆及周边情况，查看车底，车后有无异常情况，如玩耍的小孩，确认安全后再上车。因此本题做法正确。

49、机动车驾驶人造成重大交通事故后逃逸，构成犯罪的，十年内不能申请机动车驾驶证。

A、正确

B、错误

正确答案：B

分析：《交通法》第一百零一条：违反道路交通安全法律、法规的规定，发生重大交通事故，构成犯罪的，依法追究刑事责任，并由公安机关交通管理部门吊销机动车驾驶证。造成交通事故后逃逸的，由公安机关交通管理部门吊销机动车驾驶证，且终生不得重新取得机动车驾驶证。

以上内容仅为本文档的试下载部分，为可阅读页数的一半内容。如要下载或阅读全文，请访问：<https://d.book118.com/837031163026010004>