

## 2024年云南省第一次高中毕业生复习统一检测

# 文科综合能力测试

### 注意事项:

1. 答卷前,考生务必用黑色碳素笔将自己的学校、姓名、准考证号、考场号、座位号填写在答题卡上,并认真核准条形码上的学校、准考证号、姓名、考场号、座位号,在规定的位罝贴好条形码及填涂准考证号。
2. 回答选择题时,选出每小题答案后,用铅笔把答题卡上对应题目的答案标号涂黑。如需改动,用橡皮擦擦干净后,再选涂其它答案标号。回答非选择题时,将答案写在答题卡上。写在本试卷上无效。
3. 考试结束后,将本试卷和答题卡一并交回。

一、选择题:本题共35小题,每小题4分,共140分。在每小题给出的四个选项中,只有一项是符合题目要求的。

广州美妆产业最早可以追溯到1900年香港化妆品企业在广州开设的分厂。上世纪50~70年代,广州诞生了数家知名的化妆品公司。改革开放后,外资美妆企业通过与上海、厦门、汕头等地比较,最终选定在广州投资进行代工生产,广州由此诞生了众多原料加工、包装等上、下游相关企业。据此完成1~3题。

1. 外资美妆企业在广州投资建厂主要考虑的因素是
  - A. 政策优惠
  - B. 市场需求
  - C. 产业基础
  - D. 原料充足
2. 最初,外资美妆企业采用代工生产入驻广州的主要目的是
  - ①提高投产效率
  - ②降低企业风险
  - ③促进企业创新
  - ④提升企业影响
  - A. ①②
  - B. ①③
  - C. ②④
  - D. ③④
3. 外资美妆企业对广州美妆产业发展起到的主要作用是
  - A. 提供核心技术支持
  - B. 完善行业供应链体系
  - C. 优化当地营商环境
  - D. 规范行业发展的规则

近年来，上海市着力打造嘉定、青浦、松江、奉贤和南汇等五个新城，将其建设成为长三角城市群中具有辐射带动作用、不同于传统卫星城和新区的独立综合性节点城市。图1示意上海市五个新城分布，表1为五个新城居住人口的就业分布比例。据此完成4-6题。

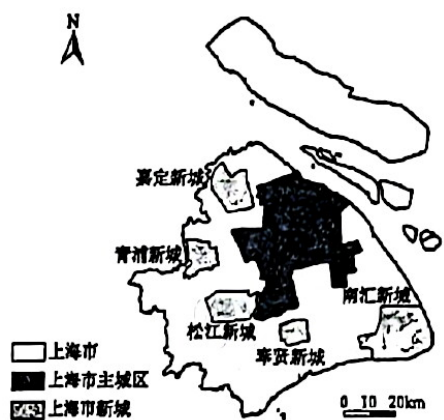


图1

居住 就业	嘉定 新城	青浦 新城	松江 新城	奉贤 新城	南汇 新城	主城区	其他区 域
嘉定新城	67.02	0.13	0.12	0.05	0.05	10.52	22.11
青浦新城	0.18	65.03	0.31	0.03	0.01	7.04	27.4
松江新城	0.14	0.29	64.92	0.09	0.45	11.92	22.19
奉贤新城	0.06	0.06	0.17	53.54	0.95	11.95	33.17
南汇新城	0.12	0.12	3.85	0.88	66.48	13.47	15.08
主城区	0.71	0.26	0.66	0.29	0.38	87.04	10.66

表1

4. 上海市建设新城的主要目的是
- A. 共享基础设施    B. 增加城市职能    C. 改善人居环境    D. 缩短出行时间
5. 五个新城中
- A. 嘉定居民在当地的就业比重最大    B. 青浦对居民的就业吸引力最弱
- C. 南汇居民市内平均通勤距离最短    D. 奉贤、松江居民与主城区联系最密切
6. 下列符合上海独立综合性节点城市发展方向的是
- A. 打造城郊休闲农业中心    B. 承接主城区过剩产能
- C. 培育特色优势产业集群    D. 大力增加住宅区面积

断层活动形成断层崖后，受河流切割作用会形成断层三角面。经多次地壳运动，断层崖往往形成多级断层三角面，图2示意我国某山坡断层三角面分布。据此完成7~8题。



图2

- 7: 形成时间最早的断层三角面是
- A. 一级三角面                                B. 二级三角面  
 C. 三级三角面                                D. 四级三角面
8. 图中断层三角面发育过程中
- ①断层线不可能与断层三角面底线重合  
 ②断层三角面的成因与河口三角洲一致  
 ③该地有可能存在河流的溯源侵蚀  
 ④断层三角面的坡度逐渐减小
- A. ①②                                B. ③④                                C. ①④                                D. ②③

桉树具有生长快、产出木材多、适应性强等诸多优点。广东省电白县某小尺度区域，地貌类型单一，1954年开始高密度种植桉树，林内没有其它植被，凋落物少，表层土壤易板结。之后逐渐更新为结构复杂的混交林，具有多层林冠的特点。这些人工林在生态环境方面取得较好的效果，同时也使区域自然要素产生了变化。图3示意该地某年9月纯桉林、混交林、无林地(杂草多)三种植被环境的土壤含水量变化。据此完成9~11题。

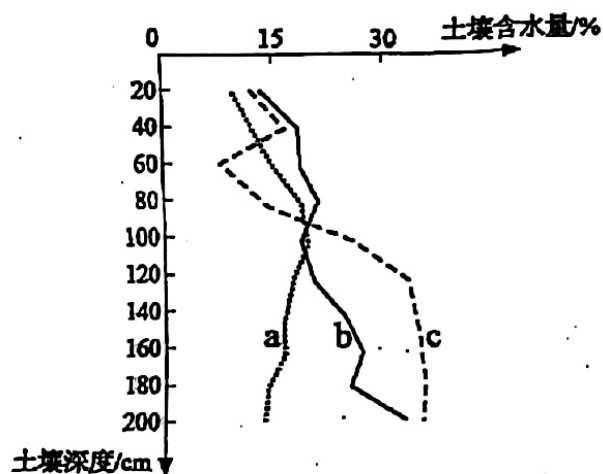


图3

9. 图中 a、 b、 c 分别代表
- A. 无林地 混交林 纯桉林                                B. 纯桉林 无林地 混交林  
 C. 无林地 纯桉林 混交林                                D. 纯桉林 混交林 无林地
10. 纯桉林和混交林土壤表层含水量存在差异，原因分析正确的是。
- A. 纯桉林林冠蒸腾量大，含水量低  
 B. 混交林凋落物数量多，含水量低  
 C. 纯桉林土壤表层板结度高，含水量高  
 D. 混交林林冠截流的降水多，含水量高
11. 高密度种植桉树后该地土壤的变化是
- A. 淋溶层增厚                                B. 表层易沙化  
 C. 矿物质增多                                D. 团粒结构增多

12.

只有在革命中才能抛掉自己身上的一切陈旧的肮脏东西，才能胜任重建社会的工作。

——马克思

◇脸是应该经常洗的，不洗也就会灰尘满面。我们同志的思想，我们党的工作，也会沾染灰尘的，也应该打扫和洗涤。——毛泽东

不犯错误的党，不犯错误的人，不犯错误的领导是没有的，问题在于及时总结经验，用批评与自我批评的精神检查工作。——邓小平

自我革命就是不断清除侵蚀党的健康肌体的病毒。

以上论断

- ①阐明了人民立场是马克思主义政党的根本立场
- ②强调了马克思主义政党应不断地进行社会革命
- ③体现了坚持自我革命是马克思主义政党与生俱来的政治品质
- ④阐述了自我革命是不同历史时期对马克思主义政党的共同要求

A. ①②                      B. ①④                      C. ②③                      D. ③④

13. 习近平新时代中国特色社会主义思想是一个系统完整、逻辑严密、相互贯通的思想理论体系，从理论和实践层面丰富和发展了科学社会主义，不断深化关于党的理论创新的规律性认识，把马克思主义中国化时代化推进到一个新的理论高度。可见，习近平新时代中国特色社会主义思想

- ①是在把握内在联系中不断推进理论体系化、学理化的成果
- ②充分彰显了马克思主义的科学性和真理性、开放性和时代性
- ③开创全面改革开放新局面，成功把中国特色社会主义推向二十一世纪
- ④把坚守马克思主义的魂和中华优秀传统文化的根作为理论创新的基础

A. ①②                      B. ①④                      C. ②③                      D. ③④

14. 2023 年中央经济工作会议指出，有效需求不足是进一步推动经济回升向好需要克服的困难和挑战之一。以下传导路径能有效解决该问题的是

- ①增强科技创新→推动新质生产力加快发展→创造新的需求
- ②加大消费的金融支持力度→提高存贷款利率→优化消费结构
- ③实施减税降费→降低小微企业生产成本→释放企业过剩产能
- ④打造“投资中国”品牌→发挥“双循环”作用→激发消费活力

A. ①②                      B. ①④                      C. ②③                      D. ③④

15. 从 2023 年 10 月起，云南省调整全省各地月最低工资标准。调整情况如下：

月最低工资标准(调整前)			月最低工资标准(调整后)		
一类地区	二类地区	三类地区	一类地区	二类地区	三类地区
1900	1750	1600	1990	1840	1690

这一调整

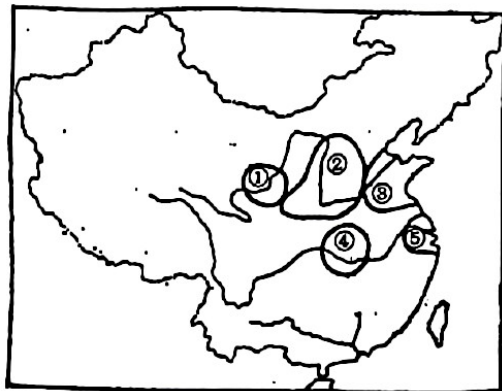
- ①是政府通过再分配手段调节居民收入的重要举措
- ②充分发挥最低工资标准在薪酬体系中的托底作用
- ③旨在提高社会福利，构建公平和谐稳定的劳动关系
- ④有利于改善民生，让低收入劳动者共享发展成果

A. ①②                      B. ①③                      C. ②④                      D. ③④

16. 按照党中央、国务院决策部署，国家发改委同有关部门提出建设社区嵌入式服务设施，让养老托育、社区助餐、家政便民等群众急需紧缺的服务走进社区，不断完善社区功能，让社区真正做到为民、便民、安民。材料表明
- ①党的领导是加强基层治理的根本政治保证
  - ②政府权限下沉到社区，提升社区自治能力和水平
  - ③政府坚持以人民为中心，指导社区提高服务效能
  - ④社区作为基层群众性自治组织，享有自主管理权限
- A. ①②                      B. ①③                      C. ②④                      D. ③④
17. 2023 年，全国人大常委会完善合宪性审查程序机制，依法对所有提请本届常委会审议的法律案进行合宪性审查，按照有件必备、有备必审、有错必纠的要求，对报送备案的 1319 件法规、司法解释等规范性文件开展主动审查，对公民、组织提出的 2827 件审查建议逐一进行研究。全国人大常委会完善合宪性审查程序机制旨在
- ①加强制度机制建设，规范立法活动
  - ②维护国家法治统一，彰显宪法权威
  - ③加强人大执法监督，监督宪法实施
  - ④开展普法宣传工作，增强法治意识
- A. ①②                      B. ①④                      C. ②③                      D. ③④
18. 2024 年阿布扎比国际艺术节上，中国贺岁芭蕾舞剧《过年》以欢快的乐曲开场，糖葫芦、抽陀螺……热闹的庙会场景，令观众宛如置身现场。该剧将中国传统文化与西方的芭蕾艺术相结合，展现了中国新年的文化传统和喜庆氛围，深受阿布扎比人民喜爱。该剧的成功得益于
- ①丰富文化内涵，促进中华优秀传统文化与科技融合
  - ②立足社会实践，推动中华优秀传统文化创新性发展
  - ③加强交流互鉴，掀起中阿两国人文交流合作新高潮
  - ④融通不同资源，充分吸收和借鉴外来优秀文化成果
- A. ①③                      B. ①④                      C. ②③                      D. ②④
19. 新疆深居内陆，曾经是一片海洋，有些地表盐湖的水质与海水水质接近，这为“内陆海洋”养殖提供了适合的土地和水源。今天，人们通过技术手段调配出适合海鲜养殖的人工海水，使内陆海鲜养殖取得成功。由此可知
- ①实践活动具有客观物质性和社会历史性
  - ②正确发挥主观能动性能够更好地认识和改造世界
  - ③人们可以根据海鲜养殖需要建立事物新的具体联系
  - ④坚持实践观点是正确解决内陆海鲜养殖矛盾的关键
- A. ①②                      B. ①④                      C. ②③                      D. ③④

20. 涉外法治是国家以法治的方式参与国际事务和全球治理的重要实践。习近平总书记在中共中央政治局第十次集体学习时强调，加强涉外法治建设既是以中国式现代化全面推进强国建设、民族复兴伟业的长远所需，也是推进高水平对外开放、应对外部风险挑战的当务之急。加强涉外法治建设
- ①将改变全球治理机制，以国际良法促进全球善治
  - ②有利于坚定法治自信，维护国家主权、安全和发展利益
  - ③是统筹国内国际两个大局，推进高水平对外开放的要求
  - ④根本目的是用法治方式维护国家间的共同利益，促进合作共赢
- A. ①③                      B. ①④                      C. ②③                      D. ②④
21. 2023 年我国外贸“成绩单”出炉。从产品结构看，“新三样”(电动载人汽车、锂离子蓄电池和太阳能蓄电池)产品出口增长 29.9%；从业态看，跨境电商进出口增长 15.6%；从主体看，有进出口实绩的外贸主体达到 64.5 万家，创历史新高；从市场看，贸易伙伴多元共进。据此可以推断
- ①中国外贸持续向好，国际经贸合作空间广阔
  - ②中国出口份额保持高位，出口竞争力继续领先全球
  - ③中国跨境电商发展快速，拉动经济增长的基础作用凸显
  - ④中国外贸企业优势不断积累，企业进出口信心持续提升
- A. ①③                      B. ①④                      C. ②③                      D. ②④
22. 周某在小区内骑行电动车时差点与在小区内散步的武某相撞，武某受到惊吓倒地，医生诊断为右手手臂骨折。周某与武某就赔偿问题未能达成一致，武某将周某诉至法院。法院审理后一审判决周某赔偿武某医疗费、误工费等共计 4 万元。本案中
- ①武某提交的医院诊断证明属于物证
  - ②当事人均有委托诉讼代理人权利
  - ③周某与武某之间的民事法律关系的客体是行为
  - ④若周某不服一审判决，可在 15 日内提出上诉
- A. ①③                      B. ①④                      C. ②③                      D. ②④
23. 同学们在学习了逻辑学后发现，合乎逻辑的思维不但有一定的形式，而且也要遵循一定的规则。以下分析对应正确的是
- ①成绩下滑，或者是由于学习状态不好，或者是由于知识掌握不全面——这是一个相容选言判断
  - ②成语“为山九仞，功亏一篑”——强调要掌握适度原则，把握事物发展过程中的渐进性与飞跃性
  - ③如果明天不下雨，她们就去逛街，第二天下雨了，所以她们一定没去逛街——遵循了充分条件假言推理的规则
  - ④抢劫是犯罪行为，贩毒不是抢劫，所以贩毒不是犯罪行为——犯了“大项不当扩大”的错误
- A. ①③                      B. ①④                      C. ②③                      D. ②④

24. 下图为龙山时代(前 2600 年~前 2000 年左右)考古学五大文化分布图。据此可知, 这一时代



- A. 各文化区社会发展水平差距大      B. 文明曙光最早出现在中原地区  
 C. 华夏文明的主要区域已经形成      D. 部落联盟完成向君主政权转化
25. 西汉末年, 中央集权逐渐削弱, 国力日益衰減, 官僚机构日趋腐化。大官僚、大地主和大商人三者结成密不可分的整体。该现象
- A. 与盐铁专营政策有直接关系      B. 最终导致西汉政权的瓦解  
 C. 促使政府实行重农抑商政策      D. 可佐证王莽改制成效有限
26. 唐时有“杏园宴”的活动, 主要内容是探花, 即同一榜进士中选出两位, 称作两街探花使, 让他们骑马遍游长安城内外名园, 摘取名花。这反映出
- A. 明经和进士两科最受关注      B. 制度设计影响社会习俗  
 C. 科举制蜕变助长奢靡之风      D. 世人接受社会变迁现实
27. 康熙年间, 台湾多次纂修府志。府志中记载了平台有功的将领, 并载明“凡所建置, 皆因人情而宜土俗”: “二十余年沐圣天子深仁厚泽, 置郡县、定营制、启文明, 士读农耕、商怀工集”等。台湾府志的纂修
- A. 申明了台湾与中央政府隶属关系      B. 规划了台湾与内地统一建制原则  
 C. 系统介绍了台湾地区的社会风貌      D. 记录了台湾社会制度巨变的历程
28. 右下图是一张纪念照, 留影者在照片背后写道: “壬子秋八月, 将欲剪发, 故用大镜照后影, 以留纪念。八月初三日即新历九月十三日拍于劝业场楼上之丽芙照像馆。”从留影者的做法和心境, 可以发现

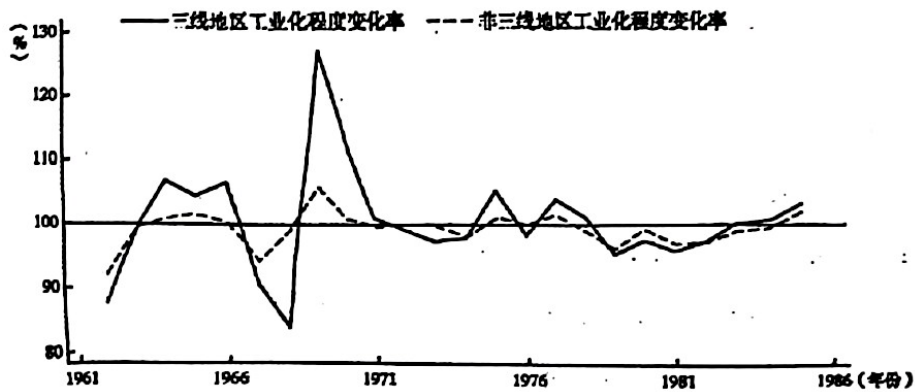
- A. 变革与传统的复杂联系  
 B. 革命与改良的艰难取舍  
 C. 潮流与逆流的反复斗争  
 D. 先进与落后的激烈碰撞



29. 中国共产党通过征粮调查运动，合理分配了民众的公粮负担。贫农负担占收入的5%~12%，中农负担占收入的9%~20%，富裕中农负担占收入的17%~20%，富农负担占收入的21%~30%，地主负担占收入的25%~30%。这一做法

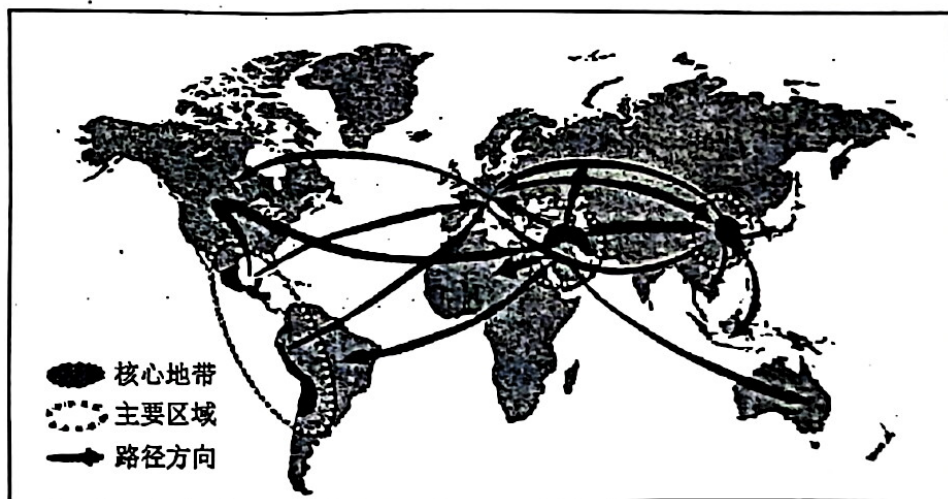
- A. 巩固了苏维埃政权的经济基础
- B. 保障了解放区的粮食供应
- C. 是新民主主义革命理论的实践
- D. 拓宽了根据地的财政来源

30. 导致下图中三线地区工业化程度变化率急剧波动的主要原因是



- A. 发展道路的探索
- B. 经济政策的重置
- C. 社会矛盾的激化
- D. 国际局势的严峻

31. 下图最有可能呈现的是



- A. 农业起源地及其农作物外传
- B. 新航路开辟后全球资本流动
- C. 工业革命后商品原料的交换
- D. 经济全球化下劳动力的转移



32. 史学家莫克尔在考察工业革命期间需求增长的相关证据时，收效甚微。他发现需求增长对于工业增长产生明显刺激作用的唯一案例，是棉制品行业：对于棉制品的需求增长，推动了人们千方百计地提高该行业的产量。材料说明
- A. 工业革命的历史意义需要重估
  - B. 工业革命的历史研究逐渐深入
  - C. 工业革命的首要起因已经确定
  - D. 工业革命仅带动部分行业增长
33. 1848年马克思指出：“你们也许认为生产咖啡和砂糖是西印度的自然禀赋吧。二百年以前，跟贸易毫无关系的自然界在那里连一棵咖啡树、一株甘蔗也没有生长出来。也许不出五十年，那里连一点咖啡、一点砂糖也找不到了，因为东印度正以其更廉价的生产得心应手地跟西印度虚假的自然禀赋作竞争。”由此可知，马克思
- A. 阐明经济作物种植要适应自然条件
  - B. 强调亚非拉争取独立的艰巨性
  - C. 揭示资本主义扩张主导了国际分工
  - D. 号召全世界无产阶级走向联合
34. 1853年，日本幕府解除了始自1635年的“大船建造禁止令”，称“观当今之形势，知大船之必要。故自今日始，诸大名可造大船。然制造工法、使用目的及制造数量等尚需奏请”。这说明当时日本
- A. 明确对外扩张的战略意图
  - B. 尝试改变传统的锁国体制
  - C. 回应变法自强的时代诉求
  - D. 欲融入资本主义经济体系
35. 1923~1927年间，因粮食收购价格低，苏联商品粮的平均收购量还远低于战前。要刺激农民多交商品粮，当时最有效的办法是给农民提供更多的工业品，然而落后的工业生产能力无法完成这一任务。20世纪20年代中后期，苏联开展工业化；但相对薄弱的农业基础，对工业化形成一定程度的掣肘。全面了解苏联这一时期的历史情况，可认识到
- A. 固定的建设模式影响了工农业的协调
  - B. 经济目标的实现基于对客观规律尊重
  - C. 国家调控是解决一切问题的有效方法
  - D. 特殊的国情需要探索特殊的发展道路

二、非选择题：本题共 9 小题，共 160 分。

36. 阅读图文材料，完成下列要求。(26 分)

比雷埃夫斯港(图 4)三面环山，距首都雅典 9 千米，但距欧洲的经济重心 1900 多千米，为希腊最大港口。2008 年比雷埃夫斯港濒临破产，之后中国企业接管该港并获得经营权，投资超 40 亿元，通过改扩建港口、更新设备、引进管理和技术人才等措施，逐步形成了集装箱码头、邮轮码头、渡轮码头、汽车码头、物流仓储、修船造船等业务板块。2014 年，依托该港，中欧陆海快线开通，极大缩短了亚洲与欧洲的联运距离。目前该港已成为中国远洋集装箱船从亚洲向欧洲出口的转运枢纽和地中海第一大港。

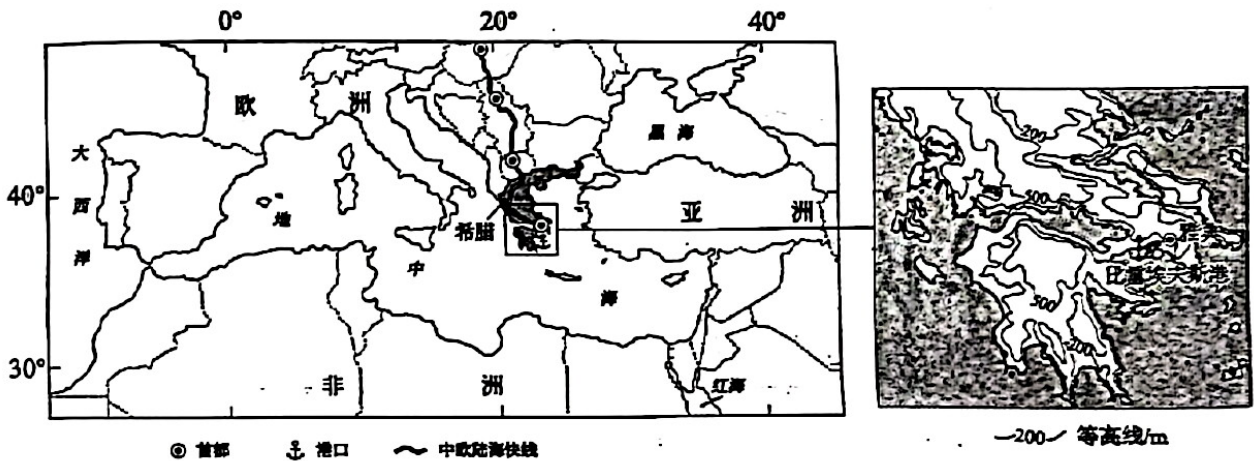


图 4

- (1) 简述比雷埃夫斯港地理位置的重要性。(6 分)
- (2) 从地理角度分析比雷埃夫斯港曾经面临破产的主要原因。(8 分)
- (3) 说明中国企业参与比雷埃夫斯港建设经营的理由。(6 分)
- (4) 简述比雷埃夫斯港改造建设多种业务板块的积极意义。(6 分)

以上内容仅为本文档的试下载部分，为可阅读页数的一半内容。如要下载或阅读全文，请访问：<https://d.book118.com/845042234322011321>