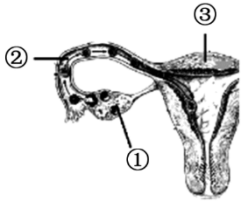


江苏省泰州市海陵重点名校 2024 届中考生物全真模拟试题

请考生注意：

1. 请用 2B 铅笔将选择题答案涂填在答题纸相应位置上，请用 0.5 毫米及以上黑色字迹的钢笔或签字笔将主观题的答案写在答题纸相应的答题区内。写在试题卷、草稿纸上均无效。
2. 答题前，认真阅读答题纸上的《注意事项》，按规定答题。

1、如图为女性生殖系统部分结构示意图。下列说法不正确的是（ ）



- A. 人产生卵细胞并分泌雌性激素的是①
- B. 受精卵的形成场所是②
- C. 怀孕是指受精卵植入③的内膜的过程
- D. ③是胚胎和胎儿发育的场所

2、下列关于健康生活的知识和技能的叙述，正确的是（ ）

- A. 体格健壮，身体没病的人就是健康的人
- B. 学会与人相处，维持良好的人际关系也能促进健康
- C. OTC 表示处方药，必须凭处方才可以购买，并按医嘱服用
- D. 发现煤气中毒者，应首先拨打 120 急救电话，再关闭气源并将病人转移至通风处

3、从一个细胞到婴儿的出生，母亲历经艰辛孕育着生命，这奇妙的生命历程是（ ）

- A. 受精卵→胚泡→胚胎→胎儿
- B. 受精卵→胚泡→胎儿→胚胎
- C. 卵细胞→胚胎→胚泡→胎儿
- D. 受精卵→胎儿→胚胎→胚泡

4、下列是单细胞真菌的是（ ）

- A. 酵母菌
- B. 蘑菇
- C. 木耳
- D. 青霉

5、以下选项中，属于积极的休息方式是（ ）

- A. 体力劳动后进行体育运动（如跑步）
- B. 下棋后打扑克
- C. 学习后唱歌
- D. 打完篮球后踢足球

6、以下动物的行为，属于学习行为的是（ ）

- A. 刚出生的小袋鼠爬到母袋鼠腹部的育儿袋中吃奶
- B. 黑猩猩钓取白蚁
- C. 菜青虫总是只取食白菜等十字花科植物
- D. 失去雏鸟的红雀喂养金鱼

7、植物、动物、细菌、真菌.....这些形形色色的生物，就像一座座神秘的宝库，吸引着人们去探索 and 发现，去揭开生物界的奥秘，下列有关它们的说法正确的是（ ）

- A. 所有的植物细胞中都含有线粒体和叶绿体
- B. 动物细胞不具有细胞壁、叶绿体，通常也没有液泡
- C. 生活中我们经常会遇到真菌中的霉菌使食品发霉变质的情形，所以真菌都是有害的
- D. 人们在生产中常利用乳酸菌将葡萄糖转化成酒精用于酿酒

8、北京周边地区的森林植被类型是（ ）

- A. 热带雨林
- B. 落叶阔叶林
- C. 寒温带针叶林
- D. 温带荒漠

9、鸟类的特征中，与飞翔生活无直接关系的是()。

- A. 长骨中空，充满空气
- B. 胸骨上有发达的胸肌
- C. 有气囊，可辅助
- D. 有坚硬的喙，生殖为卵生

10、人体呼吸系统的主要器官是（ ）

- A. 气管
- B. 喉
- C. 肺
- D. 咽

11、正常人每分钟脉搏的次数应等于()

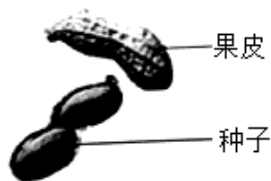
- A. 血压值
- B. 心输出量
- C. 心率
- D. 每搏输出量

12、血吸虫病、H7N9 患者、艾滋病病毒 (HIV)、注射抗蛇毒血清分别属于

①病原体 ②传染源 ③传染病 ④易感人群 ⑤抗体

- A. ③②①⑤
- B. ②③①⑤
- C. ④①②⑤
- D. ⑤②④①

13、如图是花生果实的部分结构，据此可判断花生属于（ ）



- A. 苔藓植物
- B. 蕨类植物
- C. 裸子植物
- D. 被子植物

14、下列不属于生态系统的是（ ）

- A. 一片农田
- B. 一块草地
- C. 生物圈
- D. 河中的一条鱼

15、下列生物的发育过程与家蚕相同的是（ ）

- A. 青蛙
- B. 蜜蜂
- C. 蝗虫
- D. 螳螂

16、新鲜水果用保鲜薄膜包裹或放入冰箱冷藏室可延长存放时间，主要是因为包裹或冷藏后可以（ ）

- A. 不让水分散失
- B. 杀死内部的细菌
- C. 减少水果果皮损伤
- D. 抑制呼吸作用

17、某同学患有近视眼，下面叙述中与近视眼无关的是

- A. 眼球的前后径过长
- B. 晶状体曲度过大
- C. 配戴凹透镜进行矫正
- D. 形成的物象落到视网膜的后方

18、农药使用一段时间后，杀虫效果下降。用达尔文进化论观点解释此现象，说法正确的是（ ）

- A. 具有抗药性的害虫繁殖能力更强
- B. 抗药性强的害虫食量更大，更利于生存
- C. 农药使害虫产生抗药性变异
- D. 害虫抗药性增强，是农药选择的结果

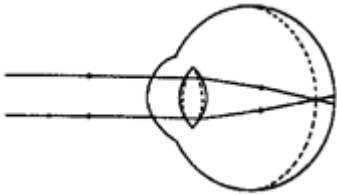
19、下列关于生物生殖和发育的说法，不正确的是（ ）

- A. 用嫁接的方式可实现同一棵桃树上结出不同口味的桃子
- B. 鸟卵在适宜的条件下都可以孵化出雏鸟
- C. 毛毛虫长大后变成美丽的蝴蝶要经过蛹期
- D. 青蛙的生殖和幼体的发育必须在水中

20、遗传病会给家庭、社会造成极大不幸，下列措施中不能预防遗传病发生的是（ ）

- A. 禁止近亲结婚
- B. 婚前检查
- C. 遗传咨询
- D. 吃保健药

21、医生为某同学的眼球作了如图所示的成像原理图解，下列解释不正确的是（ ）



- A. 看远处物体时，物像落在视网膜的前面
- B. 眼球的前后径过长或晶状体的曲度过小
- C. 需配戴凹透镜加以矫正
- D. 物体反射光依次经过角膜、晶状体、玻璃体到达视网膜

22、下列属于病毒特征的是（ ）

- ①不能独立生活
- ②由蛋白质外壳和内部的遗传物质组成
- ③有细胞结构
- ④无细胞结构
- ⑤进行分裂生殖。

- A. ①②③
- B. ①②④
- C. ②③⑤
- D. ①④⑤

23、人体呼吸时，氧气进入血液的最合理的解释是()。

以上内容仅为本文档的试下载部分，为可阅读页数的一半内容。如要下载或阅读全文，请访问：<https://d.book118.com/845132033134011221>