

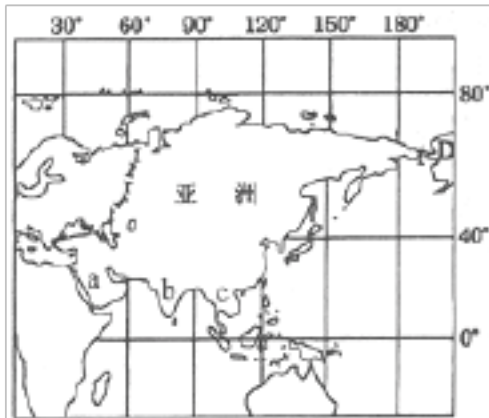
人教版七年级地理下册 第六章 我们生活的大洲-亚洲

6.2 自然环境 同步测试题

学校：_____ 班级：_____ 姓名：_____ 考号：_____

一、选择题（本题共计 30 小题，每题 2 分，共计 60 分，）

1. 读“亚洲范围略图”，判断下列说法正确的是（ ）

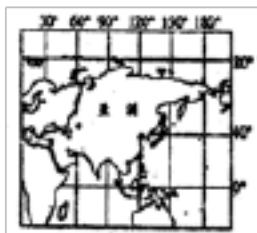


- A. 亚洲地形以平原为主，高原和山地面积较小
- B. 图中a、b、c三处是亚洲人口最稠密的地区
- C. 亚洲分布范围最广的气候类型是温带季风气候
- D. 亚洲地跨热带、温带和寒带，是世界上跨纬度最广的大洲

2. 下列对亚洲“世界之最”描述错误的是（ ）

- A. 人口最多的大洲
- B. 跨纬度最广大大洲
- C. 面积最大的大洲
- D. 跨经度最多的大洲

3. 读世界部分地区简图，回答(1)~(4)题。（ ）




(1)对亚洲地理位置的叙述，正确的是（ ）

- A. 全部位于热带和温带
- B. 全部都位于北半球
- C. 全部位于东半球
- D. 跨寒、温、热三个温度带

4. 亚洲主要位于南北半球中的（ ）半球，东西半球中的（ ）半球。

- A. 南、东
- B. 南、西
- C. 北、西
- D. 北、东

5. 读“亚洲大陆沿30°N的地形剖面图”，该图反应了亚洲（ ）



- A.地形以平原为主
- B.地面起伏大，高低悬殊
- C.山地，平原分布于沿海地区
- D.地势中部高，四周低

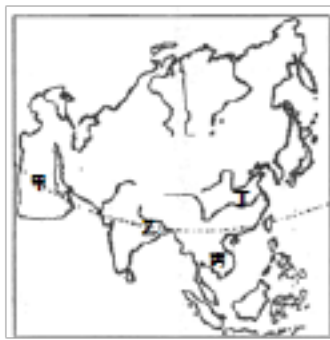
6. 亚洲有世界上最大的湖泊，该湖泊是（ ）

- A.里海
- B.贝加尔湖
- C.黑海
- D.苏必利尔湖

7. 关于亚洲人类文明发祥地的共同特征叙述，不正确的是（ ）

- A.温带或热带气候
- B.以丘陵为主的地形
- C.丰富的水源
- D.肥沃的土地

8. 读“亚洲示意图”，回答(1) ~ (2)题



(2)亚洲河流呈放射状流向周边海洋的主要原因是（ ）

- A.发源于亚洲南部，呈向心状流入中部海洋
- B.发源于亚洲中部，呈放射状流入周边海洋
- C.发源于亚洲东部，自东向西流入太平洋
- D.发源于亚洲北部，自北向南流入北冰洋

9. 有关亚洲地形特征的说法，正确的是（ ）

- A.亚洲是世界上海拔最高的大洲
- B.亚洲地面起伏平缓，以平原为主
- C.亚洲地势中间高，四周地，以高原、山地为主
- D.亚洲地势西北高、东北低

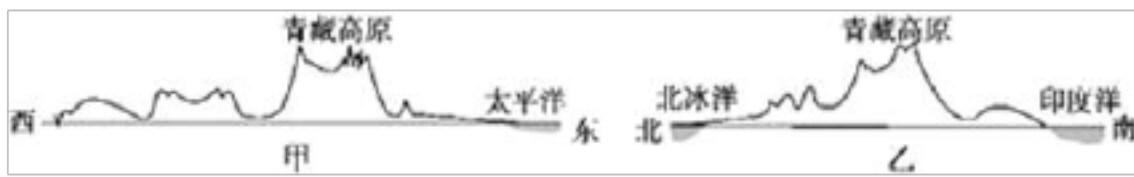
10. 下列有关亚洲地形特征的叙述，正确的是（ ）

- A.地形以平原为主
- B.有世界陆地最低点-里海
- C.有世界上最大的平原-西西伯利亚平原
- D.有世界上海拔最高的高原——青藏高原

11. 关于亚洲的叙述不正确的是（ ）

- A.亚洲的各种气候中季风气候分布最广，其外流区面积广大
- B.亚洲地势中间高，四周低，河流呈放射状分布
- C.亚洲气候复杂多样，没有温带海洋气候
- D.受地形地势影响，湄公河自北向南流，叶尼塞河自南向北流

12. 亚洲中部雄踞着世界上最高的高原—青藏高原，许多大江大河都从那里发源，奔流入海。如图中，甲、乙两图分别为亚洲大陆沿30°N纬线和80°E经线所作的地形剖面示意图，亚洲的地势特点是（ ）



- A. 中部高，四周低
B. 中部低，四周高
C. 南部高，北部低
D. 东部高，西部低

13. 亚欧大陆面积达5000多万平方千米，地理环境复杂，自然景观各异，读亚洲部分地区气候分布图，回答：图中①~⑤地气候产生差异的主要因素是（ ）



- A. 海陆位置
B. 经度位置
C. 纬度位置
D. 海拔高度

14. 南亚水旱灾害频繁的根本原因是（ ）

- A. 东北季风不稳定
B. 西南季风不稳定
C. 植被遭到严重破坏
D. 水利设施不健全

15. 亚洲气候的叙述正确的是（ ）

- A. 气候复杂多样，包括世界上所有的气候类型
B. 亚洲大陆内部沙漠广布是由于人口太多
C. 亚洲气候的大陆性特征显著
D. 亚洲的西部和东部季风气候都显著

16. 亚洲气候类型中，面积最大的是（ ）

- A. 亚热带季风气候
B. 热带季风气候
C. 温带季风气候
D. 温带大陆性气候

17. 关于亚洲湖泊的说法正确的是（ ）

- A. 贝加尔湖是世界上最大的淡水湖
B. 咸海是世界上最大的咸水湖
C. 死海是世界上湖面海拔最低的湖泊
D. 里海是一半咸水一半淡水的湖泊

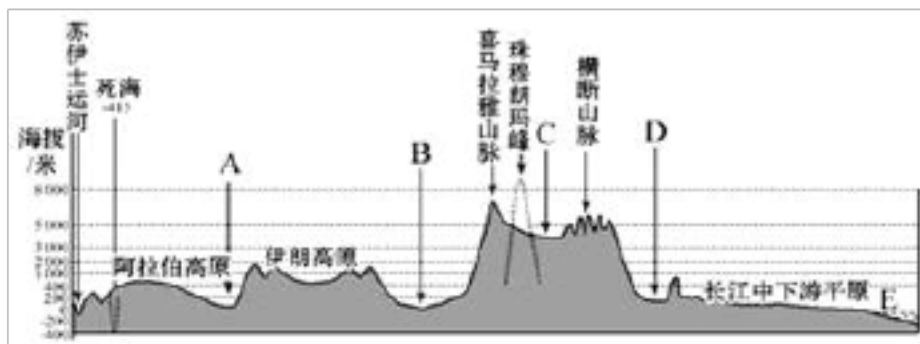
18. 亚洲气候类型复杂多样，但下列在亚洲没有分布的气候类型是（ ）

- A. 地中海气候
B. 热带沙漠气候
C. 热带草原气候
D. 温带海洋性气候

19. 关于南亚地形和河流的叙述，正确的是（ ）

- A. 南亚北部是喜马拉雅山脉，中部是恒河、印度河平原，南部是德干高原
- B. 南亚地势北高南低，由北向南倾斜
- C. 印度河源于喜马拉雅山脉，在印度境内注入孟加拉湾
- D. 恒河冲积形成恒河平原，自东向西注入阿拉伯海

20. 读亚洲大陆沿北纬30°的地形剖面图，回答（1）~（3）题。



（1）该图反映亚洲地势东西方向变化的特点是（ ）

- A. 西部高，东部低
- B. 中间高，东西两侧低
- C. 东西低，南北高
- D. 东西低，南北高

（2）受地势影响，亚洲河流（ ）

- A. 呈放射状流向周边的海洋
- B. 呈环状围绕着青藏高原
- C. 呈放射状从四周流向中心
- D. 由东向西流

（3）图中C处的高原是世界上最高的高原（ ）

- A. 伊朗高原
- B. 青藏高原
- C. 蒙古高原
- D. 中西伯利亚高原

21. “我们亚洲，山是高昂的头，我们亚洲，河像热血流...”听到这首《亚洲雄风》的歌曲，我们的脑海中会涌现出亚洲山河的壮丽画卷。据此回答（1）~（4）题。

（1）下列有关亚洲的叙述，正确的是（ ）

- A. 亚洲是世界上跨经度最多、面积最大的大洲
- B. 亚洲地形以平原为主
- C. 世界上各种气候类型在亚洲都有分布
- D. 亚洲地跨寒、温、热三带

（2）下列关于亚洲地理位置的叙述，正确的是（ ）

- A. 亚洲西临大西洋，东临太平洋，南临印度洋
- B. 亚洲大部分位于北温带
- C. 亚洲西北隔苏伊士运河，与非洲相望
- D. 亚洲全部位于东半球、北半球

（3）“我们亚洲，山是高昂的头...”，歌词中的山应该指世界最高山峰，她是（ ）

- A. 昆仑山
- B. 天山
- C. 喜马拉雅山
- D. 阿尔泰山

- (4) 歌词中，“我们亚洲，河像热血流...”，亚洲第一，世界第三的大河是（ ）
- A.恒河 B.长江 C.黄河 D.印度河

22. 下列有关亚洲自然地理特征的叙述中，正确的是（ ）
- A.以高原高山为主，世界上的主要高原都位于亚洲
- B.世界上的陆地最高点和最低点都在亚洲
- C.大河全部发源于中部高山地带，流入太平洋和印度洋
- D.湖泊分布广泛，淡水湖主要分布在中部地区

23. “我们亚洲，山是高昂的头，河像热血流，莽原（指草长得繁密茂盛的原野）缠玉带；亚洲风乍起，亚洲雄风震天吼。”歌词中蕴藏着亚洲重要地理事物特征。歌词中提到的自然地理环境要素有（要求选全）（ ）

- A.地形
- B.地形、河流
- C.地形、河流、气候
- D.地形、河流、气候、植被

24. 关于亚洲和欧洲的说法，错误的是（ ）

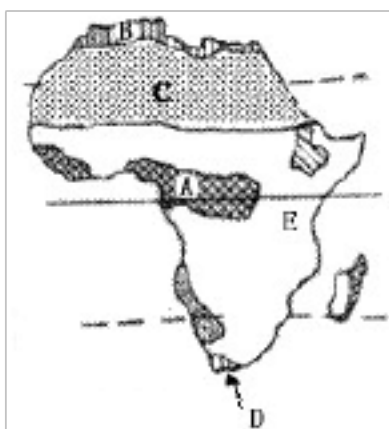
- A.欧洲是世界上平均海拔最低的大洲
- B.欧洲气候以温带海洋性气候和地中海气候为主
- C.亚洲南部三大半岛自西向东依次是阿拉伯半岛、印度半岛、中南半岛
- D.亚洲流经国家最多的河流是多瑙河

25. 小薇暑假随父母去非洲旅游，到了如图所示的四个地点。关于四个地点的描述，正确的是（ ）



- A.①地很热，滴雨未下，满眼是一望无际的沙漠
- B.②地阳光明媚，种植着葡萄、柑橘等作物
- C.③地很闷热，几乎天天下雨，到处是茂密的森林
- D.④地正值冬季，千里冰封，万里雪飘

26. 读非洲气候类型分布图，图中气候类型错误的是（ ）



- A.A ——热带雨林气候
- B.B ——热带季风气候

- C.C -- 热带沙漠气候
- D.D -- 地中海气候

27. 读图，有关非洲气候叙述错误的是（ ）



- A.气候呈现出南北对称分布的特点
- B.以温带气候为主
- C.热带雨林气候主要分布在赤道两侧
- D.热带草原气候的分布面积最广

28. 下列关于非洲气候的叙述，正确的是（ ）

- A.非常湿润
- B.大陆性气候显著
- C.季风气候典型
- D.气候带南北对称分布

29. 印度半岛和中南半岛上的气候类型主要是（ ）

- A.热带雨林气候
- B.热带季风气候
- C.热带草原气候
- D.热带沙漠气候

30. 关于亚洲的气候，叙述正确的是（ ）

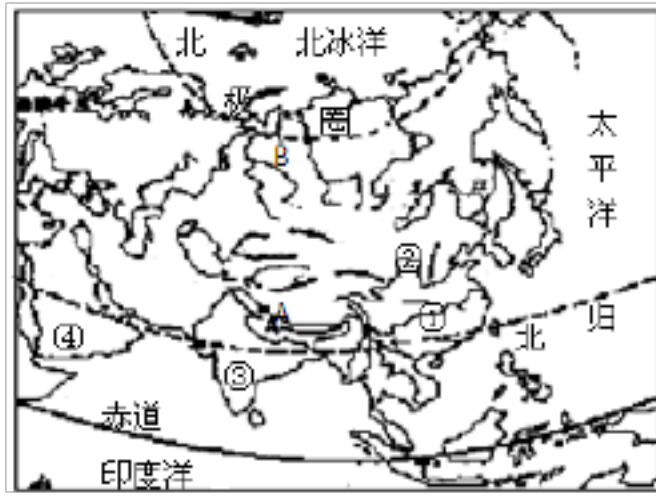
- A.形成受纬度位置和海陆位置的影响
- B.气候类型单一
- C.季风气候显著，海洋性气候分布广
- D.东部和南部常受冬季风的影响而易发生旱涝灾害

二、填空题（本题共计 10 小题，每题 2 分，共计 20 分，）

31. 人们通常按地理方位，把亚洲人为_____、_____、_____、_____、_____、_____6个地区。中国位于_____地区。

32. 亚洲西与_____相连，合称为_____大陆，亚洲东部濒临_____洋、北部濒临_____洋、南部濒临的是_____洋。

33. 读“亚洲地区略图”，回答下列问题。



(1) 亚洲地域广大，地跨寒、_____、热三带，且地形复杂多样，世界上的各种气候类型除热带草原气候和温带海洋性气候外，其余的气候在亚洲都有分布。

(2) 亚洲东临_____洋，南临_____洋，地处亚欧大陆的东部，海陆热力差异显著，因而其东部和南部地区_____气候显著。

(3) 写出图中字母、数码所代表的地理事物的名称。

A_____山脉； B_____平原；

①_____（河流）； ②_____（河流）；

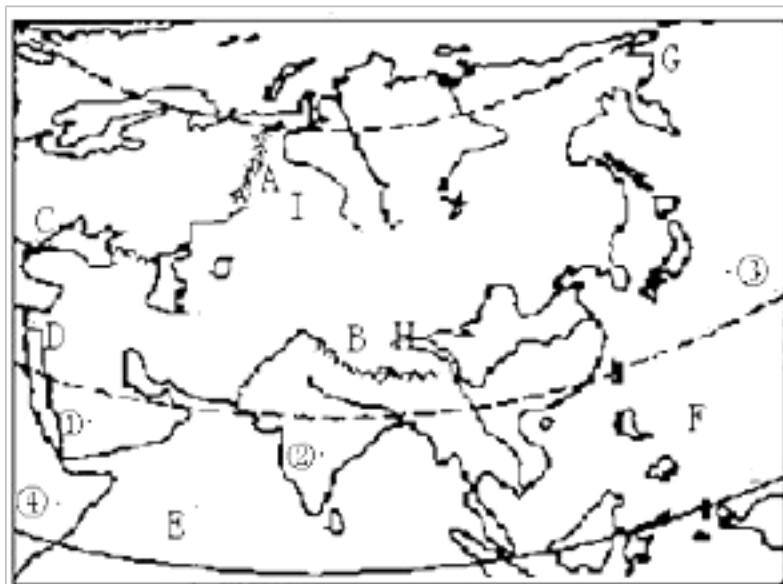
(4) 北回归线横穿过亚洲的③_____半岛和④_____半岛。

(5) 从总体上看，亚洲大河的流向是_____，原因是亚洲的地势_____。

34. 亚洲地形以_____、山地为主，地势_____高，四周低，大陆东侧、东南侧多弧形群岛。

35. 受纬度位置和_____的影响，亚洲的气候具有复杂多样、季风气候显著和_____气候分布广的特点。

36. 读“亚洲地区图”，完成下列各题。



(1) 字母代表的地理事物名称：

山脉A_____， B_____；

海峡C_____， G_____；

运河D_____； 大洋E_____， F_____；

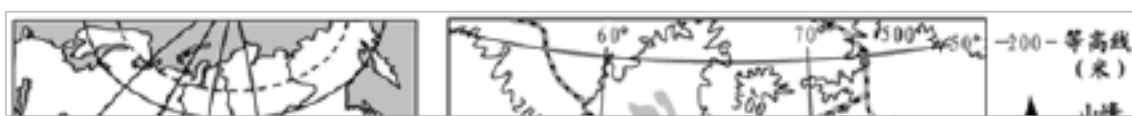
高原H_____； 平原I_____。

(2) 数字代表的地理事物名称：
半岛①_____；高原②_____；国家③_____；大洲④_____。

(3) ①②两处纬度相同，但气候类型不同，①是_____气候，②_____气候。

37. 请阅读下列图文材料，回答相关问题。

如图中方框斜线所示某区域距离最近的大洋-印度洋约2000千米，如图为该区域相关地理事物分布图。该区域年降水量小，其中东南部可达到400mm以上，中西部地区普遍低于300mm（我们乐山地区年降水量普遍在1000mm以上）。该区域光照充足，是世界上重要的棉花产区。近几十年来，该地区包括棉花种植区在内的农业区面积迅速增加。咸海1997年面积6万多平方千米（图中虚线所示），现在约为原来的 $\frac{1}{2}$ 。据调查，该湖泊主要补给河流-锡尔河和阿姆河水量减少是导致咸海面积严重缩小的重要原因。图示地区人口密度小且分布很不均衡。



(1) 锡尔河、阿姆河总体流向是_____。

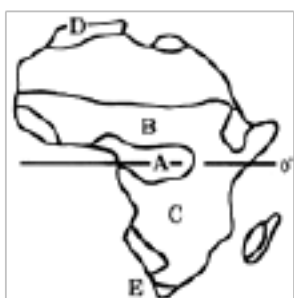
(2) 由于该区域_____，导致_____难以到达该地区，本区域地理环境最显著的特征是_____。

(3) 根据图文材料，可以判断影响本地区棉花种植区分布的最主要因素是_____（“地形、铁路、水源、城市、光照”五个词语中选填一个）。

(4) 请根据图文材料分析锡尔河、阿姆河水量减少的原因_____（至少两点），并提出增加两大河流流量的合理建议_____（至少一点）。

38. 在印度被称为“圣河”的是_____河。印度最著名的一处古建筑是_____。

39. 读非洲气候类型图，回答下列问题：



(1) 图中气候类型A是_____气候

(2) 气候类型B是_____气候，此气候分布最广的大洲是_____洲.

(3) 气候类型C是_____气候D是_____气候，E是_____气候

(4) 非洲气候类型的分布特征是以_____为中心南北_____分布.

40. 读图，回答问题



(1) 非洲气候类型以_____为中心，南北对称分布.

(2) 热带气候类型气温上相同点是_____，在降水量的分配上不同的是_____.

(3) 自A到B经过了那些气候区? _____.

参考答案与试题解析

人教版七年级地理下册 第六章 我们生活的大洲-亚洲 6.2 自然环

境 同步测试题

一、选择题（本题共计 30 小题，每题 2 分，共计 60 分）

1.

【答案】

D

【考点】

亚洲的地理位置

【解析】

亚洲面积4400万平方千米，约占世界陆地总面积的29.4%，是世界上面积最大的一洲。七大洲中，亚洲是跨纬度最广，东西距离最长的一个洲。亚洲的北部被北极圈穿过，南部被赤道穿过，南北跨纬度较大，气候复杂多样；亚洲气候以温带大陆性气候分布最广；在亚洲东部沿海有热带季风气候、亚热带季风气候和温带季风气候，所以亚洲的季风气候显著。

【解答】

解：亚洲地形复杂多样，以高原、山地为主。地势中间高，周围低，故A不正确；

亚洲人口稠密地区集中在东亚（中国、日本）、东南亚（印度尼西亚、菲律宾）、南亚（印度、巴基斯坦、孟加拉国），故B项不正确；

亚洲气候的特点：气候复杂多样；温带大陆性气候分布最广；季风气候显著，故C不正确；

七大洲中，亚洲是跨纬度最广，东西距离最长的一个洲。亚洲的北部被北极圈穿过，南部被赤道穿过，南北跨纬度较大，故D正确。

故选：D。

2.

【答案】

D

【考点】

亚洲的地理位置

【解析】

亚洲是世界上人口最多，面积最大，跨纬度最广的大洲，南极洲是世界上跨经度最广的大洲。

【解答】

解：南极洲是世界上跨经度最大的大洲，亚洲是世界上人口最多，面积最大，跨纬度最大的大洲，A、B、C是正确的，D是错误的，题目中要求指出描述错误的一项

故选：D。

3.

【答案】

D

【考点】

亚洲的地理位置

【解析】

亚洲主要位于东半球和北半球。从纬度位置来看，亚洲北部深入北极圈内，南部延伸到赤道以南。从海陆位置来看，亚洲东、北、南三面分别濒临太平洋、北冰洋和印度

洋，西与欧洲相连，西南与非洲为邻，东北隔白令海峡与北美洲相望。亚洲面积约4400万千米²，是世界第一大洲。

【解答】

解：根据亚洲所处的经纬度位置可以判知：

亚洲北部深入北极圈内，南部延伸到赤道以南，地跨寒、温、热三带，故A不正确；

亚洲北部深入北极圈内，南部延伸到赤道以南，亚洲大部分位于北半球，故B不正确；

亚洲东部被160°E穿过，大部分位于东半球，故C不正确；

亚洲北部深入北极圈内，南部延伸到赤道以南，地跨寒、温、热三带，故D不正确。

故选：D。

4.

【答案】

D

【考点】

亚洲的地理位置

【解析】

亚洲面积约4400万千米²，是世界第一大洲。从半球位置来看，亚洲主要位于东半球和北半球。从纬度位置来看，亚洲北部深入北极圈内，南部延伸到赤道以南。从海陆位置来看，亚洲东、北、南三面分别濒临太平洋、北冰洋和印度洋，西与欧洲相连，西南与非洲为邻，东北隔白令海峡与北美洲相望。

【解答】

解：从半球位置来看，亚洲跨东南西北四个半球，主要位于东半球和北半球。依据题意。

故选：D。

5.

【答案】

B

【考点】

亚洲的地形、地势及其影响

【解析】

亚洲地形的主要特征是：

地形以高原、山地为主，平均海拔高。亚洲山地和高原约占总面积的 $\frac{3}{4}$ ，全洲平均海拔

950米，是除南极洲以外平均海拔最高的大洲。

地面起伏大，高低悬殊。亚洲有世界上最高的青藏高原，也有地势低平的西西伯利亚平原。喜马拉雅山脉主峰珠穆朗玛峰，是世界最高的山峰，号称“地球之巅”；死海的湖面，是世界陆地表面最低处。

地势中部高，四周低。“世界屋脊”青藏高原雄踞亚洲中部，喜马拉雅山脉等众多高大的山脉，以帕米尔高原为中心向四周延伸。平原多分布在大陆边缘。

受地势影响亚洲的河流呈放射状从中部高原山地流向周围的海洋。

【解答】

解：读图可知，亚洲的地形以高原、山地为主，且高原、山地主要分在大陆中部，平原主要分布在沿海地区，故A、C不符合题意；

亚洲即有世界最高的山峰（珠穆朗玛峰），也有世界陆地表面最低处（死海的湖面），故B符合题意；地形剖面图能直观地表示地面上沿某一方向地势的起伏和坡度的陡缓，不能反应亚洲的地势，故D不符合题意。

故选：B。

6.

以上内容仅为本文档的试下载部分，为可阅读页数的一半内容。如要下载或阅读全文，请访问：<https://d.book118.com/845142021213011042>