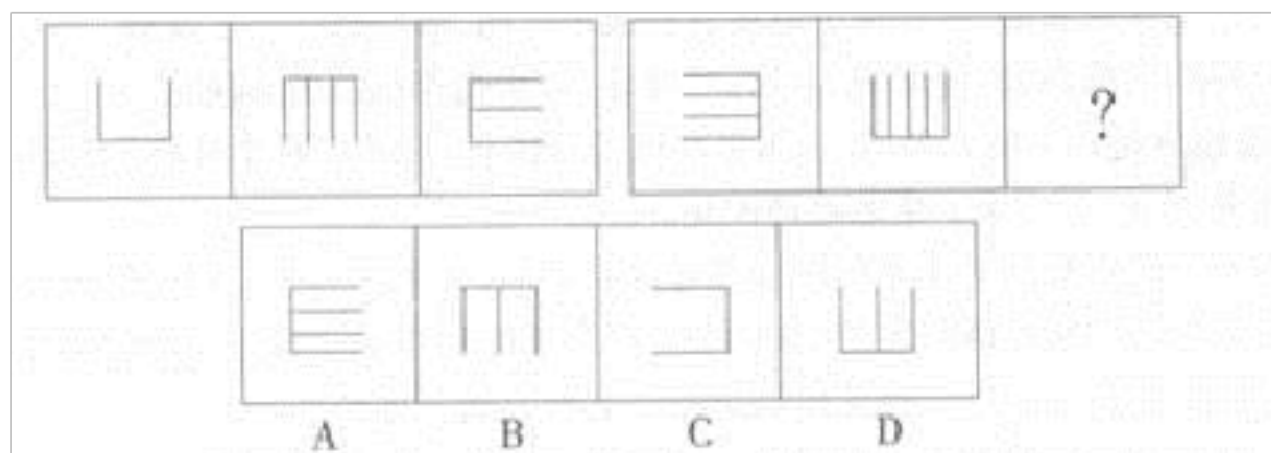


【备考 2023 年】山西省太原市公务员省考 行政职业能力测验测试卷一(含答案)

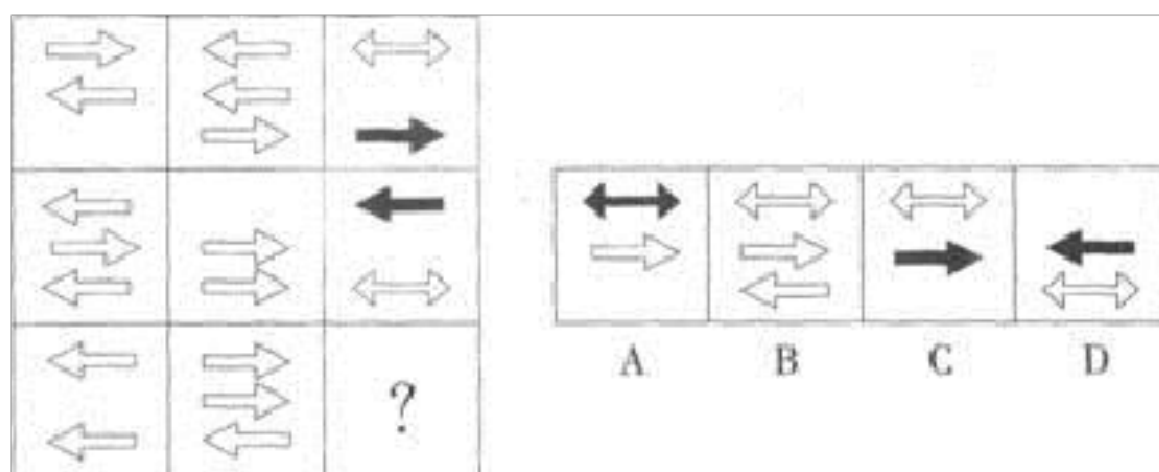
学校:_____ 班级:_____ 姓名:_____ 考号:_____

一、图形推理(6 题)

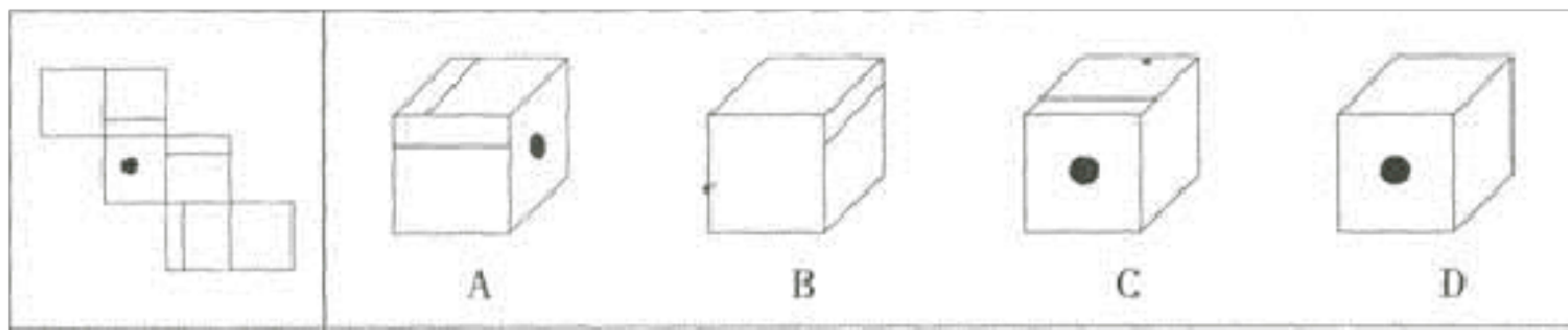
1. 从所给的四个选项中, 选择最合适的一个填入问号处, 使之呈现一定的规律性。



2. 从所给的四个选项中, 选择最合适的一个填入问号处, 使之呈现一定的规律性。()



3. 左边给定的是纸盒的外表面, 下面哪一项能由它折叠而成? ()

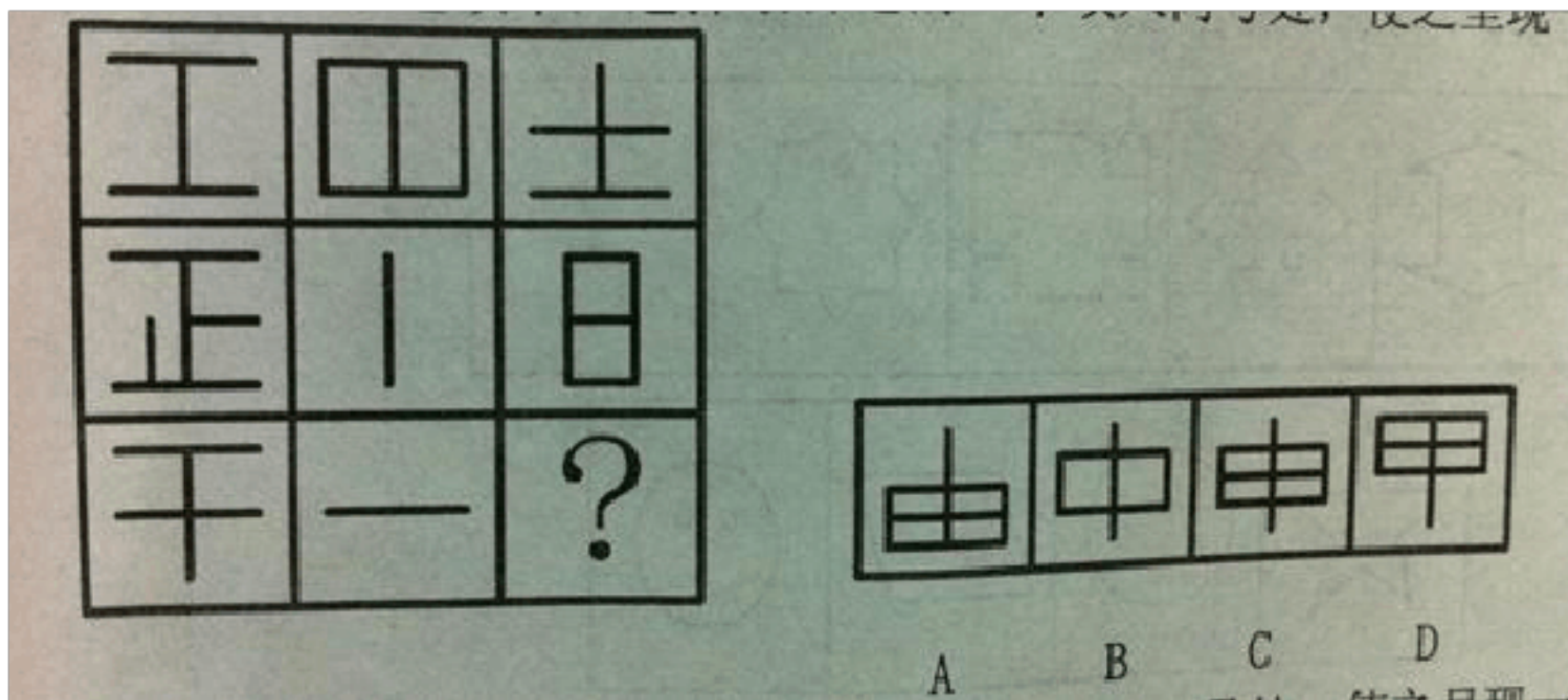



4. 把下面的六个图形分为两类,使每一类图形都有各自的共同特征或规律,分类正确的一项是()。



A. ①③④, ②⑤⑥ B. ①②⑤, ③④⑥ C. ①⑤⑥, ②③④ D. ①②⑥, ③④⑤

5. 从所给四个选项中,选择最合适的一个填入问号处,使之呈现一定的规律性:





二、定义判断(10 题)

7.重力侵蚀指主要是在重力作用下,单个落石、碎屑流或整块土体、岩体沿坡面向下运动的一系列现象。根据以上定义,下列说法正确的是:

- A.我国新疆的沙漠地区,主要是在重力侵蚀下形成的
- B.我国广西地区有许多著名的地下溶洞,地下溶洞主要是在重力侵蚀下形成的
- C.某县临海,海岸边有许多奇形怪状的礁石,这些礁石是在重力侵蚀下形成的
- D.某地发生山体滑坡,重力侵蚀是滑坡形成的主要原因

8.非我所创综合症或 NIH 综合症,是社会、公司和组织中的一种文化现象,人们不愿意使用、购买或者接受某种产品、研究成果或者知识,不是出于技术或者法律等因素,而只是因为它源自其他地方。根据上述定义,下列选项中涉及非我所创综合症的是:

- A.每年九一八纪念日時小李都会将自己的日系车标摘下

- B.甲国某公司经检验后退回一整批不合格的乙国进口光学器材
- C.某国宣布全面禁止进口日本福岛第一核电站周边 8 个县水产品
- D.有强烈爱国情结的某国居民只购买本国生产的手机

9.

社会体育，是由企业、事业单位职工。国家机关工作人员以及城镇或农村居民等不同的群体，为达到健身、健心、健美、娱乐、医疗等目的而进行的内容丰富、形式多样的身体锻炼活动。根据上述定义，以下哪项活动不是社会体育活动？

- A.由北京市体委举办的群众长跑运动
- B.某大学举办了教工篮球队与社区篮球队的友谊比赛
- C.某市承办了国际铁人三项赛
- D.在国家奥体匹克体育中心举办的社区居民网球赛

10. 虐待罪，是指对共同生活的家庭成员经常以打骂、捆绑、冻饿、限制自由、凌辱人格、不给治病或者强迫过度劳动等方法，从肉体上和精神上进行摧残迫害，情节恶劣的行为。

根据定义，下列不构成虐待罪的是（ ）。

- A.王浩的父亲经常生病，王浩觉得其父已是知天命之年，所以也就不给其医治
- B.某企业老板经常强迫员工过度劳动，克扣员工工资
- C.张志看妻子不顺眼，经常对其进行毒打或关禁闭

D.李某常使用体罚来教育调皮的儿子，有时还不让做错事的孩子吃饭

11.

立体农业是指利用生物间的相互关系，兴利避害，为了充分利用空间把不同生物种群组合起来，多物种共存、多层次配置、多级物质能量循环利用的立体种植、立体养殖或立体种养的农业经营模式。根据上述定义，以下不属于立体农业的是()。

A.根据鱼蟹的不同分布水层和不同食性等特点，在池塘水域中进行池塘鱼蟹混养，可达到充分利用水体、鱼蟹双高产的目的

B.红薯与玉米实行套种，能充分利用空间和阳光，拉长玉米和红薯的有效生长期，使两种作物均获得高产

C.大型南瓜立体营养液栽培技术，突破了传统栽培方法，实现南瓜空中生长

D.珠江三角洲人民根据当地的自然条件特点，在鱼塘的塘基上种桑、种蔗、种果树等

12.无形磨损也称精神磨损，是指由于科学技术的进步而引起的设备贬值现象，是由于非使用和非自然力作业引起的设备价值的损失，并不发生实物形态的变化。原因有二，一是劳动生产率的提高，二是结构更先进、性能更完善、经济性更好的设备的出现使原来的设备被淘汰。

根据上述定义，下列属于无形磨损的是 ()。

A.某制造厂一年前购入一台设备，由于种种原因闲置至今，产生锈蚀

B.柳林家使用全自动洗衣机时没有将洗衣机放平，导致洗衣机不脱水

- C.第二代设备的推出，导致某公司上月购买的第一代设备便宜了十万元
- D.某小区附近的变电设备经常超负荷运转，使用不到三年就损坏了

13. 意见领袖是指在人际传播网络中经常为他人提供信息，同时对他人施加影响的“活跃分子”，他们在大众传播效果的形成过程中起着重要的中介或过滤的作用，由他们将信息扩散给受众，形成信息传递的两级传播。根据上述定义，下列属于意见领袖的是（ ）

- A.某品牌手机用户都喜欢上该手机的论坛，他们认为这个论坛提供的消息最准确
- B.在工作中，小曹任何事情都对领导的命令坚决执行，他认为服从领导是正确的工作方法
- C.王丽和赵雪是十多年的好朋友，王丽经常在时政问题上给赵雪以指导，但在流行时尚方面赵雪则是王丽的老师
- D.小白对电脑一窍不通，他在电脑城里与很多卖家交流后，选择了一位看起来很亲切的卖家卖的电脑

14.蓝海指的是未知的市场空间。企业要启动和保持获利性增长，就必须超越产业竞争，开创全新市场，这其中包括突破性增长业务（旧市场新产品或新模式）和战略性新业务开发（创造新市场、新细分行业甚至全新行业）。相对于蓝海指代的未知的市场空间，红海泛指那些竞争激烈的市场。在红海中，产业边界是明晰和确定的，游戏的竞争规则是已知的。身处红海的企业试图表现得超过竞争对手，以攫取已知需求下的更

大市场份额。

根据上述定义，下列案例对应于红海市场的是：

- A.许多中国企业将既有业务延伸到亚非拉地区，使收入倍增
- B.虽然出版业发展缓慢，但电子书的出现使网络文学更加繁荣
- C.鉴于美国亚马逊的发展模式，中国的电商竞相以低价挤压对手
- D.一些旧网络游戏推出虚拟道具商城后吸引了很多老玩家消费

15.行政法律关系是指由行政法律规范所调整的国家行政机关在行政管理活动中所发生的国家行政机关同其他主体之间的权利义务关系，是由行政机关行使国家行政权力而与其管理对象所发生的社会关系。其中积极行政法律关系是指为实现国家行政职能，兴办各种事业、管理各种行政事务而与有关方面发生的各种关系。消极行政法律关系是指为保障行政秩序，制裁行政违法行为而与有关方面或公民个人发生的各种关系。

根据上述定义，下列属于消极行政法律关系的是（ ）。

- A.某行政机关发现采购的电脑质量不合格，要求厂商退赔
- B.某市为规范市民养犬行为，于近日出台了《养犬管理条例》
- C.市中小企业局依法给予刚在本市落户的某高新技术企业以融资指导
- D.某税务机关对存在偷税漏税行为的某单位罚款2万元。并责令补缴税款

16. 苏东坡效应，源自苏东坡的两句诗“不识庐山真面目，只缘身在此山

中”。意思是人们对“自我”犹如自己手中的东西，往往难以正确认识；从某种意义上讲，认识“自我”，比认识客观现实更为困难。社会心理学家将人们难以正确认识“自我”的心理现象称之为“苏东坡效应”。

根据以上定义，下列各项未体现苏东坡效应的是：

- A. 小张在大学毕业前夕因不知道毕业后能做什么而选择保研，继续留在学校学习专业知识
- B. 对于公务员面试中的自我认知题，大部分考生的作答都是千篇一律。体现不出自我特色
- C. 人们对优良品质的自我评价常常比别人的估计高。对不良品质的自我评价则常常比别人的估计低
- D. 小王工作能力很强，而且乐于助人，即使不是他平时接触过的工作也能谈得头头是道，让人佩服

三、常识判断(10 题)

17. **第 83 题** 毛泽东指出的中国无产阶级所具有的自己的特殊优点和特点是（ ）。

- A. 与农民有天然的联系，便于发动广大农民群众
- B. 深受帝国主义、封建主义和资本主义的三重压迫，具有革命的彻底性
- C. 和农民有天然的联系，便于结成工农联盟
- D. 人数虽不多，但集中在沿海，沿江大城市，便于组织

18.

以下关于生活常识，说法不正确的是：

- A. 微波炉的加热原理是电能转化为电磁能，再将电磁能转化为内能

- B.堆煤的墙角变黑是因为分子永不停息地做无规则的运动
- C.人民币最早的硬币材质是铝镍合金
- D.低碳生活会降低城市居民的生活水平

19.77 . 现代企业制度以()为核心 .

- A . 企业组织制度
- B . 公司法人治理结构
- C . 企业法人制度
- D . 公司制

20.

有限责任公司的董事会成员应为 ()

- A.3 人以上 B.5 人以上 C.3 人以上 13 人以下 D.5 人以上 9 人以下

21.下列关于世界古代文明的说法正确的是()。

- A.《理想国》的作者是古希腊哲学家苏格拉底
- B.古埃及人建造的胡夫金字塔是世界上现存规模最大的金字塔
- C.公元 1 世纪前后，罗马帝国分裂为东罗马帝国和西罗马帝国
- D.世界四大文明古国是指古代埃及、古代希腊、古代印度和古代中国

22.第 78 题 建立社会主义市场经济体制是我国经济体制的根本性创新，是实现社会主义现代化的根本途径。社会主义市场经济体制是 ()。

- A.以市场作为配置社会资源基础性手段的经济运行体制
- B.与计划机制彻底脱离
- C.与资本主义市场经济很相似
- D.以国家宏观管理为主、市场调节为辅

23.第 9 题 下列规范性文件中不得设定行政许可的是 ()。

- A. 法律
- B. 县级政府的决定
- C. 行政法规
- D. 地方性法规

24.人民法院审理行政案件过程中，发现地方规章与部门规章不一致时，应当选择下列哪种做法？()

- A.由受理该案的人民法院送请上级人民法院裁决
- B.由最高人民法院送请国务院作出解释或者裁决
- C.由受理该案的法院的上级人民法院送请同级权力机关裁决
- D.由受理该案的法院的同级权力机关解释或者作出裁决

25. 下列关于中国近代史上一些重大事件，表述正确的是 ()。

- A.新文化运动兴起的标志是《新青年》杂志的创办
- B.一二·九运动是中国共产党领导反对内战的学生爱国运动
- C.新三民主义是第二次国共合作的政治思想基础
- D.秋收起义是中国共产党独立领导武装斗争的开始

26.第 82 题 根据我国现行宪法和有关法律的规定，下列选项中构成违宪行为的是 ()。

- A. 国家主席代表中华人民共和国接见外国使节
- B. 国务院根据全国人民代表大会常务委员会的授权决定，对储蓄存款利息所得减征个人所得税
- C. 国务院某部发布《关于认真学习贯彻〈行政机关公务员处分条例〉的通知》
- D. 某自治区人民代表大会常务委员会制定本自治区的《自治条例》

四、数量关系(10 题)

27.二、数学运算：要求你在四个选项中，选出你认为正确的一项。要求你充分利用所给的条件，寻求解决问题的捷径。

第 96 题 在一本 300 页的书中，数字“1”在书中出现了多少次？（ ）

- A. 140
- B. 160
- C. 180
- D. 120

28.第 107 题 二十几个小朋友围成一圈，按顺时针方向一圈一圈地连续报数。如果报 2 和 200 的是同一个人，那么共有（ ）个小朋友。

- A. 22
- B. 24
- C. 27
- D. 28

29.0、1、2、3、4、5、6 这七个数字能够组成多少个被 125 整除的无重复数字的五位数？

- A.12
- B.21
- C.30
- D.33

30.

第 24 题 18, -27, 36 . (), 54。

A.45 B.44 C.-45 D.-44

31.第 108 题 $\frac{2}{3}, \frac{5}{7}, \frac{8}{11}, \frac{11}{15}, ()$

- A. $\frac{14}{19}$
- B. $\frac{7}{9}$
- C. $\frac{13}{21}$
- D. 1

32. 1, 2, 5, 14, ()

A.31 B.41 C.51 D.61

33.

一个长方体的长、宽、高恰好是三个连续的自然数，并且它的体积数值等于它的所有棱长之和的 2 倍，那么这个长方体的表面积是多少？()

A.74 B.148 C.150 D.154

34.

给你一个数列，但缺少其中一项，要求你仔细观察数列的排列规律，然后从四个供选择的选项中选择你认为最合理的一项，来填补空缺项，使之符合原数列的排列规律。

$\frac{6}{28}, \frac{21}{98}, \frac{18}{84}, \frac{9}{42}, ()$

- A. $\frac{12}{56}$
- B. $\frac{12}{44}$
- C. $\frac{25}{60}$
- D. $\frac{25}{78}$

以上内容仅为本文档的试下载部分，为可阅读页数的一半内容。如要下载或阅读全文，请访问：<https://d.book118.com/847011012051006034>