

第二章 城市与城市化 章末测试 (人教必修2)

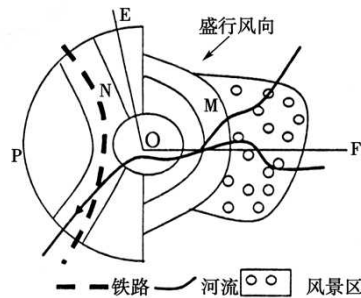
第二章 城市与城市化 章末测试〔人教版必修2〕

本卷分为第一卷(选择题)和第二卷(非选择题)两局部，考试时间 90 分钟，总分值 100 分

第一卷(选择题 共 50 分)

一、单项选择题(每题 2 分，共 25 小题)

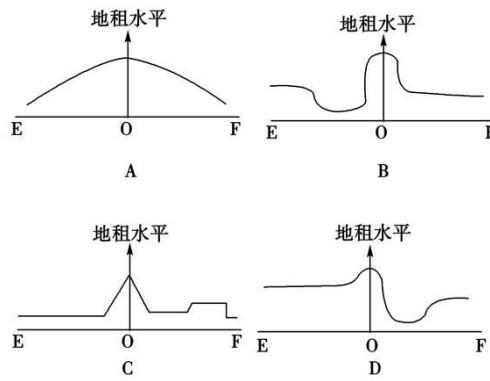
(2022·安徽淮南一中高一检测)假设以下图城市功能区分布合理，据此答复 1~2 题。



1. 高级住宅区适宜布局在城市的()

- A. M 处
- B. N 处
- C. O 处
- D. P 处

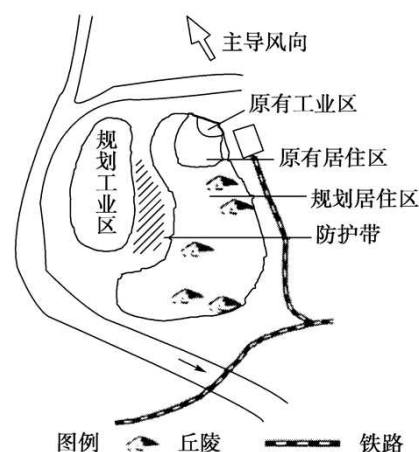
2. 沿图中 EOF 线所作地租水平曲线正确的选项是()



【答案】 1.A 2.C

【解析】 第 1 题，高级住宅区适宜布局在地势较高、盛行风的上风向，环境优美交通便利的地区。第 2 题，越靠近市中心，接近交通干线，地租水平越高。

以下图是“某城镇用地布局规划方案示意图”。读图答复 3~4 题。



3. 该方案突出优点是规划中的()

- A. 居住区紧靠旧城、临近铁路
- B. 居住区环境好、建筑工程量小
- C. 工业区靠近水源、铁路交通方便
- D. 工业区地势平坦、位于主导风下风向

4. 适合布局在防护带的是()

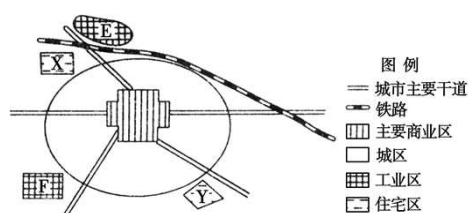
- A. 停车场、日用品仓库
- B. 幼儿园、日用品仓库
- C. 幼儿园、医院
- D. 医院、停车场

【答案】 3.D 4.A

【解析】 第3题,从图中可看出,规划中的工业区靠近水源(河流),地势平坦,且位于主导风向的下风向,对居住区环境污染小,但离铁路线较远,铁路交通不便。第4题,在居住区和工业区之间应建立卫生防护带,在卫生防护带中,一般可以设置一些少数人使用的、非长期停留的建筑,例如消防车库、停车场、仓库、市政工程

构筑物，而体育馆、学校、儿童机构和医院等，就不应布置在防护带内。

(2022·太原高一检测)下图是“我国西南地区中等城市功能区分布示意图”。读图答复5~6题。



5. 图中 E 工业区与 F 工业区相比，显著的区位优势是()

A. 交通的便捷程度高 B. 冬季无
污染

C. 地价低廉 D. 工人素质高

6. 随着城市开展，Y 住宅区较 X 住宅区更有利于居民的居住和生活，理由是()

①依山傍水，风景优美

②远离铁路，噪音污染轻

③交通便利，方便职工上下班

④远离工业区，环境清洁

A. ①②

B. ③④

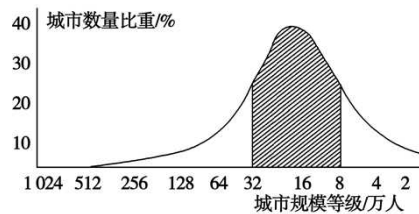
C. ①③

D. ②④

【答案】 5.A 6.D

【解析】 第5题，E工业区位于城市主要干道与铁路交会处，交通便捷程度高。第6题，Y住宅区远离铁路，噪音污染轻；远离工业区，环境清洁。

读以下图，答复7~8题。



7. 图中显示的地理含义是()

A. 聚落人口规模越大，其数量就会越多

B. 聚落人口规模越小，其数量就会越少

C. 城市人口在16万人时，城市数量最多

D. 城市人口在32万人时，城市数量最多

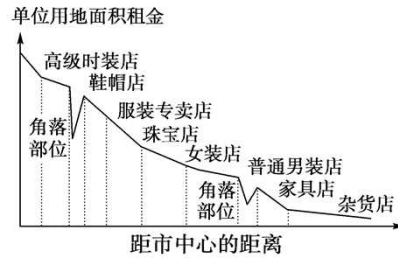
8. 以下表达中，正确的选项是()

- A. 城市规模和城市数量呈正相关
- B. 等级高的城市，多位于城市群边缘地带
- C. 合理的城市体系结构有利于城市之间的相互联系
- D. 城市规模等级模型呈倒金字塔形

【答案】 7.C 8.C

【解析】 第7题，由图可知，城市人口在16万人时，城市数量多，其他规模城市数量都比16万人时城市数量少。第8题，等级高的城市，多位于城市群的中心地带；由图可知，A、D项错误；合理的城市体系结构有利于城市之间的相互联系。

读下面“中心商务区内部结构中零售业的空间分布图”，根据所学知识答复9~10题。



9. 对图示含义解释正确的选项是()

A. 距市中心越近，租金越高，零售业专门化程度越低

B. 距市中心越近，租金越高，商品档次越高

C. 距市中心越远，租金越低，零售业专门化程度越高

D. 距市中心越远，租金越高，商品档次越低

【答案】 B

【解析】 离市中心越近，租金越高，商品档次越高。

10. 在图中“角落部位”租金曲线低的原因最可能是()

A. 交通通达度较好，租金较高，各零售业

均付不起高昂租金

B. 地域狭窄，不适合零售业用地

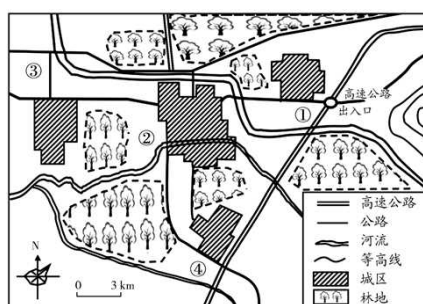
C. 交通便捷程度较差，无法吸引大量人流，对零售业无吸引力

D. 交通通达度较高，适合作为商务机构的办公楼

【答案】 C

【解析】 角落部位交通便捷程度较差，租金低。

(2022·山东卷)以下图为“某个组团式城市布局图”，各城区分散布局。完成 11~12 题。



11. 该城市的布局模式有利于()

A. 缩短居民出行距离

B. 改善城市生态环境

C. 加强各区之间联系

D. 节省根底设施投资

12. 该城市规划建设物流园区和化工园区，应分别安排在()

A. ①处和③处

B. ①处和④处

处

C. ②处和③处

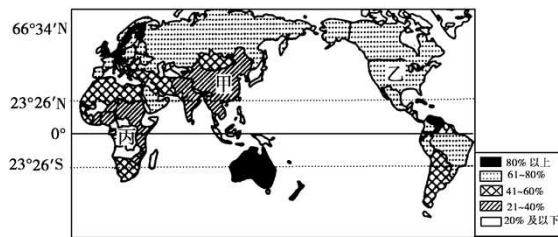
D. ②处和④处

【答案】 11.B 12.A

【解析】 第 11 题，考查城市空间布局的意义。受林地分割，该城市布局分散，会增大根底设施投资，增大居民出行距离，不利于片区间的联系，但有利于改善城市生态环境。第 12 题，考查城市规划。物流园应布局在交通便捷、用地较广的城乡结合部，①较适宜；化工园有大气污染，应布局在郊外当地最小风频的上风向和河流的下游，图示该地最小风频是西北风，由等高线分布可见该地河流由东南向西北流，因此③处较

适宜。

读下面“世界城市化水平分布图”，答复13~14题。



13. 图中乙国城市化程度高的最主要原因是
()

- A. 开发历史悠久
- B. 经济开展水平高
- C. 农业机械化水平高
- D. 社会福利优越

【答案】 B

【解析】 美国属兴旺国家,城市化水平高。

14. 以下表达正确的选项是()

A. 世界城市化水平较高的国家都属于兴旺国家

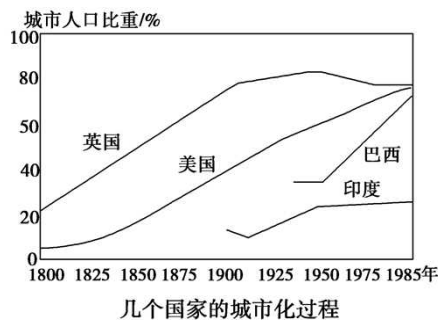
B. 甲国属于城市化速度较快的国家

- C. 乙国是目前世界城市化水平最高的国家
- D. 丙国工业兴旺，城市化水平较高

【答案】 B

【解析】 中国属发展中国家，城市化速度较快。

读“几个国家的城市化进程图”，答复 15～16 题。



15. 1975 年，与英国相比，巴西城市化特点是()

- A. 城市环境质量更高
- B. 城市化水平更高
- C. 城市化速度更快
- D. 出现逆城市化现象

16. 1950 年，英国城市化水平变化的主要

原因有()

- ①城市环境恶化
- ②乡村、小城镇根底设施的完善
- ③农村剩余劳动力的转移
- ④城市中心区的萎缩

- A. ①② B. ③④
C. ③④ D. ②④

【答案】 15.C 16.A

【解析】 第 15 题, 1975 年, 巴西城市化速度比英国更快。第 16 题, 1950 年之后, 英国城市化水平有所下降, 与当地环境恶化, 乡村、小城镇根底设施的完善有关。

生态城市建设是促进我国城市可持续发展的必然选择。下图表示生态城市建设面临的三条道路。 K_1 表示生态环境质量平安警戒线, K_2 表示生态环境质量恶化警戒线。读图, 答复 17~18 题。

以上内容仅为本文档的试下载部分，为可阅读页数的一半内容。如要下载或阅读全文，请访问：<https://d.book118.com/848135122005006051>