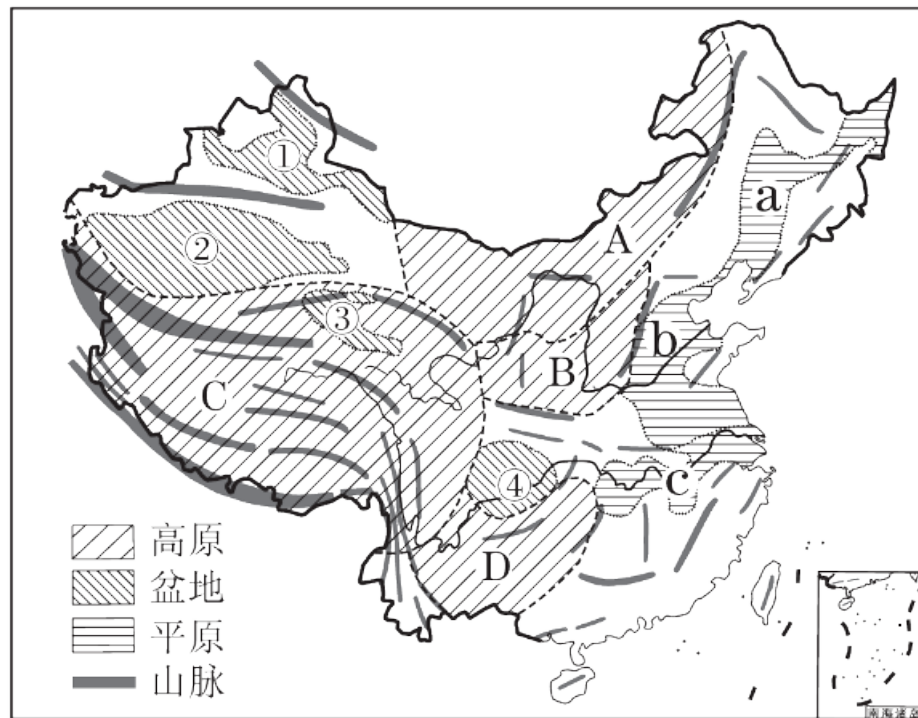


第一节 地形和地势

第1课时 地形类型多样，山区面积广大

一、地形类型多样



1. 地形特征：地形 类型多样，山区 面积广大。

2. 地形的分布特点：山地、高原 和 盆地 主要分布在西部，平原、丘陵 主要分布在东部。

3. 主要山脉名称及走向

(1) 东西走向的山脉：北部：天山山脉—阴山山脉，

中部：昆仑山脉—秦岭，南部：南岭

—°

(2)东北—西南走向的山脉：

西列：大兴安岭—太行山脉—巫山—雪峰山，

中列：长白山脉—武夷山脉，**东列：**台湾山脉

—。

(3)南北走向的山脉：贺兰山，横断山脉。

(4)西北—东南走向的山脉：阿尔泰山脉，祁连山脉。

(5)弧形山脉：喜马拉雅山脉。

4. 主要地形区

四大高原：A 内蒙古 高原、B 黄土 高原、
C 青藏 高原、D 云贵 高原。

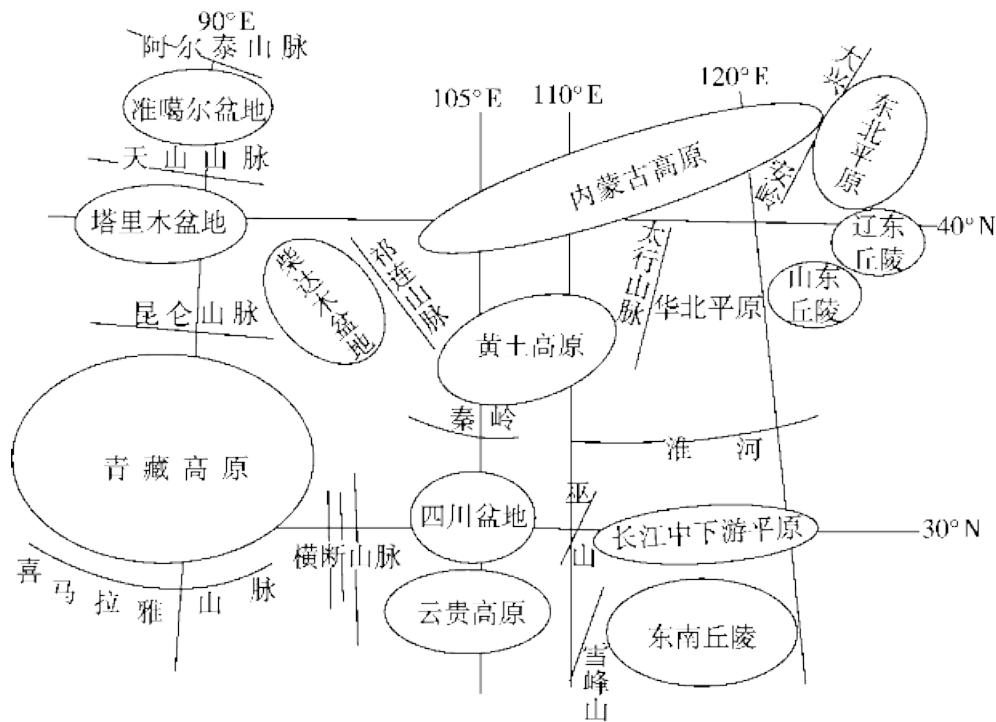
四大盆地：① 准噶尔 盆地、② 塔里木 盆地、
③ 柴达木 盆地、④ 四川 盆地。

三大平原：a 东北 平原、b 华北 平原、
c 长江中下游 平原。

二、山区面积广大

1. 山区：通常把山地、丘陵，连同比较崎岖的高原统称为山区。我国山区面积约占全国总面积的2/3。
2. 山区发展的劣势：山区地面崎岖，交通不便，不利于发展耕作业。
3. 山区发展的优势：山区在发展林业、牧业、旅游业、采矿业等方面，往往具有优势。

【巧学妙记】 巧记主要山脉、地形区分布



山脉构成我国地形的“骨架”

不同走向的山脉纵横交错，构成我国地形的“骨架”。这些山脉把我国地表分成了若干个地形区，常成为地形区之间的分界线。

山脉	两侧的地形区	
	西侧	东侧
大兴安岭	内蒙古高原	东北平原
太行山脉	黄土高原	华北平原
巫山	四川盆地	长江中下游平原
雪峰山	云贵高原	东南丘陵
横断山脉	青藏高原	云贵高原、四川盆地

山脉	两侧的地形区	
	南侧	北侧
天山山脉	塔里木盆地	准噶尔盆地
昆仑山脉	青藏高原	塔里木盆地
阴山山脉	黄土高原	内蒙古高原
秦岭	四川盆地	黄土高原
祁连山脉	柴达木盆地	河西走廊

读我国甲、乙两地景观图，完成1~2题。

1. 甲、乙两地呈现的地形类型分别是(C)

A. 丘陵、盆地

B. 山地、盆地

C. 高原、平原

D. 山地、丘陵



甲



乙



2. 两种地形类型在我国的分布特点是(C)

A. 甲主要分布在南方

B. 甲在我国零星分布

C. 乙主要分布在东部地区

D. 乙在我国分布面积最广



甲



乙



[2023年1月合肥期末]读我国四列山脉走向示意图(图2-1-4)，完成3~4题。

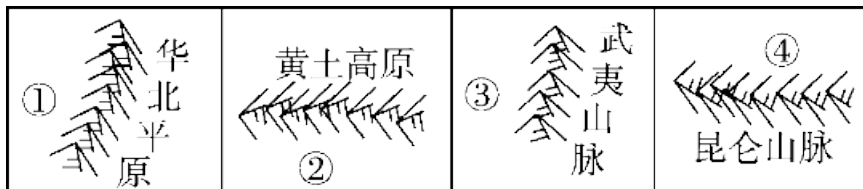
3. 图中华北平原西侧的山脉是(C)

A. 贺兰山

B. 巴颜喀拉山

C. 太行山脉

D. 武夷山脉



4. 图中数字序号所代表的地形区中，沙漠广布的是(

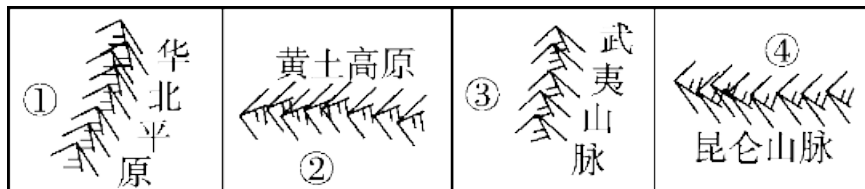
) **D**

A. ①

B. ②

C. ③

D. ④



5. 习惯上，山区是指(**D**)

A. 山地、平原、丘陵

B. 山地、丘陵、海拔很高的盆地

C. 山地、丘陵、比较崎岖的平原

D. 山地、丘陵、比较崎岖的高原



6. 我国是一个多山的国家，山地面积约占全国总面积的(**B**)

A. 1/2

B. 1/3

C. 1/4

D. 1/5



7. 我国山区面积广大。下列关于如何实现山区社会、经济和生态可持续发展的叙述，错误的是(C)

A. 山区风景秀丽，适合发展生态旅游

B. 砍伐与抚育更新相结合，大力发展林业

C. 大力发展木材加工工业，以满足市场需要

D. 山区多急流，水能丰富，适合修建小型水电站

【点拨】山区风景秀丽，适合开发旅游资源；在发展木材加工工业的同时，要注意砍伐与抚育更新相结合；山区河流落差大，水能丰富，适合修建小型水电站。



以上内容仅为本文档的试下载部分，为可阅读页数的一半内容。如要下载或阅读全文，请访问：<https://d.book118.com/855241000120011131>