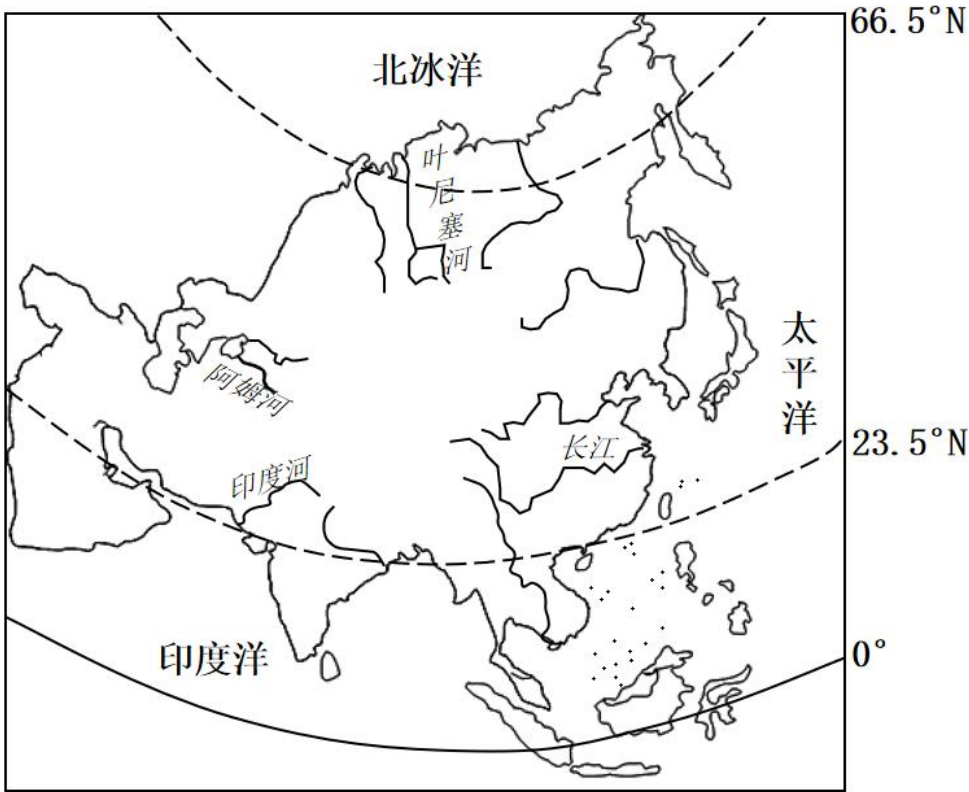


深圳市光明区 2021-2022 学年七年级下学期期末地理试题

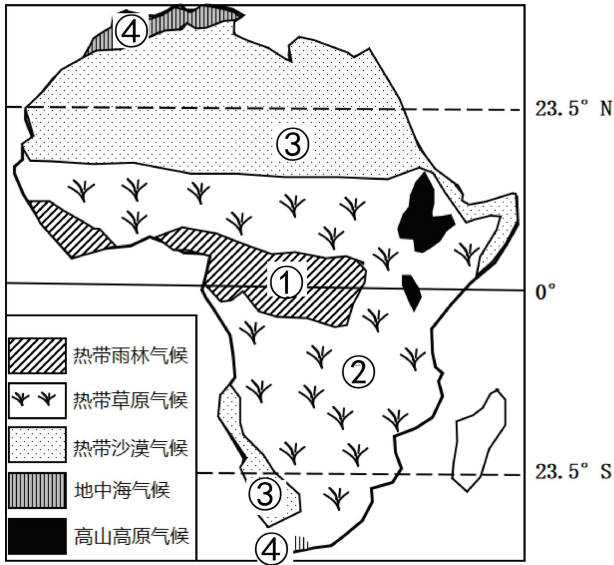
一、单项选择题（30 小题，每小题 1 分，共 30 分）

亚洲大江大河众多，被称为“巨河之洲”。图为亚洲河流分布图，据此完成问题。



1. 图中河流属于太平洋水系的是（ ）
A. 叶尼塞河 B. 长江 C. 阿姆河 D. 印度河
2. 亚洲水系分布特征反映出亚洲的地势为（ ）
A. 西部高、东部低 B. 北部高、南部低
C. 中部高、四周低 D. 四周高、中部低

非洲尖毛草是一种生长在热带地区的植被，在长达 6 个月时间里，以根系生长为主，最长可达 28 米；雨水充足时，以每天 0.5 米的速度向上疯长，最高可长至一米六至两米，成为草地之王。图左为非洲气候类型分布图、图右为非洲尖毛草，据此完成下面小题。



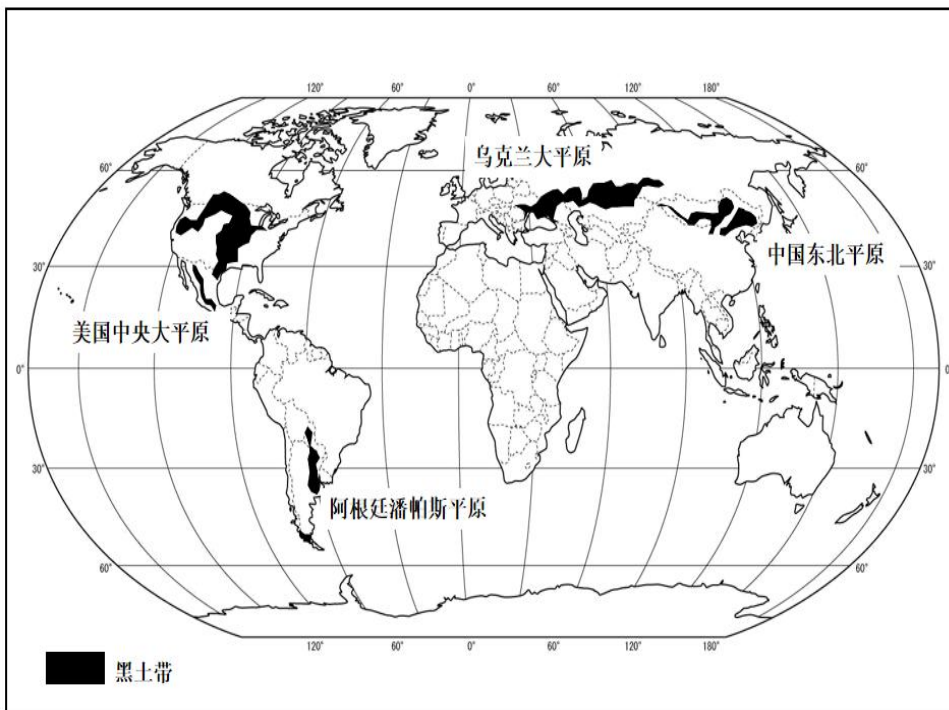
3. 尖毛草可能分布于 ()

- A. ① B. ② C. ③ D. ④

4. 尖毛草在生长根系的时期气候特征是 ()

- A. 高温多雨 B. 高温干燥 C. 寒冷干燥 D. 温和湿润

黑土性状好、肥力高，是非常适合植物生长的土壤，也是世界上最肥沃的土壤，只能形成于夏季温暖湿润、冬季严寒干燥的地区。图为世界黑土分布图，据此完成下面小题。



以上内容仅为本文档的试下载部分，为可阅读页数的一半内容。如要下载或阅读全文，请访问：<https://d.book118.com/858106006027006062>