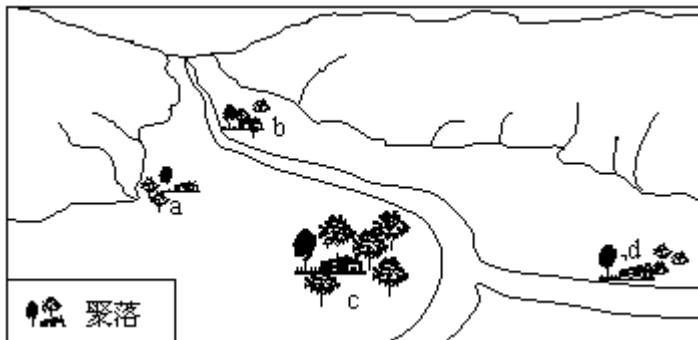


2010-2023 历年贵州省瓮安二中高一第一学期 期末考试地理试卷

第 1 卷

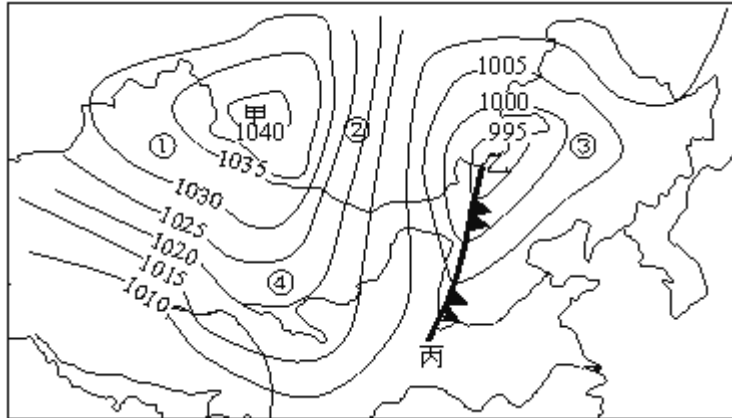
一. 参考题库(共 25 题)

1. 该图河谷中的四个乡村聚落，最有可能发展为城市的是（ ）



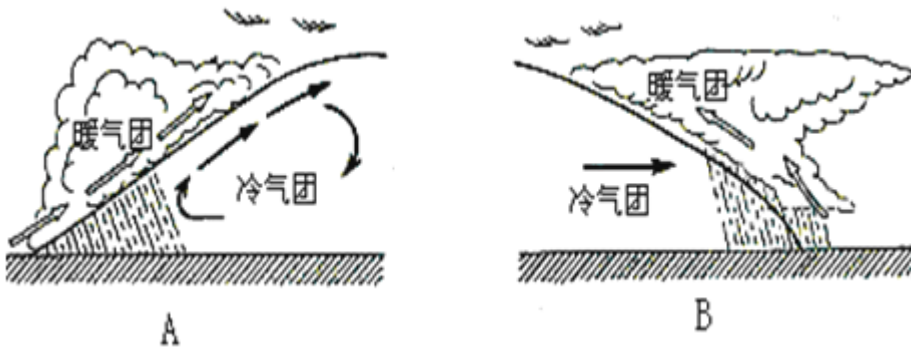
- A. a
- B. b
- C. c
- D. d

2. 该图为我国某日海平面气压 (hPa) 分布示意图 (局部)，读图回答以下问题 (每空 1 分，共 10 分)



(1) 图中甲地的天气系统是____ (高、低) 气压, 从气流看属于____ (气旋、反气旋), 在其控制下空气____ (上升、下沉), 多____ (晴朗、阴雨) 天气。

(2) 图中乙—丙为____ (冷、暖) 锋, 该锋面过境后, 其天气状况是_____。下面____图是这类锋面的剖面示意图 (填字母)。



(3) 图中①②③④四地, 风速最大的是_____原因是_____此时②地吹_____风。

3.北京时间 (东八区) 10月24日18时05分, 我国在西昌卫星发射中心用长征三号甲运载火箭将嫦娥一号卫星成功送入太空。嫦娥一号是我国自主研制的第一颗月球探测卫星, 它的发射成功, 标志着我国实施绕月探测工程迈出重要一步。

回答1——3题。

【小题1】下列不属于“嫦娥一号”飞行领域的是 ()

- A. 地月系
- B. 银河系

C. 河外星系

D. 总星系

【小题2】嫦娥一号发射时，在伦敦（中时区）的华侨在电视中看到该实况的时间是当地的（ ）

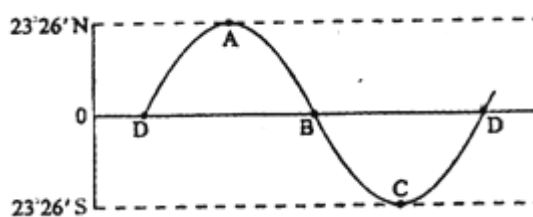
A. 10月24日0时05分

B. 10月24日10时05分

C. 10月23日0时05分

D. 10月23日10时05分

【小题3】该图是太阳直射点一年内移动轨迹图，当嫦娥一号发射时太阳直射点位于（ ）



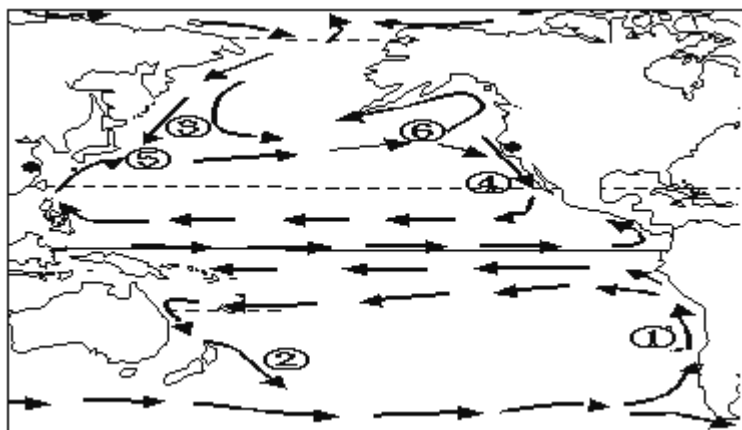
A. DA段

B. AB段

C. BC段

D. CD段

4. 下为太平洋洋流分布示意图，读图回答 17-20 题



【小题1】以下全部属于寒流的一组是（ ）

- A. ①③④
- B. ①②③
- C. ①②④
- D. ②③④

【小题2】太平洋中有两个重要渔场，它们是

- A. ⑤⑥
- B. ②⑥
- C. ③④
- D. ①⑤

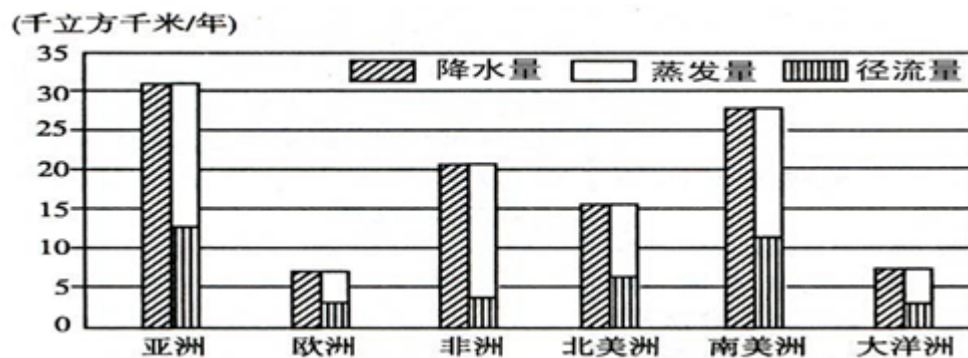
【小题3】有关洋流分布规律的叙述正确的是（ ）

- A. 北半球中高纬度海区，洋流呈顺时针方向流动
- B. 南半球中低纬度海区，洋流呈顺时针方向流动
- C. 中低纬度海区，大陆东岸是暖流
- D. 中高纬度海区，大陆西岸是寒流

【小题4】有关洋流对地理环境的影响，叙述正确的是（ ）

- A. 俄罗斯北冰洋沿岸的摩尔曼斯克形成不冻港，得益于暖流的影响
- B. 秘鲁西岸沿海的荒漠环境，与暖流经过、蒸发量增大有关
- C. 我国东部季风区冬季寒冷，主要是受沿岸的寒流影响
- D. 西欧的温带海洋性气候，是因为沿岸是寒暖流交汇区

5.读世界各大洲的水资源图，回答 32--34 题。



【小题1】衡量一个地区水资源丰歉程度的标准是（ ）

- A. 多年平均降水量
- B. 多年平均蒸发量
- C. 多年平均径流量
- D. 多年平均降水量加上蒸发量

【小题2】据图判断，水资源总量最多和最少的大洲分别是（ ）

- A. 亚洲 非洲
- B. 亚洲 大洋洲
- C. 南美洲欧洲
- D. 南美洲 大洋洲

【小题3】目前，人类比较容易利用的淡水资源主要是（ ）

- A. 河流水和湖泊水
- B. 地下水和冰川
- C. 河流水和深层地下水
- D. 河流水、淡水湖泊水和浅层地下水

6.下列山地属于断裂上升（断块山）形成的是（ ）

- A. 喜马拉雅山
- B. 阿尔卑斯山
- C. 富士山
- D. 泰山

7.一艘行驶于大洋的帆船,下列各处线速度最大是（ ）

- A. 船最前端
- B. 船帆
- C. 船底
- D. 桅杆顶端

8.“牵一发而动全身”，说明了地理环境的（ ）

- A. 差异性
- B. 整体性

- C. 综合性
- D. 区域性

9.就北半球而言, 夏季气压和风带 ()

- A. 北移
- B. 南移
- C. 东移
- D. 西移

10.每年 6、7 月间, 南京会出现连续的阴雨, 称为“梅雨”;7、8 月间又会出现持续的晴热天气, 称为“伏旱”。据此回答 14-15 题

【小题 1】形成“梅雨”的天气系统是

- A. 冷锋
- B. 暖锋
- C. 准静止锋
- D. 高压系统

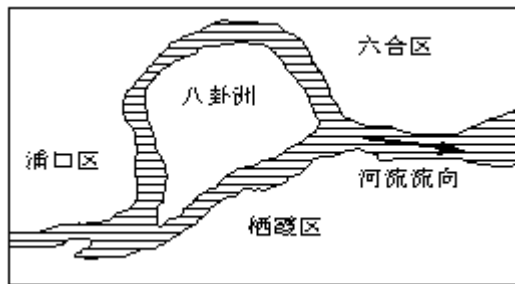
【小题 2】形成“伏旱”的天气系统是

- A. 高压系统
- B. 热带气旋
- C. 冷锋
- D. 低压系统

11.下列能源的形成与太阳辐射无关的是 ()

- A. 煤炭
- B. 水能
- C. 地热
- D. 风能

12.八卦洲是长江南京段中的一个河心岛，读图回答 28—29 题



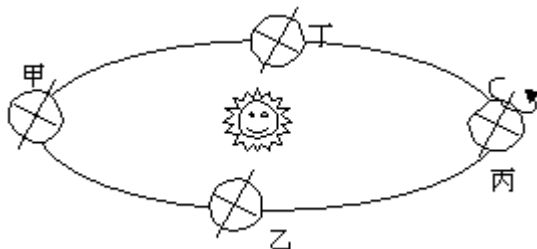
【小题 1】八卦洲的形成原因最可能是（ ）

- A. 地壳抬升作用形成的
- B. 地壳下陷作用形成的
- C. 长江的侵蚀作用形成的
- D. 长江挟带的泥沙堆积形成的

【小题 2】由于流水的侵蚀与堆积作用，长江河道及八卦洲未来的发展趋势最可能是（ ）

- A. 八卦洲将与长江南岸相连
- B. 八卦洲将与长江北岸相连
- C. 八卦洲以侵蚀为主，面积缩小
- D. 长江河道左偏，南岸淤塞

13.下为地球公转示意图，图中四点为两分两至日。读图回答 6-8 题



【小题 1】图中表示北半球夏至日（6 月 22 日）的是（ ）

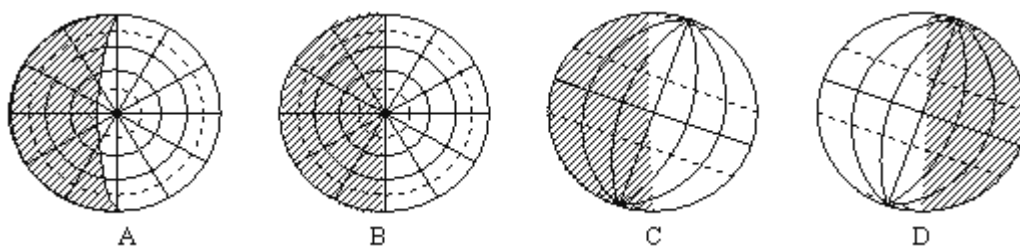
- A. 甲
- B. 乙

- C. 丙
- D. 丁

【小题 2】图中地轴与地球公转轨道面的夹角是（ ）

- A. 0°
- B. 90°
- C. $23^{\circ}26'$
- D. $66^{\circ}34'$

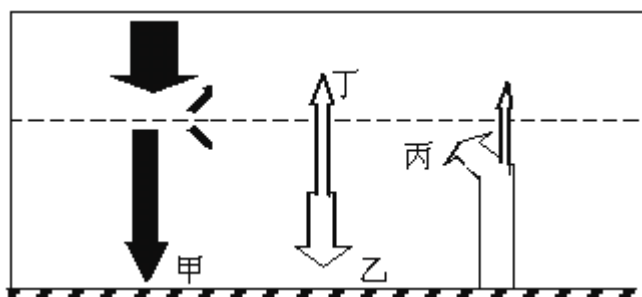
【小题 3】下列四幅图表示地球到达乙时光照情形的是



14.地球上储量最大的水体是（ ）

- A. 海洋水
- B. 河流水
- C. 冰川水
- D. 地下水

15.下为地球大气受热过程示意图，读图回答 9-10 题



【小题 1】有关图中各箭头及含义，说法正确的是。（ ）

- A. 甲是近地面大气能量的主要直接来源
- B. 乙是大气逆辐射，属于短波辐射
- C. 丙是近地面大气能量的主要直接来源
- D. 丁辐射逐渐增强，会导致全球变暖

【小题 2】对地面起保温作用的是（ ）

- A. 甲
- B. 乙
- C. 丙
- D. 丁

16. 太阳活动对地球产生的影响有 ()

- ① 干扰无线电短波通信
- ② 扰动地球磁场, 产生“磁暴”现象
- ③ 形成五带
- ④ 两极地区高空的一些极光

- A. ①②③④
- B. ①②④
- C. ②③④
- D. ①②③

17. 关于地方时与区时的叙述正确的是 ()

- A. 同一经线上的各地地方时相同
- B. 同一纬线上的各地地方时相同
- C. 同一时区内的各地地方时相同
- D. 同一时区内位于东边的地方区时比西边的地方区时早

18. 图中 A、B、C、D 四地位于同一纬度, 其昼夜温差最小的是该图中 A、B、C

、D 四地位于同一纬度, 其昼夜温差最小的是 ()



19. 下为某地地质剖面示意图, 读图回答 24~26



【小题 1】图中①~④四个岩层由新到老的排列，正确的是（ ）

- A. ①②③④
- B. ④③②①
- C. ①③②④
- D. ④②③①

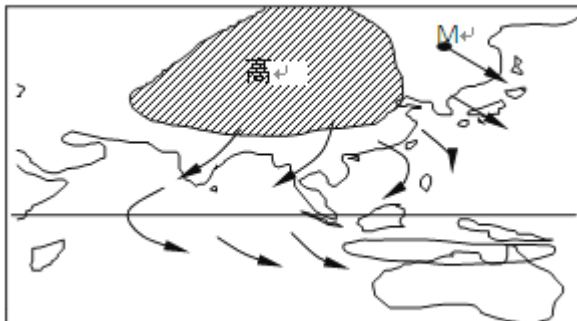
【小题 2】图中甲~丁四地中，属于背斜构造的是（ ）

- A. 甲
- B. 乙
- C. 丙
- D. 丁

【小题 3】其中甲地地形特征及形成原因，正确的叙述是（ ）

- A. 属于山岭，由于受挤压作用，岩层向上隆起
- B. 属于山谷，由于受挤压作用，岩层向下拗陷
- C. 属于山岭，由于受挤压作用，中心岩层坚实，不易被侵蚀
- D. 属于山谷，由于受张力作用，岩层破碎，易遭受外力侵蚀

20.该图为亚洲东部和南部某月气压与风向的示意图，读图回答 12-13 题



【小题 1】有关该图表示的时间，以及 M 点的风向，说法正确的是（ ）

A. 1月、西北风

以上内容仅为本文档的试下载部分，为可阅读页数的一半内容。

如要下载或阅读全文，请访问：

<https://d.book118.com/867062165104010001>