


# 2022 年吉林省长春市公务员省考行政职业能力测验真题(含答案)

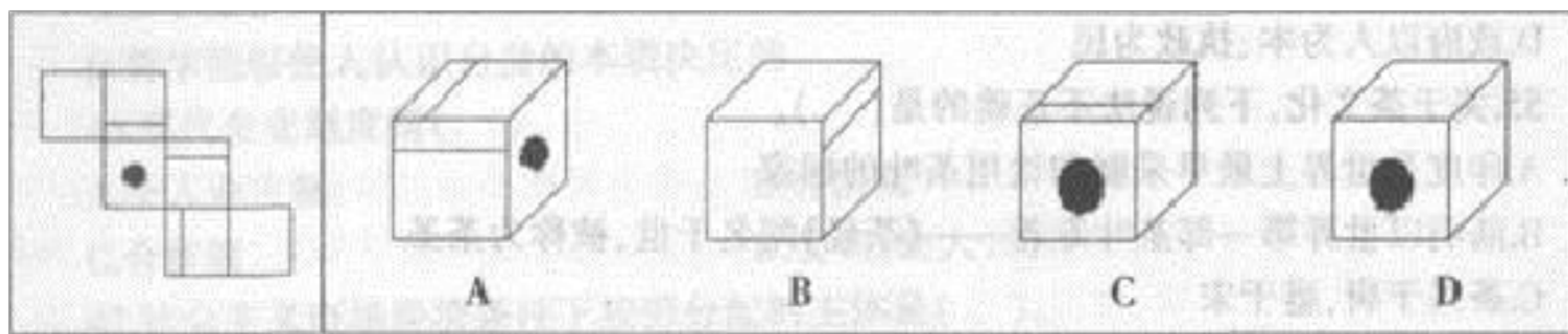
学校：\_\_\_\_\_ 班级：\_\_\_\_\_ 姓名：\_\_\_\_\_ 考号：\_\_\_\_\_

## 一、图形推理(6题)

1. 从所给的四个选项中，选择最合适的一个填入问号处，使之呈现一定的规律性：



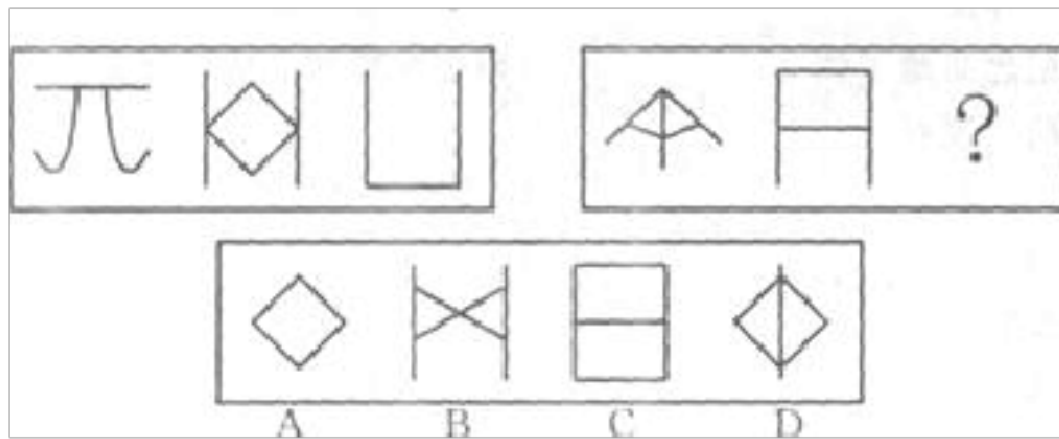
2. 左边给定的是纸盒的外表面，下面哪一项能由它折叠而成？



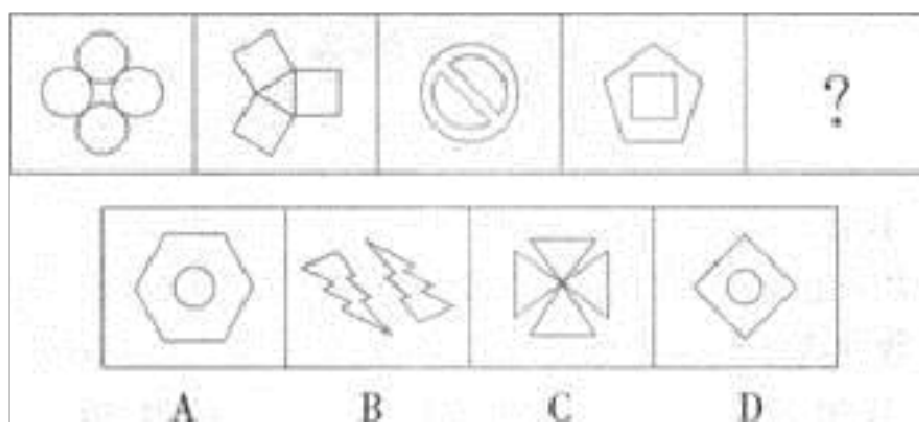
3.

从所给的四个选项中，选择最合适的一个填入问号处，使之呈现一定的规律性：

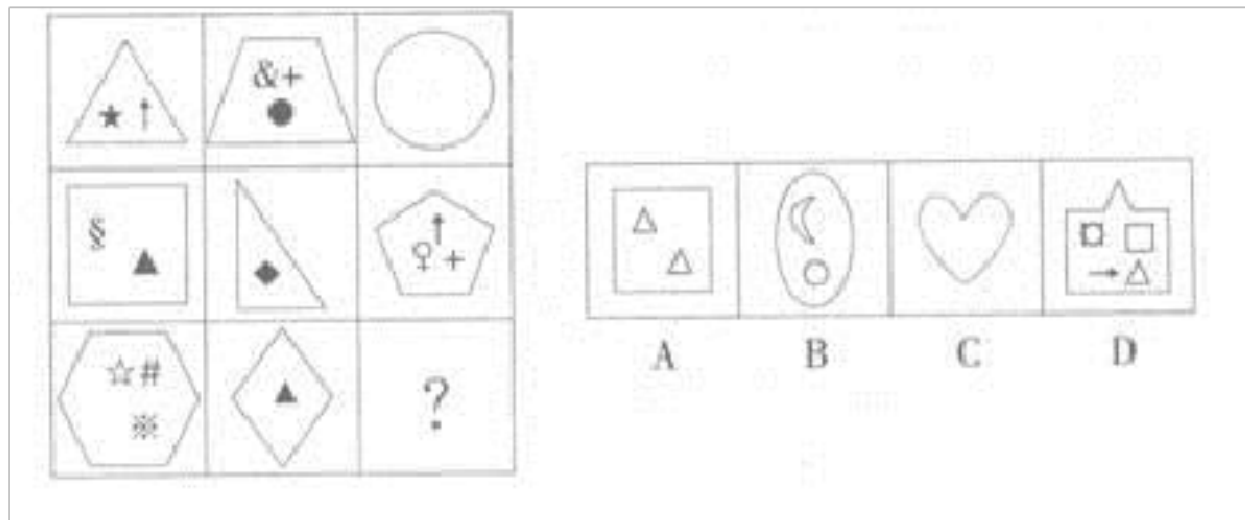
4.



5. 从所给的四个选项中，选择最合适的一个填入问号处，使之呈现一定的规律性。



6. 从所给的四个选项中，选择最合适的一个填入问号处，使之呈现一定的规律性。



## 二、定义判断(10题)

7. 代际效应指后一代人受前一代的影响并很难脱离上一代人的社会现象。比如低收入阶层的儿女，在受教育、工作等方面得不到与富裕阶层平等的待遇。

根据上述定义，以下属于代际效应的是：

- A. 毕业前夕，各大高校应届生忙碌地奔向无数的招聘会场，竭力表现自己优秀的一面，希望心仪的企业能看中自己
- B. 很多家境一般的学生上了高职学校，毕业时不少中小企业来学校挖人，这些企业宣称他们就需要这种技术型人才
- C. 小岳被一家大型外资企业顺利签下，后来他无意中得知，自己的叔叔也在这家企业的另一个子公司工作
- D. 小金就读于某民办大学的财会专业，虽然很多名校的会计类专业的学生都为找不到对口的工作而发愁，他却一点也不担心，亲戚所在的一家企业提前说好，让他毕业后立即去工作

8.模因指在语言、观念、信仰、行为方式等的传递过程中，与基因在生物进化过程中所起作用类似的那个东西，即通过非遗传方式一代一代传承下来的文化单元。根据上述定义，下列不属于模因的是（）

- A.由于禁止跨越等级的婚姻，种姓制度中各等级职业世袭
- B.自由与民主的思想经过几代人的弘扬使帝制复辟不得人心
- C.信仰不断在信教者中传承，且一些宗教上的解释与时俱进
- D.人们通过传唱诗歌保留了许多神话时代已不可考证的历史

9. 地方性法规，指地方政权机关为贯彻执行宪法、法律、行政法规的规定所制定和颁布的规范性文件，仅在其管辖的地区内具有效力。其前提是不违背宪法、法律、行政法规的规定。下列属于地方性法规的是：

- A.李庄村民委员会一致讨论通过，作出了不得在河里洗农具的村规
- B.县政府向省政府请示是否可以举办一个国际展览的文件
- C.市人大通过了禁养狗类动物的条例，但与省人大的有关规定不符
- D.珠海市人大颁布在该经济特区内兑换外币的规定，从颁布日起实施

10.工作生活品质是指组织的目的不应该只是追求绩效的提升，也应该重视人员的满意度，甚至是增进组织全体人员的繁荣幸福感。其主要涉及员工的身心发展、工作环境、生涯发展、决策参与、工作保障与福利、资讯分享等。

根据上述定义，下列不符合工作生活品质的是（ ）。

- A.某企业通过专家咨询与调查等方式，了解并帮助员工解决工作生活上

的压力

B.某公司构建“全员参与型”的决策模式，增强员工的责任感和主人翁意识

C.某单位定期对员工进行教育培训，不断提高员工的理论水平和业务技能

D.某医院人力资源部没有为新入职的医生提供相应的职业生涯发展指导和咨询

11. 税负转嫁是指纳税人为了达到减轻税负的目的，通过价格的调整和变动，将税负转嫁给他人承担的经济行为。这里所说的价格，不仅包括产出的价格，而且包括生产要素的价格。

根据以上定义，下列 A 企业的行为不存在税负转嫁的是（ ）。

A.政府决定对棉纱厂征收棉纱税，为了保证利润不变，A 棉纱厂遂提高了卖给棉布制造商的棉纱出厂价

B.政府决定提高 S 省的电脑生产企业增值税税率，芯片企业 Y 公司提高了在 S 省的电脑芯片销售价格，致使电脑生产公司 A 生产成本上升，利润减少

C.从今年开始，红酒酿造厂每生产一瓶红酒须缴纳的红酒税由 1 元升为 3 元，为了降低成本，A 红酒厂压低了葡萄的进货价

D.为了遏制高能耗企业的扩张，政府决定对传统钢材加征碳税，传统钢材厂 A 为了保证市场份额，不肯提高售价，不得已降低了工人的工资

12. 城市群：指在特定的区域范围内聚集相当数量的不同性质、类型和等级规模的城市，以一个或两个特大城市为中心，依托一定的自然环境和交通条件，城市之间的内在联系不断加强，共同构成一个相对完整的城市“集合体”。

根据上述定义。下面属于城市群的是：

A.浙江省 B.华东六省一市 C.长三角经济区 D.港澳台地区

13.

经济区域是人的经济活动所造就的、围绕经济中心而客观存在的、具有特定地域构成要素并且不可无限分割的经济社会综合体。

根据上述定义，下列各项不属于经济区域的是：

A.珠三角经济区 B.长三角经济区 C.北美自由贸易区 D.联合国粮农组织

14.行政成本：政府为了社会的公共管理和为公众提供公共服务付出的代价，包括直接行政成本和间接行政成本。根据上述定义，下列没有涉及行政成本的一项是（ ）。

A.某政府部门为了提高工作效率合并机构、精简工作人员  
B.某区政府为了应对私家车增多的问题，新建了两个地下公共停车场  
C.某商业银行为方便广大用户处理业务，耗费巨资开通了手机银行业务  
D.某公安局招聘交通协管员协助交警维护交通秩序

15. 行为经济学认为，互惠行为是一种条件合作行为，是对善意和助人

的行为进行回报。互惠行为通过实施报答的形式而使对方获得利益，这种报答往往通过降低或损害自我利益而实现。根据上述定义，下列属于互惠行为的是( )

- A.企业家刘志刚每年捐款资助癌症患者，获得社会各界的赞誉
- B.为了感谢同事救了自己落水的孩子，李玲让出了自己升职加薪的机会
- C.小王利用空余时间帮助新来的大学生熟悉业务，自己也因此得到锻炼
- D.为了长期的共同合作，总经理给供货商提供了很多优厚条件

16. 全球运筹管理是指将全球不同地理位置的原物料、制造能力、劳动力以及市场做最好的组合，以达到最有效率的目的。

根据上述定义，下列描述属于全球运筹管理的是( )。

- A.海尔走出国门后，将企业的财务、制造、配送、行销、管理等各方面的活动进行全球化整合，结合资金流、资讯流、商流与物流等环节，降低营运成本，增强企业竞争力
- B.全球著名电信设备制造商法国阿尔卡特公司和美国朗讯公司签署合并协议，准备成立新公司
- C.台湾某企业获得诺基亚在中国大陆地区的手机销售权
- D.美国杀毒软件 Norton 登陆中国，与金山、卡巴斯基、瑞星等分庭抗礼

### 三、常识判断(10题)

17.第 8 题 2009 年 9 月 15 日至 18 日在北京举行的党的十七届四中全会审议通过了( )。

- A. 《中共中央关于加强和改进新形势下党的建设若干重大问题的决定》
- B. 《中共中央关于推进农村改革发展若干重大问题的决定》
- C. 《中共中央关于加强党的执政能力建设的决定》
- D. 《中共中央关于深化行政管理体制改革的意见》

18.第 76 题 人们常说“苍蝇不叮无缝的蛋”。这句话主要说明了（ ）。

- A. 内因是事物变化的唯一原因
- B. 内因是事物变化发展的根据
- C. 矛盾是事物发展的动力
- D. 外因是事物发展变化的条件

“两弹”的研制成功，加强了我国的国防力量，提高了中国的政治地位。也打破了帝国主义的核垄断，对维护世界和平具有重要意义。被称为“两弹元勋”的科学家是：

- A.邓稼先 B.钱学森 C.袁隆平 D.吴阶平

20.孟子在《告子下》中说：“天将降大任于斯人也，必先苦其心志，劳其筋骨，饿其体肤，空乏其身，行指乱其所为，所以动心忍性，曾益其所不能……然后知生于忧患而死于安乐也。”这主要说明，在实践中自我修养应该（ ）。

- A.不畏困难，磨炼意志
- B.坐而论道，闭门造车
- C.自我欣赏，自我陶醉
- D.虚心学习，择善而从

21.

第 74 题 既包含政府的行政职责，也包含政府的行政功能的是（ ）。

- A. 行政计划
- B. 行政领导
- C. 行政职能
- D. 机关管理

22. 党的十八大报告把（ ）放在突出地位。纳入“五位一体”的总体布局，努力建设美丽中国，实现中华民族永续发展。

- A. 社会建设
- B. 文化建设
- C. 生态文明建设
- D. 政治建设

23. 下列选项中三国典故与哲学论断对应错误的是（ ）。

- A. 士别三日，当刮目相看——用发展的眼光看问题
- B. 草船借箭——人可以认识并利用规律
- C. 张飞醉酒失徐州，借酒破张郃——矛盾是对立统一的
- D. 望梅止渴——理性认识依赖于感性认识

24.

下列国家及其新兴电子工业基地的对应关系，正确的是：

- A. 德国—“硅谷”
- B. 英国—英格兰
- C. 日本—九州岛
- D. 美国—慕尼黑

25. 中国古代绘画中提倡“知画之为物，是性灵者也，思想者也，活动者也，非器械者也，非单纯者也”。该画应属于（ ）

- A. 山水画，描绘自然景观
- B. 文人画，强调内心情感
- C. 花鸟画，着意追求形似
- D. 人物画，注重人物故事

26. 下列说法错误的是：

- B.15 世纪新航路的开辟开启了世界经济全球化的进程
- C.17 世纪英国通过工业革命成为当时世界上最发达的工业国
- D.19 世纪法国颁布的《拿破仑法典》是资产阶级国家最早的民法典

(10 题)

27.第 118 题 甲、乙两个书架，甲书架有书 600 本，从甲书架借出  $\frac{1}{3}$ ，从乙书架借出 75% 后，甲书架的书比乙书架书的 2 倍还多 150 本，乙书架原有书多少本？（ ）。

- A. 400
- B. 500
- C. 600
- D. 700

28. 把自然数 A 的十位数、百位数和千位数相加，再乘以个位数字，将所得积的个位数字续写在 A 的末尾，成为对 A 的一次操作。设  $A=4626$ ，对 A 进行一次操作得到 46262。再对 46262 操作，由此进行下去，直到得出 2010 位的数为止，则这个 2010 位数的各位数字之和是（ ）

- A.28
- B.32
- C.24
- D.26

29.小王和小李一起录入信息，小王比小李晚一天开始工作，且两人同时结束，已知小王的速度是小李的 1.2 倍，小李工作了 6 天。问小王一个人完成这项工作，需要多少天？

B.10 天 C.12 天 D.14 天

30.一家公司销售两种商品 A 和 B，利润率分别为 10%和 20%。已知公司共盈利 3000 元，两种商品的总成本之和与商品 A 的销售额相等。问商品 A 的总成本是多少元？

A.2500 元 B.5000 元 C.18000 元 D.25000 元

31.第 115 题 甲、乙二人由圆形池边的同一地方，按相反方向同时出发，于途中相遇后继续前进，甲从相遇地点到出发地需用 4 分钟，乙从相遇地点到出发地需用 9 分钟，甲、乙二人各行一周分别需用多少分钟？( )。

**A. 12, 15**

**B. 10, 15**

**C. 10, 12**

**D. 12, 18**

32.小周、小雷、小何三人参加单位组织的田径比赛，已知小周的速度比小雷快 50% ，小雷的速度比小何快 50% 。如果小周和小雷参加比赛所用时间之和为 1 小时。问小何参加比赛用了多少分钟 ( )

A.80 B.46 C.54 D.56

33.

1, 2, 3, 7, 46, ( )。

A.2109 B.1289 C.322 D.147

34.

的和都等于 13，小张能看到顶面和两个侧面，看到的三个数和为 18；小李能看到顶面和另外两个侧面，看到的三个数的和为 24，那么贴着桌子的这一面的数是多少？

以上内容仅为本文档的试下载部分，为可阅读页数的一半内容。如要下载或阅读全文，请访问：<https://d.book118.com/868022060116006033>