

## 2024届西藏拉萨市科目一模拟考试100题(带答案版)

1、已注册登记的机动车，机动车所有人住所在车辆管理所管辖区域内迁移或者机动车所有人姓名（单位名称）、联系方式变更的，应当向登记地车辆管理所备案。

A、正确

B、错误

正确答案：A

分析：修订后的《机动车登记规定》已经2008年4月21日公安部部长办公会议通过，自2008年10月1日起施行。第十七条规定：已注册登记的机动车，机动车所有人住所在车辆管理所管辖区域内迁移或者机动车所有人姓名(单位名称)、联系方式变更的，应当向登记地车辆管理所备案。

2、驾驶机动车在这种信号灯亮的路口，可以右转弯。



A、正确

B、错误

正确答案：A

分析：没有问题，在红灯为圆圈，而不是方向箭头和红叉时候，右转弯的车辆只要安全的情况下就可以右转。

3、这个标志的含义是告示车辆驾驶人应慢行或停车，确保干道车辆优先。



A、正确

B、错误

正确答案：A

分析：警告标志告示车辆驾驶人应慢行或停车，确保干道车辆优先。

4、驾驶人要按照驾驶证载明的准驾车型驾驶车辆。

A、正确

B、错误

正确答案：A

分析：常识题，你 c1 的本肯定不能去开大货和大客。

5、如图所示，在这种情况下，会车时必须减速靠右通过。



A、正确

B、错误

正确答案：A

分析：道路窄，会车要减速靠右。

6、雨天路面湿滑，车辆制动距离增大，行车中尽量使用紧急制动减速。

A、正确

B、错误

正确答案：B

分析：因为路面比较滑，如果紧急制动（急刹车），容易造成车辆失控，所以用发动机制动。

7、这个路面标记是何含义？



A、自行车专用道

B、非机动车道

C、摩托车专用道

D、电瓶车专用道

正确答案：B

分析：如果出行请环保出行，这是非机动车（就是不烧油的）不要把四轮的开到他们的道上

8、小型汽车驾驶人发生交通事故造成人员死亡，承担同等以上责任未被吊销驾驶证的，应当在记分周期结束后 30 日内接受审验。

A、正确

B、错误

正确答案：A

分析：2013《123号令》第六十条..持有本条第三款规定以外准驾车型驾驶证的驾驶人，发

生交通事故造成人员死亡承担同等以上责任未被吊销机动车驾驶证的,应当在本记分周期结束后三十日内到公安机关交通管理部门接受审验。

9、驾驶人在实习期内驾驶机动车上高速公路行驶,应当由持相应或者包含其准驾车型驾驶证( )年以上的驾驶人陪同。

A、5

B、2

C、3

D、1

正确答案: C

分析:《机动车驾驶证申领和使用规定》规定:驾驶人在实习期内驾驶机动车上高速公路行驶,应当由持相应或者包含其准驾车型驾驶证三年以上的驾驶人陪同。其中,驾驶残疾人专用小型自动挡载客汽车的,可以由持有小型自动挡载客汽车以上准驾车型驾驶证的驾驶人陪同。

10、驾驶机动车遇到非机动车违法在机动车道上行驶,并阻碍机动车前进时,以下做法错误的是什么?

A、注意非机动车辆的动向,减速行驶

B、谨慎驾驶低速通过

C、持续鸣喇叭警告非机动车避让

D、保持与非机动车安全车距

正确答案: C

分析:驾驶机动车遇到非机动车违法在机动车道上行驶,并阻碍机动车前进时,应该注意非机动车辆的动向减速行驶;谨慎驾驶低速通过;保持与非机动车安全车距;避让非机动车。请!题目要求选出做法错误的选项,因此“持续鸣喇叭警告非机动车避让”做法错误。

11、驾驶机动车通过没有交通信号的交叉路口怎样行驶?

A、减速慢行

B、加速通过

C、大型车先行

D、左侧车辆先行

正确答案：A

分析：减速慢行并且观察路况，搞不好哪里飞出辆车来。

12、持有 C1 驾驶证的机动车驾驶人，只能驾驶自动挡汽车。

A、正确

B、错误

正确答案：B

分析：C1 驾驶证的准驾车型有：小型、微型载客汽车以及轻型、微型载货汽车；轻型、微型专项作业车，准予驾驶的其他准驾车型包含 C2、C3、C4。

13、车速超过规定时速的 20% 但不到 50% 的，一次记几分？

A、12 分

B、6 分

C、3 分

D、2 分

正确答案：B

分析：机动车在道路上行驶，违反限速规定的，按下列规定处罚：超过规定时速 50% 以上，扣 12 分；超过规定时速 20% 以上未达到 50% 的，扣 6 分；超速 10% 不足 20% 的，扣 3 分；不足 10% 的不予以处罚，不予处罚。

14、驾驶车辆驶入铁路道口前减速降挡，进入道口后可以变换档位。

A、正确

B、错误

正确答案：B

分析：不能变换档位，驾驶车辆进入铁道路口前减速降档，进了就不能换挡，以防换挡不当熄火，铁路路口熄火停车，非常危险。

15、发生无人员伤亡的、财产轻微损失的交通事故后，以下做法正确的是什么？

A、必须报警，等候警察处理

B、开车离开现场

C、确保安全的情况下，对现场拍照，然后将车辆移至路边等不妨碍交通的地点

D、停在现场保持不动

正确答案：C

分析：《中华人民共和国道路交通安全法实施条例》第八十六条规定：机动车与机动车、机动车与非机动车在道路上发生未造成人身伤亡的交通事故，当事人对事实及成因无争议的，在记录交通事故的时间、地点、对方当事人的姓名和联系方式、机动车牌号、驾驶证号、保险凭证号、碰撞部位，并共同签名后，撤离现场，自行协商损害赔偿事宜。当事人对交通事故事实及成因有争议的，应当迅速报警。”

16、驾驶营运客车以外的机动车非紧急情况下在高速公路应急车道上停车的，对驾驶人处以（）的处罚。

A、罚款 200 元、驾驶证记 6 分

B、罚款 200 元、驾驶证记 3 分

C、罚款 100 元、驾驶证记 3 分

D、罚款 100 元、驾驶证记 6 分

正确答案：A

分析：《道路交通安全违法行为记分管理办法》规定：驾驶机动车在高速公路或者城市快速路上违法占用应急车道行驶的，处 200 元罚款，记 6 分。

17、车辆下坡行驶，要适当控制车速，充分利用发动机进行制动。

A、正确

B、错误

正确答案：A

分析：在下坡时，有人为了省油，就挂空档，采用惯性下坡，这样时间一长，刹车的压力就不够了，容易出现刹车失效，所以不提倡挂空档，不挂空档，就是让发动机和变速器连接，这个时候车下坡时不是靠惯性的，而是靠发动机行驶的，就好像发动机带着你走，不让你的车自己走快，这个就是发动机制动。

18、当您即将通过交叉路口的時候，才意识到要左转而不是向前，以下说法正确的是什么？

- A、停在交叉路口，等待安全时左转
- B、继续向前行驶
- C、在确保安全的情况下，倒车然后左转
- D、以上说法都不正确

正确答案：B

分析：题目的意思我拓展为，你走在直行道上，快到斑马线了，想起回家要左转才行，但此时不能变道了（不能跨实现变道），只能继续向前行驶，所以选B。

19、在道路上跟车行驶时，跟车距离不是主要的，只须保持与前车相等的速度，即可防止发生追尾事故。

- A、正确
- B、错误

正确答案：B

分析：举个例子吧：你们都是以100速前进，只隔了1米，前面猛的刹车，你觉得你能在1米内刹住车吗？明显不能，所以此题错了！

20、这个标志是何含义？



- A、直行车道
- B、只准直行
- C、单行路

D、向右转弯

正确答案：D

分析：向右转弯：表示只准一切车辆向右转弯。此标志设在车辆必须向右转弯的路口以前适当位置。

21、驾驶人在机动车驾驶证的6年有效期内，每个记分周期均未达到12分的，换发10年有效期的机动车驾驶证。

A、正确

B、错误

正确答案：A

分析：本题答案：正确，每个记分周期均未达到12分的，换发10年有效期的机动车驾驶证。

22、遇到图中这种情况，哪种驾驶行为是正确的？



A、向左转弯通过路口

B、在路口掉头行驶

C、直行通过路口

D、向右转弯通过路口

正确答案：D

分析：图中右转绿灯亮，表示可以右转弯。

23、驾驶机动车在道路上发生交通事故，任何情况下都应标明现场位置后，先行撤离现场。

A、正确

B、错误

正确答案：B

分析：因为根据交通安全法的规定，如果机动车在道路上发生了事故，那么必须要马上停车保护现场，如果有人员伤亡的情况，驾驶人应该马上去抢救受伤人员。并且报告执勤的交警或交通管理部门。如果因为抢救伤员而变动了现场的话，就要表明位置。路人或过往的车辆驾驶人或乘客都应该协助帮忙。如果在道路上发生交通事故，没有造成人员伤亡的，当事人没有对事故有任何争议的，可以撤离现场恢复交通次序，双方自行协商处理损害赔偿就行了。如果说有争议的话，那么不要撤离现场，需要马上报个相关的交警来处理。

24、图中这辆红色机动车选择的行车道是正确的。



A、正确

B、错误

正确答案：B

分析：中间红灯表示中间车道禁行。因此红色机动车不可以在该车道行驶。

25、遇有这种排队等候的情形怎么做？



A、依次排队等候

B、从右侧借道超越


C、从左侧跨越实线超越

D、从两侧随意超越

正确答案：A

分析：大家都排队你凭什么不排队。

26、机动车仪表板上（如图所示）亮时，表示什么？



A、车前后位置灯亮起

B、右转向指示灯闪烁

C、左转向指示灯闪烁

D、车前后示宽灯亮起

正确答案：C

分析：左转向灯，这个没有问题吧。。。老衲也不知如何解释这个题。万一不知道，死记。

27、机动车未达到国家强制报废标准，机动车所有人自愿报废的，机动车所有人应当向哪个车辆管理所申请注销登记？

A、居住地

B、暂住地

C、户籍地

D、登记地

正确答案：D

分析：《机动车登记规定》规定，机动车有下列情形之一的，机动车所有人应当向登记地车辆管理所申请注销登记：（一）机动车已达到国家强制报废标准的；（二）机动车未达到国家强制报废标准，机动车所有人自愿报废的；（三）因自然灾害、失火、交通事故等造成机动车灭失的；（四）机动车因故不在我国境内使用的；（五）因质量问题退车的。属于第一款第四项、第五项规定情形的，机动车所有人申请注销登记前，应当将涉及该车的道路交通安全违法行为和事故处理完毕。属于二手车出口符合第一款第四项规定情形的，二手车出口企业应当在机动车办理海关出口通关手续后二个月内申请注销登记。

28、醉驾可构成危险驾驶罪。

A、正确

B、错误

正确答案：A

分析：在道路上驾驶机动车，有下列情形之一的，构成危险驾驶罪：（一）追逐竞驶，情节恶劣的；（二）醉酒驾驶机动车的；（三）从事校车业务或者旅客运输，严重超过额定乘员载客，或者严重超过规定时速行驶的；（四）违反危险化学品安全管理规定运输危险化学品，危及公共安全的。

29、机动车登记证书丢失后应及时补办，避免被不法分子利用。


A、正确

B、错误

正确答案：A

分析：机动车登记证书丢失后应尽快补办，是正确的。

30、这个标志是何含义？



A、靠左侧道路行驶

B、只准向左转弯

C、左侧是下坡路段

D、靠道路左侧停车

正确答案：A

分析：靠左侧道路行驶：表示只准一切车辆靠左侧道路行驶。此标志设在车辆必须靠左侧行

驶的路口以前适当位置。


31、补发、换发号牌期间，申请人可以申领有效期不超过多少日的临时行驶车号牌？

- A、五日
- B、十五日
- C、三日
- D、十日

正确答案：B

分析：《机动车登记规定》规定：机动车号牌灭失、丢失或者损毁的，机动车所有人应当向登记地车辆管理所申请补领、换领。申请时，机动车所有人应当确认申请信息并提交身份证明。车辆管理所应当审查提交的证明、凭证，收回未灭失、丢失或者损毁的号牌，自受理之日起十五日内补发、换发号牌，原机动车号牌号码不变。补发、换发号牌期间，申请人可以申领有效期不超过十五日的临时行驶车号牌。补领、换领机动车号牌的，原机动车号牌作废，不得继续使用。

32、图中驾驶人的这种违法行为会被记多少分？



- A、记6分
- B、记9分
- C、记3分
- D、记2分

正确答案：D

分析：驾驶机动车接打手机的一次记2分；在城市快速路或高速公路上以外的道路行驶时，驾驶人未按照要求系安全带，罚款50元，不扣分；

33、机动车在高速公路上发生故障或交通事故后，驾驶人未按规定使用危险报警闪光灯的，对其处以罚款 100 元、驾驶证记 3 分的处罚。

A、正确

B、错误

正确答案：B

分析：在道路上车辆发生故障、事故停车后，未按规定使用灯光或者设置警告标志的，罚款 200，记 3 分。

34、道路没有划分机动车道、非机动车道和人行道的，以下说法正确的是什么？

A、机动车在道路左侧通行，非机动车和行人随意通行

B、机动车在道路左侧通行，非机动车和行人在道路两侧通行

C、机动车在道路中间通行，非机动车和行人在道路两侧通行

D、机动车、非机动车和行人可随意通行

正确答案：C

分析：驾驶机动车经过无划分车道的道路时，机动车在道路中间通行，非机动车和行人在道路两侧通行。

35、以下哪个代号表示中型载货汽车？

A、B2

B、B1

C、A2

D、A1

正确答案：A

分析：A1 代表大型客车，准驾大型载客汽车；A2 代表重型牵引挂车，准驾总质量大于 4500kg 的汽车列车；B1 代表中型客车，准驾中型载客汽车（含核载 10 人以上、19 人以下的城市公共汽车）；B2 代表大型货车，重型、中型载货汽车；重型、中型专项作业车。

36、已注册登记的机动车达到国家规定的强制报废标准的，应当向登记地车辆管理所申请注销登记。

A、正确

B、错误

正确答案：A

分析：《中华人民共和国道路交通安全法》第二章第十四条规定：应当报废的机动车必须及时办理注销登记。达到报废标准的机动车不得上道路行驶。报废的大型客、货车及其他营运车辆应当在公安机关交通管理部门的监督下解体。

37、在以下路段不能倒车的是什么？

A、交叉路口

B、隧道

C、急弯

D、以上皆是

正确答案：D

分析：这些都是危险路段，倒车容易引发事故，所以都不能倒车。

38、下列哪种违法行为的机动车驾驶人将被一次记9分？

A、驾驶机动车不按照规定避让校车的

B、驾驶机动车不按交通信号灯指示通行的

C、驾驶故意污损号牌的机动车上道路行驶

D、机动车驾驶证被暂扣期间驾驶机动车的

正确答案：C

分析：《道路交通安全违法行为记分管理办法》规定，机动车驾驶人有下列交通违法行为之一，一次记9分：（一）驾驶7座以上载客汽车载人超过核定人数百分之五十以上未达到百分之百的；（二）驾驶校车、中型以上载客载货汽车、危险物品运输车辆在高速公路、城市快速路以外的道路上行驶超过规定时速百分之五十以上的；（三）驾驶机动车在高速公路或者城市快速路上违法停车的；（四）驾驶未悬挂机动车号牌或者故意遮挡、污损机动车号牌的机动车上道路行驶的；（五）驾驶与准驾车型不符的机动车的；（六）未取得校车驾驶资格驾驶校车的；（七）连续驾驶中型以上载客汽车、危险物品运输车辆超过4小时未停车休

息或者停车休息时间少于 20 分钟的。

39、驾驶人有下列哪种违法行为一次记 6 分？

- A、造成致人轻伤以上或者死亡的交通事故后逃逸，尚不构成犯罪的
- B、造成致人轻微伤或者财产损失的交通事故后逃逸，尚不构成犯罪的
- C、使用伪造、变造的机动车号牌
- D、驾驶机动车在高速公路或者城市快速路上不按规定车道行驶的

正确答案：B

分析：《道路交通安全违法行为记分管理办法》规定，机动车驾驶人有下列交通违法行为之一，一次记 6 分：（一）驾驶校车、公路客运汽车、旅游客运汽车载人超过核定人数未达到百分之二十，或者驾驶 7 座以上载客汽车载人超过核定人数百分之二十以上未达到百分之五十，或者驾驶其他载客汽车载人超过核定人数百分之五十以上未达到百分之百的；（二）驾驶校车、中型以上载客载货汽车、危险物品运输车辆在高速公路、城市快速路上行驶超过规定时速未达到百分之二十，或者在高速公路、城市快速路以外的道路上行驶超过规定时速百分之二十以上未达到百分之五十的；（三）驾驶校车、中型以上载客载货汽车、危险物品运输车辆以外的机动车在高速公路、城市快速路上行驶超过规定时速百分之二十以上未达到百分之五十，或者在高速公路、城市快速路以外的道路上行驶超过规定时速百分之五十以上的；（四）驾驶载货汽车载物超过最大允许总质量百分之五十以上的；（五）驾驶机动车载运爆炸物品、易燃易爆化学物品以及剧毒、放射性等危险物品，未按指定的时间、路线、速度行驶或者未悬挂警示标志并采取必要的安全措施的；（六）驾驶机动车运载超限的不可解体的物品，未按指定的时间、路线、速度行驶或者未悬挂警示标志的；（七）驾驶机动车运输危险化学品，未经批准进入危险化学品运输车辆限制通行的区域的；（八）驾驶机动车不按交通信号灯指示通行的；（九）机动车驾驶证被暂扣或者扣留期间驾驶机动车的；（十）造成致人轻微伤或者财产损失的交通事故后逃逸，尚不构成犯罪的；（十一）驾驶机动车在高速公路或者城市快速路上违法占用应急车道行驶的。

40、这个标志是何含义？



A、限制高度为 3.5 米

- B、限制宽度为 3.5 米
- C、解除 3.5 米限高
- D、限制车距为 3.5 米

正确答案：A

分析：限制高度为 3.5 米：表示禁止装载高度超过标志所示数值的车辆通行。此标志设在最大允许高度受限制的地方。以图为例：装载高度不得超过 3.5 米。

41、行车中遇儿童时，应怎样做？

- A、长鸣喇叭催促
- B、减速慢行，必要时停车避让
- C、迅速从一侧通过
- D、加速绕行

正确答案：B

分析：请尊老爱幼。

42、这个标志是何含义？



- A、禁止直行
- B、禁止掉头
- C、禁止变道
- D、禁止左转

正确答案：B

分析：禁止掉头：表示前方路口禁止一切车辆掉头。此标志设在禁止掉头的路口前适当位置。

43、这个标志是何含义？



A、N 型弯路

B、急转弯路

C、反向弯路

D、连续弯路

正确答案：C

分析：反向弯路：用以警告车辆驾驶人减速慢行。设置位置为两反向圆曲线起点的外面，但不应进入相邻的圆曲线内。

44、机动车驾驶人造成致人轻伤以上或者死亡的交通事故后逃逸，尚不构成犯罪的，一次记 12 分。

A、正确

B、错误

正确答案：A

分析：《道路交通安全违法行为记分管理办法》规定，机动车驾驶人有下列交通违法行为之一，一次记 12 分：（一）饮酒后驾驶机动车的；（二）造成致人轻伤以上或者死亡的交通事故后逃逸，尚不构成犯罪的；（三）使用伪造、变造的机动车号牌、行驶证、驾驶证、校车标牌或者使用其他机动车号牌、行驶证的；（四）驾驶校车、公路客运汽车、旅游客运汽车载人超过核定人数百分之二十以上，或者驾驶其他载客汽车载人超过核定人数百分之百以上的；（五）驾驶校车、中型以上载客载货汽车、危险物品运输车辆在高速公路、城市快速路上行驶超过规定时速百分之二十以上，或者驾驶其他机动车在高速公路、城市快速路上行驶超过规定时速百分之五十以上的；（六）驾驶机动车在高速公路、城市快速路上倒车、逆

行、穿越中央分隔带掉头的；（七）代替实际机动车驾驶人接受交通违法行为处罚和记分牟取经济利益的。


45、对驾驶过程中接打手持电话的看法正确的是？

- A、开车需要接打电话时，应该先找到安全的地方停车再操作
- B、根据驾龄和驾车技术，经验丰富的驾驶人可以在驾驶过程中接打手持电话
- C、在车流量不大的道路上驾驶时，短时接听手持电话是可以的
- D、开车过程中不主动打电话，但是有重要电话打进来是可以边开车边接听手持电话的

正确答案：A

分析：《道路交通安全法实施条例》规定：驾驶机动车不得有拨打接听手持电话的行为。

46、这个路面标记是何含义？



- A、最低限速为 100 /小时
- B、平均速度为 100 /小时
- C、解除 100 /小时限速
- D、最高限速为 100 /小时

正确答案：D

分析：黄色是警示你别超了，一越你就黄了

47、车辆转弯时应沿道路右侧行驶，不要侵占对方的车道，做到“左转转大弯，右转转小弯”。

A、正确

B、错误

正确答案：A

分析：左转转大弯，但当心身后非机动车。右转转小弯，当心对面右行驶和身后的车吧！

48、请判断图中右侧灰色机动车逆向行驶是属于什么行为？



A、违法行为

B、违规行为

C、违章行为

D、违纪行为

正确答案：A

分析：如图所示，右侧灰色机动车在逆向行驶，是违反道路交通安全法的行为，属于违法行为。

49、以下哪种情形已注册登记的机动车会被车辆管理所注销？

A、机动车属于被盗抢骗的

B、机动车登记的使用性质改变的

C、距离达到国家强制报废标准一年以内

D、机动车登记被依法撤销的

正确答案：D

分析：《机动车登记规定》规定，已注册登记的机动车有下列情形之一的，登记地车辆管理

以上内容仅为本文档的试下载部分，为可阅读页数的一半内容。如要下载或阅读全文，请访问：<https://d.book118.com/878006025104006134>