

浙江省宁波市海曙区 2023-2024 学年八年级下学期历史与社会、道德与法治第

一次调研试卷

1. (2023 八下·海曙月考) 古文言:“橘生淮南则为橘,生于淮北则为枳,叶徒相似,其实味不同。”

这里所说的果实的味道不同的主要原因是 ()

- ①气候不同
- ②种植方法不同
- ③品种不同
- ④水土不同

A. ②③ B. ①③ C. ①④ D. ②④

2. (2023 八下·海曙月考) 以下说法正确的有 ()

- ①小兴安岭林区有亚洲面积最大的红松原始森林。红松不怕潮,耐腐蚀,花纹漂亮。
- ②信天游、安塞腰鼓、窑洞和变脸是黄土高原特有的文化。
- ③珠江三角洲是我国重要的粮食基地、蔗糖基地、淡水鱼基地和亚热带水果基地。
- ④太湖流域素有“鱼米之乡”之称,旅游古镇兴起,如浙江就有乌镇、南浔、周庄等。

A. ①② B. ②④ C. ①③ D. ③④

3. (2023 八下·海曙月考) 下列关于上海的说法,正确的是 ()

- A. 上海市位于我国东南部,与浙江,安徽两省相邻。
- B. 上海市位于珠江入海口,简称沪。
- C. 上海是我国大陆重要的海港,可江海联运。
- D. 上海市早在 500 多年前就有了“江海之通津,东南之都会”的美誉。

4. (2023 八下·海曙月考) 1949 年 9 月第一届政协会议召开,下列哪一项不是“第一届政协会议”确立

()

- A. 以北平为首都,并改名为北京
- B. 确立了国徽
- C. 决定建立人民英雄纪念碑
- D. 以《义勇军进行曲》为代国歌

5. (2023 八下·海曙月考) 当代学者李泽厚认为:1949 年中国革命的成功……某些沿袭千百年之久的

陈规陋习被涤除。例如,男女在经济上政治上观念上家务劳动上的空前平等,至少在知识界和机关干部中,已相当现实地实现。这……甚至超过了好些发达的资本主义国家。可见新中国成立的意义上 ()

- A. 为超过发达资本主义国家奠定了基础

- B. 取得新民主主义革命的基本胜利
- C. 推动世界走向进步和光明
- D. 推动了妇女解放运动的发展

6. (2023 八下·海曙月考) 下图为第一届中国人民政治协商会议参会人数分布 (部分)。该图可以用来直接佐证人民政治协商会议 ()

中国共产党: 18 人
中国国民党革命委员会: 18 人
中国民主同盟: 18 人
南北解放区: 17 人
内蒙古自治区: 7 人
全国工商界: 17 人

- A. 确立中共的领导地位
- B. 具有广泛性和民主性
- C. 开启中国历史的新纪元
- D. 代行了全国人大的职能

7. (2023 八下·海曙月考) 西藏各族人民从黑暗走向光明, 从专制走向民主, 从落后走向进步, 从贫穷走向富裕, 从封闭走向开放。回顾历史, 下列关于西藏和平解放的说法中错误的是 ()

- A. 标志着祖国大陆获得了统一
- B. 为西藏地区和藏族人民的发展带来了新机遇
- C. 各族人民实现了大团结
- D. 鼓舞了世界被压迫民族和人民争取解放的斗争

8. (2023 八下·海曙月考) 20 世纪 50 年代, 影片《英雄儿女》主题曲歌词: “烽烟滚滚唱英雄, 四面青山侧耳听, 侧耳听……人民战士驱虎豹, 舍生忘死保和平。”歌词中的“人民战士”指的 ()

- A. 中国工农红军
- B. 中国国民革命军
- C. 中国人民解放军
- D. 中国人民志愿军

9. (2023 八下·海曙月考) 刘少奇曾经指出: “从 1953 年起, 我们有完全的必要在《共同纲领》的基础上前进一步, 制定一个像现在向各位代表提出的这样的宪法。”其中, “在《共同纲领》的基础上前进一步”指的是 ()

- A. 新中国工业化的起步
- B. 第一个五年计划的通过
- C. 第一部社会主义类型的宪法的制定
- D. 人民代表大会制度的确立

10. (2023 八下·海曙月考)

据 1952 年统计，我国沿海各省的工业产值占全国工业总产值的 70% 以上。为此，第一个五年计划编制中，确定五年内开始建设的 694 个工业建设单位，分布在内地的将有 472 个，分布在沿海各地的将有 222 个。这样编制的目的是()

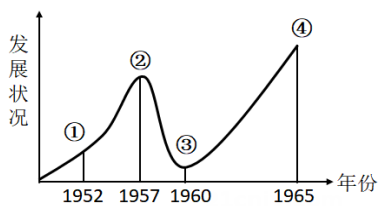
- A. 迅速提高工业生产水平
- B. 改变不合理的工业布局
- C. 密切内地与边疆的联系
- D. 尽快完成社会主义改造

11. (2023 八下·海曙月考) 下图为 1954 年创作的一幅美术作品《一辈子第一回》(画中老人手捧“选民证”)。该作品反映了()



- A. 土地改革之后农民的喜悦
- B. 社会主义民主政治建设的成就
- C. 扫盲教育带来的巨大变化
- D. 生产资料所有制的根本变革

12. (2023 八下·海曙月考) 下图是新中国成立后国民经济发展状况曲线图，其中从③到④产生变化的主要原因是发展状况()



- A. 提出多快好省地建设社会主义的总路线
- B. 开展大跃进和人民公社化
- C. 实施“调整、巩固、充实、提高”方针
- D. 全面实行改革开放的政策

13. (2023 八下·海曙月考) 关于土地改革的完成，农民有深切体会，其中符合当时情景的是()

- A. 农民甲说：“我们总算翻了身，成为土地的主人。”
- B. 农民乙说：“今年多收三五斗，还要向地主交租！”
- C. 农民丙说：“加入农业合作社就是好，集体力量办大事。”
- D. 农民丁说：“实行人民公社化运动，收成比往年高很多！”

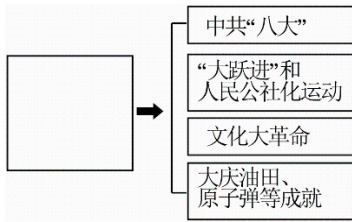
14. (2023 八下·海曙月考) 1947 年，中共中央公布《中国土地法大纲》；1950 年，中央人民政府颁布《中华人民共和国土地改革法》。两者的共同作用是()

- A. 赢得了人民群众的支持
- B. 加快了解放战争的进程

C. 巩固了新生的人民政权

D. 实现了土地公有的目标

-
15. (2023 八下·海曙月考) 抓关键词是历史学习的方法之一。与“1954 年”“第一届全国人民代表大会”“民主政治建设”等关键词相吻合的历史事件是()
- A. 颁布《中华民国约法》
 - B. 颁布《中华人民共和国土地改革法》
 - C. 通过《中国人民政治协商会议共同纲领》
 - D. 制定第一部《中华人民共和国宪法》
16. (2023 八下·海曙月考) 冯骥才在《关于文革博物馆》一文中写道：“一代人经受的惨痛教训，是下一代人的精神财富。”这里所说的“教训”主要是指()
- A. 要遵循客观经济规律
 - B. 要注重民主与法制建设
 - C. 要依据生产力水平及时调整生产关系
 - D. 要建设社会主义市场经济
17. (2023 八下·海曙月考) 从 1954 年起，著名品牌茅台、五粮液、同仁堂、全聚德、东来顺、王老吉等响应国家号召，实现了公私合营。在该过程中，国家采取的创造性举措是()
- A. 赎买政策
 - B. 典型示范
 - C. 无偿没收
 - D. 自愿互利
18. (2023 八下·海曙月考) “公有制不会是像扔原子弹那样扑通下地，全国一个早上就全部实现，而是逐步地实现。……要慢慢地使我们的新制度在大家的脑筋里面钻进去一点。”公有制最终实现于()
- A. 1949 年
 - B. 1952 年
 - C. 1956 年
 - D. 1964 年
19. (2023 八下·海曙月考) 歌曲《小燕子》作于 1957 年，其中有句歌词为：“小燕子，告诉你，今年这里更美丽，我们盖起了大工厂，装上了新机器，欢迎你长期住在这里！”由此可以看出歌曲的创作背景是()
- A. 抗美援朝
 - B. 土地改革
 - C. 资本主义工商业改造
 - D. 工业化的起步
20. (2023 八下·海曙月考) 1958 年 8 月 11 日《人民日报》发表的报告文学《毛主席到了徐水》描写道：一只野兔被人发现逃到麦田后，由于小麦长得太茂盛，这只野兔被麦苗困住无法动弹。这段描写反映了()
- A. 个人崇拜风气盛行
 - B. 国家非常重视农业生产
 - C. 毛主席与农民心连心
 - D. 浮夸风渗入文学创作
21. (2023 八下·海曙月考) 如图方框内应填的主题是()



- A. 社会主义制度的建立
 B. 建设社会主义道路的探索
 C. 新中国的成立和巩固
 D. 建设中国特色社会主义道路

22. (2023 八下·海曙月考) 下列是伟大祖国 70 余年风雨历程的大事, 按时间先后顺序排列, 正确的是()

- ①一五计划宣告超额完成
 ②第一颗原子弹爆炸
 ③西藏和平解放
 ④第一颗人造地球卫星发射成功
 ⑤三大改造基本完成
- A. ①②⑤③④ B. ③⑤①②④ C. ④①②⑤③ D. ①⑤④③②

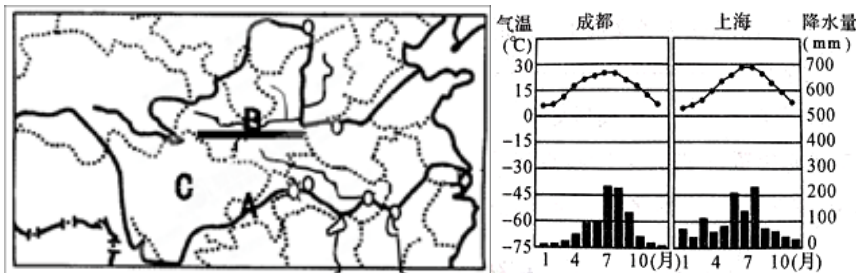
23. (2023 八下·海曙月考) “时代是出卷人, 我们是答卷人, 人民是阅卷人。”下列中国共产党给出的“答卷”, 让“阅卷人”满意的是 ()

- ①组建农业生产合作社
 ②实行土地改革
 ③开展人民公社化运动
 ④发动“文化大革命”
- A. ①② B. ①④ C. ②③ D. ③④

24. (2023 八下·海曙月考) 阅读材料, 回答问题。


(1) 【成都·网红之地】

“……和我在成都的街头走一走, 喔...直到所有的灯都熄灭了也不停留……”一首《成都》唱进了许多人的心里, 因为一首歌爱上一座城——四川成都也成了网红城市。



请填写图中字母所代表的地理事物的名称河流： A _____ 山脉： B _____ 地形区： C _____。

(2)【成都·网红之美】



在成都的街头走一走，美景、美食、闲适的生活，让人们流连忘返，以下景观在成都都能看到的有

(3)【成都·网红之异】

①成都与上海在夏季的气候类型是 _____，两地都适宜种植的粮食作物是 _____。

②成都与上海虽然都处于同一纬度，但成都一月份平均气温高于上海，主要原因是 _____。

③成都平原被誉为“ _____”，主要得益于一个著名水利工程： _____。

25. (2023 八下·海曙月考) 阅读材料，回答问题。

材料一：新中国继承的是一个国民经济濒于崩溃的烂摊子，生产萎缩，物价飞涨，民生困苦。中国人民有没有能力把生产恢复起来，这是一个严峻考验。新中国虽然得到苏联和东欧等国的承认和支持，但美国拒绝承认。中国人民能否冲破以美国为首的帝国主义国家的政治孤立和经济封锁，创造有利的外部条件以建设国家，这是又一个严峻考验。

——摘编自《中国共产党的九十年》

材料二：新中国诞生刚一年，就和朝鲜人民一道，用两年零九个月的英勇激战，迫使美国在停战协定上签字，使举世为之震惊……“它（抗美援朝战争的胜利）雄辩地证明：西方侵略者几百年来只要在东方的一个海岸上架起几尊大炮就可以霸占一个国家的时代一去不复返了……”。

材料三：志愿军广大指战员充分发挥我军的政治优势和光荣传统，与朝鲜人民军一道，在极为艰难条件下，扬长避短，以灵活机动的战略战术，同世界上最强大的军队进行艰苦卓绝的作战。他们不畏强暴，不怕牺牲，敢于斗争，敢于胜利，打出了新中国的国威、军威，创造了伟大的抗美援朝精神，展示了中华民族的浩然正气。

(1) 根据材料一，概括新中国成立初期面临的国内外严峻形势。

(2) 材料二中“两年零九个月的英勇激战”指的是什么事件？并根据材料概述“激战”的胜利所产生的积极影响。

(3) 从材料三中概括抗美援朝战争取得胜利的原因。

(4) 在这场战争中涌现出了许多的英雄人物，请你列举两位。你能从他们身上学到什么样的精神？

26. (2023 八下·海曙月考) 中国共产党领导和组织人民取得革命胜利，踏上了带领人民创造幸福美好生活的征途。阅读材料，回答问题。

材料一：在解放以前，他(贫农陈友汉)的土地很少，每年只收七担谷。现在， he家有田地十五亩四分，今年(1953 年)他家收谷三十二担。

——摘编自金冲及《二十世纪中国史纲》

材料二：1953 年党和国家开始对农业、手工业进行大规模的社会主义改造……改造完成后，约 96%的农户正式成为社员。社会主义改造的“高潮”引起了“政治形势的根本变化”。

——摘编自李颖《共和国历史的细节》

材料三：



图 1

图 2

(1) 指出与陈友汉生活改变直接相关的历史事件。该事件对于以陈友汉为代表的中国农民来说有什么意义？

(2) 材料三中国家对农业社会主义改造采取了什么形式?从材料一到材料二我国农村土地所有制发生了什么变化?“政治形势的根本变化”是指什么？

(3) 图 1 图 2 是指我国在探索社会主义道路过程中分别发生了什么严重失误？

(4) 综合上述材料，从我国农村经济建设过程中你能获得什么启示？

27. (2023 八下·海曙月考) 中国的经济发展是一个不断学习与探索的过程。阅读材料，回答问题。

材料一：(新中国成立初期)我国工业基础，特别是重工业基础非常薄弱……这种落后的经济状况只能靠优先发展重工业才能改变。

材料二：1953- 1957 年，我国农业、轻工业和重工业产值增长速度和比重变化表。

行业	农业	轻工业	重工业
1953 年农、轻、重比例 (%)	52.8	29.6	17.6

1957年农、轻、重比例(%)	43.5	29.2	27.3
1953-1957年平均增长速度(%)	4.5	12.8	25.4

材料三：社会主义建设探索时期的成就(部分)

- ①建成武汉、包头两大钢铁基地及大庆油田、大港油田和胜利油田。
- ②到1965年，我国国内需要的原油和石油产品已实现全部自给。
- ③修建了包兰、兰新、兰青等铁路。
- ④1956—1966年，我国共有183名运动员打破和超过97项记录。
- ⑤1964年，成功爆炸了第一颗原子弹。
- ⑥1965年，我国首先完成人工合成结晶牛胰岛素，处于世界领先地位。
- ⑦1973年，成功培育出籼型杂交水稻。

(1) 材料一反映了新中国成立初期我国怎样的经济状况？

(2) 从材料二图表中，指出哪一行业发展最快？这种现象的出现是由于党和政府实施了哪一措施？说说该措施在工业方面的具体成就一项。

(3) 请用材料中的史实证明下列观点。(填写序号，多选、错选或少选均不得分，)

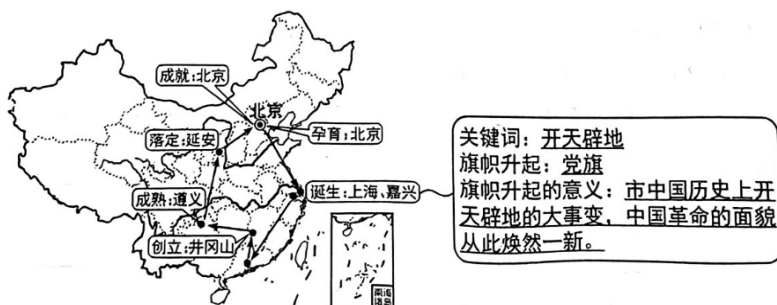
科学技术的发展成就显著：_____； 交通运输业有了长足的发展：_____；
 工业生产能力大大提高：_____。

(4) 请完成社会主义建设探索时期“时代楷模”人物名片。

姓名：王进喜	姓名：_____	姓名：_____
荣誉称号：“_____”	荣誉称号：“党的好干部”	荣誉称号：“解放军好战士”

28. (2023 八下·海曙月考) 阅读材料，回答问题。

材料一：下图是小明同学整理的共产党的革命足迹，小明同学还为革命足迹做了知识卡片。



关键词：_____

旗帜升起：_____

旗帜升起的意义：_____

材料二：



图1 毛泽东在天
安门城楼上



图2 雄赳赳,气昂昂,
跨过鸭绿江



图3 农民在拔除地
主立的界碑

(1) 请你仿照小明同学做的知识卡片也为“成就：北京”做一张革命足迹知识卡片。

(2) 在预习图2、图3学习内容时，有同学摘录出了以下观点，其中有几处错误请你指出并加以改正。

- | | |
|---|----------------------------|
| ① | 图2 中朝人民进行的是反侵略的正义战争。 |
| ② | 图2 战后新中国的国际地位得到大大提高。 |
| ③ | 图2 战争的结果是将美国赶出了朝鲜半岛。 |
| ④ | 图3 事件是中国共产党对孙中山革命事业的继承。 |
| ⑤ | 图3 事件中共中央颁布了《中国土地法大纲》。 |
| ⑥ | 图3 事件后地主的土地所有制转变为农民的土地所有制。 |

(3) 图2、图3反映的历史事件与图1反映的历史事件有什么关系？

以上内容仅为本文档的试下载部分，为可阅读页数的一半内容。如要下载或阅读全文，请访问：<https://d.book118.com/878022001004007003>