

2024年04月广东深圳市公办中小学招考聘用体育教练

员67人笔试历年典型考题与考点剖析含答案详解

(图片大小可自由调整)

一、单项选择题(共125题)

1、

下列选项中，可以质押的是()。

- A.动产和智力成果
- B.动产和权利
- C.智力成果和权利
- D.人身利益和权利

解析：

参考答案：B

[解析]

智力成果是知识产权的客体，是无形的，而质权的客体是有体物，因此排除A、C项；人身利益和权利不可转让，不能担保债权的实现，排除D项；依据物权法的规定，法律规定的权利可以成为物权的客体，如商标权、专利权等，故选项B为正确答案。

2、

A、B、C、D四个盒子中依次放有6、4、5、3个球。第1个小朋友找到放球最少的盒子，从其他盒子中各取一个球放入这个盒子；然后第2个小朋友找到放球最少的盒子，从其他盒子中各取一个球放入这个盒子.....如此进行下去。当34位小朋友放完后，问B盒子中放有多少个球?_

- A.4
- B.6
- C.8
- D.11

解析：

参考答案：B

[解析] 先把第1到第5个小朋友放完时四个盒中的球数表示出来：

盒子	A	B	C	D
初始状态	6	4	5	3
第1人放过后	5	3	4	6
第2人放过后	4	6	3	5
第3人放过后	3	5	6	4
第4人放过后	6	4	5	3
第5人放过后	5	3	4	6

显然，每经过4人放过后，四个盒子中球的情况重复出现一次，即周期是4。

$$34 \div 4 = 8 \dots 2$$

可知：第34位小朋友放过后与第2位小朋友放过后情况相同，即B盒子中有6个球。

故本题正确答案为B。

3、

怎样才能让老板给自己加薪?职场上最纠结的事情莫过于此。可是偏偏就有人____，幽默地给我们做出了榜样。漫画《老板，求加薪》中给我们列出了加薪三十六计，从借刀杀人到____，书中的妙计连连，让人忍俊不禁。虽然都是些____的招式，但或许你的加薪之道就在其中。

依次填入画横线部分最恰当的一项是_____。

- A.知难而上 两面三刀 出人意料
- B.激流勇进 刀头舔蜜 出奇制胜
- C.游刃有余 代人捉刀 鸡鸣狗盗
- D.举重若轻 笑里藏刀 剑走偏锋


解析：

参考答案：D

[解析]

第一空，“职场上最纠结的事情”就是不知道怎么让老板给自己加薪，这是“重”；有人“幽默地给我们做出了榜样”，这是“轻”。“举重若轻”一词用于此恰到好处。第二空，熟悉三十六计的考生应该能立刻选出“笑里藏刀”，“笑里藏刀”与“借刀杀人”均属于三十六计之一，比喻外表和气而内心凶险。“代人捉刀”指代人做事，多用于写文章。第三空，形容书中所用的招式不走常规，用一些新的、不同以往的办法来解决问题，“剑走偏锋”最恰当。综上，本题选D项。

4、



解析：

参考答案：B

[解析] 构成每个图形的线段(或曲线)依次增加，所求图形需要由九条线段(或曲线)构成。故选B。

5、

大多数独生子女都有以自我为中心的倾向。有些非独生子女同样有以自我为中心的倾向。自我为中心倾向的产生有各种原因，但一个共同原因是缺乏父母的正确引导。

如果上述断定为真，则以下哪项一定为真?_

- A.每个缺乏父母正确引导的家庭都有独生子女
- B.有些缺乏父母正确引导的家庭不止一个子女
- C.有些家庭虽然缺乏父母正确引导，但子女并不以自我为中心
- D.大多数缺乏父母正确引导的家庭都有独生子女

解析：

参考答案：B

[解析] 有些非独生子女同样有以自我为中心的倾向。自我为中心倾向的产生有各种原因，但一个共同原因是缺乏父母的正确引导。所以有些非独生子女缺乏父母的正确引导。可以继续推理：有些缺乏父母正确引导的孩子是非独生子女，从而推出B选项是正确的。

6、

据某市的卫生检疫部门统计，和去年相比，今年该市肠炎患者的数量明显下降。权威人士认为，这是由于该市的饮用水净化工程正式投入了使用。

以下哪项最不能削弱上述权威人士的观点?_

- A.该市的饮用水净化工程在五年前动工，于前年正式投入使用
- B.和天然饮用水相比，该市经过净化的饮用水中缺少了几种重要的微量元素
- C.去年该市对餐饮业特别是卫生条件较差的大排档进行了严格的卫生检查和整顿

D.由于引进了新的诊断技术，许多以前被诊断为肠炎的病例，今年被确诊为肠溃疡

解析：

参考答案：B

[解析] 该市饮用水净化工程从前年投入使用，则去年和今年都是饮用的净化过后的水，削弱了权威人士的观点；对餐饮业的检查和整顿治理了餐饮卫生环境，这有可能是今年肠炎患者数量下降的原因，削弱了权威人士的观点；由于先进的诊断技术，对肠炎的诊断更加精确，使得以前被诊断为肠炎的人确诊为肠溃疡，因而肠炎患者的数量下降了，削弱了权威人士的观点；而经过净化的饮用水比天然水少了几种微量元素，并不能说明这几种微量元素对肠炎有重要影响，对权威人士的观点没有任何削弱或加强作用。故选B。

7、

甲是一名15岁的初中学生，整日闲逛于网吧，由于沉溺于网络而欠下外债数千元。在向家长要钱未果的情况下，偷偷将邻居家未满月的孩子抱走，并通过电话模仿他人声音向婴儿家长索要5000元。但由于婴儿一直哭闹，甲怕事情败露，便将孩子在桥洞下投入河水中，致婴儿死亡。

甲的行为应认定为_。

- A.绑架罪
- B.敲诈勒索罪
- C.故意杀人罪
- D.不构成犯罪

解析：

参考答案：A

[解析] 我国《刑法》第17条第二款规定已满14周岁不满16周岁的未成年人可以成立的8种犯罪行为。根据2003年4月18日最高人民检察院研究室《关于相对刑事责任年龄的人承担刑事责任范围有关问题的答复》第1条指出：“相对刑事责任年龄的人实施了刑法第17条第二款规定的行为，应当追究刑事责任的，其罪名应当根据所触犯的刑法分则具体条文认定。对于绑架后杀害被绑架人的，其罪名应认定为绑架罪。”故选A。

8、

如果发现一个好产品或者一个大市场，就应该立即跟进；在跟进中发现现有产品的缺陷，然后通过创新弥补缺陷，超越对手，实现后来者居上。当然，创新的目标是创造，而不是简单模仿。因此，创造性模仿者需要通过对他人创意的了解，重新组合、改良而产生具有不同功能与价值的新东西。事实上，所有的产品，除了第一代是原创的，以后的进步都是通过创造性模仿来实现的。

这段文字旨在说明：_____

- A.创造性模仿是改良产品的主要途径
- B.通过不断地改善就能得到新的产品

- C.创新来源于对现有产品缺陷的弥补
- D.大部分产品都是通过模仿来完成的

解析：

参考答案：A

[解析]

文段主要讲的是通过创造性模仿获得产品，而并非“不断地改善”，且B项“就能”表述过于绝对，排除；由文段中“在跟进中发现现有产品的缺陷，然后通过创新弥补缺陷……”并不能得出“创新来源于对现有产品缺陷的弥补”，排除C项；由“所有的产品，除了……都是通过创造性模仿来实现的”可知D项表述错误，排除。因此本题答案为A。

9、

下列有关法理知识的阐述错误的是：

- A.司法的基本要求是正确、合法、及时
- B.法律监督的主体包括国家机关和公民两类
- C.法的确立阶段大致包括四个程序：一是法律、法规案的提出；二是法律、法规案的审议；三是法律、法规案的通过；四是法律、法规的公布
- D.法的继承是不同历史类型的法律制度之间的延续和继受

解析：

参考答案：B

[解析] 法律监督的主体包括国家机关、政治或社会组织和公民三类故本题答案选B。

10、

自2011年起，每年5月19日《徐霞客游记》开篇日被定为“中国旅游日”，下面关于《徐霞客游记》说法错误的是：

- A.既是系统考察祖国地貌地质的地理名著，又是描绘华夏风景资源的旅游巨篇
- B.此书是由徐霞客口述，他人记载而成的
- C.是中国和世界广泛考察喀斯特地貌的卓越先驱
- D.具有一定历史学、民族学价值

解析：

参考答案：B

[解析] 《徐霞客游记》是徐霞客的旅游日记，其死后别人整理而成，故B错误。

11、

某人开始时说：“你的这个意见很好，我想大家大都会同意。”但是，他接着又说：“你的这个意见很好，

我想没有谁不会不同意的。”_。

- A.该人同意这个意见
- B.该人反对这个意见
- C.大家都不反对这个意见
- D.该人说话前后矛盾，无法判断大家的意见

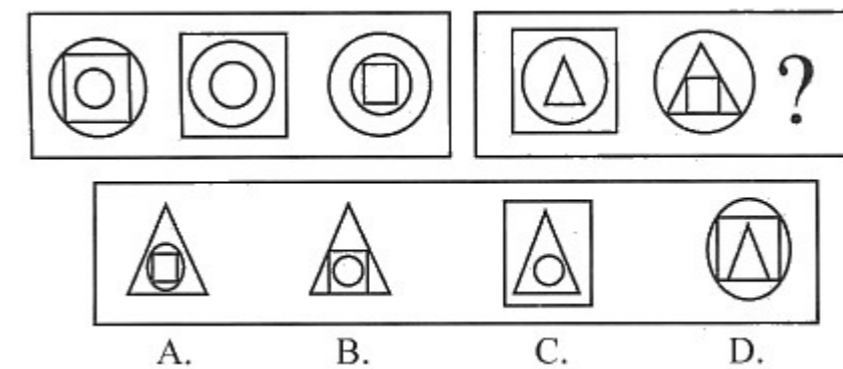
解析：

参考答案：D

[解析]

此人说话前后矛盾，刚开始说，意见很好，大家都会同意的；接着又说，意见很好，没有谁不会不同意，说明此人根本无法判断大家的意思，D符合题意。故选D。

12、



解析：

参考答案：B

观察组图可知，第一组图都是由一个正方形和两个圆组成，图形从内往外移动，故问号处应是圆移动到最里面，三角形在外。故选B。

13、

菲尔丁说：“不好的书也像不好的朋友一样，可能会把你戕害。”这话没错。但也不必为此走向极端，夸大书籍对人的品格的影响。更多的情况是：_____。

填入横线上最恰当的是_。

- A.好人读了坏书受害至深，坏人读了好书受益甚微
- B.好人读了好书取其精华，坏人读了坏书取其糟粕
- C.好人读了好书好上加好，坏人读了坏书不可救药
- D.好人读了坏书仍是好人，坏人读了好书仍是坏人

解析：

参考答案：B

14、

大学生游湖遇意外，4个生命的逝去，令人惋惜，事故所暴露出的大学生出游的安全问题，确实值得反思，然而，大学因此将学生集体出游全部叫停，未免_____。

填入划横线部分最恰当的一项是_____。

- A.得不偿失
- B.因噎废食
- C.草率将事
- D.操之过急

解析：

参考答案：B

[解析]

“得不偿失”指所得的利益抵偿不了所受的损失。“草率将事”指办事马虎不认真。“因噎废食”比喻要做的事情因为出了一点小毛病或怕问题就索性不去干了。“操之过急”指处理事情，解决问题过于急躁。句中在大学因为害怕集体出游出意外，就干脆禁止集体出游。“因噎废食”最合句意，故答案为B。

15、

美国匹兹堡大学的一项涉及3.5万名65岁以上老人的研究发现，走路速度每增加0.1米/秒，死亡危险就会下降12%。比如，在75~84岁的老年妇女中，走路最快(速度大于等于1.4米/秒)的老人再活10年的概率为92%，而走路最慢(速度小于等于0.4米/秒)的老人再活10年的概率仅为35%。因此该项目的研究人员认为，走路快慢可预测寿命长短。

以下哪项如果为真，最能支持上述推论_____

- A.人的寿命长短会受到基因的影响，通常家族谱系中长寿的亲戚越多，你体内长寿的基因就越多
- B.长寿的可能性更多地存在于那些积极参加民间活动、社区公益性活动、志愿者行动和与家庭成员、朋友、同事交往的人群中
- C.走路涉及身体诸多器官和系统，如心脏、肺脏、肌肉、关节、骨骼和大脑等，速度慢意味着患者可能存在更严重的健康问题
- D.走路速度快慢和人们的个人习惯有很大关系，并且人的寿命长短受到很多因素的影响，仅依靠走路速度不能预测人的寿命长短

解析：

参考答案：C

[解析]

本题考查加强支持型。题干的结论为走路快慢可以预测寿命长短；依据为研究发现，走路速度每增加0.1米/秒，死亡危险就会下降12%。A项指出人的寿命长短会受到基因的影响，属于无关项，B项也属于无关项，均无助于支持题目的结论。C项说明走路速度快慢能够反映人的健康状况，而人的健康状况是和寿命长短息息相关的，支持了题干结论。D项指出仅依靠走路速度不能预测人的寿命长短，是削弱项。故选C。

16、

“时间就是金钱，效率就是生命”这是很多工厂里的厂训。在实践中，它意味着质与量的转换关系，一件产品，每年赚100元，可以卖10件；如果提高效率后降价，每件赚50元，卖20件就够了，但后者显然在市场中有利得多，其市场销量也绝不不仅仅是20件了。这就是说_____。

- A.质是最重要的方面
- B.质完全可以由量来代替
- C.量才是最重要的方面
- D.质与量存在一定的转换关系

解析：

参考答案：D

[解析] 质与量在一定条件下是可以相互转换的，故应选D。

17、

有一位研究者称，在数学方面女性和男性一样有才能。但是她们的才能之所以未被充分发挥出来，是因为社会期望她们在其他更多的方面表现出自己的能力。

以下哪项是该研究者的一个假设?

- A.数学能力比其他方面的能力更重要
- B.妇女在总体上比男性更有才能
- C.妇女倾向于趋同社会对她们的期望
- D.数学能力不及其他方面能力重要

解析：

参考答案：C

[解析]

题干要从社会期望女性在其他方面表现出自己的能力推出女性在数学方面的能力没有充分发挥出来。C项在女性和社会期望之间建立了联系，为题干推理成立的前提；其他三项都是无关项。故答案选C。

18、

与“究天人之际，通古今之变，成一家之言”这句话同出一人之口的是_____。

- A.史家之绝唱，无韵之离骚
- B.水能载舟，亦能覆舟
- C.文起八代之衰，道济天下之溺
- D.人固有一死，或重于泰山，或轻于鸿毛

解析：

参考答案：D

[解析]

“究天人之际，通古今之变，成一家之言”是司马迁在《报任安书》中的一句话，同样，“人固有一死，或重于泰山，或轻于鸿毛”也出自司马迁的《报任安书》。A项是鲁迅对《史记》的称赞；B项，荀子、唐太宗、魏征都曾有相同或者类似表述；C项是苏轼对韩愈发起古文运动的赞誉。故选D。

19、

某局公务员赵某触犯刑法，因有自首情节，被人民法院依法从轻判处管制6个月，按照《行政机关公务员处分条例》，应当给予_____处分。

- A.降级
- B.撤职
- C.开除
- D.开除党籍

解析：

参考答案：C

[解析]

《行政机关公务员处分条例》第17条第2款规定，行政机关公务员依法被判处刑罚的，给予开除处分。管制是刑罚的一种。故本题答案选C。

20、

对“法律意识对法治建设的作用”的表述不正确的是：

- A.法律意识是推动公民守法的重要思想动力
- B.法律意识是法治建设不可或缺的环节
- C.社会越富有，越容易形成良好的法律意识
- D.良好的法律意识是制定出高质量法律的思想基础

解析：

参考答案：C

[解析]

法律意识对法治建设的作用主要表现在以下几个方面：(1)法律意识是加强立法工作，促进立法完善的思想基础；(2)法律意识是贯彻依法办事的法治原则的思想保障；(3)法律意识是正确执法和司法的必要性思想条件；(4)法律意识是推动公民自觉守法的重要思想动力。故本题答案选C。

21、

甲、乙两人手中钱数的平均数是24元；乙、丙两人手中钱数的平均数是25元；甲、丙两人手中钱数的平均数是29元。三人中，手中钱最多的人比钱最少的人多多少元？

- A.7
- B.8

C.9

D.10

解析：

参考答案：D

[解析]

根据手中钱数最多的两人一共有29×2=58元，手中钱数最少的两人一共有24×2=48元，可知丙比乙多58-48=10元。

22、

心理学家们曾做过这样一个实验：在给小小的缝衣针穿线的时候，你越是全神贯注地努力，线越不容易穿入。在科学界，这种现象被称为“目的颤抖”，也叫“穿针心理”，就是目的性越强就越不容易成功。

根据上述定义，下列各项没有体现“穿针心理”的是：

- A.很多平时学习不错的考生在高考时，一进考场便会心跳加快，头晕耳鸣，脑中一片空白
- B.当一位博弈者用瓦盆做赌注时，他的技艺可以发挥得淋漓尽致，可是当他用黄金做赌注时，则大失水准
- C.张希的母亲多次告诫他开车要注意安全，他也一直很小心，但是在过一个十字路口时还是发生了交通事故
- D.杂技演员张师傅脚耍大缸已有多多年，在告别舞台演出时，他把亲戚、朋友都请来观看。然而，正当人们为他精湛的技艺喝彩时，他却因一脚顶偏而“失手”了

解析：

参考答案：C

[解析]

“穿针心理”定义的关键信息是：目的性越强越不容易成功。A、B、D三项均体现了“穿针心理”；C项发生交通事故并不一定是张希的原因，不符合定义的关键信息。故答案选C。

23、

(1)如果他有钱给那些人行点贿送包“烟钱”，也就过去了；可是他身上_____。

(2)小城里出现了这种事情，有如平地一声惊雷，人们到处议论，弄得满城_____。

填入画横线部分最恰当的一项是_____。

- A.一文不名 沸沸扬扬
- B.一文不名 纷纷扬扬
- C.一文不值 沸沸扬扬
- D.一文不值 纷纷扬扬

解析：

参考答案：A

[解析]

一文不名：形容非常贫困。一文不值：指毫无价值。文中形容贫困应该用“一文不名”。沸沸扬扬：形容人声喧扰，议论纷纷。纷纷扬扬：形容雪、花、叶等飘落的样子，也形容杂乱地传扬。文中用“沸沸扬扬”更合适。故选A。

24、

自我牵连倾向，即假设外界事物对自己影射着某种意义，特别是对自己有不影响，这种情况通常是一过性的，而且经过片刻的疑虑之后就会省悟过来，其性质和内容与当时的处境联系紧密。

根据上述定义，下列不能体现自我牵连倾向的是_____。

- A.小洪走进办公室时，人们停止谈话，这时小洪怀疑人们在议论自己
- B.小聪走在街上，发现迎面有个人正在朝自己这个方向看，小聪总觉得自己哪里不对
- C.在公司的年会上，小雨演唱一首歌，感觉同事都在注视自己，给自己加油
- D.老师在课堂上说：“请不认真听讲的同学集中注意力。”小鹏老觉得是在说自己

解析：

参考答案：C

[解析]

自我牵连倾向定义的要点是：(1)假设外界事物对自己影射着某种意义；(2)这种影响是不利的。C项不能体现出不利影响。

25、

$\sqrt{18} + \sqrt{32} = (\quad)$ 。
A. 25 B. $5\sqrt{2}$ C. $7\sqrt{2}$ D. $13\sqrt{2}$

解析：

参考答案：C

【解析】 $\sqrt{18}$ 为 $3\sqrt{2}$ ， $\sqrt{32}$ 为 $4\sqrt{2}$ ，两者相加之和为 $7\sqrt{2}$ 。故正确答案为C。

26、

E市开展一项公共政策的民意调查，随机抽取一千名市民回答有关问题。一个月后，再次随机抽取了一千名市民回答相同的问题，但问题的顺序设置与上次不同。结果发现，两次市民样本对许多问题得出了不同的回答。这证明同一组问题，因为其问题顺序的改变，有时就会得到不一样的回答。

上述论证依赖于下面哪一个假设？

- A.有些市民两次都被随机抽中而参加了两次调查
- B.调查的问题内容并不会因为时间推移而影响回答
- C.第二次调查把第一次匿名调查方式改为实名调查
- D.第二次调查并没有把所有问题的顺序全部打乱

解析：

参考答案：B

27、

防御型公共关系：指组织与外部环境发生协调困难，与公众的关系出现摩擦苗头时，及时调整组织结构、产品、方针政策或经营方式等，以适应环境变动和公众要求而开展的关系活动。

下列属于防御型公共关系的是_____。

- A.某公司的高层成员多次深入每一个拆迁家庭，进行真诚、细致的沟通，顺利完成了拆迁工作
- B.某公司针对其副总不当言论造成的不良影响，及时通过媒体公开道歉，取得了公众的谅解
- C.某上市公司通过相关媒体定期发布公司的生产和财务等信息，员工对这种透明做法非常满意
- D.某蛋糕生产企业接到个别客户的投诉电话后，及时召回2个批次生产的100多公斤蛋糕

解析：

参考答案：D

[解析]

定义的关键信息是“与公众关系出现摩擦苗头”。A、B、C三项均不能体现与公众的摩擦以及协调困难。只有D项符合定义。正确答案为D。

28、

- ①当我在博物馆里看到北京猿人窄小的额和前凸的吻时，我为人类原始时期的粗糙而黯然
- ②我们是一株亿万年苍老树干上最新萌发的绿叶，不单属于自身，更属于土地
- ③如今很幼小的孩童，就能熟练地操纵语言，我们才意识到已经在进化之路上前进了多远

④人类的精神之火，是连绵不断的链条，作为精致的一环，我们否认了自身的重要，就是推卸了一种神圣的承诺

- ⑤我们的头颅就是一部历史，无数祖先进步的痕迹储存于脑海深处
- ⑥他们精心打制出的石器，用今天的目光看来不过是极简单的玩具

将以上6个句子重新排列，语序正确的是：

- A.②③①④⑤⑥
- B.②③④①⑤⑥
- C.①⑥③⑤④②
- D.①⑥③⑤②④

解析：

参考答案：D

[解析]

⑥句中的“他们”，指代的应是①句中提到的原始人类，两句应紧密相连，顺序为①⑥，排除A、B。C、D的区别在于②、④的顺序。②句的“不单属于自身，更属于土地”是④句“作为精致的一环，我们否认了自身的重要，就是推卸了一种神圣的承诺”的原因，故两句顺序为②④，且④句作为总结句置于段尾也更恰当。故本题选D。

29、

完善民间投资的配套设施和实施细则，增加了民资的投资选择余地，对于缺乏投资渠道的民间资本可以起到_____作用，避免民间资本集中于住房、股票等_____的投资领域，也可激活民间的创业热情，弥补政府资金的不足。

填入划横线部分最恰当的一项是：_____

- A.衔接 动荡
- B.疏导 基础
- C.支持 活跃
- D.分流 狭窄

解析：

参考答案：D

[解析]

第一空，由文中“避免民间资本集中于住房、股票等.....”可知，“完善民间投资的配套措施和实施细则”可以起到与“集中”相反的作用，B项“疏导”和D项“分流”符合句意，排除A、C。再看第二空，由“集中于住房、股票等”可知，民间资本的投资面比较窄，所以“狭窄”较“基础”更契合句意。因此本题答案为D。

30、

奇幻小说，作为近年兴起的“具有中国特色的幻想小说”，它几乎垄断了网络阅读市场。它在几大门户网站的好多作品点击量过亿，读者达到上百万，其中青少年占绝大多数。这种创作出版及阅读现状已成为一种社会文化现象，对此人们众说纷纭、褒贬不一。有人认为，它的创作原则就是无原则，幻想基础就是无基础，是综合西式魔幻、中国武侠、日本动漫、科学技术的大杂烩。但图书评论专家认为，奇幻小说也有精品，也有存在价值的专门类别，而且不会在短期内消失，甚至还会更为壮大。毕竟，奇幻小说盛行是有其社会心理根源的。

文段接下来最有可能论述的是：

- A.奇幻小说的具体种属类别
- B.奇幻小说的未来发展趋势
- C.引导青少年正确阅读的积极措施
- D.奇幻小说拥有众多受众的深层原因

解析：

参考答案：D

[解析]

文段据当前奇幻小说盛行这一现象展开分析，指出人们对此现象的看法褒贬不一，但专家认为奇幻小说盛行有一定的社会心理根源。为了能更进一步把具体原因解释清楚，使人们更清楚地了解根源在哪里，文段接下来应继续围绕“社会心理根源”这一话题展开论述。故本题答案为D。

31、

如果危机发生时，企业能够采取非常有效的办法来消除危机，实际上能够增加企业的声誉。一个非常好的声誉，可能因为一个事件转眼间就被破坏；而一个不好的声誉，往往需要很长时间的才能消除。

以上论述最能支持以下哪项论断?_

- A.破坏一个好声誉比消除一个不好的声誉更容易
- B.如果声誉的风险不算风险的话，就不存在风险
- C.维持企业声誉是董事会最重要的职责
- D.消除一个不好的声誉比赢得一个好的声誉还难

解析：

参考答案：A

[解析]

B、C项的内容与题干论述的内容不相关，故排除。题干中未提到关于赢得一个好的声誉的问题，故排除D。故选A。

32、

20世纪40年代末，美国物理学家_

等提出了大爆炸宇宙模型，认为宇宙起源于160亿年前温度和密度极高的“原始火球”的一次大爆炸。

- A.爱因斯坦
- B.奥本海默
- C.伽莫夫
- D.霍金

解析：

参考答案：C

[解析]

20世纪40年代，美国天体物理学家伽莫夫等人正式提出了宇宙大爆炸理论。该理论认为，宇宙在遥远的过去曾经处于一种极度高温和极大密度的状态，这种状态被形象地称为“原始火球”。火球爆炸，宇宙就开始膨胀，物质密度逐渐变稀，温度逐渐降低，直到今天的状态。故选C。

33、

中国的专利申请平均每年以48%的速度增长。中国的专利实施只占专利总量的20%~30%，与国外达80%的实施率相比，专利差距很大。在中国专利申报总量中只有15%来自于企业，而发达国家的专利申请80%来自于企业。

这段话支持了这样一种观点，即：

- A.中国科技创新进步势头迅猛
- B.中国的科技创新不仅要注重开发研究，更要加强推广和实施科技成果
- C.中国科技创新水平与国外相比差距很大
- D.中国企业不像科研院所和高校那样重视科技创新活动

解析：

参考答案：B

[解析]

本段文字论述的是中国专利的实施率低，又用中国专利申请只有15%来自企业佐证了专利实施率低，可见正确答案是B，“加强推广和实施科技成果”是提高实施率的方法。

34、

某人用4410元买了一台电脑，其价格是原来定价相继折扣了10%和2%后的价格，则电脑原来的定价是_

。

A.4950元

B.4990元

C.5000元

D.5010元

解析：

参考答案：C

根据题意可知：原价×(1-10%)×(1-2%)=4410元，则原价=5000元。故选C。

35、



A



B



C



D

解析：

参考答案：B

36、

在最近一段时间内，红星电子在市内的各个连锁店中都只出售熊猫、蓝月、佳虹三种品牌的数码相机。

在2011年，熊猫、蓝月、佳虹三种品牌的数码相机在该地区的市场占有率分别为20%、35%、45%。到2012年，三个品牌的市场占有率变成了熊猫第一、蓝月第二、佳虹第三，其次序刚好与2011年相反。

以下各项除哪项外，都可能对上文提到的市场占有率的变化作出合理解释？

A.熊猫集团耗费巨资并购了一家濒临倒闭的大型电冰箱厂，并将大量精力转向生产智能洗衣机

B.熊猫集团成立了市场信息部，应用信息技术收集市场信息并与客户建立了密切的联系

C.蓝月集团设计了新的生产线，要等到2013年才能正式投产使用，在2012年难有作为

D.佳虹集团新的董事会推行全面的质量监管，导致成本大幅增加，不得不提高价格

解析：

参考答案：A

[解析]

题干给出2012年与2011年三个品牌数码相机的市场占有率数据，B、C、D三项都可以作出合理解释，A项熊猫集团将大量精力转向智能洗衣机后，不能解释其市场占有率的增加，选A。

37、

质押是债务人或第三人将其动产或者权利移交债权人占有，作为债权的担保。当债务人不履行债务时，债权人有权依法就该动产卖得价金优先受偿。

根据上述定义，下列情形不存在质押的是：_____

A.甲向乙借三千元钱，乙怕甲还不起，于是甲将自己的笔记本电脑交给乙。到期后甲未能偿还，双方约定将该笔记本电脑折价抵偿

B.甲、乙签订建筑施工合同，要求乙在半年内完成施工项目，为保证合同履行，甲用公司的一部分股份作为担保

C.甲委托乙加工服装，过了约定时间甲未付款，乙就将这批服装所置换的款项抵偿甲所欠的加工费

D.甲因扩大店面急需资金向乙借款10万元，以自己50万元的轿车向乙提供担保，并将车交给了乙。这期间丙向乙租用该车，乙未经甲同意，即与丙签订了租赁合同

解析：

参考答案：C

[解析]

质押的定义要点：①债务人或第三人将其动产或者权利移交债权人占有；②当债务人不履行债务时，债权人有权依法就该动产卖得价金优先受偿。C项中甲并没有将其动产或权利移交给乙占有，不符合要点①。

A项甲将笔记本交给乙、B项甲用公司的一部分股份作为担保、D项甲将自己50万元的轿车交给乙作为担保，均符合定义。故本题选C。

38、

刀枪剑戟：风花雪月

A.尧舜禹汤：亭台楼阁

B.枝繁叶茂：鸟语花香

C.羽扇纶巾：风刀霜剑

D.灰飞烟灭：冰消瓦解

解析：

参考答案：A

[解析]

题干中“刀枪剑戟”和“风花雪月”这两个词语中的四个字分别是具有并列关系的名词，符合题干逻辑结构的是A项的“尧舜禹汤”和“亭台楼阁”。本题答案为A。

39、

中国人“有容乃大”，曾_____地“吸纳百川”拿来了很多外国文化融进了民族文化之中。

- A.诚实
- B.忠诚
- C.真诚
- D.诚朴

解析：

参考答案：C

[解析] 首先明析各词具体含义：A项指言行与思想相一致，不虚假；B项指国家对人民等尽心尽力；C项指真心诚恳，没有一点儿虚假，D项意为真诚而朴实，多用来形容人格方面。从“吸纳外国文化中的精华”而言，其态度应为“真诚”，其他三项不够恰当。A项的所指与学习文化的态度不契合，B项涉及忠实度问题，亦与学习吸纳外国文化一事不相干，至于D项用于形容人格，为人方面，也排除。故选C。

40、

虚拟企业，是当市场出现新机遇时，具有不同资源与优势的企业为了共同开拓市场，共同对付其他的竞争者而组织的、建立在信息网络基础上的共享技术与信息、分担费用、联合开发的、互利的企业联盟体。

根据上述定义，下列属于虚拟企业的是：_____

- A.苹果公司与中国移动、联通、电信等通信公司合作推出不同版本的iPhone定制机
- B.淘宝天猫作为中国最大的网上商城，吸引了许多大企业开设网上店铺进行网络直销
- C.IBM和AMD表示，为了跟上Intel的速度，双方将联合开发下一代微处理器技术
- D.优酷网与土豆网宣布以100%换股的方式合并，合并后的优酷土豆将拥有最庞大的用户群体

解析：

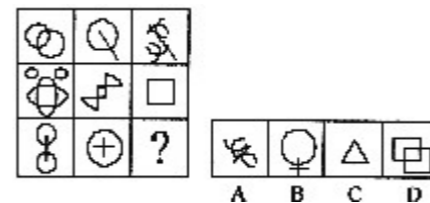
参考答案：C

[解析]

虚拟企业的定义要点是：①具有不同资源与优势的企业；②为开拓市场、对付其他竞争者组织的；③共享技术与信息、分担费用、联合开发、互利。A项不符合②③；B项未体现所有定义要点；D项是公司合并，也不符合定义。只有C项符合定义。故答案选C。

41、

从所给的四个选项中，选择最合适的一个填入问号处，使之呈现一定的规律性：_

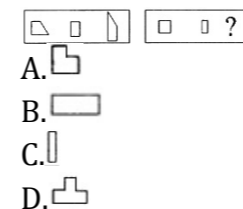


解析：

参考答案：D

第一行图形中，中心对称图形的个数为1，第二行为2，第三行应为3。

42、



解析：

参考答案：C

[解析]

这是一道图形叠加题。第一套图的前两个图形叠加保留不重叠的阴影部分，去掉重叠的阴影部分，便得到第三个图形，依此规律得到第二套图的第三个图形为C。

43、

叶龄指数指的是禾谷类作物主茎已出叶数与最终总叶数的比值，是衡量作物生长进程的重要指标之一。

根据上述定义，下列关于叶龄指数的说法一定正确的是：

- A.稻谷的叶龄指数与其生长进程成正比
- B.荞麦的叶龄指数越大则其产量也越高
- C.玉米的平均叶龄指数大于高粱
- D.小麦的叶龄指数最大值为100%

解析：

参考答案：D

[解析]

叶龄指数是已出叶数与最终总叶数的比值，已出叶数必然小于等于最终总叶数，所以其比值一定小于等于100%，D项一定正确。A项成正比、B项产量、C项玉米和高粱在定义中并未提到，因此不能确定是否正确。故答案选D。

44、

海滩上有一堆核桃，第一天猴子吃掉了这堆核桃的五分之二，又扔掉4个到大海中去，第二天吃掉的核桃数再加上3个就是第一天所剩核桃的八分之五，那么这堆核桃至少剩下多少个？

- A.6
- B.8
- C.10
- D.12

解析：

参考答案：A

[解析] 设这堆核桃共x个，则由题意可知，第一天剩余核桃数为 $\frac{3}{5}x-4$ ，第二天剩余核桃数为

$$\frac{3}{8} \times (\frac{3}{5}x-4)+3 = \frac{9x}{40} + \frac{3}{2} = \frac{9x+60}{40}。$$

由于这个数一定是整数，则 $9x+60=40n$ ，n=6时x能取到最小的整数20，因此至少剩下6个核桃。

45、

流水作业，是指工人按照作业流程、顺序作用于劳动对象，完成生产工艺过程中某阶段一定量的工作，使生产连续而又不中断地进行。

下列不属于流水作业的一项是_。

- A.产品不动，工人按工艺过程依次进行每道工序的工作，连续不断地完成产品的装配
- B.工人不动，产品通过传送带送至各个工作地，以完成装配作业
- C.制作车间有十个人，每人负责一道工序，最后生产出半成品送到锻造车间
- D.小王一口气吃了十个包子

解析：

参考答案：D

46、

时间怀有一种公平的道义，对它所拿去的，它会给我们别的补偿。它夺去了我们肢体和精神的灵活，却给予我们宁静和安详。对这段话正确理解的一项是()。

- A.无所谓浪费时间
- B.耽误的时间可以得到补偿
- C.不具有灵活肢体和精神的人能获得安宁

D.晚年的宁静可以使青春活力的消失得到补偿

解析：

参考答案：D

[解析]

肢体和精神的灵活显然是指青春的活力。但是老年的宁静和安详可以使之得到补偿。A、B明显错误；C没有突出时间的作用。时间，在这里代表着岁月。

47、

小鸟：飞翔：天空

- A.大地：种植：高粱
- B.蟋蟀：欢叫：草丛
- C.蝴蝶：夏荷：飞舞
- D.山坡：爬山：青藤

解析：

参考答案：B

[解析]

题干中“小鸟”是动物，“飞翔”是小鸟的活动状态，“天空”是小鸟活动的空间，即“动物：活动状态：活动空间”，故选B。

48、

生命是如此的复杂，以至于几乎每一位生物学家都只能在一个很小的领域进行探索。尽管在每一个领域都产生了大量的描述性数据，但是科学家能够从这些海量的数据中得出一个整体的概念吗?例如，生物是如何运作的?系统生物学这门正在形成的学科为回答这些问题提供了一些希望。它试图把生物学的各个分支联系起来，利用数学、工程和计算机科学的方法让生物学研究更加量化。不过，现在还无法得知这些方法是否能够最终让科学家理解生物运作的整体图景。

这段文字意在说明：_____

- A.获取描述性数据是生物研究的必要条件
- B.系统生物学为解开生命之谜提供了可能
- C.如何从生物学数据中得到生命全景还是未知
- D.对生物运作的整体图景进行科学解释即将成为现实

解析：

参考答案：B

[解析]

文段首先提出生物学领域的问题是缺少整体的概念，接着讲述了系统生物学正试图解决这个问题。文段的重点落在“系统生物学”，这门学科“提供了一些希望”，“试图……”，“还无法得知……”，说明了系统生物学尚未解决问题，仍在尝试阶段。B项最贴近原文的表述。A、C、D三项都没有突出“系统生物学”这个主体，D项“将成为现实”不符合“试图……”。故本题正确答案为B项。

49、

月球：东方红一号卫星__

- A.谷神星：地球
- B.仙女座：银河系
- C.电脑：打印机
- D.盗窃：小偷

解析：

参考答案：A

月球和东方红一号都是绕着地球而转的卫星；A都是绕着太阳转的行星。

50、

在市场经济的主要经济规律中，最基本的规律是__。

- A.价值规律
- B.竞争规律
- C.供求规律
- D.流通规律

解析：

参考答案：A

价值规律是商品经济的客观经济规律，只要存在着商品生产和商品交换，价值规律就存在并发挥作用，在市场经济中始终处于基础地位。竞争规律、供求规律和流通规律都在市场经济中存在并发挥作用，但都是价值规律的体现，受价值规律的制约和影响。故选A。

51、

观众支持本土电影的心理因素很简单，即希望那些与自己有文化血缘关系、有情感共鸣的电影，能够更多地出现于市场。这种期待不是____性的，当有优秀的引进片公映时，大家也是一样会购票观看。只是，每当国产电影在与进口片的票房较量中占了____时，大家多少还是有点自豪心理。也正是出于这种心理，一些观众在面对选择机会时，____于购买国产片的票，来为国产片加油。

依次填入划横线部分最恰当的一项是_____。

- A.竞争 优势 习惯
- B.排他 上风 倾向
- C.独占 便宜 热衷
- D.唯一 大头 偏向

解析：

参考答案：B

[解析]

实词辨析题。先看第二空，“占了便宜”不合语境，排除C项；“占了大头”过于口语化，排除D项；再看第三空，前文是机会，这里侧重的是选择的倾向性，而不是“习惯”，排除A项。故选B。

52、

短期调节：是指企业在固定资金不变的情况下，进行的生产计划对今后几个月预期情况的适应，从时间上看，这是一种短期情况，即这种计划的效力是短暂的(例如三个月)，而从计划的准备到开始实施的时间也是短暂的(几周)。

根据上述定义，以下最可能属于短期调节的是：

- A.某医疗器具厂为满足日益扩大的需求，打算在某市建立分厂
- B.为了做好10月的展销会，某公司开始日夜奋战，暂时放下了其他工作
- C.新计划通过多方论证后，决定在这个月底就开始实施
- D.某软件公司打击盗版后，其同类正版软件可能畅销，所以相关公司纷纷扩大生产

解析：

参考答案：B

53、

罗贯中；三国演义

- A.宋江：水浒传
- B.鲁迅：少年闰土
- C.王勃：长恨歌
- D.吴承恩：西游记

解析：

参考答案：D

54、

全国人大常委会与全国人民代表大会之间是__。

- A.指导关系
- B.监督关系
- C.平行关系
- D.隶属关系

解析：

参考答案：D

[解析]

《宪法》第57条规定：“中华人民共和国全国人民代表大会是最高国家权力机关。它的常设机关是全国人民代表大会常务委员会。”第69条规定：“全国人民代表大会常务委员会对全国人民代表大会负责并报告工作。”可见D为正确答案。

55、

面向未来，在中西文化的相遇中，要建构出理想形态的中国文学史理论研究体系，必须切实建立中国文学的主体意识，达成现代视野与传统资源之间的良性____，使中国文学不再是以自在的形态而潜隐，而要在____的理论自觉中成为自为的学术追求，在充分地成就中国文学史理论自觉意识中推进中西理论互诤互释、共生共荣。

填入画横线部分最恰当的一项是：_____

- A.传承 开化
- B.互动 明确
- C.交接 现实
- D.磨合 确实

解析：

参考答案：B

[解析]

第二空，结合句中的转折词“而”可知，此处所填词语应与前文的“潜隐”意思相反，“开化”“现实”与此不符，排除A、C。第一空，“达成……良性磨合”搭配不当，排除D。“良性互动”为习惯搭配。故本题选B。

56、

目前我国大多数供水企业的水质检测欠账太多，且行业管理缺位严重，供水检测基本是供水企业自检自报，在供水企业由于设备改造而造成资金紧张的背景下，检测成本很可能首先被砍掉。

上述文字主要讲述了：

- A.供水企业缺乏资金
- B.供水检测面临的问题
- C.供水企业的现状
- D.供水检测成本很高

解析：

参考答案：B

[解析]

文段的论述主题是“水质检测”，“欠账太多”、“行业管理缺位严重”和“检测成本很可能首先被砍掉”说的都是供水检测面临的问题故本题正确答案为B。

57、

有一个游戏共有5个项目，完成第1、2、3、4、5个项目的分别占参加游戏人数的84%、88%、72%、80%、56%。如果完成3个或3个以上项目即可得到奖励，那么这个游戏的得奖率至少是多少?_

- A.65%
- B.87%
- C.62%
- D.78%

解析：

参考答案：C

[解析]

设共有100人参加游戏，那么完成项目的人数分别为84、88、72、80、56人，共完成84+88+72+80+56=380(个)项目。要想得奖率最少，就需要完成4项和5项的人尽可能地多；要想不完成的人尽可能地多，那么就要让仅完成2个项目的人尽可能地多。先假设所有人都只完成2个项目，共2×100=200(个)。第5项完成人数最少，故完成5个项目的人数最多为56人，380-

(200+56×3)=12(个)。假设剩下的12个项目全部为完成4个项目的人完成的，那么每人分2个项目，共12÷2=6(人)。在这种情况下，所有的项目全部分配给完成5个项目的、4个项目的和2个项目的人，其中，完成5个和4个项目的人数最多为56+6=62(人)，其余全部没有得奖，故得奖率最少为62÷100×100%=62%。

58、

一个停车场有50辆汽车，其中红色轿车35辆，夏利轿车28辆，有8辆既不是红色轿车又不是夏利轿车，问停车场有红色夏利轿车多少辆?_

- A.14
- B.21
- C.15
- D.22

解析：

参考答案：B

59、

某人步行由甲地到乙地，每小时走4公里，返回时骑自行车，每小时行12公里，骑车比步行少用5小时，求甲、乙两地间的距离?

- A.25公里
- B.28公里
- C.30公里
- D.32公里

以上内容仅为本文档的试下载部分，为可阅读页数的一半内容。如要下载或阅读全文，请访问：<https://d.book118.com/898064121135006142>