

2021-2022学年陕西省西安市蓝田县工业园高级中学高一(下)期末历史试卷

单选题

1. (2分) 春秋晚期，周景王去世后，其庶长子姬朝多次作乱，甚至将其弟周敬王逐出洛邑而自立为王，出现“二王并立”的局面。六年后，周敬王在晋国的帮助下返回洛邑并夺回“正统”。周敬王的成功复位表明当时()
- A. 分封体制彻底崩溃
 - B. 宗法原则仍受重视
 - C. 诸侯恪守忠君义务
 - D. 晋国霸主地位稳固
2. (2分) 钱穆在《中国历代政治得失》中认为：“汉代的选举，是由封建贵族中开放政权的一条路；唐代的公开竞选，是由门第特殊阶级中开放政权的一条路。”这表明汉唐选官制度()
- A. 适应了阶层关系变动
 - B. 扩大了官吏权力范围
 - C. 完善了官员选拔程序
 - D. 加强了思想控制程度
3. (2分) 历史学家钱穆认为：“秦汉以来的郡县制，到今天民国时代还存在，中国之永为统一国，此项制度实贡献过其甚大之绩效。”郡县制能发挥这一作用，是因为它()
- A. 消除了地方割据势力
 - B. 提高了地方的行政效率
 - C. 官吏由中央直接任免
 - D. 保证了官僚队伍的廉洁
4. (2分) 中国古代实行君主集权于上，行政体制分权于下的权力制衡体制，它包含两种专制模式，一是实行集体宰相制度，二是正式行政体制之外另设机构，以达到分权的目的。下列选项包含有这两种专制模式的是()
- A. 唐朝实行三省六部制；宋朝设参知政事、枢密使和三司使
 - B. 汉武帝“中外朝制度”；清朝设军机处
 - C. 唐朝实行三省六部制；明朝设置内阁制
 - D. 明朝设置内阁制；清朝设军机处
5. (2分) 苏格拉底说，一条船，应该由熟悉航海的人驾驶；纺羊毛时，妇女应管理男子；最优秀的人是能够胜任自己工作的人。苏格拉底意在()
- A. 揭露雅典民主政治的弊端

- B. 提倡男女平等
- C. 宣扬人文精神
- D. 主张人民民主

6. (2分) 《十二铜表法》第七表第二条：凡在自己的土地和邻地之间筑篱笆的，不得越过自己土地的界限；筑围墙的应留空地一尺；挖沟的应留和沟深相同的空地；掘井的应留空地六尺；栽种橄榄树和无花果树的，应留空地九尺；其他树木留五尺。这表明《十二铜表法》()

- A. 强调私有财产的不可侵犯性
- B. 注重预防和调节经济纠纷
- C. 注重维护贵族的土地私有权
- D. 强调经济自由的基本原则

7. (2分) 下列图表内容与近代英国代议制民主的确立发展有关，左侧是史实，右侧是结论。其中，符合逻辑的是()

| | 史实 | 结论 |
|---|-----------------|-----------|
| A | 1688年光荣革命完成 | 君主立宪制确立 |
| B | 1689年《权利法案》颁布 | 国王“统而不治” |
| C | 1721年沃波尔出任第一任首相 | 责任内阁制开始形成 |
| D | 1832年议会改革开展 | 工人的权利不断扩大 |

- A. A、
- B. B、
- C. C、
- D. D、

8. (2分) 美国1787年宪法规定：“未经国会同意，不得对进出口货物征收任何关税”；南北战争后的宪法修正案中规定：“任何一州，都不得制定或实施限制合众国公民的特权或豁免权的任何法律”。这些规定()

- A. 保证了三权分立的运转
- B. 加强了美国国会的权力
- C. 体现了人民主权的思想
- D. 完善了分权制衡的体制

y. (4分) “肃谷统一、秩序与日田的价值，非平衡地利用君王制、贡族制和民王制的优点，官造出一个国家利益与个人利益共同发展”的政体形式。确立这种“政体形式”的法律文件最有可能是()

- A. 《德意志帝国宪法》
- B. 英国《权利法案》
- C. 法兰西第三共和国宪法
- D. 美国1787年宪法

10. (2分) 下表中的相关史实，表述完全正确的是()

| | 战争名称 | 时间 | 战争的结果或影响 |
|---|----------|------------|-------------------|
| A | 鸦片战争 | 1840~ 1842 | 英法两国强迫清政府签订《南京条约》 |
| B | 第二次鸦片战争 | 1856~1860 | 中国半殖民地半封建化的程度大大加深 |
| C | 甲午中日战争 | 1894~1895 | 清政府被迫开放沙市、苏州等地为商埠 |
| D | 八国联军侵华战争 | 1900~1901 | 导致义和团运动爆发 |

- A. A
- B. B
- C. C
- D. D

11. (2分) 太平天国后期提出《资政新篇》，镇压太平天国的李鸿章、曾国藩等发起了洋务运动。这种殊途同归的历史现象反映了当时的中国()

- A. 已经开始了全面的近代化历程
- B. 向西方学习以摆脱危机的发展趋势
- C. 先进知识分子开始向西方学习
- D. 两个政权都推动中国走资本主义道路

12. (2分) 20世纪初无产阶级革命派发出的“建设新中国”的呼声，是这一时期中国的最强音-它摒弃了以“朝代”代“国家”的陋习，第一次出现以“中华”为国号的现代民族国家模式。其意义在于()

- A. 唤醒国人挽救民族危亡的新理念
- B. 开启了中国政治民主化的尝试
- C. 推动了民族资产阶级登上历史舞台
- D. 建立了独立自主的民主共和国

13. (2分) 《中央日报》曾评价近代一场运动“在中国外交史上占了民众外交史的第一页”，称其为“外交的当头棒，文化的奋兴剂”，并肯定学生运动为“吾国政史上国民意识集合表现之一创端，亦为近年民族运动之一壮举”。这场运动()

- A. 促使中国民主革命发生转折
- B. 使“打倒列强、除军阀”成为共识
- C. 冲击了封建思想的统治地位
- D. 促进民族资本主义短暂春天的到来

14. (2分) 1917年四月，列宁反对立即推翻资产阶级临时政府，设想从资产阶级民主革命阶段过渡到社会主义革命阶段，提出了著名的革命和平发展方针。列宁提出这一设想的主要依据是()

- A. 第一次世界大战尚未结束
- B. 工兵代表苏维埃已控制国家政权
- C. 资产阶级民主革命未完成
- D. 当时俄国出现两个政权并存局面

15. (2分) 新华社迎接十七大特稿《在历史关节点上——中国共产党八十六年回眸》一文中用以下关键词概括了中国新民主主义革命的重要关节点，按先后顺序排列正确的是()

- A. 日出东方 力挽狂澜 星火燎原 灯塔指引 进京赶考
- B. 日出东方 星火燎原 力挽狂澜 灯塔指引 进京赶考
- C. 力挽狂澜 进京赶考 日出东方 灯塔指引 星火燎原
- D. 力挽狂澜 日出东方 进京赶考 星火燎原 灯塔指引

16. (1分) 20世纪50年代，中国提出和平共处五项原则，参加日内瓦会议和万隆会议并取得成功。这些成就()

- A. 消除了意识形态对外交的影响
- B. 体现了外交政策的独立自主精神
- C. 实现了不结盟外交的政策转变
- D. 反映了中美关系从对抗走向缓和

17. (2分) 《诗经》中有“千耦其耘”“十千维耦”之类对大规模集体耕作状况的描述。形成这种状况的主要原因是()

- A. 氏族公社之下的群居生活
- B. 农具简陋、生产技术落后
- C. 征收赋税征发徭役的需要
- D. 人口高度膨胀工商业萧条

18. (2分) 从汉朝到唐朝，土地兼并被视为国之大害，千方百计加以抑制。宋朝开历史之先河，采取“田制不立”“不抑兼并”的土地政策，但农作物产量倍增，工商业盛况空前，市民阶层壮大。这说明()

- A. 土地兼并减轻了地主对农民的剥削

- B. 租佃经营方式适应了社会发展需要
- C. 不抑兼并政策导致了贫富分化严重
- D. 放任土地兼并会导致政府税源锐减

19. (2分) 明朝时期，徽州人多地少，且自然条件恶劣，土地贫瘠，故几乎家家经商，但徽州贫瘠的土地价格上涨幅度却居全国之首，形成“田少而值昂”的情形。这一现象()

- A. 促进了高产农作物推广
- B. 体现了重农抑商政策
- C. 不利于向近代社会转型
- D. 缓解了徽州人地矛盾

20. (2分) 16世纪西欧各国普遍出现了土地转让现象。英国在16世纪后半期，三分之一的封建庄主都换了主人，有些地方变动率甚至达40%。在法国，80%的封建贵族负债累累。这说明()

- A. 工业革命给西欧带来影响
- B. 价格革命加速封建贵族的衰亡
- C. 商业革命促使封建土地制度瓦解
- D. 海外对西欧商品的需求增长

21. (2分) 新航路的开辟让欧洲各国在世界舞台上扮演的角色发生了变化，出现了新的名称如“黄金的漏斗”、“现代金融和商业制度创立者”、“新航路的受害者”等。下列与其对应的国家分别是()

- A. 西班牙、英国、法国
- B. 意大利、法国、荷兰
- C. 英国、意大利、荷兰
- D. 西班牙、荷兰、意大利

22. (2分) 1860年，英法两国签订《英法条约》规定：英国同意废除所有制成品的关税，把对白兰地、葡萄酒征收的关税降低到殖民地产品的水平；法国降低英国煤炭及亚麻品的关税，征收关税的商品减少到总数的30%，关税平均约为15%。这反映()

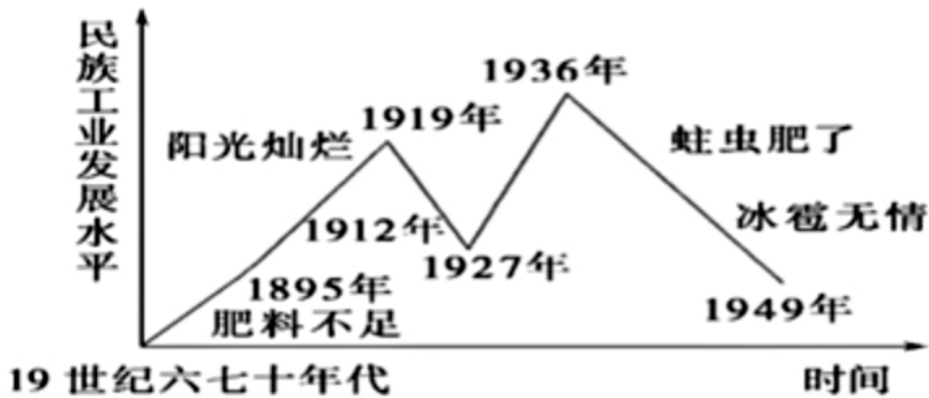
- A. 世界经济发展需要条约的保护
- B. 重商主义思想导致贸易政策调整
- C. 工业革命发展推动贸易自由化
- D. 工业化与对外贸易关系相互促进

23. (2分) 1861年曾国藩创办的安庆内军械所是近代中国人最早创办的具有先进技术的军事工业企业，1899年晚清状元张謇在“设厂自救”浪潮推动下，创办的南通大生纱厂开工生产。两者的共同之处是()

- A. 都是晚清政府自救行为的表现
- B. 都促使国民经济快速发展

- C. 都是中国近代化的表现
- D. 都是近代民族资本主义企业

24. (2分) 如图生动地展现了中国民族资本主义曲折发展的历程。对图中现象理解正确的有 ()

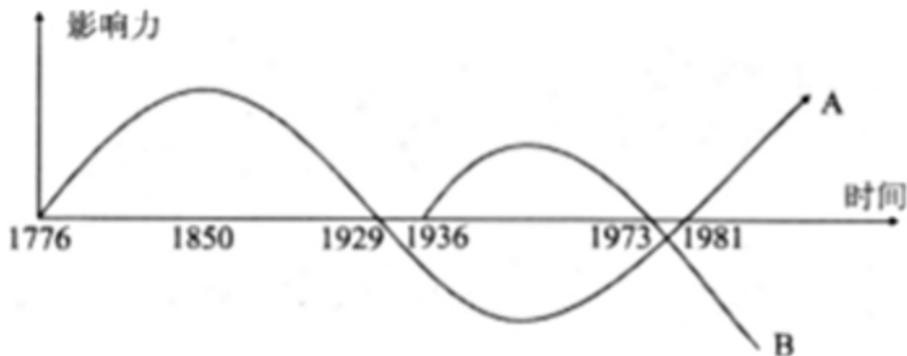


民族工业发展示意图

- ①“肥料不足”是指中国近代民族资本主义工业先天性的资金少、规模小、技术力量薄弱
- ②“阳光灿烂”是指第一次世界大战期间民族资本主义工业出现了“短暂的春天”
- ③1927-1936年发展的主要原因是因为清朝政府放宽了民间设厂的限制
- ④中国的民族资本主义工业发展道路曲折根源于中国半殖民地半封建的社会性质

- A. ①②③
- B. ②③④
- C. ①②④
- D. ①②③④

25. (2分) 如图是工业革命以来主要资本主义国家主流经济理论影响力演变的曲线图。据此分析正确的是 ()



- A. A理论是导致“1929大萧条”出现的主要原因
- B. 罗斯福新政在B理论的指导下最终取得了成功
- C. B理论主张加强对经济干预，扩大政府财政支出
- D. A理论比B理论更能够推动资本主义经济的发展

26. (2分)1962年，中共中央发布文件规定，农村人民公社一般以生产队为基本核算单位，生产经营管理的权力应该主要归生产队。这项政策在当时()

- A. 调动了农民生产积极性
- B. 改变了农村所有制成分
- C. 使左倾错误严重泛滥开来
- D. 推动农村经济体制改革的开展

27. (2分)1990年，一份提交中央的报告说，理论上的凯恩斯主义和实践中的罗斯福新政，实际上是把计划用作国家干预的一种手段，从那时候起，计划与市场相结合成为世界经济体制优化的普遍趋势。据此可知，该报告的主旨是()

- A. 肯定国家干预经济的发展模式
- B. 阐明融入经济全球化的必要
- C. 主张摆脱传统经济模式的束缚
- D. 剖析西方经济体制的实质

28. (2分)《漫长的20世纪》中写道：30年代大危机爆发，人们放弃了相对稳定的货币追求，世界资本主义退到了民族国家经济及相关帝国的避难所里。为了避免这种历史重演，二战后资本主义国家()

- A. 加大公共事业领域开支
- B. 推动科学技术的新发展
- C. 适当减少政府干预经济
- D. 重建国际金融货币体系

29. (2分)如表中列举了当今世界经济全球化进程中的一些重要事件，其中表述正确的是()

| 选项 | 史实 | 推论 |
|----|------------|-----------------------|
| A | 建立布雷顿森林体系 | 有利于降低关税，减少贸易壁垒 |
| B | 成立欧洲联盟 | 开始建立规范化和法制化的世界贸易体系 |
| C | 建立北美自由贸易区 | 努力实现发达国家与发展中国家的优势互补 |
| D | 成立亚太经济合作组织 | 标志着亚太地区从经济实体向经济政治实体过渡 |

- A. A
- B. B
- C. C
- D. D

30. (2分) 古巴前领导人卡斯特罗称：“全球化是客观现实，它显示了在这个大家居住的地球上我们都是同一条船上的乘客。一小撮乘客居住在豪华的客舱，85%的乘客拥挤在不卫生的船舱里。很显然，这艘船上不公正的事太多了，它很难浮在水面上。它的航程是如此不合理和荒唐，以致它不可能抵达安全的港口。”这段材料无法揭示出()

- A. 全球化时代国家之间休戚相关
- B. 全球化造成利益分配不均
- C. 缺乏公正性的全球化难以为继
- D. 全球化的潮流应该被抵制

材料解析题

1. (18分) 阅读下列材料，回答问题。

材料一：如表是苏俄(联)1913-1925 年农业生产恢复和发展的情况

| | 1913年 | 1921年 | 1923年 | 1925年 |
|---------------|-------|-------|-------|-------|
| 粮食作物耕作面积(万公顷) | 9446 | 6620 | 7860 | 8730 |
| 粮食作物产量(亿普特) | 39.79 | 22.13 | 35.55 | 44.24 |

材料二：1933年 5月 12日，(罗斯福)发布农业调整法，强制农民减少耕地面积和牲畜繁殖，以提高农产品价格，解决农副产品过剩问题。国家对缩减耕地和降低牲畜繁殖的人进行补贴。后来政府还对各州、各区甚至很多大农场规定农产品的生产定额，对超过国家规定生产定额的产品课以重税。

——周一良、吴于廑《从分散到整体的世界史·现代分册》

材料三：如图所示为 1950-1984 年中国、苏联粮食产量的比较：



1. 根据材料一并结合所学知识，指出苏俄农业政策发生的变化。
2. 根据材料二和所学知识，归纳罗斯福新政在农业方面的主要措施，并说明罗斯福新政的主要特点。
3. 根据材料三并结合所学知识，指出 20 世纪 80 年代后中国和苏联粮食产量的变化趋势，并结合两国经济改革内容，分析出现不同趋势的原因。

2. (22分) 阅读下列材料, 回答问题。

材料一: 从19世纪70年代起, 西方列强掀起瓜分殖民地的狂潮。到19世纪末, 殖民地基本被瓜分完毕。伴随着殖民扩张, 世界几乎所有国家和地区都被卷入世界市场之中, 由资本主义主导的资本主义世界市场最终形成。在这个世界体系中, 世界经济分成了核心区、边缘区和半边缘区三个部分。面对欧美带来的工业文明和侵略扩张的双重冲击, 处于农业文明的国家一方面需要维护自身的独立, 另一方面需要进行改革, 向工业文明转变。

——摘自徐蓝: 《世界近代史1500-2007》

1. 根据材料一并结合所学知识, 概括经济全球化的进程。(

材料二: 这些反全球化力量主要包括: 旨在维持本文明、本民族、本地方的文化传统和价值

观念体系、抵抗全球化大潮中主导的西方文化和价值观念体系之侵蚀和支配的宗教、文化运动; 以跨国公司和美国的经济文化势力为主要靶子的一些反全球化思潮或意识形态; 由有全球化威胁或剥夺就业而反对全球化的发达国家部分劳工, 他们构成那里劳工界的反全球化运动及社会基础; 环境保护主义者和人权运动分子等成分构成的部分反全球化运动, 它们带有后现代和世界主义色彩。

——一时殷弘: 《当今世界的反全球化力量》

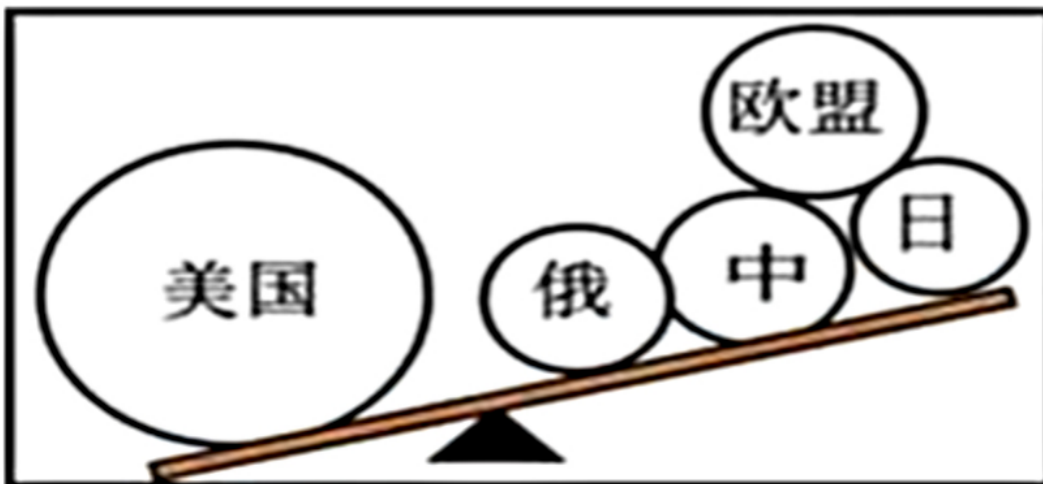
2. 根据材料二并结合所学知识, 概括反全球化群体的特点, 并指出世界各国应该如何应对经济全球化。

材料三: 尼克松政府在1973年提出“欧洲年”倡议, 希望通过与欧共体国家对话, 一揽子解决存在于两者间的经济、军事与外交问题。其本意是利用美国在军事领域的优势, 迫使欧洲在经济领域让步, 给予美国驻军开支补偿。但是事与愿违, 欧共体各国不仅对“欧洲年”倡议反应冷淡……“欧洲年”倡议最终无果而终。

——王雯菲《“欧洲年”倡议的无果而终》

3. 根据材料三, 指出尼克松试图在美欧关系中扮演的角色。结合所学知识, 分析导致“欧洲年”倡议流产的原因。

材料四:



4. 指出材料四所反映的国际关系格局特征。结合所学知识, 指出这一特征对世界历史发展产生的影响。

以上内容仅为本文档的试下载部分，为可阅读页数的一半内容。如要下载或阅读全文，请访问：<https://d.book118.com/907016063015006111>