

# 小学一年级下册数学应用题 100 道

## 一. 解答题(共 100 题, 共 525 分)

1. 王叔叔收了一批鸭蛋, 前 3 天卖出 30 个, 还剩 8 个。他一共收了多少个鸭蛋?
2. 小明家养了母鸡 15 只, 公鸡 8 只, 小明家的公鸡比母鸡少几只?
3. 哥哥今年 15 岁, 小红今年 9 岁, 再过 3 年, 两人相差多少岁?
4. 明明和笑笑看一本书, 笑笑看来 37 页, 明明看了 15 页, 谁看的多?
5. 三位同学一共浇 26 棵树, 小刚浇了 8 棵, 小明浇了 12 棵, 小强浇了多少棵?



- (1) 大生有 50 元钱, 可以买哪三件玩具? 把这三件玩具圈起来。
  - (2) 一把手枪比一个洋娃娃便宜多少钱?
  - (3) 大明买一辆汽车, 售货员找回 5 元, 大明付了多少钱?
  - (4) 小军的钱正好买一辆汽车, 你猜猜, 他最多有 ( ) 张 10 元的。
7. 1 个打火机 8 角钱, 请你在拿出人民币件数最少的情况下付款, 并写出如何付款?
  8. 妈妈拿 80 元, 买了一双鞋, 还剩 20 元, 这双鞋多少元?
  9. 小明有一些包子, 他把一半给了小红之后, 又买了 7 个, 现在还有 13 个包子。小明原来有几个包子?
  10. 小胖在收集奥运会明信片, 他已经有 32 张, 又得到了 4 张。现在小胖有几张明信片?
  11. 趣味运动会上, “齐心协力”需要一位老师和一名学生组成一队参与活动。现在场上有 11 名学生和 8 位老师, 还缺几位老师?

$$\square \bigcirc \square = \square \text{ (位)}$$

答：还缺\_\_\_\_\_位老师。

12. 小小营业员。



(1) 买一个玩具熊比一个皮球多花多少元？

$$\square \bigcirc \square = \square \text{ ( )}$$


(2) 购买这三样物品共需多少元？


$$\square \bigcirc \square \bigcirc \square = \square \text{ ( )}$$

(3) 小亮买一辆汽车和一个足球，给售货员 50 元，应找回多少钱？

$$\square \bigcirc \square \bigcirc \square = \square \text{ ( )}$$

(4) 你还能提出什么问题并解答？

13.  要给下面每个小朋友送一份礼物，还差几份礼物？



$$\square \bigcirc \square = \square \text{ (份)}$$

14. 一个筐里装着 52 个苹果，另一个筐里装着一些梨。如果取走 30 个梨，那么梨就比苹果少 10 个。原来有多少个梨？

15. 解答题。



(1) 每件物品各买一个，至少要带多少钱？

(2) 用 10 元钱买了两件物品，买的是什么？(钱正好花完)

16. 小兔哥哥拔了 14 个萝卜，小兔妹妹比小兔哥哥少拔了 8 个。

(1) 小兔妹妹拔了多少个萝卜？


(2) 一共拔了多少个萝卜？

17. 小猫妈妈带着小猫宝宝去钓鱼，它们一共钓了 38 条鱼，小猫宝宝吃了 8 条。它们还剩下多少条鱼？

18. 小刚要练习写 17 个毛笔字，还剩下 8 个字没有写，他已经写了几个字？

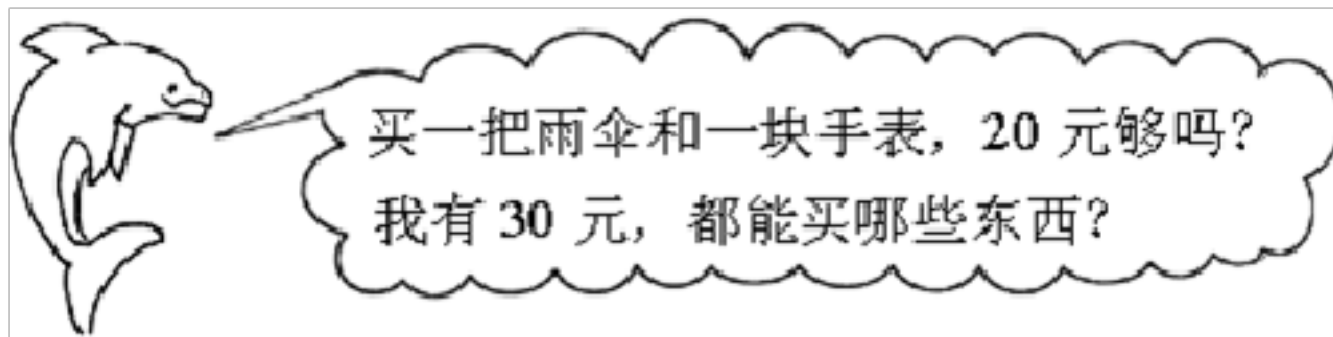

19. 看图列算式。

15 只小鸭去游泳，又来了 8 只，游走了 14 只，河里还有几只？



$$\square \bigcirc \square \bigcirc \square = \square \text{ (只)}$$

20. 小敏有 1 元 7 角，买一袋小金鱼要 2 元，小敏的钱够吗？还缺多少？  
21.



22. 学校有 10 个足球，16 个篮球，足球比篮球少多少个？  
23. 小红有 12 个玩具，给了小明 4 个，小红自己还剩下多少个？  
24. 小强想买一个玩具车，他有 20 元钱，还差 5 元才能买到，一个玩具车要多少钱？  
25. 商店运来 80 袋奶糖，上午卖了 24 袋，下午卖了 9 袋，一天一共卖了多少袋奶糖？  
26. 跳绳。



(1) 小明和小奇一共跳了多少下?

$$\square \bigcirc \square = \square \text{ (下)}$$

答: 小明和小奇一共跳了\_\_\_\_\_下。

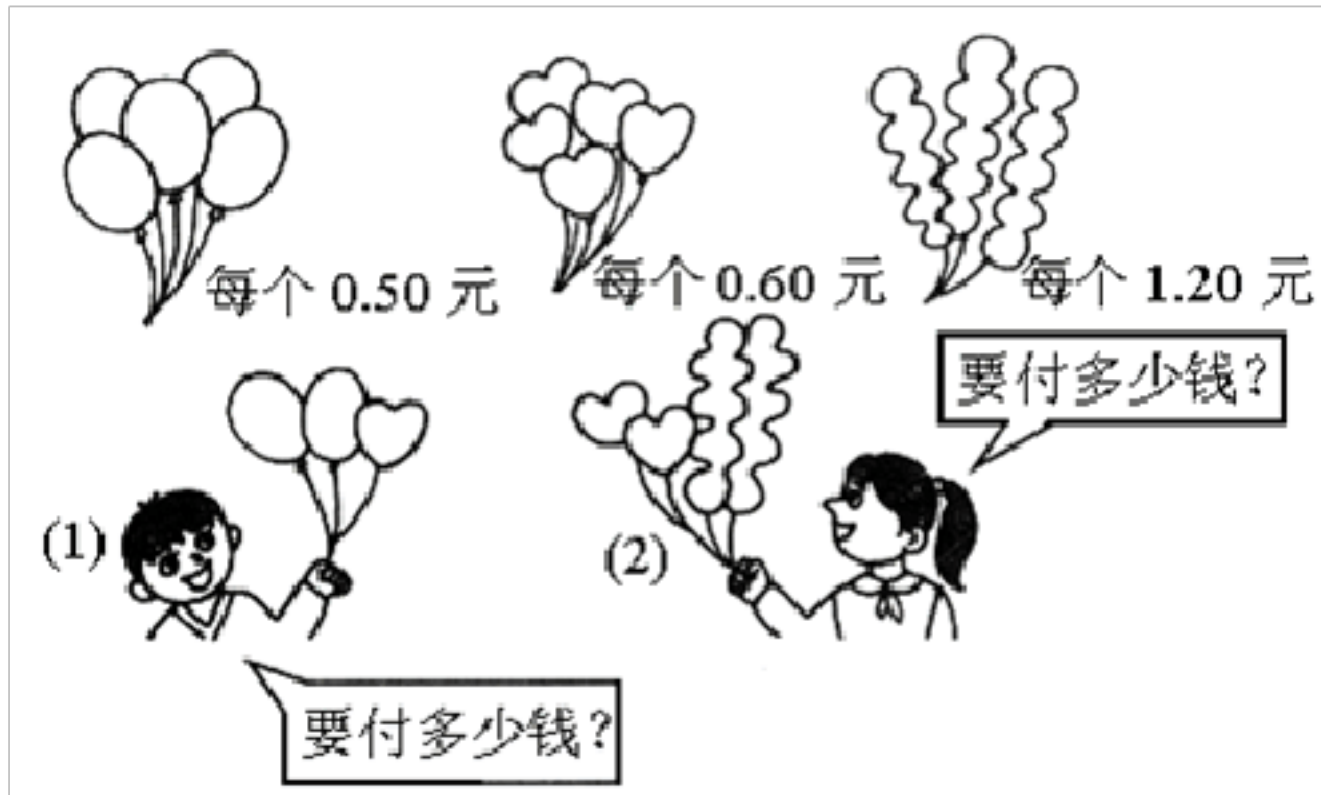
(2) 小青和小奇谁跳的比较多? 多多少下?

$$\square \bigcirc \square = \square \text{ (下)}$$





答: \_\_\_\_\_跳的比较多, 多\_\_\_\_\_下。


27. 草地上有 12 只绵羊和 8 只山羊, 山羊比绵羊少几只?

28. 看图回答。



29. 兰兰有 8 元钱，买一本画册要 12 元，兰兰还差多少元？

30.  25 个， 10 个， 比  多几个？

31. 兰兰摘了多少个  ？



32. 同学们踊跃为希望小学捐书，一（一）班捐了 26 本，一（二）班捐了 9 本，两个班共捐了多少本书？


$$\square \bigcirc \square = \square$$

(本)

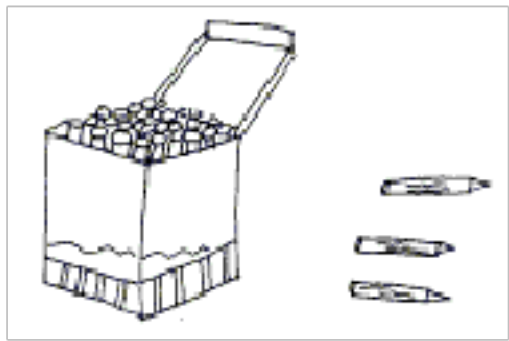
答：两个班共捐了（      ）本书。

33. 学校体育室有足球 21 个，一年级借走 8 个，还剩下多少个足球没被借走？

34. 音乐书有 35 本，美术书有 20 本，再买多少本美术书就和音乐书同样多了？

35.  要送 13 份礼物，现在剩下 6 份，送了几份？

36.



盒里还有 25 枝，一共有多少枝蜡笔？

37. 小明剪了 50 颗星，小东剪了 7 颗星，学前班共有 54 个学生，他们剪得星星够每人一颗吗？

38. 小丽植了 14 棵树，小文植了 7 棵树，小丽比小文多植多少棵树？小文比小丽少植了多少棵树？

39. 看图回答。



2 角

12 元

5 角

2 元


(1) 买一支笔和一块橡皮一共要多少钱？

(2) 洋娃娃比哨子贵多少钱？

(3) 用 5 元买一个哨子，应找回多少钱？

40. 小明要写 25 个字，已经写了 8 个，还要写几个才写完？



41. 商店进来  玩具 13 只，卖出 8 只，现在还有多少只没卖？

42. 小明和小华一共做了 13 朵小红花，小明做了 7 朵，小华做了几朵？

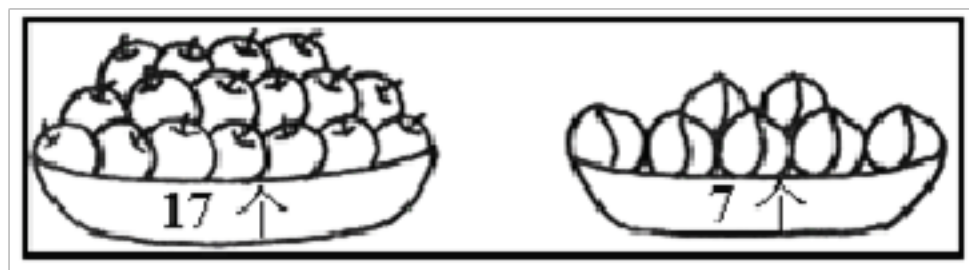
43. 小红借给李军 10 本练习本，又借给王思 8 本练习本，共借出多少本？

44. 小菊看一本 35 页的故事书，星期一看了 15 页，星期二看了 9 页。星期二比星期一少看多少页？

45. 我从盒子里拿出 9 粒白棋子, 然后又放进去 15 粒, 盒子里多了几粒棋子?
46. 一共有 58 个盘子, 还有 9 个没洗, 已经洗了多少个盘子?
47. 小林和小军看同一本故事书。几天后, 小林还剩 15 页没看, 小军还剩 23 页没看。谁看的页数多?
48. 妈妈摘了 45 个桃, 小猴摘了 8 个, 两人一共摘了多少个?
49. 图书室有 78 本书, 借走 8 本, 还剩多少?
50. 有 17 颗糖果, 分给 2 个小朋友, 一个小朋友分得 8 颗, 另一个小朋友分得几颗?
51. 停车场原来有 17 辆汽车, 开走了 9 辆, 过一会儿, 又开来了 6 辆, 现在停车场里有多少辆汽车?
52. 根据题意作答。




53. 比一比。



两种水果相差多少个?

\_\_\_\_\_ = \_\_\_\_\_ ( \_\_\_\_\_ )

54. 拔萝卜。





拔了 7 根

拔了 6 根

(1) 两只小兔一共拔了多少根？

(2) 他们吃了 8 根，还剩多少根？

55.



(1) 一共摘了 13 个桃子，吃了 9 个，还剩几个？

$\square \bigcirc \square = \square$  (个)

(2) 一共有 13 只猴子，树上有 4 只，树下有多少只？

$\square \bigcirc \square = \square$  (只)

56. 窝里有 13 只鸽子，飞走了 9 支，请问还剩下多少只？


57.



35 元

51 元

7 元

(1) 一个  比一辆  贵多少元？

(2) 一辆  和一个  相差多少元？

58. 箱子里有 24 瓶矿泉水。还剩下多少瓶？



$$\square \bigcirc \square \bigcirc \square = \square \text{ (瓶)}$$

59. 小彬与小丽一起踢毽子，小彬踢了 9 下，小丽踢了 14 下。

(1) 小丽比小彬多踢几下？

(2) 小彬比小丽少踢几下？

以上内容仅为本文档的试下载部分，为可阅读页数的一半内容。如要下载或阅读全文，请访问：<https://d.book118.com/908065113126006132>