

错中求解




$$\begin{array}{r}
 36 \\
 + 23 \\
 \hline
 59
 \end{array}$$



$$\begin{array}{r}
 56 \\
 + 23 \\
 \hline
 79
 \end{array}$$

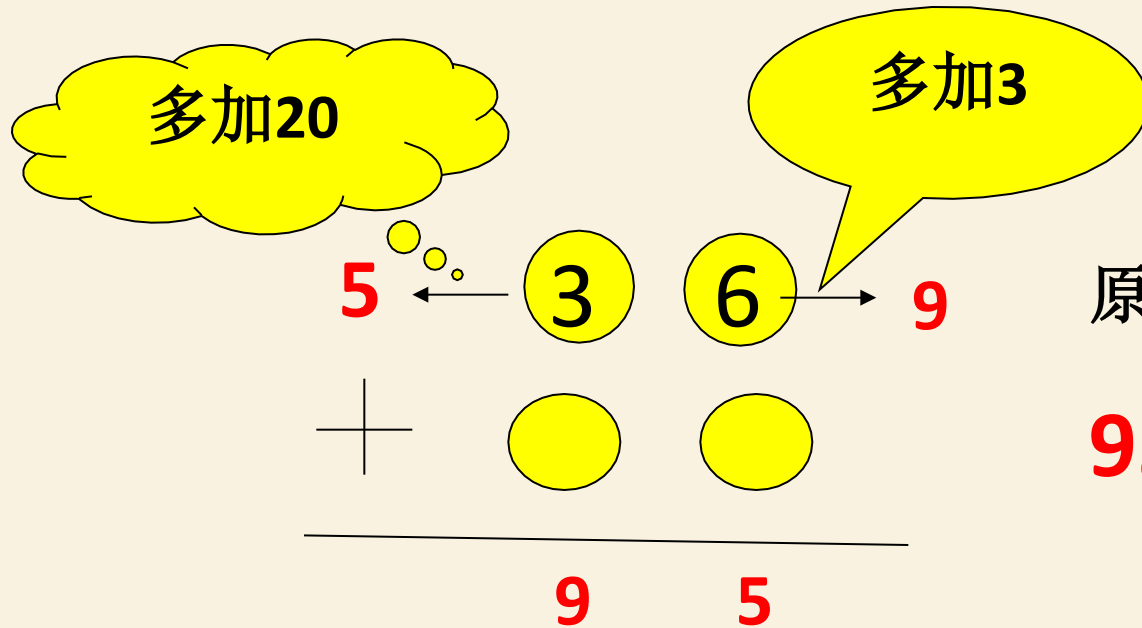




$$\begin{array}{r}
 39 \\
 + 23 \\
 \hline
 62
 \end{array}$$



例1、一种学生在做一道加法题的时候，不细心把一种加数的个位上的6看成了9，十位数字上的3看成了5，成果算出的和是95，原来正确的成果是多少？



原来的和就是：

$$95 - 3 - 20 = 72$$

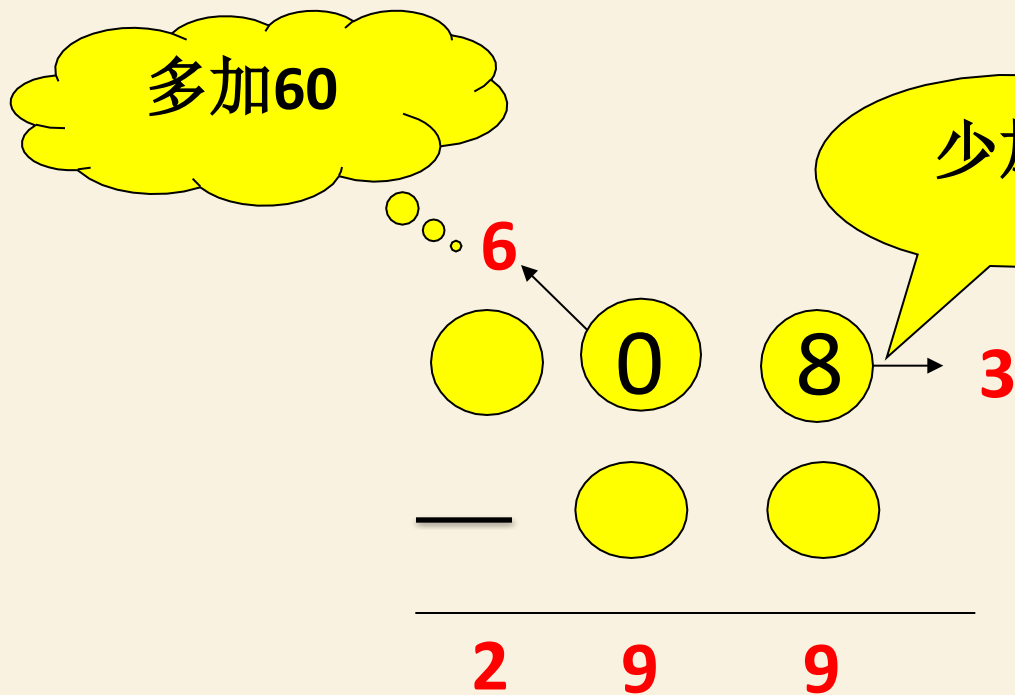


练习1: 小明做一道加法题时，把个位上的2看成了5，把十位上的9看成了6，算出的成果是144，正确的成果应是多少？

$$\begin{array}{r} + \quad \bigcirc \quad \bigcirc \\ \quad \bigcirc \quad \bigcirc \\ \hline \quad 1 \quad 4 \quad 4 \end{array}$$



例2、小明做题时，因为粗心大意把被减数个位上的8写成了3，把十位上的0写成了6，这么算得的差是299，正确的差是多少？



原来的和就是：

$$299 + 5 - 60 = 244$$



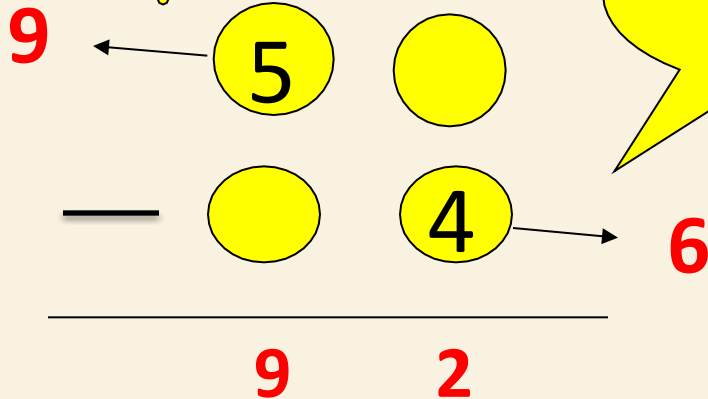
练习2: 做一道减法题时，小马虎把被减数个位上的0看成了8，把十位上的2看成3，成果得数是92，正确的答案应是多少？

$$\begin{array}{r} \quad \bigcirc \quad \bigcirc \\ \quad \bigcirc \quad \bigcirc \\ \hline \quad 9 \quad 2 \end{array}$$



例3、小马虎做一道减法题时，把被减数十位上的5当做9，把减数个位上的4当做了6，成果得97，正确答案是多少？

多加40



原来的答案就是：

$$92 - 40 + 2 = 48$$



练习3: 小马虎做一道减法题时，把被减数十位上的5当做9，把减数个位上的4当做了6，成果得97，正确答案是多少？

$$\begin{array}{r} \\ - \\ \hline 9 \end{array}$$



1、 小马虎做一道减法题时，把被减数十位上的**5**当做**9**，把减数个位上的**4**当做了**6**，成果得**97**，正确答案是多少？

2、 小蕊做一道减法题时，不细心把被减数十位上的**8**看成了**3**，把减数个位上的**7**看成了**1**，成果是**13**，。正确的得数应是多少？



3、小明做一道加法题时，把个位上的**2**看成了**5**，把十位上的**9**看成了**6**，算出的成果是**144**，正确的成果应是多少？

4、做一道减法题时，小马虎把被减数个位上的**0**看成了**8**，把十位上的**2**看成**3**，成果得数是**92**，正确的答案应是多少？



5、 小天做一道减法题时，因为粗心，把被减数个位上的3看成8，把减数十位上的1看成5，成果是81，正确的答案应是多少？

6、 小桃在做一道减法题时，把被减数十位上的5看成了3，减数个位上的0看成了6，算出的成果是91，正确的成果应是多少？



7、小丽在计算一道加法题时，把个位上的7看成了1，而把十位上的0看成了6，成果算出的和是315.那么正确的成果应是多少？

8、做一道减法题时，小敏把减数十位上的9看成了6，个位上的8看成了0，算出的成果是101，正确的答案应该 是多少？



以上内容仅为本文档的试下载部分，为可阅读页数的一半内容。如要下载或阅读全文，请访问：<https://d.book118.com/915040111040012022>