

# 天津市 2023-2024 学年高一上学期历史期末试卷

姓名：\_\_\_\_\_ 班级：\_\_\_\_\_ 考号：\_\_\_\_\_

题号	一	二	总分
评分			

**一、选择题** 本题共 25 小题，每小题 2 分，共 50 分。下列每小题所给出的四个选项中，只有一个选项是正确的。

1. 中华原始文化先后经历了旧石器时代与新石器时代。中国已发现的新石器时代文化遗存有 1 万多处，且分布广泛。位于长江下游地区的文化遗址是（ ）

- A. 临潼姜寨遗址
- B. 红山文化遗址
- C. 襄汾陶寺遗址
- D. 良渚文化遗址

2. 战国时期的货币呈现出新特点，天然货币和实物货币减少，金属铸币占据了主要地位，表现出更小、更轻、更简的发展趋势。这一变化反映了（ ）

- A. 商品经济的发展
- B. 长途贩运贸易频繁
- C. 赋税制度的优化
- D. 国家分裂势力加剧

3. 斯塔夫里阿诺斯在《全球通史》中写道：“(中国) 新皇帝……废除了所有的封建国家和王国，将广阔的国土划分成为若干行政区，每一行政区都配备一批由中央政府任命并向中央政府负责的官员”。材料中新皇帝推行的制度（ ）

- A. 加强了中央对地方的控制
- B. 标志着贵族政治彻底瓦解
- C. 地方割据势力被完全铲除
- D. 创新了地方基层管理模式

4. 传统的观点认为：汉武帝早年征伐四方、开疆拓土，却也耗费了国力，以致民不聊生。及至晚年，武帝“幡然悔悟”，停止了对外的征伐，下诏“罪己”。学者辛德勇在《制造汉武帝》一书中认为，是司马光在《资治通鉴》中人为地建构了汉武帝晚年从“尚攻”转向“守文”的政治形象。此观点引发广泛学术争议，这表明（ ）

- A. 当代著作比古代史学作品更接近真相
- B. 历史解释受到研究者主观认识的影响
- C. 时人热衷于对历史人物进行形象重塑

D. 历史人物形象随着时间推移逐渐饱满

5. 魏晋时期，内迁黄河流域较久的少数民族大多不再以异族自居，如拓跋鲜卑说自己是黄帝之子昌意的后裔，羌人认为祖先是虞氏，匈奴铁弗部也自称系大禹的嫡脉相传。这反映出（ ）

- A. 中原文化长期领先
- B. 社会矛盾趋向于缓和
- C. 华夏认同观念增强
- D. 少数民族溯清了族源

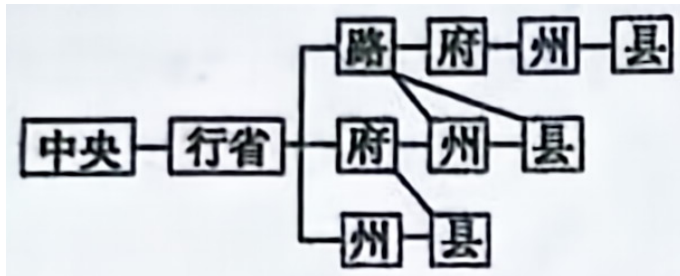
6. 唐代时，各国使者、教派所带来的文化融入唐朝，同时唐朝的律令制度、汉字文化、儒家文化等波及东亚乃至东南亚，其文化影响甚至远及大食(阿拉伯)、拂林(今东地中海一带)等地。这表明唐朝（ ）

- A. 科技成就领先世界
- B. 深受外来文化影响
- C. 包容开放影响世界
- D. 政治制度优越先进

7. “市井经纪之家，往往只于市店旋买饮食，不置家蔬……夜市直至三更尽，才五更又复开张。如要闹去处，通晓不绝。”上述场景最有可能出现在（ ）

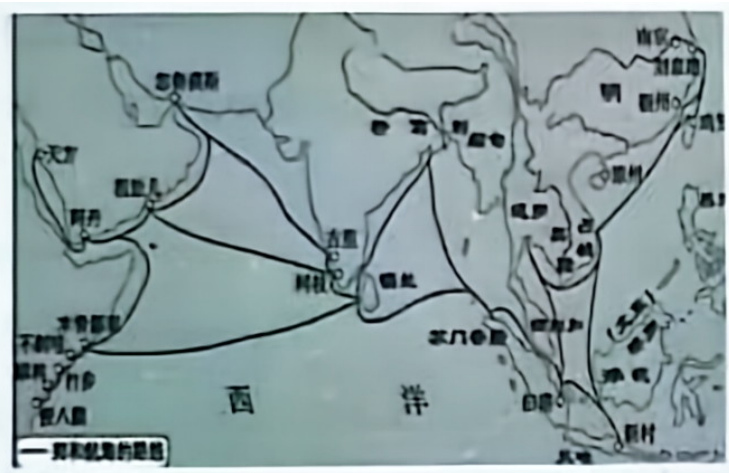
- A. 秦代咸阳
- B. 汉代洛阳
- C. 唐代长安
- D. 宋代开封

8. 下图出自《中国历代行政区划的变迁》一书，它反映了中国古代的一种行政区划制度，这种制度确立的意义是（ ）



- A. 标志着中央集权制度的形成
- B. 有利于全国各地经济交流
- C. 官僚政治由此取代贵族政治
- D. 便利了中央对地方的管理

9. 下图是郑和下西洋示意图。1405—1433年，郑和七次下西洋，到过西亚非洲30多个国家和地区，促进了中国与世界的联系。据此可知此时（ ）



- A. 世界开始由分散走向整体
- B. 中国科技水平领先于世界
- C. 中国主导东西方商业贸易
- D. 中国国力正处于强盛时期

10. 康熙二十三年(1684年)九月康熙帝曾下令开放海禁,次年正式公布开放广东、福建、浙江、江苏四省通商。然而至乾隆二十二年(1757年),其中的三个口岸被关闭,限定广州一口通商。这一变化( )

- A. 使中国朝贡贸易体系逐渐衰落
- B. 表明中国海权意识不断地强化
- C. 使得中国逐渐落后于世界潮流
- D. 使中国对外交流处于完全断绝

11. 下面是明清时期粮食生产和人均占有粮食的相关信息。这可以用来说明( )

朝代	每人粮食面积 (市亩)	粮食亩产 (市斤/市亩)	人均占有粮食 (市斤)
明代	3.23	346	1118
清中叶	1.71	367	628

- A. 人口激增易引发粮食危机
- B. 技术进步提高了粮食产量
- C. 中国农业的提升空间有限
- D. 耕地增加改善百姓的生活

12. 有人将辛亥革命后中国的某些变化戏称为“头上和脚上的变化”。从社会习俗变迁的角度来看,体现的是( )

- A. 民族独立和民主政治
- B. 旗袍和中山装的兴起
- C. 剪辫运动和废止缠足
- D. 民主共和观念的深入

13.

20世纪初，中国人民发起了反帝爱国运动，特别是1915年因反对“二十一条”掀起的抵制日货、提倡国货运动，使人民购买国货的热情高涨。这有力地推动了（ ）

- A. 社会生活新气象的出现
- B. 民主共和思想的传播
- C. 新民主主义革命的兴起
- D. 民族资本主义的发展

14. 北洋军阀统治时期，以陈独秀等为代表的中国先进知识分子在《新青年》撰文阐述：要拥护“德先生”，便不得不反对旧伦理、旧政治；要拥护“赛先生”，便不得不反对旧艺术、旧宗教。这表明《新青年》旨在宣传（ ）

- A. 传统文化和思想
- B. “师夷长技以制夷”
- C. 民主与科学
- D. “打倒列强，除军阀”

15. “1926年9月，被人嗤之以鼻的国民党人攻下了长沙、岳州、武昌和汉口。1927年春，他们拿下了南京和上海。”这则新闻报道反映了（ ）

- A. 日本侵华受到有效遏制
- B. 护国运动促使袁世凯倒台
- C. 护法运动取得最终胜利
- D. 国民大革命取得重大成果


16. 大革命失败后，为反抗国民党反动派的统治，中共先后领导一系列武装起义，毛泽东在1930年1月写的一封信中明确提出“星星之火，可以燎原”。这里的“星星之火”指的是（ ）

- A. 国民党统治区域
- B. 农村革命根据地
- C. 敌后抗日根据地
- D. 解放区民主政府

17. 《天朝田亩制度》规定：“凡分田，照人口，不论男妇，有饭同食。”1947年制定的《中国土地法大纲》规定：“不分男女老幼，统一平均分配，……土地归农民私人所有。”二者的相同点是（ ）

- A. 遵循平均分配的原则
- B. 促进了工农联盟
- C. 真正实现耕者有其田
- D. 废除土地私有制

18. 历史图示是对客观历史进程直观而简明的反映。下面的示意图更有助于我们了解（ ）



- A. 辛亥革命的发展历程
- B. 国民革命的主要进程

C. 抗日战争的发展历程

D. 解放战争的主要进程

19. 在新中国，我们的一切几乎都是以“人民”来定义的。国家叫“人民共和国”，政府叫“人民政府”，军队叫“人民解放军”，警察也叫“人民警察”。归根到底，新中国的政治，就是主张“人民(民主)专政”。材料反映了新中国（ ）

- A. 确立根本政治制度
- B. 保障工人阶级权利
- C. 人民已经当家作主
- D. 传播民主共和思想

20. 1958—1962年5年间，我国工业增加值年均仅2.7%，1963—1965年间工业增加值达到21.4%。1963—1965年的工业增长主要得益于（ ）

- A. 一五计划的实施
- B. 三大改造的完成
- C. 国民经济的调整
- D. 国家财政的统一


21. 1983年，我国农村劳动力人均产值比1978年增长了30.6%，平均年增长5.5%，大大高于1978年以前平均增长1.29%的速度。导致这一变化的主要原因是（ ）

- A. 家庭联产承包责任制的推广
- B. 社会主义初级阶段理论的提出
- C. 中国正式加入世界贸易组织
- D. 社会主义市场经济体制的建立

22. 20世纪80年代初，关于香港回归后的管理，邓小平强调“一国两制”“港人治港”“港人必须是爱国者”。这一要求（ ）

- A. 解决了中英之间历史遗留问题
- B. 践行了另起炉灶外交基本方针
- C. 改变了香港民众原有生活方式
- D. 体现了原则性和灵活性的统一

23. 对下列三幅图片所示的内容，解读准确的是（ ）



- A. 中国汽车制造业发展为国民经济的支柱产业
- B. 中国工业化建设在多个行业取得了巨大进步

C. 中国在两极格局下实现了科学技术突破发展

D. 中华人民共和国实行“科教兴国”发展战略

24. 下表是 2017 年中共十九大报告中《关于中国社会主义现代化建设目标的规划》。它体现了 ( )

时间	主要内容
2017—2020 年	全面建成小康社会决胜期
2020—2035 年	基本实现社会主义现代化
2035—2050 年	把我国建设成富强民主文明和谐美丽的社会主义现代化强国

A. 中国综合国力位居世界之首

B. 社会主义理论体系不断完善

C. 中国人民对美好生活的向往

D. 中国共产党的自我革新精神

25. 2019 年 3 月 8 日, 中国外交部长王毅在答中外记者问时指出: 中国自倡议“一带一路”以来, 目前已有 123 个国家和 29 个国际组织签署了共建“一带一路”合作文件, 明确投出了信任票和支持票。这反映出中国 ( )

A. 成功建立了新区域集团

B. 已成联合国主要支持国

C. 首创了新型的国家关系

D. 积极促进全球共同发展

**二、非选择题: 本题共 2 小题, 其中第 26 题 30 分, 第 27 题 20 分, 共 50 分。**

26. 阅读材料, 完成下列要求。

**材料一** 到了十九世纪, 与我抗衡的是几个以科学、机械及民族主义立国的强国。我们在道光年间虽受了重大打击, 我们仍旧不觉悟, 不承认国家和民族的危险, 因此不图改革, 枉费了二十年的光阴, 直到受了英法联军和太平天国的痛苦, 然后才有同治初年由奕訢、文祥、曾国藩、李鸿章、左宗棠领导的自强运动。

——张荫麟《中国史纲》

**材料二** 晚清时期的中国所匮乏的是现代的民族国家意识和政治形式, 因此梁启超所致力建构的是一种以国民共同体为核心的民族主义。因为国民的独立自由是国家独立自由的前提, 所以梁启超的民族主义既是肯定人的基本权利, 也是强调国民拥有参与政治的权利。

——摘编自许纪霖《家国天下》

**材料三**

不言而喻，1919年的伟大思想浪潮是由许多因素共同造成的。北京大学已成为现代化的高等学府，蔡元培在北大任职时，欢迎来自全世界的各种思想，这种进步风气很快推动了语言改革运动。与此同时，由于日本的侵略，爱国民众日益关心国家的命运。军阀们为了私利与日本帝国主义勾结，1919年山东问题的纠纷，使中国民族主义情绪的高涨达到新高峰。

——摘编自费正清《剑桥中华民国史》

**材料四** 南昌起义的枪声，掀开了中华民族从苦难走向振兴的新的一页。从那时起，他们从井冈山一路走来，走过人类历史上绝无仅有的万里长征，走过艰苦卓绝、浴血荣光的14年抗战，走过“将革命进行到底”的解放战争，走过戍边御敌、投身建设改革的辉煌岁月……

——《人民日报》社论

(1) 根据材料一，指出“重大打击”及“自强运动”分别是什么历史事件？

(2) 根据材料二，指出梁启超的思想有什么进步之处？这些进步思想因哪一战争的失败而引发？结合所学知识，分析梁启超认为实现国民拥有政治权利的途径有哪些？

(3) 材料三中“伟大思想浪潮”指的是哪一历史事件？根据材料归纳其发生的原因。

(4) 根据材料四并结合所学知识，分析中国共产党从井冈山走出了一条什么样的革命道路。“浴血荣光的14年抗战”胜利的原因是什么？

27. 阅读材料，完成下列要求。

材料一 北人谓土为拓，后为跋。魏之先出于黄帝，以土德王，故为拓跋氏。夫土者，黄中之色，万物之元也。宜改姓元氏。

——司马光《资治通鉴》

材料二 帝以问宰相陆贽，贽上疏请厘革其甚害者，其一曰：赋役旧法，行之百年，人以为便。……陛下初即位，宜损上益下，慎用节财，而摘郡邑，验簿书，州取大历中一年科率多者为两税定法，此总无名之暴赋而立常规也。夫财之所生，必因人力。两税以资产为宗，不以丁身为本，资产少者税轻，多者税重。

——欧阳修《新唐书》

材料三 40年来，我们始终坚持解放思想、实事求是、与时俱进、求真务实，……形成了中国特色社会主义道路、理论、制度、文化，以不可辩驳的事实彰显了科学社会主义的鲜活生命力，社会主义的伟大旗帜始终在中国大地上高高飘扬！各项便民、惠民、利民举措持续实施，使改革开放成为当代中国最显著的特征、最壮丽的气象。



——习近平《在庆祝改革开放 40 周年大会上的讲话》

- (1) 根据材料一，指出此次改革的发起者及主要内容。
- (2) 根据材料二并结合所学知识，指出唐代赋税制度的变化并分析其影响。
- (3) 根据材料三，概括改革开放取得成功的经验。综合上述材料，用一句话概述改革在历史进程中的作用。

## 答案解析部分

### 1. 【答案】D

**【解析】【分析】**新石器时代(中国)。根据所学知识可知，良渚文化遗址主要集中在浙江省杭州市余杭区瓶窑镇、良渚街道境内，地处中国长江下游地区，故D项正确；

姜寨遗址，位于陕西省西安市临潼区城北1千米处是一处与半坡遗址同时期的原始社会部落遗址，不属于长江下游地区，排除A项；

红山文化遗址是辽河流域的遗址，排除B项；

襄汾陶寺遗址是中国黄河中游地区以龙山文化陶寺类型为主的遗址，还包括庙底沟二期文化和少量的战国、汉代及金、元时期的遗存，排除C项。

故答案为：D。

**【点评】**本题考查中国历史文化遗产，解题的关键信息是“长江下游地区”，然后结合选项中文化遗址的地理位置解答，侧重考查学生对基础知识的识记能力。

### 2. 【答案】A

**【解析】【分析】**根据材料可知，从春秋到战国，金属货币逐渐取代了天然货币和实物货币，这是由于随着商品经济的发展，商品活动的增加金属货币轻巧方便的优势逐渐凸显出来，A项正确；

材料说的是货币形态的变化，没有涉及长途贩运，排除B项；

赋税制度的优化与货币形态无直接关系，排除C项；

据所学，战国时期，兼并战争不断，国家由分裂走向统一，而不是“分裂势力加剧”，排除D项。

故答案为：A。

**【点评】**本题考查了中国古代商业发展，解答本题根据货币发展演变趋势进行分析，要求学生具有解读材料信息，调动和运用知识分析历史问题的能力。

### 3. 【答案】A

**【解析】【分析】**根据材料“废除了所有的封建国家和王国”“每一行政区都配备一批由中央政府任命并向中央政府负责的官员”可知，该制度为秦朝的郡县制，以流官取代世俗贵族对地方的治理，强化了中央对地方的行政控制，故A项正确；

秦汉以后官僚政治成为主体，贵族政治沦为补充贵族政治彻底瓦解说法过于绝对，排除B；

地方割据的基础是小农经济的分散性，地方割据势力无法被完全铲除，排除C；

郡县制在春秋战国时期已经出现，排除D项。

故答案为：A。

【点评】本题考查了秦的统一，解答本题根据郡县制的设立及意义进行分析，要求学生具有解读材料信息，调动和运用知识分析历史问题的能力。

4. 【答案】B

【解析】【分析】据题干可知，现代历史学者辛德勇并不认同司马光的观点，他认为汉武帝晚年的政治形象是司马光“人为地”建构出来的，据此可知，历史解释受到研究者主观认识的影响，故 B 正确；

据所学可知，当代著作和古代史学作品都具有较高的史学价值，并不能笼统地断定为“当代著作比古代史学作品更接近真相”，排除 A；

题干仅是述及现代学者辛德勇并不认同司马光的记述，并不能据此扩大为“时人热衷”，排除 C 项；

题干仅是述及现代学者和古代史学家对同一历史人物的形象有争议，但并没有体现出人物形象的“饱满”，排除 D。

故答案为：B。

【点评】本题考查了历史解释与评判，要求学生阅读史料学者辛德勇的观点，要求学生具有解读材料信息，调动和运用知识分析历史问题的能力。

5. 【答案】C

【解析】【分析】由材料中内迁黄河流域较久的少数民族大多不再以异族自居，而自诩炎黄子孙、五帝后裔可知，这一时期华夏认同观念增强，故 C 正确；

材料并未反映社会矛盾趋向于缓和，排除 B；

A 项“长期领先”在材料中未体现，排除 A；

材料只是说少数民族大多不再以异族自居，而自诩炎黄子孙、五帝后裔，并未涉及溯清族源的问题，D 项。

故答案为：C。

【点评】本题考查魏晋南北朝的民族交融与隋唐大一统的发展，解答本题根据材料主旨这一时期华夏认同观念增强进行分析，考查了考生获取和解读信息、调动和运用知识、论证和发现问题的能力。

6. 【答案】C

【解析】【分析】根据材料可知，唐朝时期，大量外来文化融入唐朝，同时唐朝文化也深刻影响了世界其他地区的文明，这表明了唐朝的包容开放影响了世界，故 C 正确；

材料中并未体现科技以及政治制度层面的内容，排除 AD；

材料也没有体现中华文化对世界的影响，排除 B 项。

故答案为：C。

以上内容仅为本文档的试下载部分，为可阅读页数的一半内容。如要下载或阅读全文，请访问：<https://d.book118.com/916153205240011002>