

2023 年事业单位考试职测（职业能力测验）练习题含 答案和解析

一、单选题

1、在粮价出现上涨时，政府应当作出的重要反应是，密切关注粮食市场动向，防止不法商贩_____囤积居奇，哄抬粮价，扰乱市场，既损害城镇居民的利益，也严重影响农民的利益。政府还要正确_____舆论；不要使诸如“暴涨”之类的字眼，在社会上引起完全没有理由出现的_____。依次填入划横线部分最恰当的一项是（ ）。

- A、乘势引导惊慌
- B、借机引导恐慌
- C、借机指导恐慌
- D、乘势指导惊慌

【答案】： B

【解析】： “舆论”是通过“引导”的，从而排除 A、C 两项。“出现恐慌”更合文意。故选 B。

2、历史反复昭示我们，向海而兴，背海而衰，是一条_____的铁律。中华民族要实现伟大复兴，必须_____地走向海洋、经略海洋，坚定不移地走以海富国、以海强国的和平发展之路。

依次填入划横线部分最恰当的一项是：

- A、原封不动理直气壮
- B、颠扑不破昂道阔步
- C、亘古不变义无反顾

D、一成不变勇往直前

【答案】：C

【解析】：本题出自 2021 年国家《行测》真题，此题主要考查词语搭配。第一空与“铁律”搭配的是“亘古不变”。第二空后面出现“坚定不移”，那么与之呼应的成语为“义无反顾”。因此，本题答案为 C 选项。

3、超声波清洗技术主要是利用超声波在液体中的空化作用将物体表面的污物剥离，从而达到清洗的目的，液体在超声波作用下产生的大量的非稳定的微小气泡，这些气泡随超声波的振动反复生成、闭合并迅速变大，在闭合时所产生压强高达成百上千帕的微激波因剧烈碰撞导致突然爆裂，使气泡周围产生上千个大气压，把附着在物体表面和死角的污物打散，达到清洗的效果。这段文字意在说明（）

- A、超声波清洗技术的作用
- B、超声波清洗技术的效能
- C、超声波清洗技术的原理
- D、超声波清洗技术的应用

【答案】：C

【解析】：题目文段详细介绍了超声波清洗技术在清洗过程中的具体工作流程，即解释了其技术原理。

A、B、D 三项中介绍的技术的作用、效能、应用都不是文段的主旨。故选 C。

4、张师傅以 1 元钱 3 个苹果的价格买进苹果若干个，又以 2 元

钱 5 个苹果的价格将其卖出，如果他要赚得 10 元的利润，那么要卖出苹果多少个 ()

A、100

B、125

C、150

D、175

【答案】：C

【解析】：解法一：每个苹果的进价是 $\frac{1}{3}$ 元，每个苹果的卖价 $\frac{2}{5}$ 元，所以一个苹果的利润就是 $\frac{2}{5}-\frac{1}{3}=\frac{1}{15}$ ，所以要赚 10 块钱就用 10 除以 $\frac{1}{15}$ 就可以了，即 150。解法二：求 3 和 5 的最小公倍数，是 15，5 元买进 15 个，6 元卖出 15 个，每次卖 15 个利润为 1 元，利润 10 元，就需要 150 个

5、经过一段时间的研究，人们发现商场室内温度略高所导致的顾客与售货员之间的争吵要比温度略低时多。因此，如果我们能控制商场室内温度，买卖之间的争吵就能得到控制。上述推论隐含了以下哪项假设？
I. 室内温度与买卖争吵之间的关系是可以被利用的
II. 室内温度与买卖争吵之间的关系是有因果关系的
III. 室内温度与买卖争吵之间的关系纯属巧合

A、仅 I

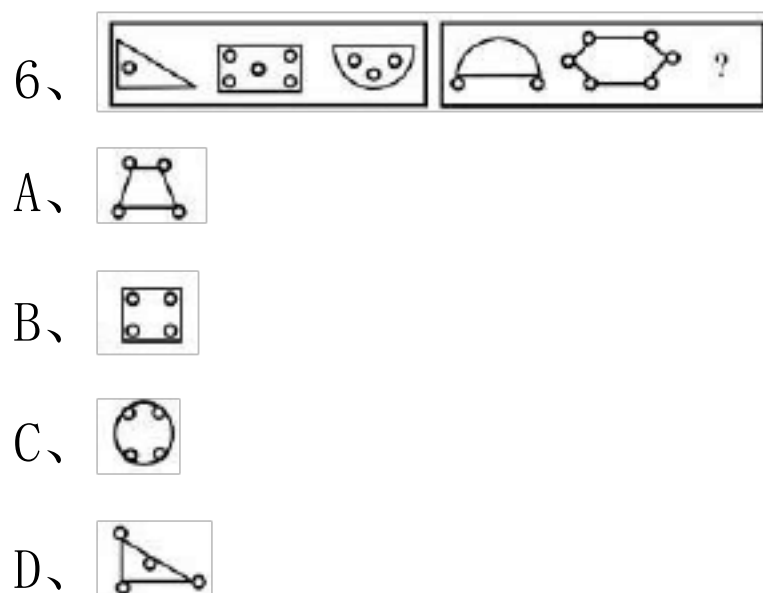
B、仅 II

C、I 和 II

D、II 和 III

【答案】： C

【解析】： 前提型题目。想要通过控制商场温度来控制买卖之间的争吵。 I 是必须的假设。如果两者之间的关系不能被利用，那么就不可能达到效果； II 也是必须的假设，否则题干推论也不能成立。故答案选 C。



【答案】： A

【解析】： 这道题属于位置类，主要考察图形的元素的嵌套。在第一组图中，圆都在图形的内部，在第二组图中，前两个图形中圆都是在图形的外部，而且都是在顶点处，所以第三个图形也应该是具有这种特征，故选择 A。

7、马太效应，是指好的愈好，坏的愈坏，多的愈多，少的愈少的一种现象。以下选项中（ ）不属于马太效应。

A、在股市楼市狂潮中，最赚的总是庄家，最赔的总是散户

B、落后地区的人才会流向发达地区，落后地区的资源会廉价流向发达地区，落后地区的制度又通常不如发达地区合理，于是循环往复，地区差异会越来越大

C、任何人都可能只买了一张彩票却中了大奖

D、占有人才越多的地方，对人才越有吸引力：反过来，被认可的人才越稀缺

【答案】： C

【解析】： C属于一种理论上的可能性，并没有产生“马太效应”中的对比现象。所以C不属于“马太效应”。

8、(1)竖起井架(2)连接钻杆(3)喷出原油(4)决定钻孔位置(5)取出岩芯分析

A、1-2-4-3-5

B、4-1-2-5-3

C、2-1-4-5-3

D、4-2-1-3-5

【答案】： B

【解析】： 本题考查石油钻井全过程，首先确定位置，然后竖起井架，再连接钻杆，钻探取出岩芯分析，分析无误后，再进行钻探，最后喷出原油。所以答案为B。

9、下列哪一项属于行政裁决的范畴 ()

A、行政机关对特定民事纠纷的裁决

B、行政机关对特定行政纠纷的裁决

C、人民法院对特定民事纠纷的裁决

D、人民法院对特定行政纠纷的裁决

【答案】： A

【解析】： 行政裁决是指行政机关或法定授权的组织，依照法律

授权，对当事人之间发生的、与行政管理活动密切相关的、与合同无关的民事纠纷进行审查，并作出裁决的具体行政行为。行政裁决的特征有以下方面：(1)行政裁决的主体是法律授权的特定行政机关。(2)行政裁决的对象是特定的民事、经济纠纷。(3)行政裁决在形式上具有准司法性。(4)行政裁决在效果上具有强制性。综上所述，本题选择 A 选项

10、在当前的涨价风潮中，有的商品确系成本增加而导致的终端消费价格上涨，但是也有不少商品却属于无须涨价之列，只不过看到其他产品涨价，便想搭上涨价的顺风车，为自己_____私利。这种跟风涨价的势头，政府必须采取有力措施坚决_____。依次填入划横线部分最恰当的一项是（）

- A、牟取；遏制
- B、谋取；遏制
- C、牟取；遏止
- D、谋取；遏止

【答案】： C

【解析】： 谋取与牟取的主要区别在于：牟取一般为贬义词，尤指以不正当的或非法的手段获取钱财和私利；遏制遏止两词语强调重点不同，遏制强调约束，遏止强调使停止，明显遏止更合适。所以选择 C 选项。

11、20 世纪 60 年代，美国经济学家鲍尔丁提出了“宇宙飞船理论”，指出，地球就像一艘在太空中飞行的宇宙飞船，要靠不断消耗

和再生自身有限的资源而生存，如果不合理开发资源，肆意破坏环境，就会走向毁灭。这是循环经济思想的早期萌芽。随着环境问题在全球范围内的日益突出，人类赖以生存的治理范式逐渐为循环经济范式所替代。我们称这种替代为范式革命，之所以这样定义，是因为通过比较两种范式，我们发现确实发生了质的变革。“循环经济范式”概念的理念不恰当的一项是()。

A、美国经济学家鲍尔丁提出的“宇宙飞船理论”是循环经济思想的早期萌芽，它指出地球要靠不断消耗再生资源而生存

B、循环经济范式是在随着环境问题在全球范围内日益突出，人类面临自己赖以生存的各种资源从稀缺走向枯竭的形势下提出来的

C、末端治理范式和循环经济范式都是在人类赖以生存的各种资源从稀缺走向枯竭的情况下，以资源稀缺为前提所构建的

D、末端治理范式和循环经济范式虽然面对的问题相同，构建的基础相似，但作为理论，它们本质不同，所以后者取代前者被称之为“范式革命”

【答案】： A

【解析】： A 项错误，“靠不断消耗和再生自身有限的资源而生存”不是“靠不断消耗再生资源而生存”。

12、文化行业集密集型的人才、技术、知识与资本于一体，并具有鲜明的跨学科、跨专业、跨时空和跨文化特征，还将在未来的个人行为、社会生活和国家建设以及全球发展和人类食物中扮演着中心角色。1995 年的联合国教科文组织世界文化与发展委员会报告，提

出文化是人类生存整体繁荣和发展的最终目标和归宿。可以说，文化的跨界特质及其重要性，对文化人才的高质量和规模化提出了根本的要求。这段文字意在说明：

- A、文化行业在人类的社会生活中扮演着重要的角色
- B、文化人才要具备高质量和规模化
- C、文化是人类繁荣和发展的最终目标
- D、文化行业的特殊性和重要性

【答案】： B

【解析】： 本题属于意图判断题。文段是一个分-总的结构，首句背景介绍，介绍文化行业是什么样的行业，后面一句紧接着介绍教科文组织提出文化的重要性，最后可以得出文段的结论，即文化的重要性对人才提出了高质量和规模化的要求。因此，文段的意图是要说明文化人才应该具备什么样的素质，对应选项为 B。

13、（2007. 国考）小明和小强参加同一次考试，如果小明答对的题目占题目总数的 $\frac{3}{4}$ ，小强答对了 27 道题，他们两人都答对的题目占题目总数的 $\frac{2}{3}$ ，那么两人都没有答对的题目共有：（ ）

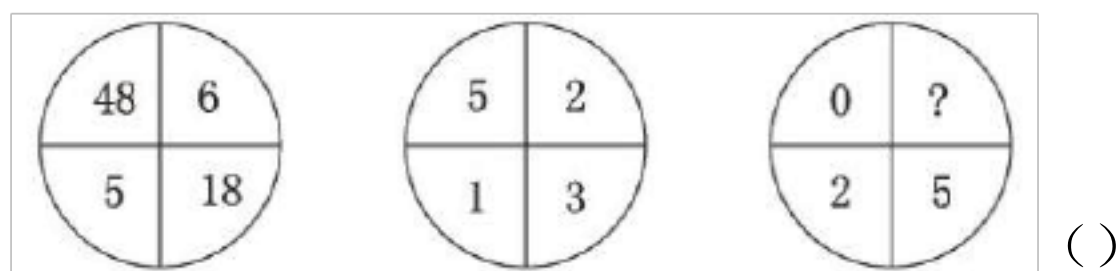
- A、3 道
- B、4 道
- C、5 道
- D、6 道

【答案】： D

【解析】： 解法一：代入排除法设一共有 x 道题，都没答对的有

y 道, 则有 $x-y = \frac{3}{4}x + 27 - \frac{2}{3}x$, 化简有 $x = (27+y) \times \frac{12}{11}$ 由于 x 和 y 都是整数, (27+y) 必是 11 的倍数, 将选项代入, 只有 D 项符合。解法二: 数的整除性质: 根据“小明答对的题目占题目总数的 $\frac{3}{4}$ ”可知, 题目总数能被 4 整除; 根据“两人都答对的题目占题目总数的 $\frac{2}{3}$ ”可知, 题目总数能被 3 整除。所以题目总数能被 $3 \times 4 = 12$ 整除。由于两人都答对的题目一定不超过 27 道, 故题目总数应在 $(27, 27 \div \frac{2}{3})$ 范围内。所以题目总数为 36 (能被 12 整除)。故两人都没有答对的题目有 $36 - (36 \times \frac{3}{4} + 27 - 36 \times \frac{2}{3}) = 6$ 道。因此, 选 D。

14 、 (2006 北京社招 , 第 7 题)



A、 2.5

B、 1

C、 -1.5

D、 -2.5

【答案】: D

【解析】: 第一个图中, 数字的差距比较大, 在考虑乘法运算, 优先考虑较小的两个数字所在位置即左下角和右上角两个数字的乘积。 $5 \times 6 = 48 - 18$, $1 \times 2 = 5 - 3 \rightarrow 2 \times 0 = 5 - ? \rightarrow -2.5$ 。

15、某人在一封信中这样写到：“前些年我在曼彻斯特看见过鸭嘴兽的蛋，因而无知地嘲笑过哺乳动物会下蛋的这种愚蠢之见，现在终于被证实了。”从信中可以看出写信人以前错误地认为：

- A、鸭嘴兽不会下蛋
- B、有的哺乳动物不会下蛋
- C、鸭嘴兽不是哺乳动物
- D、只有哺乳的动物才是哺乳动物

【答案】： C

【解析】： 略

16、白色农业是指以蛋白质工程、细胞工程、酶工程为基础，用基因工程等高科技手段开发微生物资源的工程农业。它是通过优化配置微生物资源，利用微生物惊人的繁殖生产能力，在工厂化条件下生产人类及动植物所需营养品及保健品的新型农业。根据上述定义，下列不属于白色农业的是（ ）

- A、使用各种农业废料制成的蛋白饲料、秸秆饲料、EP 多效生物添加剂
- B、某农业示范园建成稻菇连作、无公害蔬菜生产、优质稻生产等基地和生态养殖场
- C、农业生产中应用细菌、真菌、昆虫病毒等构成的杀虫剂、杀菌剂、除草剂
- D、发挥各种技术措施的科学组合，形成宜林则林，宜牧则牧，宜水则水的高效农业群

【答案】： D

【解析】： D项未体现基因工程等高科技手段，不符合定义特征；其他选项均采用了高精尖的生物技术。故选 D。

17、失眠或睡眠质量差会严重影响人的身心健康。调查发现，很多睡眠不好的人都有睡前饮用咖啡的习惯。因此，喝咖啡有助于提高睡眠质量，是治疗失眠症的辅助手段。以下哪项为真，对题干的结论是最有力的反驳（ ）

A、咖啡有很好的安眠作用

B、有证据表明，咖啡有提神的作用，这很可能是导致他们睡眠不好的原因

C、咖啡是人们喜爱的饮料

D、咖啡辅助治疗失眠症，将产生严重的副作用

【答案】： B

【解析】： 题干的结论为：喝咖啡有助于提高睡眠质量，是治疗失眠症的辅助手段。选项 A 为加强项；选项 B 为削弱项，直接反驳题干结论“喝咖啡有助于提高睡眠质量”；选项 C 为无关项；选项 D 未对题干的结论构成实质性反驳，或说削弱程度较弱。故选 B。

18、骨骼：肌肉

A、齿轮：发条

B、表针：表盘

C、果核：果皮

D、轮胎：汽车

【答案】： A

【解析】： “骨骼”和“肌肉”都是有机体中紧密相连的组成部分，“齿轮”和“发条”都是传动器紧密相连的组成部分，答案为 A。注意 B

项中表针和表盘以及 C 项中果核与果皮并非紧密相连，D 项是部分与整体的关系

19、一家德国报纸组织了一次测验，在慕尼黑的一间商店里装了一面长镜，然后观察经过长镜的男女，看他们有着怎样的反应。在 8 小时的观察中，共有 1620 个女人经过这面长镜，1/3 停下来短暂望她们自己；而差不多所有 600 个经过长镜的男人，都停下来好好望自己，大多数又往后望，看看是否被人注意。从以上叙述中可以得到的结论是

- A、女人更注重自己的形象
- B、男人更注重自己的形象
- C、女人更喜欢照镜子
- D、男人更注重其他人的看法

【答案】： D

【解析】： 本题出自 2021 年吉林(甲卷)《行测》真题，日常推理中的归纳推理题目，男人与女人都有在镜子前短暂望自己的行为，但是更为特殊的是，男人看完自己后又后望，这是强调的重点。因此本题答案为 D 选项。

20、根据以下资料，回答问题。

据国家卫计委统计，2016 年 1-11 月全国医疗卫生机构出院人数达 19912.9 万人，同比提高 7.7%。其中：医院 15392.5 万人，同比提高 8.5%；基层医疗卫生机构 3618.6 万人，同比提高 3.6%；其他机构 901.8 万人。医院中：公立医院 13080.0 万人，同比提高 6.2%；

民营医院 2312.5 万人，同比提高 23.5%。

地区	医院		乡镇卫生院	
	诊疗人次 (万人次)	出院人数 (万人)	诊疗人次 (万人次)	出院人数 (万人)
总计	289919.8	15392.5	92073.2	3280.0
北京	13901.4	265.9	-	-
天津	6707.2	137.5	605.6	6.8
河北	10970.1	738.9	3584.2	122.3
山西	4746.3	323.6	1249.6	36.5
内蒙古	4203.1	243.1	999.6	30.2
辽宁	8646.3	549.8	1475.4	47.2
吉林	4587.2	296.8	841.2	13.4
黑龙江	5759.7	426.9	647.4	52.9
上海	13502.0	310.3	-	-
江苏	22059.3	961.3	7242.1	147.1
浙江	22732.9	702.9	8127.2	26.6
安徽	8392.5	588.8	3893.5	132.7
福建	8370.8	367.5	2449.0	79.5
江西	5635.9	432.8	2824.1	177.1
山东	18152.0	1153.3	6326.2	226.6
河南	16382.5	1055.9	9853.3	242.1
湖北	9872.3	673.8	4741.1	213.0
湖南	8533.5	807.8	3536.2	333.3
广东	33587.8	1094.4	5882.7	174.6
广西	8488.6	480.9	4445.5	226.3
海南	1479.7	76.8	969.4	6.4
重庆	5750.9	382.2	1755.6	141.2
四川	15406.2	1005.4	7818.2	384.5
贵州	5189.5	455.1	2414.5	106.4
云南	8636.5	569.6	4557.8	124.9
西藏	27.5	1.5	24.5	0.0
陕西	7072.7	505.9	1855.5	67.4
甘肃	4039.3	275.9	1428.6	56.3
青海	991.7	67.6	183.9	8.7
宁夏	1685.9	88.3	510.5	3.4
新疆	4408.5	352.0	1831.1	92.5

注：西藏 2016 年月报未报机构较多

问题：2016 年 1-11 月医院和乡镇卫生院的诊疗人次数合计最多的省份是（ ）。

- A、江苏
- B、浙江
- C、河南
- D、广东

【答案】： D

【解析】： 本题出自 2022 年陕西《行测》真题，本题考查简单计算。根据表格可知，各个选项诊疗人次数合计分别为：江苏

22059.3+7242.1 \approx 30000，浙江 22732.9+8127.2 \approx 31000，河南 16382.5+9853.3 \approx 26000，广东 33587.8+5882.7 \approx 39000，所以广东诊疗人次数合计最多。故本题答案为 D 选项。

21、一个学校招收了 120 名学生而使在校学生总数增加了 15%。新学年在校生人数是多少？（）

- A、680 人
- B、760 人
- C、800 人
- D、920 人

【答案】：D

【解析】：设新学年在校生人数为 X $=0.15x=920$ 故本题正确答案为 920 人。

22、1949 年以来，我国人力资本存量形成受到两次大的破坏和冲断。第一次是反右，大跃进经济崩溃期间，在校生数由 1960 年的 10963 万人，下降到 1962 年的 7480 万人，其中中专生由 222 万人下降到 54 万人；第二次是文革动乱期间，估计有 70--80 万人未能受到大学教育，超过 1 亿中小学生受到质量很低的教育，几百万知识分子无法工作和科研。全国 12 岁以上人口平均文化程度由 1964 年的 2.34 年仅上升到 1982 年的 4.61 年，不足小学毕业程度。请根据上述资料回答第（1）----（5）题：

问题：1960 年到 1962 年间，我国在校中专生下降了多少人

- A、222 万人

B、54 万人

C、168 万人

D、276 万人

【答案】： C

【解析】：本题出自 2021 年广东《行测》真题，由“中专生由 222 万人下降到 54 万人”可知，1960 年到 1962 年间，我国在校中专生下降了 $222-54=168$ 万人。因此，本题答案为 C 选项。

23、根据下列文字。回答下题“十五”以来。广东省的产业集群发展迅速，特色产业基地已成为广东省经济持续高速增长的新亮点。据统计，2006 年广东省特色产业基地工业总产值达 4930 亿元，约占全省工业总产值的 10%；基地的高新技术产品产值 1650 亿元，占全省高新技术产品产值的 11%。全省特色产业基地的经济增长幅度，明显高于当地经济增长的平均幅度。2006 年，广东省特色产业基地的工业总产值，比 2005 年增长 20.3%。与此同时，各特色产业基地占当地经济总量的比重逐步加大，有些基地已占到当地工业总产值的 30% 以上。如湛江海洋特色产业基地的工业总产值. 2006 年已占湛江市工业总产值的 33%；阳江五金刀具特色产业基地 2006 年工业总产值占了全市工业总产值的 31%；云浮禽畜生物制品特色产业基地 2006 年工业总产值占当地工业总产值的 38.5%；国家级肇庆金属新材料产业基地，有高新技术企业 19 家，占全市高新企业总数的 17.7%，基地工业产业总值占全市工业总产值近 20%。

问题：概据上述材料，2006 年特色产业基地占当地工业总产值

比重最高的是：（）

- A、湛江海洋特色产业基地
- B、阳江五金刀具特色基地
- C、云浮禽畜生物制品特色产业基地
- D、肇庆金属新材料产业基地

【答案】：C

【解析】：A 为 33%，B 为 31%，C 为 38.5%，D 为 20%。

24、实际上，靠强制手段和利益驱使评上的“文明城市”，只不过是_____罢了。只有每一位市民发自内心地_____“文明城市”理念，从身边点滴小事做起，做文明有礼的城市人，“文明城市”自然_____。

依次填入划横线部分最恰当的一项是（）。

- A、自欺欺人认同水到渠成
- B、沽名钓誉拥护不期而至
- C、装腔作势赞同实至名归
- D、掩耳盗铃维护名副其实

【答案】：A

【解析】：本题出自 2022 年国家（地市级）《行测》真题，第一空，通过“靠强制手段和利益驱使评上”可知，空中所填成语应表示“文明城市”名不副实之意。

A、B、D 三项均符合语境要求。“装腔作势”用来比喻故意做作，置于此处不合文意，故排除 C 项。

第二空，考查搭配关系，与“理念”相搭配。“认同……理念”搭配恰当。“拥护”、“维护”与“理念”搭配不当，故排除

B、D 两项。

第三空，验证。“水到渠成”比喻有条件之后，事情自然会成功。置于此处，用来表示“市民内心认同‘文明城市’理念，‘文明城市’自然会有”之意，符合文意。

故本题答案为 A 选项。

【参考题源：《变味的“文明城市”》】

25、某甲是间歇性精神病人。某日，某甲喝醉了酒，把某酒店老板打成重伤，在群众抓捕他时，某甲因惊恐而精神病发作。则某甲（ ）。

- A、应当负刑事责任，但可以减轻处罚
- B、应当负刑事责任，但可以从轻处罚
- C、不负刑事责任。因其是精神病人
- D、应当负刑事责任

【答案】：D

【解析】：《刑法》第 18 条第 2 款规定：“间歇性的精神病人在精神正常的时候犯罪，应当负刑事责任。”因此选 D。

26、行政主体资格的法律要件，是指对即将成为行政主体的组织在法律上所设定的条件。它也可以视为行政法律规范对行政主体的具体规定。一般说来，行政主体资格的法律要件有三项：享有行政职权、能以己之名义开展行政活动和（ ）

- A、独立承担政治责任
- B、独立承担行政责任
- C、独立承担法律责任
- D、独立承担社会责任

【答案】： C

【解析】：行政主体是指事有行政权，能以自己的名义行使国家行政职权并能独立承担因此产生的相应法律责任的组织，故 C 项正确。

27、室内装修设计以简约、环保和节能为基调，不但可以防止室内环境污染，而且可以减少资源和材料的浪费。装饰装修材料的选择，不但要符合国家室内装饰装修材料有害物质限量标准，还要尽量使用节能材料、保温隔热效果好的材料利新型节能洁具与电器。工程结束时要求进行装饰工程质量检测和室内环境检测，检测合格再交工。这段文字阐述的是：

- A、室内装饰装修工程的质量和环保问题
- B、室内装饰工程质量检测和室内环境检测制度不健全
- C、室内装修环境污染严重，材料浪费惊人
- D、室内装饰装修要有一定的检测标准

【答案】： A

【解析】：文段共三句，一、二句讲述室内装修要“简约、环保和节能”，第三句讲室内装修要进行质量和环境验收，总体上讲了质量和环保两个方面，因此 A 项是正确答案

28、全球变暖是老天爷对人类开出的罚单。便宜且容易利用的

矿石燃料，是推动近现代经济增长的重要源泉之一，但科学证明这可能带来灾难性的气候变化。目前不得不面对的现实是，人类必须为自己的排放埋单。如果世界上只有一个国家，此事就相对简单，不管成本多大，最终都由这个国家承担。但问题是，世界上许多国家，国情历史大不相同，这张巨额罚单究竟在各国间如何分配，就成了关于全球变暖问题谈判最核心的问题。所有的国家，他们所做出的所有减排承诺，最后都会有一张价格标签，承诺越多，价码越高。

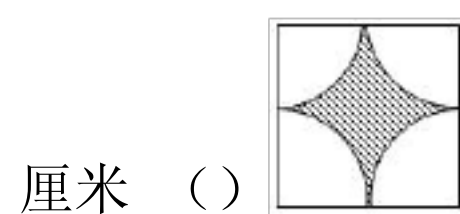
这段文字意在说明：

- A、减排成本份额应按各国的排放量合理分配
- B、沉重的减排成本有可能会拖累全球经济增长
- C、遏制全球变暖需要支付巨额经济成本
- D、利益是应对全球变暖问题的最大症结

【答案】： D

【解析】： 本题出自 2021 年陕西《行测》真题，本题属于意图判断题。文段前半部分论述了资源的利用造成全球变暖。但就责任如何分配在全球范围内并没有统一的意见。因此，罚单在各国之间如何分配成为所有国家关注的重点。因此文段谈论的重点应当是责任如何分配，这事关每个国家的利益。因此选择 D。

29、如图中大正方形边长为 20cm，问阴影部分面积是多少平方



A、86

B、100

C、 $40\pi-20$

D、60

【答案】：A

【解析】：由题意可知：阴影部分的面积=正方形的面积-以正方形的边长的一半为半径的圆的面积，正方形的边长已知，从而可以利用正方形的面积和圆的面积公式即可求解。 $20 \times 20 - 3.14 \times (\frac{20}{2})^2 = 400 - 3.14 \times 100 = 400 - 314 = 86$ （平方厘米）；答：阴影部分的面积是86平方厘米。故答案为：86。

30、哥哥5年后的年龄和弟弟3年前的年龄和是29岁，弟弟现在的年龄是两人年龄差的4倍。哥哥今年几岁？

A、10

B、12

C、15

D、18

【答案】：C

【解析】：由第一个条件可知，哥哥与弟弟现在的年龄和为 $29 - 5 + 3 = 27$ 岁。因为弟弟现在的年龄是两人年龄差的4倍，所以哥哥与弟弟的年龄比为5:4，利用和倍关系求解。哥哥的年龄为 $27 \div (5 + 4) \times 5 = 15$ 岁。另解，由第二个条件可知哥哥的年龄应是5的倍数，在A、C中选择，代入可知A不符合题意，所以选C。

31、研究表明，适当休息可以提高工作效率。当完成一项复杂

艰巨的任务时，人们可以适当休息一下，做点简单的其他事情，之后继续工作，这可以让工作业绩提高 40%，一家公司老总将这一理论应用于公司，增加了员工休息时间，但生产业绩却没有上升，反而明显下降。以下哪项哪果为真，最能解释上述矛盾现象

- A、公司的有些部门并没有严格执行老总的休息计划
- B、一些员工在休息的时候想工作，工作的时候想休息
- C、近段时间公司的销售业绩不佳，没有出现明显的增长
- D、公司生产都是流水线作业，员工做的都是单一机械动作

【答案】： D

【解析】： 题干中的矛盾为增加了休息的时间，生产业绩却没有提升，反而下降。D 项：因为公司生产是流水线作业，那么休息时间增加了意味着流水线的工作一定会滞后，效率不可能提高，且员工做的都是单一机械动作，休息并能提升自己的工作效率，所以有效地解释了为什么生产业绩没有上升反而下降了。

32、关于小王、小李和小张，我们知道他们三人中一位是律师，一位是医生，一位是教师，并且我们还知道：小张比教师的年龄大；小王和医生不同岁；医生比小李年龄小。由此可知：（ ）

- A、小王是律师，小李是医生，小张是教师
- B、小王是医生，小李是教师，小张是律师
- C、小王是教师，小李是律师，小张是医生
- D、小王是教师，小李是医生，小张是律师

【答案】： C

【解析】: 本题可以用假设法。根据题干“小张比教师的年龄大；小壬和医生不同岁；医生比小李年龄小”可知小张不是教师，小王和小李都不是医生，那么小张一定是医生，根据“小张比教师的年龄大”和“医生比小李年龄小”可推出小壬一定是教师，那么答案就是 C。

33、奢侈品诞生的意义在于唯一性，真正的奢侈品是不能大量机器大规模生产的。换句话说，当众多奢侈品牌放低身段、追求规模化生产以获得丰厚利润时，就已然丢弃了自身的“奢侈”属性。从这个意义上说，不管营销战略如何调整，只要实现奢侈品“平常化”的商业思维不变，今天的奢侈品就很可能失去彰显身份的定位。

这段文字强调（ ）。

- A、奢侈品营销，品牌定位不能错位
- B、奢侈品进入寻常百姓家
- C、奢侈品的发展趋势是大规模生产
- D、奢侈品不再奢侈

【答案】: A

【解析】: 本题出自 2022 年吉林《行测》真题，（甲级）（网络汇总版）文段首先阐述的是奢侈品的唯一性在于其不能大量机器大规模生产，否则会丢弃“奢侈”属性。文段接下来以“从这个意义上说”进行总结，通过反面论证奢侈品“平常化”很可能导致其失去彰显身份的定位，强调奢侈品不能“平常化”，不能“失去彰显身份的定位”。对应选项，A 项为文段中心的同义替换，故当选。

B 项，“进入寻常百姓家”即“平常化”，与文段重点不相符，故

排除 B 项。

C 项，“发展趋势”无中生有，且与文段重点不相符，故排除 C 项。

D 项，“不再奢侈”表义过重，文段表述的是“很可能”，故排除 D 项。

故本题答案为 A 选项。

34、下列选项中，不属于陕西地方戏曲剧种的是_____。（）

A、老腔

B、眉户

C、碗碗腔

D、蒲州梆子

【答案】： D

【解析】：蒲剧，因兴起于山西南部的蒲州（今永济一带）而得名，亦称蒲州梆子或南路梆子。是晋南地区的主要剧种，可排除，故本题答案为 D。

35、下岗工人将获得 7 万美元补偿，这相当于普通蓝领工作两年的税后年薪。仅靠这笔钱，在美元疲软、物价上涨的时代并不能_____，不过尚能维持一个家庭几年的正常生活。填入画横线部分最恰当的一项是（）。

A、高枕无忧

B、一劳永逸

C、丰衣足食

D、为所欲为

【答案】：A

【解析】：“高枕无忧”形容满足现状，无忧无虑；“一劳永逸”指辛苦一次，把事情办好，以后就不再费事；“丰衣足食”形容生活富裕；“为所欲为”是任意而为。根据句意，下岗工人的补偿，只能维持几年的正常生活，因此不能够高枕无忧，故选A。

36、品牌一词，“品”在前，“牌”在后，这说明要先有“品”，才有“牌”，也就是说，要是没有好的产品做支撑，单靠打广告，搞赞助，即使能做出个名牌，也只是_____。这方面的教训_____。所谓的“品”，不仅指“产品”、“品质”，还包括企业的“品行”，也就是说企业还要积极地履行社会责任。依次填入划横线部分最恰当的一项是：（）

- A、掩耳盗铃比比皆是
- B、昙花一现不胜枚举
- C、名实不符振聋发聩
- D、浮光掠影屡见不鲜

【答案】：B

【解析】：通过第一个空排除

A、D。掩耳盗铃：掩：遮蔽，遮盖；盗：偷。比喻自己欺骗自己，明明掩盖不住的事情偏要想法子掩盖。浮光掠影：水面的光和掠过的影子，一晃就消逝。比喻观察不细致，学习不深入，印象不深刻。通过第二空排除C振聋发聩：聩，天生耳聋，引伸为不明事理。声音

很大，使耳聋的人也听得见。比喻用语言文字唤醒糊涂麻木的人，使他们清醒过来。

37、真正美的东西，都是充满了感情的。面对美的东西，我们常常一往情深，或者一见钟情。而感情这个东西很奇怪，一方面，它是个人的，富有极端强烈的个性色彩，只有达到高度个性化的时候，它才是最真挚的。正因为这样，感情这个东西常常是隐秘的，人与人之间难于传达，所谓父不能喻之于子，夫不能喻之于妻；然而，另一方面，感情这个东西却又最具有社会性，最需要普遍的传达，最需要人与人之间的交流。这段文字意在说明（）。

- A、人们容易对美的东西产生真情
- B、感情既是个人的，又是社会的
- C、充分体现个人意志的情感才是真挚的
- D、人们之间的感情是隐秘的，不易传达

【答案】： B

【解析】： 本题属于寓意启示题型，主要考察推断类中的劝导说服类，本题对应的解法是识别陷阱类型中的概括不当。

A、D项都以偏概全，整个文段要表达的是感情既具有强烈的个性色彩，同时又具有社会性。D项是混淆是非，文中提到“感情这个东西却又最具有社会性，最需要普遍的传达，”而选项中确实“不易传达”这是错的。所以，本题选择B答案。

38、某小区物业征集业主意见，计划从100户业主中抽取20户进行调查。100户业主中有b户户主年龄超过60岁，a户户主年龄不

满 35 岁，户主年龄在 36 岁到 59 岁的有 25 户。为了使意见更具代表性，物业采取分层抽样的方法，从 b 户中抽取了 4 户，则 a 的值可能是：

- A、 55
- B、 66
- C、 44
- D、 50

【答案】： A

【解析】： 本题出自 2021 年 16 省市联考(山西/辽宁/黑龙江/福建/... 100 户中抽取 20 户，可知比例为 5:1，根据题意 $4:b=20:100$ ， $a+b=75$ ，解得 $a=55$ 。因此，答案选择 A 选项。

39、

粘 贴 点 运 动 ？

A、

队

B、

员

C、

式

D、

会

【答案】： D

【解析】： 第一套图都含有元素“占”，第二套图都含有元素“云”，故选 D

40、时间：秒

- A、质量：千克
- B、面积：公里
- C、容积：千万
- D、伏特：电压

【答案】：A

【解析】：本题出自 2021 年江苏(C 卷)《行测》真题，此题考查的是属性关系——名词：名词的计量单位”。题干中秒是时间的计量单位，而 A 选项中千克是质量的计量单位。因此，本题答案为 A 选项。

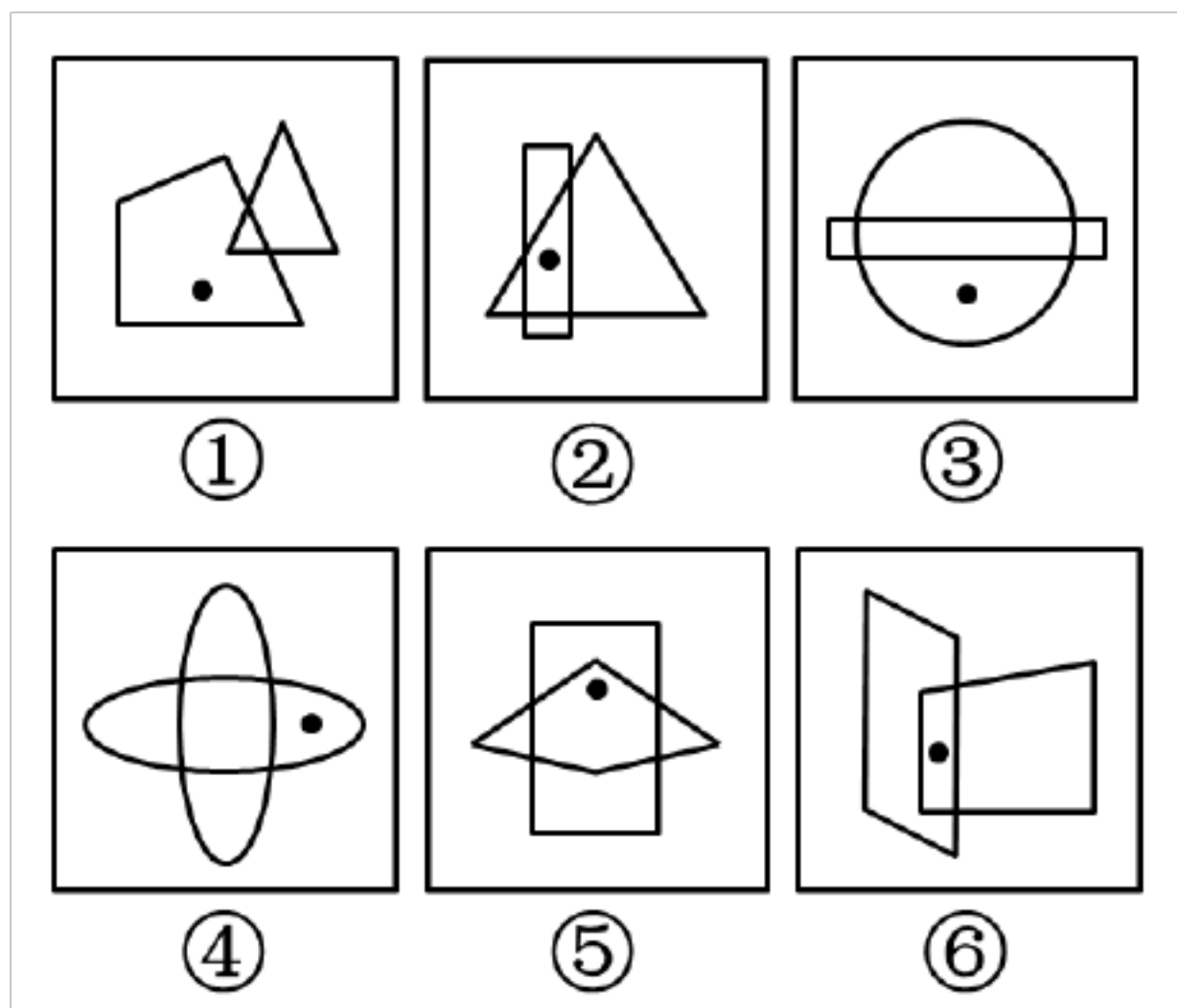
41、也有人认为，一旦引入语法，语文课就变成外语课了。的确，有些“美文”不用分析结构、语法，背诵下来就行，学生可以从吟咏中体会无言的美，文学教育的真谛就在于此。不过需要注意，和“外语教学”相对应的词，除了“文学教学”，只要换一个序列，也可以是“母语教学”。这就是语文课不可或缺的识字缀文、运用语言等技能性训练。毕竟文学教育的任务是使学生从文学作品中了解生活、感受命运、体验痛苦与幸福，并引起对文学的兴趣，这主要是语文“人文性”所决定的任务。而语文教育的任务主要是由语文的“工具性”决定的。本段文字想要表达的观点是()。

- A、语文课应该引入语法教学
- B、文学教学和母语教学同样重要
- C、语文课程是丁具性与人文性的统一
- D、文学教育需要注意加入相应的技能型训练

【答案】： A

【解析】： 主旨推断题。文段第一句提出有些人不支持语文课引入语法的观点，第二句对这种观点的合理性予以认可，接下来作者进行分析、说明该种观点的片面性，并指出语文教学应是工具性与人文性兼具。语法教学不可或缺，从而澄清了自己的观点：语文课应该引入语法教学。故本题正确答案选 A。B 项混淆概念，文段中涉及的与“文学”相斥的并不是“母语”，而是“语法”；C 项是论据，不是主要观点；D 项表述错误。

42、把下面的六个图形分为两类，使每一类图形都有各自的共同特征或规律，分类正确的一项是：



- A、①⑤⑥，②③④
- B、①③④，②⑤⑥
- C、①②④，③⑤⑥
- D、①②⑤，③④⑥

【答案】： B

【解析】： 本题出自 2021 年国家《行测》真题，题干图形都是由两个相交图形和一个点组成。根据点是在一个图形内部，还是在两个图形内部，可以将图形分为两大类。因此，本题选择 B 选项。

43、一个浴缸要放满水需要 30 分钟，排光一浴缸水需要 50 分钟，假如忘记关上出水口，将这个浴缸放满水需要多少分钟（ ）

A、65

B、75

C、85

D、95

【答案】： B

【解析】： 设总量为 150，则注水速度为 $150 \div 30 = 5$ ，排水速度为 $150 \div 50 = 3$ ，故忘关出水口需要 $150 \div (5 - 3) = 75$ 分钟。因此，本题答案为 B 选项。

44、“在‘孝’的天平上，它们等值”这句话是什么意思（ ）

A、一个没有孝心的人是没有前途的，一个没有传统文化的民族是没有前途的

B、人人都是父母所生，父母所养，父母年迈，子女尽孝养之责，天经地义

C、不论以什么方式、用什么内容行孝，只要真心真意，都将是珍贵和美好的

D、善有善报，恶有恶报，关爱今天的老人，就等于关爱明天的

自己

【答案】： C

【解析】： 本题出自 2021 年河北《行测》真题，在这句话的前面作者主要提出了尽孝的多种方式，而且每项建议都是从富有和贫穷两个方面对比阐述，最后总结说“在‘孝’的天平上，它们都是等值的”，意思是说，不管是什么样的行孝方式都一样珍贵。故本题正确答案为 C

45、《行政许可法》规定，对于有数量限制的行政许可，两个以上申请人申请均符合法定要求的，行政机关应当（）。

- A、根据发出申请的先后顺序做出许可决定
- B、根据受理申请的先后顺序做出许可决定
- C、均不给予行政许可
- D、抽签决定许可决定

【答案】： B

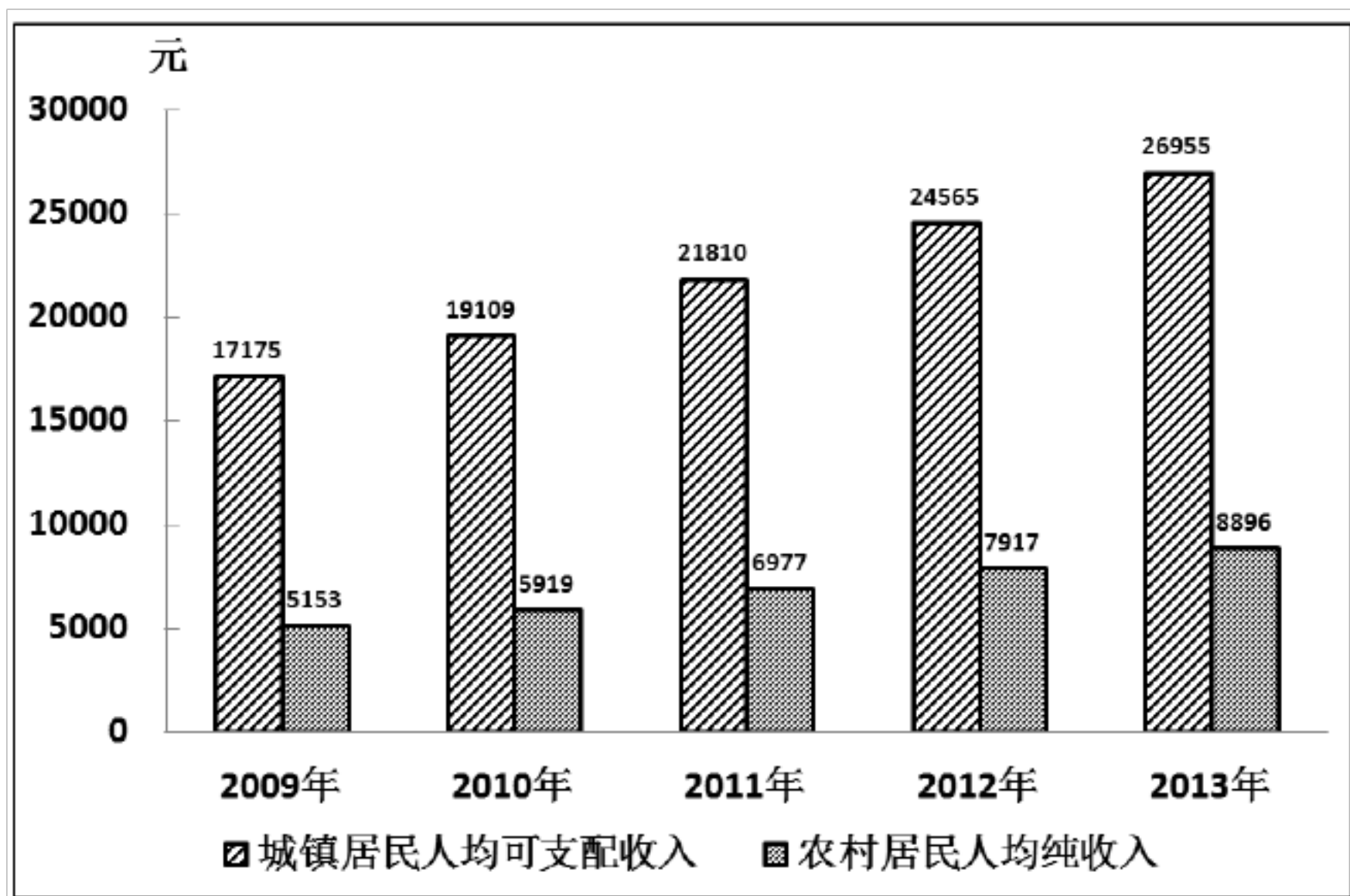
【解析】： 根据《行政许可法》第 57 条规定，有数量限制的行政许可，两个或者两个以上申请人的申请均符合法定条件、标准的。行政机关应当根据受理行政许可申请的先后顺序做出准予行政许可的决定。故本题答案为 B。

46、2013 年，我国农村居民人均纯收入达到 8896 元，扣除价格因素实际增长 9.3%，高出 GDP 实际增速 1.6 个百分点。农村居民人均纯收入实际增速高于城镇居民人均可支配收入实际增速 2.3 个百分点。其中工资性收入 4025 元，占人均纯收入的 45.2%，比上年

名义增长 16.8%，家庭经营纯收入 3793 元，占 42.6%，名义增长 7.4%，转移性收入 784 元，占 8.9%，名义增长 14.2%；财产性收入 294 元，占 3.3%，名义增长 17.7%。

2013 年，农村居民人均消费支出 6626 元，同比增长 9%，增幅比城镇居民人均现金消费支出增速快 3.6 个百分点。全年农民工总量 26849 万人，比上年增加 633 万人，其中，本地农民工 10284 万人，增长 3.6%；外出农民工 16610 万人，增长 1.7%。外出农民工月均收入水平 2609 元，增长 13.9%。

2013 年，城镇居民人均可支配收入 26955 元，比上年名义增长 9.7%。在城镇居民人均总收入中，工资性收入名义增长 9.2%，经营净收入名义增长 9.8%，财产性收入名义增长 14.6%，转移性收入名义增长 10.1%。



2009—2013 年我国居民收入情况

问题：2012 年，我国农村居民家庭经营纯收入约为：

- A、3446 元
- B、3532 元
- C、3793 元
- D、4025 元

【答案】： B

【解析】： 本题出自 2021 年河北《行测》真题，材料中给出了“2013 年农村家庭经营纯收入 3793 元，名义增长 7.4%”。故可根据公式：基期量=现期量/(1+增长率)，可计算得 2012 年，我国农村居民家庭经营纯收入约为 $3793/(1+7.4\%) \approx 3794/1.07 \approx 3500+$ ，故选 B。



47、

问题：与 2000 年相比，2005 年农村装机容量提高了多少 ()

- A、401 万千瓦
- B、36.5%
- C、57.4%
- D、1.4 倍

【答案】： C

【解析】： $(1099.5 - 698.5) \div 698.5 \times 100\% \approx 57.4\%$ 。

48、根据以下资料，回答下列题 2015 年 1-3 月，国有企业营业

总收入 103155.5 亿元，同比下降 6%。其中，中央企业收入 63191.3 亿元，同比下降 7%。地方国有企业收入 39964.2 亿元，同比下降 4.2%。1-3 月，国有企业营业总成本 100345.5 亿元，同比下降 5.1%，其中销售费用、管理费用和财务费用同比分别下降 2.9%、增长 2.3%和增长 7.3%。其中，中央企业成本 60216.5 亿元，同比下降 6.4%；地方国有企业成本 40129 亿元，同比下降 3.1%。1-3 月，国有企业利润总额 4997.3 亿元，同比下降 8%。国有企业应交税金 9383 亿元，同比增长 0.13%。3 月末，国有企业资产总额 1054875.4 亿元，同比增长 12%；负债总额 685766.3 亿元，同比增长 11.9%；所有者权益合计 369109.1 亿元，同比增长 12.2%。其中，中央企业资产总额 554658.3 亿元，同比增长 10.5%；负债总额 363304 亿元，同比增长 10.4%；所有者权益为 191354.4 亿元，同比增长 10.7%。地方国有企业资产总额 500217.1 亿元，同比增长 13.8%；负债总额 322462.3 亿元，同比增长 13.7%；所有者权益为 177754.7 亿元，同比增长 13.9%。

问题：2015 年 1-3 月，在销售费用、管理费用和财务费用中，占国有企业营业总成本的比重同比上升的有几项 [2017 增]

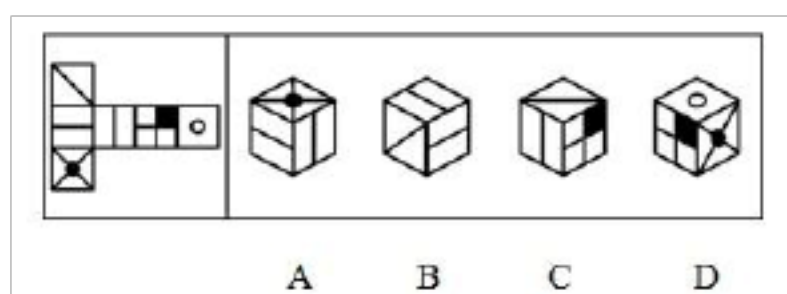
- A、0
- B、1
- C、2
- D、3

【答案】： D

【解析】： 根据题干中“2015 年，比上年同期，占比重”，可以

判定本题为两期比重问题。此题只需比较部分量的增长率 a 和整体量的增长率 b ， a 大于 b 为上升。定位文字材料第二段，销售费用的增长率 a_2 （下降 2.9%）、管理费用的增长率 a_3 （增长 2.3%）及财务费用的增长率 a_1 （增长 7.3%）均大于国有企业营业总成本的增长率 b （下降 5.1%），即比重上升；因此，比重上升的有 3 项。故正确答案为 D。

[2016 年 423 联考《行测》真题]



49、

A、A

B、B

C、C

D、D

【答案】：C

【解析】：A 项，顶面应为一条对角线所在的面；B 项，左侧面应为两条对角线所在的面；D 项，明显小黑正方形所在的面与两条对角线所在的面形成的公共边不与小正方形相连。因此，本题答案为 C 选项。

50、当前被临床证明有效的减肥药物，种类并不多，且多多少少都存在一定的副作用。大多数_____自己有良好的减肥效果的保健食品，往往掺杂了一定的药物成分，其对健康的_____更大。填入划线部分最恰当的一项是（）。

A、宣传作用

- B、说明伤害
- C、鼓吹危害
- D、表示害处

【答案】： C

【解析】： 根据文段的意思，可知减肥效果好的药物必然有一定的副作用，对于自己的减肥效果是否良好的空格，从含义上看可排除 B、D 项，而作者是对其持反对态度的，第一个空当选鼓吹。由前文的“副作用”可知，对健康显然是有“危害”的，所以答案为 C 项。

51、依据行政诉讼的有关规定，下列哪一证据材料在原告不能自行收集，但能够提供确切线索时，可以申请人民法院调取？()

- A、涉及公共利益的证据材料
- B、涉及个人隐私的证据材料
- C、涉及中止诉讼事项的证据材料
- D、涉及回避事项的证据材料在行政诉讼过程中

【答案】： B

【解析】： 涉及国家利益和公共利益的证据，法院可以依职权自行调取；而涉及国家秘密、商业秘密、个人隐私的证据，当事人不能自行收集的可以申请法院调取，故选 B。

52、新教派的理论认为，儿童是未成形的人。唯有通过识字、教育、理性、自我控制、羞耻感的培养，才能将儿童改造成一个文明的成人。浪漫主义派的理论则认为，未成形不是儿童的问题，问题完全出在畸形的成人身上。儿童拥有与生俱来的坦率、理解、好奇、自

以上内容仅为本文档的试下载部分，为可阅读页数的一半内容。如要下载或阅读全文，请访问：<https://d.book118.com/917054063150006120>