

江苏南通市田家炳中学物理八年级下册期末考试专项测评

考试时间：90 分钟；命题人：教研组

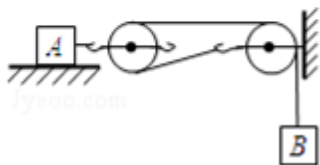
考生注意：

- 1、本卷分第 I 卷（选择题）和第 II 卷（非选择题）两部分，满分 100 分，考试时间 90 分钟
- 2、答卷前，考生务必用 0.5 毫米黑色签字笔将自己的姓名、班级填写在试卷规定位置上
- 3、答案必须写在试卷各个题目指定区域内相应的位置，如需改动，先划掉原来的答案，然后再写上新的答案；不准使用涂改液、胶带纸、修正带，不按以上要求作答的答案无效。

第 I 卷（选择题 20 分）

一、单选题（10 小题，每小题 2 分，共计 20 分）

- 1、如图所示，物体 A 重 120N，在重力为 G_B 的物体 B 的作用下在水平桌面上做匀速直线运动，A 与桌面之间的摩擦力为 f 。如果在 A 上加一个水平向左大小为 180N 的拉力 F （注：图中未画出），当物体 B 匀速上升时（不计摩擦、绳重及滑轮重），则下列选项正确的是（ ）

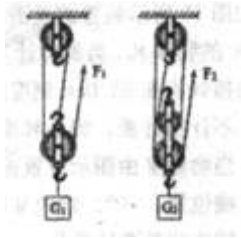


- A. $G_B = 30\text{N}$ B. $G_B = 90\text{N}$ C. $f = 90\text{N}$ D. $f = 180\text{N}$

- 2、同一物体在月球表面受到的重力是在地球表面所受重力的六分之一，也就是说月球表面上物体重力与质量的比值约为 $g_{月} = 1.6\text{N/kg}$ 。设想我们乘宇宙飞船从地球登上月球，以下说法正确的是（ ）
 - A. 地球上质量是 60kg 人，在月球上质量变为 10kg
 - B. 地球表面重力为 600N 的人，在月球表面重力约为 100N
 - C. 在地球表面最多能举起重 600N 物体的人，在月球表面最多能举起重 100N 的物体

D. 在地球表面最多能举起 60kg 物体的人，在月球表面最多能举起 60kg 的物体

3、如图所示，滑轮组的每个滑轮质量相同，用它们将重为 G_1 、 G_2 的货物提高相同的高度(不计绳重和摩擦)，下列说法正确的是()



- A. 用同一个滑轮组提起不同的重物，机械效率不变
- B. 若 $G_1=G_2$ ，则甲的机械效率大于乙的机械效率
- C. 若 $G_1=G_2$ ，则拉力 F_1 与 F_2 所做的总功相等
- D. 若 $G_1=G_2$ ，则甲、乙滑轮组所做的额外功相等

4、如图 1 所示，从 P 点发出的三条特殊光线经过凸透镜后会聚于 P' 点。现有一条光线也从 P 点发出，经过凸透镜后的传播路径，在图 2 的四种表示中，正确的是()

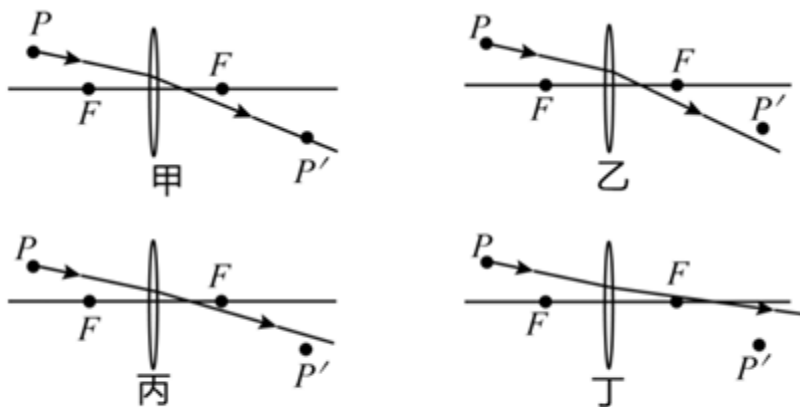
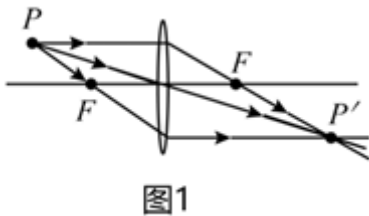
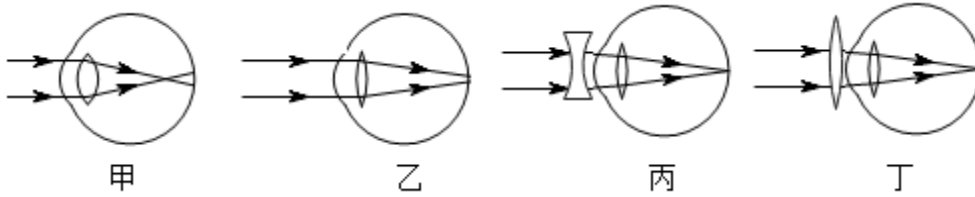


图2

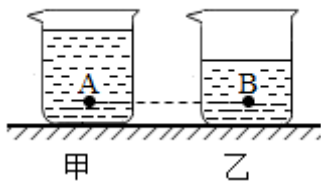
- A. 甲 B. 乙 C. 丙 D. 丁

5、2018年8月，教育部、国家卫生健康委等八部门联合印发《综合防控儿童青少年近视实施方案》，要求各地中小学强化学生体质，增强体育锻炼，并且规范电子产品使用，建立视力健康档案，综合施策全面防控青少年近视。下列四幅示意图中，表示近视眼成像和近视眼矫正后成像情况正确的分别是（ ）



- A. 乙和丙 B. 乙和丁 C. 甲和丙 D. 甲和丁

6、如图所示，完全相同的甲，乙两个烧杯内装有密度不同的液体。在两烧杯中，距离杯底同一高度处有A、B两点，已知A、B两点的压强相等，则甲、乙烧杯对桌面的压强 $P_{甲}$ 、 $P_{乙}$ 的大小关系是（ ）



- A. $P_{甲} < P_{乙}$ B. $P_{甲} > P_{乙}$
 C. $P_{甲} = P_{乙}$ D. 条件不足，无法判断

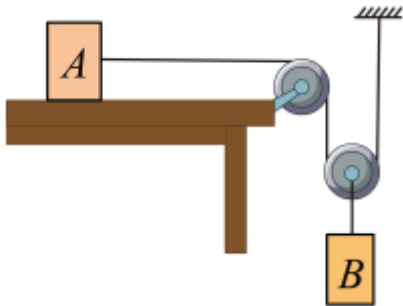
7、如图吊灯静止挂在天花板下，下列哪一对力是平衡力（ ）



- A. 线对灯的拉力和灯对线的拉力 B. 线对灯的拉力和灯受到的重力
 C. 灯对线的拉力和灯受到的重力 D. 线对天花板拉力和灯对线拉力

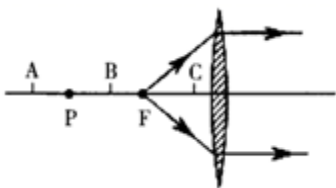
8、如图所示，物体A、B的重分别为30N、20N，每个滑轮重10N

，绳重及摩擦均忽略不计。此时物体 A 沿水平桌面向右做匀速直线运动。下列说法正确的是（ ）



- A. 两个滑轮均为定滑轮
- B. A 受到水平向右的摩擦力
- C. A 受的摩擦力大小为15N
- D. A 移动的速度是 B 的0.5 倍

9、如图所示，F 点发出的两条光线经凸透镜后的折射光线平行于主光轴，P 为 2 倍焦距处，则下列说法正确的是（ ）



- A. 物体放在 A 点时，所成的像跟照相机的成像性质相同
- B. 物体放在 B 点时，无法用眼睛直接观察到像
- C. 物体放在 C 点时，所成的像跟投影仪的成像性质相同
- D. 物体放在 C 点时，经凸透镜成正立、放大的实像

10、关于惯性，以下说法正确的是（ ）

- A. 汽车驾驶员和乘客需要系上安全带，是为了减小汽车行驶中人的惯性
- B. 百米赛跑运动员到达终点不能马上停下来，是由于运动员具有惯性
- C. 行驶中的公交车紧急刹车时，乘客会向前倾，是由于受惯性力的作用
- D. 高速公路严禁超速，是因为速度越大惯性越大

第 II 卷（非选择题 80 分）

二、填空题（10 小题，每小题 3 分，共计 30 分）

1、用焦距为 10cm 的凸透镜探究成像规律，如图所示，烛焰在光屏上成清晰的像，则光屏到凸透镜的距离可能是_____cm（选填“8”、“18”或“28”）；把近视镜片放在蜡烛和凸透镜之间，应将光屏向_____（选填“左”或“右”）调节，才能在光屏上重新成清晰的像。



2、小明探究用滑轮匀速提升物体时，加在绳子自由端的拉力 F 与所提升物体重力 G 的关系。在实验过程中，小明将实验数据记录在表格中。请你认真分析表格中的数据，归纳出拉力 F 与重力 G 的关系。则力 F 与重力 G 的关系式是_____。

G/N	1	2	3	4	5	6
F/N	0.8	1.3	1.8	2.3	2.8	3.3

3、虽然受冠状病毒的影响人们出行较少，但是今年五一期间仍然发生许多交通事故，阜营高速公路上就发生了一起这样的交通事故，两辆同向行驶的汽车发生“追尾”。如图所示汽车 B 刹车后由于_____撞到汽车 A，此时对汽车 A 中的司机起保护作用的是_____（选填“汽车座椅上的头枕”或“座位前方安全气囊”）；我们常说汽车靠牵引力前进，实际上是靠后胎与地面间的_____力来推动汽车前进。

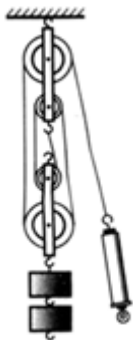


4、质量 1.2Kg 小物块所受的重力是_____N，在水平面上以 2m/s 的速度匀速前进时，受到的滑动摩擦力大小为 5N。当它同一水平面上以 4m/s 的速度前进时，受到的滑动摩擦力大小为_____N；如果小物块在运动过程中受到的所有力突然消失，它将_____。

5、如图所示，一瓶矿泉水的质量为 560g，瓶子的底面积为 28cm^2 ，瓶子对桌面的压力为_____N，瓶子对桌面的压强为_____Pa。



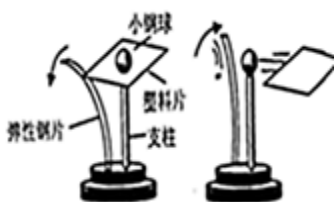
6、一个工人用类似如图所示的滑轮组提起 2000N 的货物，所用的拉力是 800N，绳子自由端被拉下 4m。则这个工人做的有用功是_____J；该滑轮组的机械效率是_____。



7、如图所示，大威拿出手机对着关闭的屏幕，看到了自己的_____（填“虚”或“实”）像。保持手机到眼睛的距离不变，开启屏幕打开手机前置摄像头，大威通过摄像头成的像与屏幕关闭时成的像相比_____（填“变大”、“变小”或“不变”）。



8、如图所示，拨动左边的弹性片，它可将右边的塑料片弹走，塑料片上的小钢球_____（填“会”或“不会”）随塑料片一起飞走，这是由于小钢球具有_____的缘故。



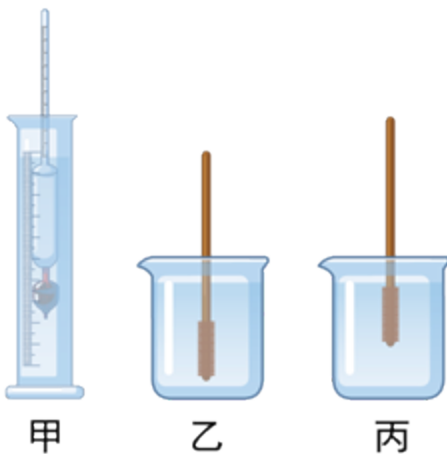
9、小明在学习了大气压强的知识后，自制了一个如图所示的气压计，瓶中装有适量的水，当他将自制

气压计由楼下拿到楼上时发现细玻璃管中液面上升，说明大气压随高度的增加而_____

(选填“增大”、“减小”或“不变”)。若他将这个瓶子装满水，戴着隔热手套捏瓶子，发现细玻璃管中液面也能上升，说明力能使物体发生_____。他还发现将装满水的瓶子放入热水中，细玻璃管中液面仍能上升，这又成了一支自制温度计，它的工作原理是_____，在此过程中瓶内水的密度将_____。(选填“变大”、“变小”或“不变”)

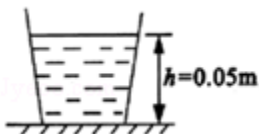


10、测量液体密度的仪器叫密度计。将其插入到液体中，待静止后直接读取液面处的刻度值(如图甲)。小江在木棒的一端缠绕一些铜丝自制了一个简易密度计，将其放入两个盛有不同液体的烧杯中，静止时如图乙和图丙所示，可以判断出密度计在两种液体中所受浮力 $F_{乙}$ _____ $F_{丙}$ ，两种液体的密度 $\rho_{乙}$ _____ $\rho_{丙}$ 。(以上两空均选填“>”“=”或“<”)



三、计算题(3 小题，每小题 10 分，共计 30 分)

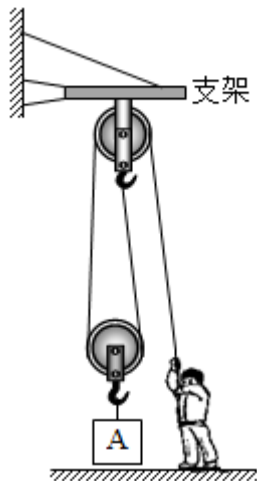
1、如图所示在一个重 2N，底面积为 0.01m^2 的容器里装 8N 的水，容器中水的深度为 0.05m。把它放在水平桌面上 ($g=10\text{N/kg}$)。求：



(1) 水对容器底的压强；

(2) 水对容器底的压力。

2、如图所示，滑轮组悬挂在水平支架上，物体 A 重 360N，动滑轮重 40N，绳重和摩擦不计，某同学用力 F 竖直向下拉动绳子，使物体 A 在 5s 内匀速上升了 1m，此过程中。求：



(1) 拉力 F 的大小；

(2) 拉力 F 做功的功率；

(3) 滑轮组的机械效率。

3、赛龙舟是我国民间的一项传统体育项目，湘西民间的端午节也常常举办龙舟竞赛活动，俗称“划龙舟”。如果一艘龙舟的质量为 200kg，载有队员 21 人，龙舟队员的平均质量为 60kg。g 取 10N/kg，水的密度为 $\rho_{\text{水}} = 1.0 \times 10^3 \text{kg/m}^3$ ，当载人龙舟静止于水面时，求：



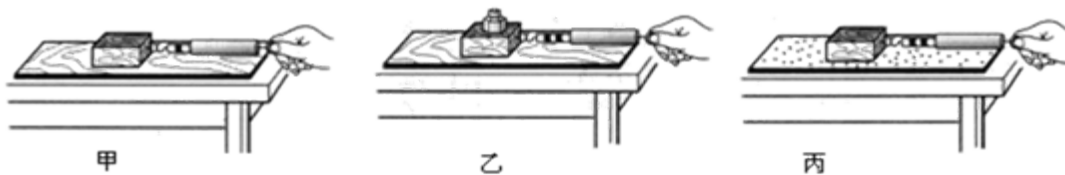
(1) 载人龙舟的总重是多大？

(2) 船体排开水的体积 V 是多大？

(3) 龙舟底部位于水下 0.4m 处时船底受到水的压强是多大？

四、实验探究（2 小题，每小题 10 分，共计 20 分）

1、在“研究影响滑动摩擦力大小因素”的实验中，做了如下图所示的实验。



A、为了测定摩擦力的大小，用弹簧测力计沿水平方向拉着木块在水平桌面上做_____运动，摩擦力的大小可从弹簧测力计示数得出。

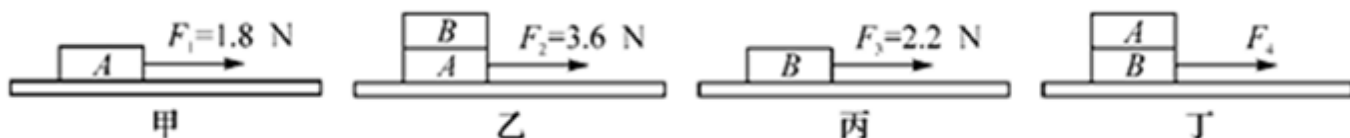
B、比较图甲和图乙中弹簧测力计的示数得到的结论：_____

C、比较图甲和图丙中弹簧测力计的示数得到的结论：_____；

D、综合上述实验表明：滑动摩擦力的大小与_____有关。

E、用弹簧测力计沿水平方向拉一个质量为 500g 的小车在桌面上向右做匀速直线滑动，此时弹簧测力计的示数为 2N 时，则小车受到的摩擦力为_____N。当弹簧测力计的示数增大为 4N 时，小车受到的摩擦力大小_____（“变大”、“不变”、“变小”）。

2、13 班勤学好问的成喆和赖乐怡同学学习了“研究影响滑动摩擦力大小的因素”的实验后，做了如下实验：同种材质且体积相等、质量都为 600g 的 A、B 两个木块，放在一长木板上进行实验，实验中保证水平匀速拉动弹簧测力计，实验过程及结果如图所示。（ g 取 10N/kg）



(1) 测量摩擦力大小的依据是_____。

(2) 图甲中物体运动的速度大小为 v_1 ，图乙中物体运动的速度大小为 v_2 ，实验过程中，关于 v_1 和 v_2 的大小，下列说法正确的是_____。

A. v_1 一定大于 v_2

B. v_1 一定小于 v_2

C. v_1 一定等于 v_2

D. v_1 可以大于、等于或小于 v_2

(3) 图丁中拉动物体 A、B 一起匀速运动，拉力 F 的大小为_____N。

(4) 比较甲、丙或乙、丁，可以得出：B 的表面比 A 的表面更_____。

(5) 在物理学中，我们把两个物体间的滑动摩擦力与压力的比值称为这两个接触面间的“动摩擦因数”，用符号 μ 表示木块 A 与长木板间的动摩擦因数大小为_____。已知 A、B 两个木块之间的动摩擦因数大小为 0.4，在如图丁所示实验中，若用拉力 F 水平向左作用在 A 上使其位置保持不变，用拉力 F_1' 将 B 匀速抽出，则拉力 F_1' 的大小为_____N（提示：B 的上下表面均存在滑动摩擦力）。

-参考答案-

一、单选题

1、【答案】C

【解析】【解答】分析滑轮组的特点可以得出，左侧滑轮为动滑轮，右侧滑轮为定滑轮，绳子的段数为 2 段。物体 A 在 B 的作用下匀速运动，则物体 A 受的摩擦力 $f = 2G_B$ ，如果在 A 上再加一个向左的 180N 的力，物体 A 影响摩擦力的两个要素都没改变，所以摩擦力还是 f ，只是方向从向左变成了向右，于是可以得出 $180\text{N} = f + 2G_B$ ，因为 $f = 2G_B$ ，所以 $180\text{N} = 2G_B$ ，所以 $G_B = 45\text{N}$ ， $f = 90\text{N}$ 。

故答案为：C

【分析】分析该滑轮组中与动滑轮接触的绳子的段数，分析拉力与阻力的大小关系和自由端移动距离与物体移动距离的关系。

2、【答案】B

【解析】【解答】A. 质量是物体的一种属性，不随物体的形状、状态、位置的变化而变化，地球上质量是 60kg 的人到月球表面，只是位置的变化，其质量不变，A 不符合题意；

B. 月球对物体的吸引力只有地球对物体吸引力的 $\frac{1}{6}$ ，同一物体在月球表面的重力就是地球表面的 $\frac{1}{6}$ ，所以在地球上重为 600N 的人，在月球表面其重力仅有 100N，B 符合题意；

C. 月球对物体的吸引力只有地球对物体吸引力的 $\frac{1}{6}$ ，在地球表面最多能举起重 600N 物体的人，在月球能举起的物体重力为 $G = 6 \times 600\text{N} = 3600\text{N}$

C 不符合题意；

以上内容仅为本文档的试下载部分，为可阅读页数的一半内容。如要下载或阅读全文，请访问：<https://d.book118.com/918106067105007014>