

2024 届山东省威海市文登区科目一模拟考试 100 题精 品附答案

1、距离宽度不足 4 米的窄路 50 米以内的路段不能停车

A、正确

B、错误

正确答案：A

分析：《中华人民共和国道路交通安全法实施条例》第六十三条 机动车在道路上临时停车，应当遵守下列规定：（二）交叉路口、铁路道口、急弯路、宽度不足 4 米的窄路、桥梁、陡坡、隧道以及距离上述地点 50 米以内的路段，不得停车；

2、闪光警告信号灯为持续闪烁的黄灯，其作用是提示车辆、行人需要快速通过。

A、正确

B、错误

正确答案：B

分析：黄灯闪烁提示行人车辆注意，确认安全后通过，快速通过是不对的。

3、对发生道路交通事故需要收集证据的事故车，交通警察可以依法扣留。

A、正确

B、错误

正确答案：A

分析：警察叔叔是有这个权利滴。

4、这个标志是何含义？



A、旅游区类别

B、旅游区距离

C、旅游区方向

D、旅游区符号

正确答案：C

分析：快到云居寺了，箭头指的是方向

5、驾驶人在实习期内可以驾驶机动车独立进入高速公路行驶。



A、正确

B、错误

正确答案：B

分析：实习期上高速公路行驶，需要持有相应或者更高准驾车型驾驶证三年以上的驾驶人陪同。

6、机动车登记证书、号牌、行驶证灭失、丢失或者损毁的，机动车所有人应当向哪个部门申请补领、换领？

A、住地交警支队车辆管理所

B、驾驶证核发地车辆管理所

C、登记地车辆管理所

D、当地公安局

正确答案：C

分析：正确答案：C 所有人应当向登记地车辆管理所申请补领、换领。

7、如图所示，这个标志设置在有人看守的铁路道口，提示驾驶人距有人看守的铁路道口的距离还有 100 米。



A、正确

B、错误

正确答案：B

分析：是无人看守的铁道路口，有人看守的标志不一样，在火车那里有一道栅栏。

8、报考小型汽车准驾车型科目三考试的，在取得驾驶技能准考证明满 30 日后预约。

A、正确

B、错误

正确答案：A

分析：《机动车驾驶证申领和使用规定》规定，初次申请机动车驾驶证或者申请增加准驾车型的，申请人预约考试科目三，应当符合下列规定：（一）报考小型自动挡汽车、残疾人专用小型自动挡载客汽车、低速载货汽车、三轮汽车准驾车型的，在取得学习驾驶证明满二十日后预约考试；（二）报考小型汽车、轮式专用机械车、无轨电车、有轨电车准驾车型的，在取得学习驾驶证明满三十日后预约考试；（三）报考大型客车、重型牵引挂车、城市公交车、中型客车、大型货车准驾车型的，在取得学习驾驶证明满四十日后预约考试。属于已经持有汽车类驾驶证，申请增加准驾车型的，在取得学习驾驶证明满三十日后预约考试。

9、在大暴雨的天气行车，刮水器无法正常工作时，应立即减速行驶。

A、正确

B、错误

正确答案：B

分析：错在“减速行驶”应该减速靠边停车。暴雨天气驾车，刮水器无法刮净雨水，严重影响驾驶人视线，看不清路况行车十分危险。为了安全起见，一定要立即减速靠边停车，并开启危险报警闪光灯，等雨变小再继续行驶。

10、造成交通事故后逃逸，尚不构成犯罪的一次记几分？

A、12分

B、6分

C、3分

D、2分

正确答案：A

分析：只要事故后逃了，就记12分。

11、在狭窄的路段会车时，应做到礼让三先：先慢、先让、先停。

A、正确

B、错误

正确答案：A

分析：这样做是友好的行为，很善意的做法，注意不要鸣太多次。因此本题正确。

12、以下哪个仪表表示水温表



A、图 1

B、图 2

C、图 3

D、图 4

正确答案：C

分析：水温表上有个温度标志

13、这个标志是何含义？



A、禁止借道

B、禁止变道

C、禁止超车

D、禁止掉头

正确答案：C

分析：禁止超车：表示该标志至前方解除禁止超车标志的路段内，不准机动车超车。此标志设在禁止超车的起点。

14、请判断一下，这是什么手势？

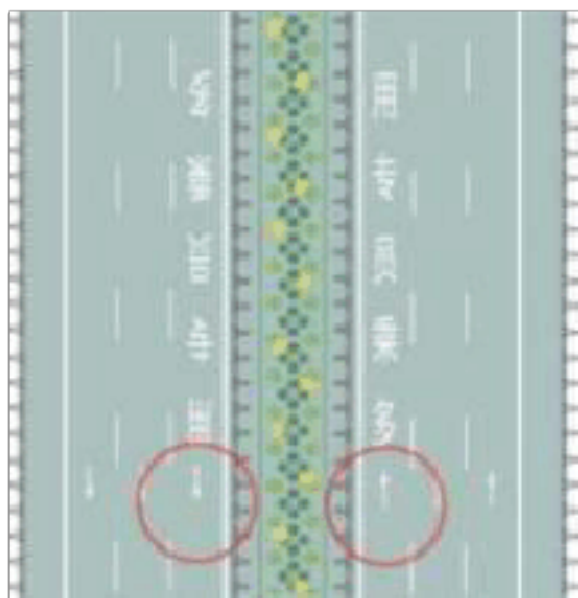


- A、准许车辆左转弯手势
- B、不准前方车辆通行手势
- C、准许右方车辆右转弯手势
- D、准许右方直行车辆通过手势

正确答案：A

分析：如图所示，交警的手表示准许车辆左转弯手势。

15、道路最左侧白色虚线区域是何含义？



- A、多乘员车辆专用车道
- B、小型客车专用车道
- C、未载客出租车专用车道

D、大型客车专用车道

正确答案：A

分析：图上有字，‘多乘员专用’这是送分题

16、组织他人代替实际机动车驾驶人参加审验教育的，有违法所得的，由公安机关交通管理部门处违法所得三倍以下罚款，但最高不得超过五万元。


A、正确

B、错误

正确答案：B

分析：《机动车驾驶证申领和使用规定》规定：机动车驾驶人参加审验教育时在签注学习记录、学习过程中弄虚作假的，相应学习记录无效，重新参加审验学习，由公安机关交通管理部门处一千元以下罚款。代替实际机动车驾驶人参加审验教育的，由公安机关交通管理部门处二千元以下罚款。组织他人实施前两款行为之一，有违法所得的，由公安机关交通管理部门处违法所得三倍以下罚款，但最高不超过二万元；没有违法所得的，由公安机关交通管理部门处二万元以下罚款。

17、下列哪个标志表示一般道路车道数变少？



A、图 1

B、图 2

C、图 3

D、图 4

正确答案：B

分析：记住就可以了，其他图标是什么？去‘交通标志’里学习一遍吧。

18、驾驶人户籍迁出原车辆管理所应当向什么地方的车辆管理所提出申请？

A、迁出地

B、居住地

C、所在地

D、迁入地

正确答案：D

分析：因为你要去下一个迁入地办理迁入手续，即申请更换。方便驾驶员不用去以前那个车管所再办理手续，减少了办理程序，各车管所的信息是联网的。

19、上下搬动这个开关前风窗玻璃刮水器开始工作。



A、正确

B、错误

正确答案：A

分析：正确，这个没问题，左侧的开关是管灯光的，右侧的开关是管雨刷的。

20、申请小型汽车准驾车型驾驶证的人，年龄在 18 周岁以上即可。

A、正确

B、错误

正确答案：A

分析：根据公安部交通管理局发布的新措施，自 2020 年 11 月 20 日起，申请小型汽车、小型自动挡汽车、轻便摩托车驾驶证 18 周岁以上，取消 70 周岁的年龄上限。对 70 周岁以上人员考领驾驶证的，增加记忆力、判断力、反应力等能力测试，且需每年进行一次身体检查，

提交体检证明，保证身体条件符合安全驾驶要求。

21、驾驶人在驾驶证丢失后 3 个月内还可以驾驶机动车。

A、正确

B、错误

正确答案：B

分析：不可以，没有驾驶证都算无证驾驶。

22、行车中，遇非机动车抢行时，应怎样做？

A、鸣喇叭警告

B、加速通过

C、减速让行

D、临近时突然加速

正确答案：C

分析：一定要让，以人为本。

23、这个标志是何含义？



A、高速公路界牌编号

B、高速公路里程编号

C、高速公路命名编号

D、高速公路路段编号

正确答案：C

分析：国的第一个大写字母 g,就是国道。省道是 s,县道是 x,乡是 y。

24、申请转让登记的，以下哪种资料不需要提供？

A、机动车登记证书

B、身份证明

C、行驶证

D、驾驶证

正确答案：D

分析：《机动车登记规定》规定，申请转让登记的，现机动车所有人应当交验机动车，确认申请信息，并提交以下证明、凭证：（一）现机动车所有人的身份证明；（二）机动车所有权转让的证明、凭证；（三）机动车登记证书；（四）机动车行驶证；（五）属于海关监管的机动车，还应当提交海关监管车辆解除监管证明书或者海关批准的转让证明；（六）属于超过检验有效期的机动车，还应当提交机动车安全技术检验合格证明和交通事故责任强制保险凭证。车辆管理所应当自受理申请之日起一日内，查验机动车，核对车辆识别代号拓印膜或者电子资料，审查提交的证明、凭证，收回号牌、行驶证，确定新的机动车号牌号码，在机动车登记证书上签注转让事项，重新核发号牌、行驶证和检验合格标志。在机动车抵押登记期间申请转让登记的，应当由原机动车所有人、现机动车所有人和抵押权人共同申请，车辆管理所一并办理新的抵押登记。在机动车质押备案期间申请转让登记的，应当由原机动车所有人、现机动车所有人和质权人共同申请，车辆管理所一并办理新的质押备案。

25、驾驶人在驾驶证有效期满前多长时间申请换证？

A、30 日内

B、60 日内

C、90 日内

D、6 个月内

正确答案：C

分析：驾驶证到期时 90 天~~~变更是 30 天。。。大家要分清楚

26、以下选项中，车辆自动刹车辅助系统的英文缩写是什么？

A、FCW

B、AEB

C、BSD

D、ACC

正确答案：B

分析：AEB（AutonomousEmergencyBraking）自动紧急制动系统，能够使得车辆在行驶时自动监测车辆前方有车辆、障碍物或者行人的距离小于安全距离，有可能发生碰撞时，就会自动采取不同程度的制动以至于完全刹停。

27、这个标志是何含义？



A、向左单行路

B、向右单行路

C、直行单行路

D、右转让行

正确答案：B

分析：表示一切车辆向右单向行驶。此标志设在单行路的路口和入口处的适当位置。

28、禁令标志是用以____车辆、行人交通行为的标志。

A、指引和禁止

B、警告和限制

C、禁止和限制

D、警告或禁止

正确答案：C

分析：禁令标志的作用是禁止、限制及相应解除，道路使用者应严格遵守。禁令标志的颜色为白底、红圈、红杠、黑图形；图形压杠；形状为圆形。个别标志例外。

29、事故报警时，要向交警提供事故地点、人员伤亡、车牌号牌等信息，协助交警快速定位到达现场。

A、正确

B、错误

正确答案：A

分析：提供的这些信息已经非常完备，事故经过等细节，可以等交警到达现场后进行描述。

30、机动车驾驶人在一个记分周期内累积记分满 24 分未满 36 分的，在道路交通安全法律、法规和相关知识考试合格后，应当按照规定预约参加场地驾驶技能考试。

A、正确

B、错误

正确答案：B

分析：《道路交通安全违法行为记分管理办法》规定：机动车驾驶人在一个记分周期内二次累积记分满 12 分或者累积记分满 24 分未满 36 分的，应当在道路交通安全法律、法规和相关知识考试合格后，按照《机动车驾驶证申领和使用规定》第四十四条的规定预约参加道路驾驶技能考试。考试不合格的，十日后预约重新考试。

31、驾驶机动车在路口遇到这种情况如何行驶？



A、可以向右转弯

B、靠右侧直行

C、遵守交通信号灯

D、停车等待

正确答案：D

分析：看警察叔叔的手，让你停了。在有警察和指示灯的路口，当然听警察的。

32、驾驶机动车遇到后方有执行紧急任务的特种车辆时，可以借用无人通行的非机动车道让行。

A、正确

B、错误

正确答案：A

分析：驾驶机动车，遇到后方有执行任务的特种车辆时，临时借用无人通行的非机动车道让行是可以的。

33、属于申请增加准驾车型的，应当收回原机动车驾驶证。

A、正确

B、错误

正确答案：A

分析：《机动车驾驶证申领和使用规定》第五十五条：申请人考试合格后，应当接受不少于半小时的交通安全文明驾驶常识和交通事故案例警示教育，并参加领证宣誓仪式。车辆管理所应当在申请人参加领证宣誓仪式的当日核发机动车驾驶证。属于申请增加准驾车型的，应当收回原机动车驾驶证。属于复员、转业、退伍的，应当收回军队、武装警察部队机动车驾驶证。

34、B2 表示哪种准驾车型？

A、大型货车

B、中型客车

C、大型客车

D、重型牵引挂车

正确答案：A

分析：A2 为重型牵引挂车；B1 为中型客车；B2 为大型货车；A1 为大型客车。

35、行人参与道路交通的主要特点除了行走随意性大、方向多变以外，还喜欢聚集、围观。

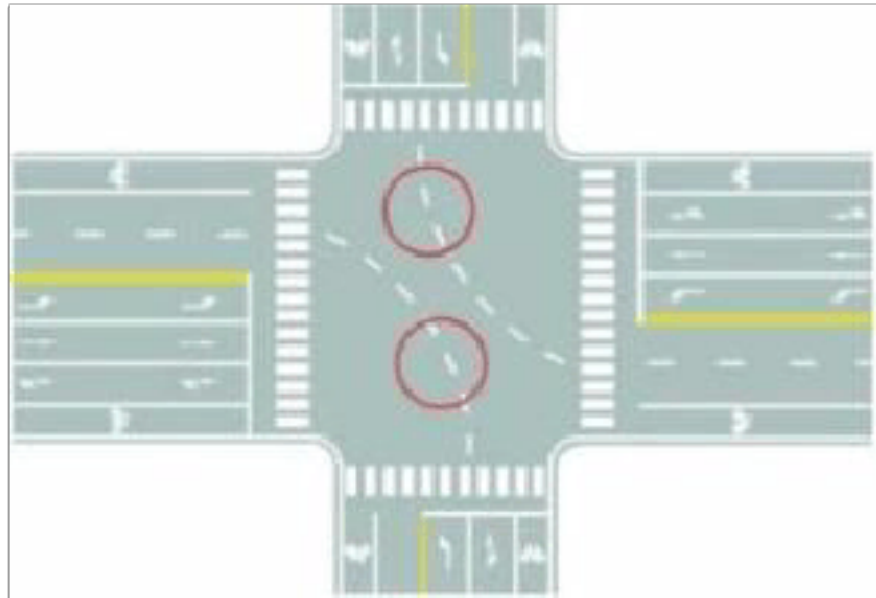
A、正确

B、错误

正确答案：A

分析：说得没错

36、图中圈内白色虚线是什么标线？



A、小型车转弯线

B、车道连接线

C、非机动车引导线

D、路口导向线

正确答案：D

分析：黄色白色都是路口导向线，黄色与黄实线相延续，白色与白实线相延续

37、驾驶人违反交通运输管理法规发生重大事故致人重伤、死亡，可能会受到什么刑罚？

A、处3年以下徒刑或者拘役

B、处3年以上7年以下徒刑

C、处5年以上徒刑

D、处7年以上徒刑

正确答案：A

分析：撞死，撞伤没逃逸的，3年以下！！撞伤，或直接撞死后逃逸的3—7年！！撞伤的，没死的，逃逸后又死了，7年上！！老实人，不跑的伤（3）心一下（以下）撞死人跑了的

(在中间呢不就是 3—7 年) 见死不救的就上去 (7) 吧!

38、这个导向箭头是何含义?



- A、指示前方右转弯
- B、指示前方掉头
- C、指示前方直行
- D、指示向左变道

正确答案: A

分析: 指示前方右转弯,请记住了哦.

39、持有小型汽车驾驶证的驾驶人,发生交通事故造成人员死亡承担同等以上责任未被吊销机动车驾驶证的,应当在本记分周期结束后三十日内到公安机关交通管理部门接受审验,同时应当申报身体条件情况。

- A、正确
- B、错误

正确答案: A

分析: 公安部令第 123 号》第六十条持有本条第三款规定以外准驾车型驾驶证的驾驶人,发生交通事故造成人员死亡承担同等以上责任未被吊销机动车驾驶证的,应当在本记分周期结束后三十日内到公安机关交通管理部门接受审验。

40、这辆小型载客汽车驶离高速公路行车道的方法是正确的。



A、正确

B、错误

正确答案：A

分析：这个车是按规定驶离高速的，没有问题。

41、驾驶电动汽车行驶时，可以频繁使用刹车。

A、正确

B、错误

正确答案：B

分析：频繁的刹车必然伴随着频繁的启动，会导致电池频繁地大电流放电，大电流放电对其寿命具有负面影响。

42、如图所示，驾驶机动车遇到这种情况，要减速慢行，同时持续鸣喇叭提醒行人注意查看路况。



A、正确

B、错误

正确答案：B

分析：文明驾驶，礼让行人，行驶中，遇低头看手机或打电话等不集中精力观察路口的行人时，一定要提前鸣喇叭提示，并减速慢行。不得持续鸣喇叭，防止临近鸣喇叭使其慌不择路，出现危险。

43、驾驶机动车遇紧急事务，可以边开车边接打电话。

A、正确

B、错误

正确答案：B

分析：新修订的《机动车驾驶证申领和使用规定》公布后，2013年1月1日起施行，其中规定：驾驶机动车有拨打、接听手持电话等妨碍安全驾驶的行为的一次记2分。此外，边开车边打电话也会危害人身安全。

44、驾驶机动车驶近急弯、坡道顶端等影响安全视距的路段时，应当减速慢行并鸣喇叭示意。

A、正确

B、错误

正确答案：A

分析：驾驶机动车驶近急弯、坡道顶端等影响安全视距的路段时，应当减速慢行并鸣喇叭示意，以提示对向交通参与者我方有来车，注意安全。

45、交叉路口不得倒车的原因是什么？

A、交通情况复杂，容易造成交通堵塞甚至引发事故

B、交通监控设备多

C、交通警察多

D、车道数量少

正确答案：A

分析：当然是选A，交叉路口情况复杂，倒车容易引发危险。

46、年龄在 60 周岁以上的机动车驾驶人，应当每年进行一次身体检查。

A、正确

B、错误

正确答案：A

分析：年龄在 60 周岁以上的机动车驾驶人，应当每年进行一次身体检查，以保证行车安全。

47、存在以下哪种行为的申请人在一年内不得再次申领机动车驾驶证？

A、在考试过程中出现身体不适

B、在考试过程中有舞弊行为

C、不能按照教学大纲认真练习驾驶技能

D、未参加理论培训

正确答案：B

分析：《机动车驾驶证申领和使用规定》第六章，法律责任，第七十八条，隐瞒有关情况或者提供虚假材料申领机动车驾驶证的，申请人在一年内不得再次申领机动车驾驶证。申请人在考试过程中有贿赂、舞弊行为的，取消考试资格，已经通过考试的其他科目成绩无效；申请人在一年内不得再次申领机动车驾驶证。

48、机动车发生故障时，（如图所示）闪烁。



A、正确

B、错误

正确答案：B

分析：开启危险报警闪光灯时，该图闪烁。

49、机动车仪表板上（如图所示）亮表示启用地板及前风窗玻璃吹风。



A、正确

B、错误

正确答案：A

分析：大箭头表示吹的是脚底板，那个曲线上升的表示是吹的前风窗。

50、牵引发生事故的机动车时，最高车速不得超过多少？

A、20 公里/小时

B、30 公里/小时


C、40 公里/小时

D、50 公里/小时

正确答案：B

分析：《道路交通安全法实施条例》第四十六条，机动车行驶中遇有下列情形之一的，最高行驶速度不得超过每小时 30 公里，其中拖拉机、电瓶车、轮式专用机械车不得超过每小时 15 公里：1、进出非机动车道，通过铁路道口、急弯路、窄路、窄桥时；2、掉头、转弯、下陡坡时；3、遇雾、雨、雪、沙尘、冰雹，能见度在 50 米以内时；4、在冰雪、泥泞的道路上行驶时；5、牵引发生故障的机动车时。

51、遇到这种情况时，中间车道不允许车辆通行。



A、正确

B、错误

以上内容仅为本文档的试下载部分，为可阅读页数的一半内容。如要下载或阅读全文，请访问：<https://d.book118.com/926143233110011001>