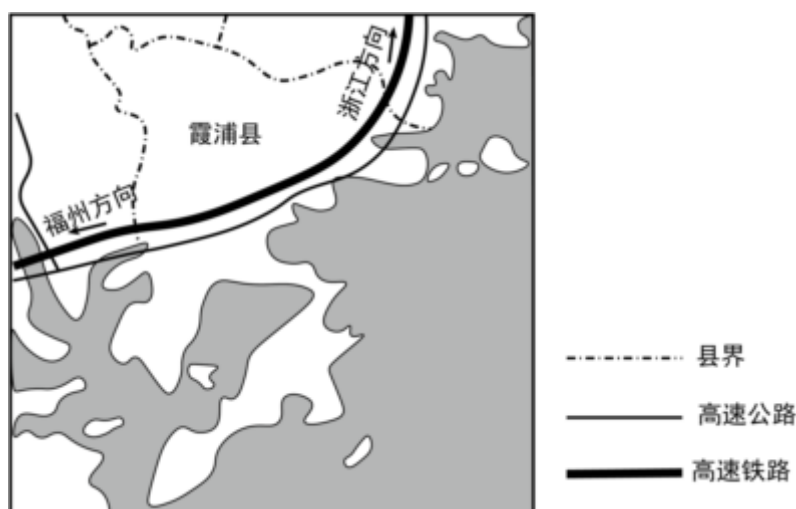


## 2025 年高考地理复习之小题狂练 300 题（解答题）：人口（10 题）

### 一. 解答题（共 10 小题）

1.（2023•成都模拟）阅读图文资料，完成下列要求。

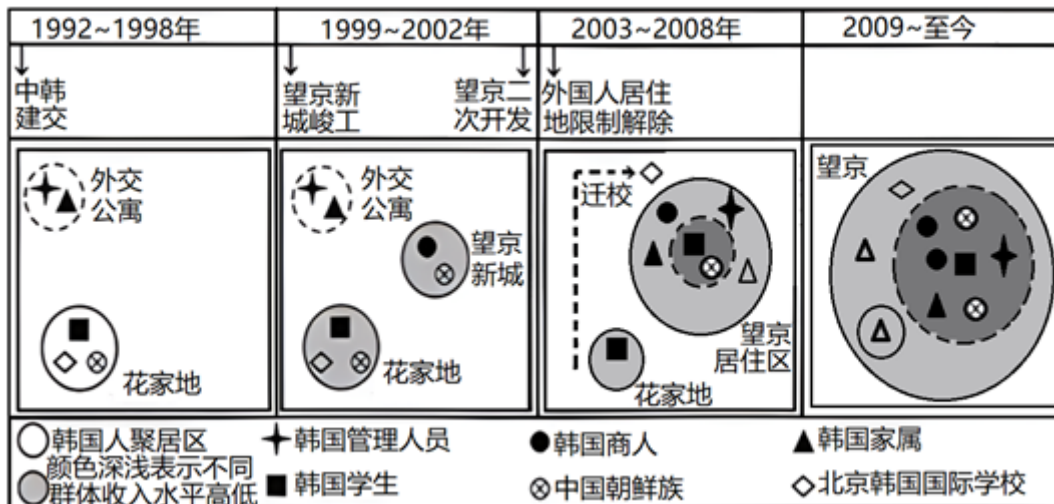
梅花村位于福建省霞浦县东北部沿海山区。以前，山上土地贫瘠，村道不通，村民争相往镇上搬。自 2018 年开始，该村修建村道，完善配套设施，开发民宿，发掘旅游景点……现在，村里不少荒地种上了水果、茶树，数民宿依山面海、错落排布，三五成群的游客漫步其间，感受海滨风光与田园意趣，昔日的“空心村”成了热闹的“网红村”。梅花村是霞浦发展的一个缩影。目前，霞浦县有各类乡村民宿 400 多家，成为区域社会经济发展的助推器。如图示意霞浦县地理位置。



- (1) 简述促使村民搬离梅花村的“推力”。
- (2) 分析大量村民搬离对该村民宿的影响。
- (3) 分析霞浦县发展民宿的有利条件。
- (4) 说明发展民宿给霞浦县社会经济发展带来的效益。

2.（2023•广州模拟）阅读图文资料，完成下列要求。

近年来，我国成为全球第三大韩国人移居地。望京地处北京东北部，距市中心约 15 千米，距首都国际机场仅 10 千米。2000 年前，望京缺乏大型商业设施，交通不便。随着城市的发展，2003 年后望京成为北京最大韩国人聚居区。如图示意望京韩国人聚居区的形成和发展过程。

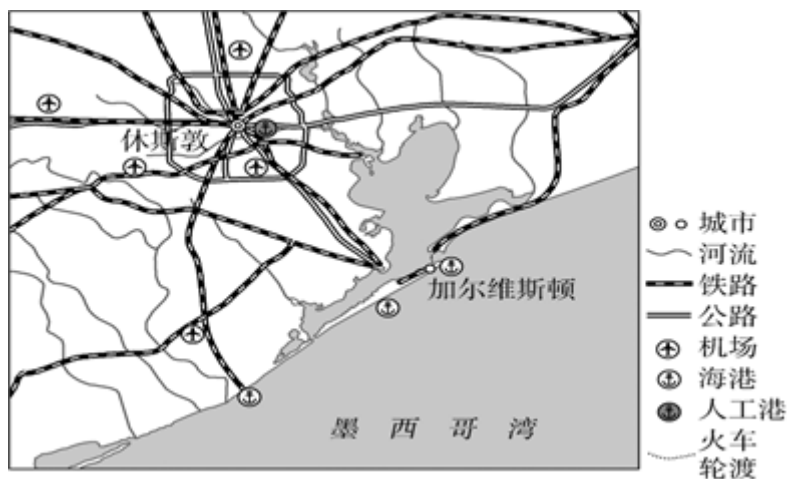


- 指出 1992~1998 年韩国人在北京居住的主要目的。
- 简述 2003 年后望京成为北京最大韩国人聚居区的原因。
- 与西欧相比，分析中国成为韩国人移居地的突出优势。

3. (2023·魏县校级模拟) 阅读图文材料，完成下列问题。

材料一：休斯敦是美国南部得克萨斯州的第一大城市，美国第四大城市，人口 230 多万，其中 65 岁以上人口超过 8%。休斯敦外来人口增长快，城市发展迅速，物价较低，是美国和世界上最大、最有名气的医学中心之一。休斯敦是北美最理想的养老城市。一般加入美国国籍后，在美国可以享受国家养老待遇。

材料二：如图为休斯敦地理位置示意图。



- 说出休斯敦老年人口主要来自本国哪个地区，并分析影响人口迁入的主要原因。
- 指出休斯敦城市发展对当地水循环的影响。
- 分析休斯敦养老产业发展的有利条件。

4. (2024·衡阳二模) 阅读图文材料，完成下列要求。

台湾省民居多种多样，多与闽南地区民居相似。台湾省南部的农家院以三合院为主，房子多坐北朝南，南面没有倒座房（中国传统建筑中与正房相对，坐南朝北的房子）。如图示意台湾省南部屏东县的三合院。

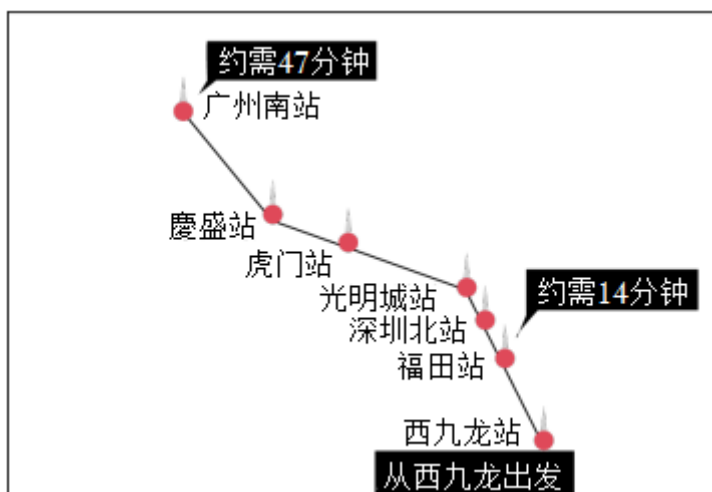
(1) 简述屏东县农家三合院前面广场的主要功能。

(2) 台湾省南部的农家院多为三合院，请说明与四合院相比三合院的优点。



5. (2024•宁河区校级模拟) 阅读图文资料，完成下列要求。

香港与内地恢复全面通关以来，港人热衷于北上消费。近日，大型超市开市客中国华南首家门店在深圳正式开业，吸引不少港人前去“扫货”。香港入境处数据显示，2024年1月12日和13日两天内有至少50万港人北上，成为了深圳经济新的增长点。如图为广深高铁线路图。



(1) 与周边其他城市相比，分析深圳成为港人北上消费主要目的地的原因。

(2) 分别列举“港人北上”可带动发展的深港两地的产业。

(3) 简述深圳的发展对周边地区，珠三角城市带及我国的意义。

6. (2024•皮山县校级模拟) 读甲、乙两国人口年龄结构图(图1)，回答下列问题。

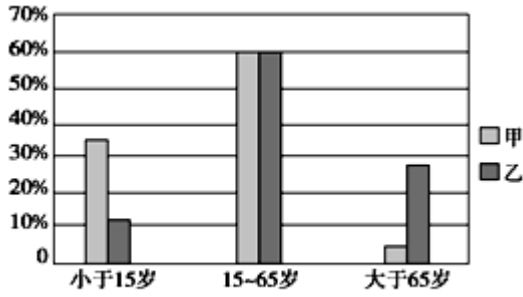


图1

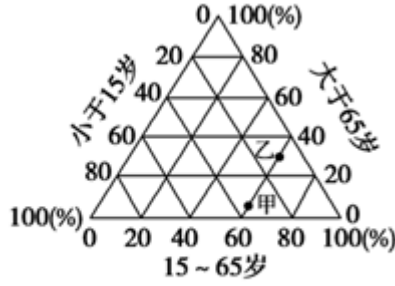


图2

(1) 目前乙国主要的人口问题是 \_\_\_\_\_，解决措施有 \_\_\_\_\_。

(1) 判断甲、乙两国间人口的迁移方向，并从甲国的角度说明理由。

(3) 分析甲、乙两国间人口迁移给乙国带来的积极影响。

7. (2024•三明一模) 阅读图文材料，完成下列问题。

在福州古城的中心，坐落着遐迩闻名的“三坊七巷”历史文化街区，起于晋，完善于唐五代，至明清鼎盛，为贵族和士大夫的聚集地。“三坊七巷”建筑，基本上以多进院落沿纵深轴线布置（由若干个天井、敞厅、敞廊、前后连续贯通的通道组成，如图），以南后街为中轴，政治中心和贵族居住区位于城市北部，平民居住区和商业区位于城市南部，两侧互相对称，成坊成巷，堪称古代“里坊制度的活化石”。如图为“三坊七巷局部图”。



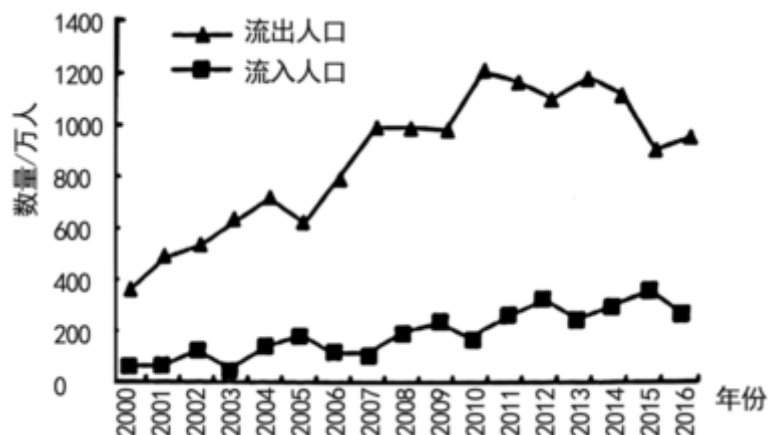
(1) 从气候角度分析“三坊七巷”粉墙黛瓦的色彩与地理环境的关系，并说明其反映的地域文化特色。

(2) 从气候角度分析“三坊七巷”建筑院落布局的合理性以及所体现的地域文化。

(3) 指出“三坊七巷”整体空间布局所体现的地域文化。

8. (2024•广西一模) 阅读图文材料，完成下列要求。

如图示意 2000~2016 年我国川渝地区流动人口数量变化，该地区人口主要流入地为长三角及珠三角地区。近年，川渝地区部分原迁出人口出现回流趋势。



(1) 描述 2010 年以来川渝地区人口机械增长量的变化并分析原因。

(2) 分析 2010 年以来川渝地区人口回流对当地带来的积极影响。

9. (2022·衡阳模拟) 三亚是著名的热带滨海旅游城市，每年吸引了大量来自东北三省、西北地区等地的“候鸟”老人在此过冬。三亚“候鸟”老人达 41 万人，约为三亚户籍人口总数的 70%、但近年来昆明、南宁等城市，吸引了越来越多的“候鸟”老人，三亚“候鸟”老人明显减少。

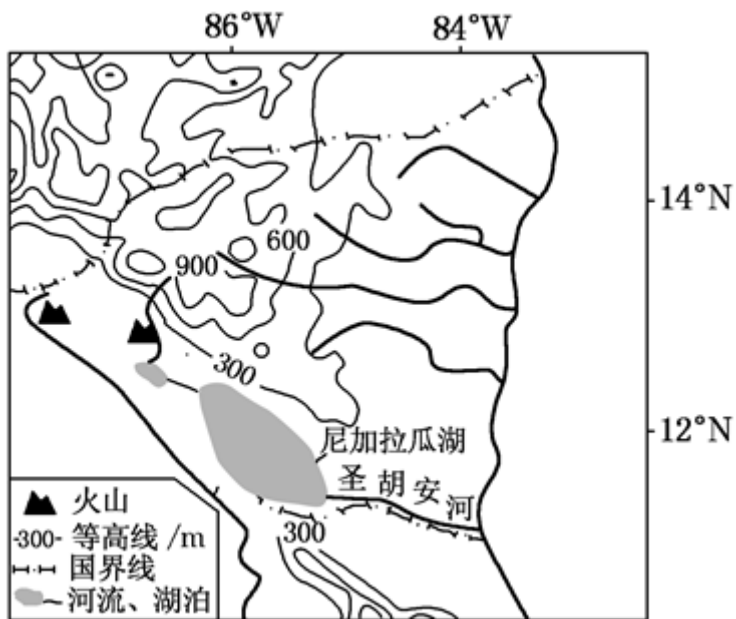
(1) 简述三亚吸引“候鸟”老人的原因。

(2) 请为三亚吸引更多“候鸟”老人提出合理建议。

10. (2022·秦都区模拟) 阅读图文材料，完成下列要求。

材料一：2021 年 12 月 9 日，尼加拉瓜外交部发表声明，宣布与台湾断绝“外交关系”，同中华人民共和国恢复外交关系，承认并承诺恪守一个中国原则。一时间，这个与我们相隔万里的国家受到了人们的广泛关注。该国位于北美洲的南部，是中美地峡中部的国家，首都马那瓜。尼加拉瓜别称为“湖泊和火之国”，多火山、湖泊，地热资源丰富，人口 662.4 万，分布受自然因素影响大。

材料二：尼加拉瓜湖位于尼加拉瓜国西南部（位置如图），是中美洲最大的湖泊，由火山熔岩流堵截形成。太平洋与尼加拉瓜湖之间有低平的地峡相隔，湖水通过尼加拉瓜与哥斯达黎加的界河圣胡安河流入加勒比海。尼加拉瓜湖数万年前还是太平洋的一个海湾，现在湖里仍然有成千上万的鲨鱼、箭鱼和大海鲢等大型海水鱼。尼加拉瓜湖是世界上唯一的繁殖生息海水鱼的淡水湖。



- (1) 判断尼加拉瓜东西两侧人口分布的差异并推测其自然原因。
- (2) 尼加拉瓜地热资源丰富，但开发程度低。分析阻碍该国地热资源开发的原因。
- (3) 简述尼加拉瓜湖的形成过程。
- (4) 分析尼加拉瓜湖为淡水湖但海水鱼资源丰富的原因。

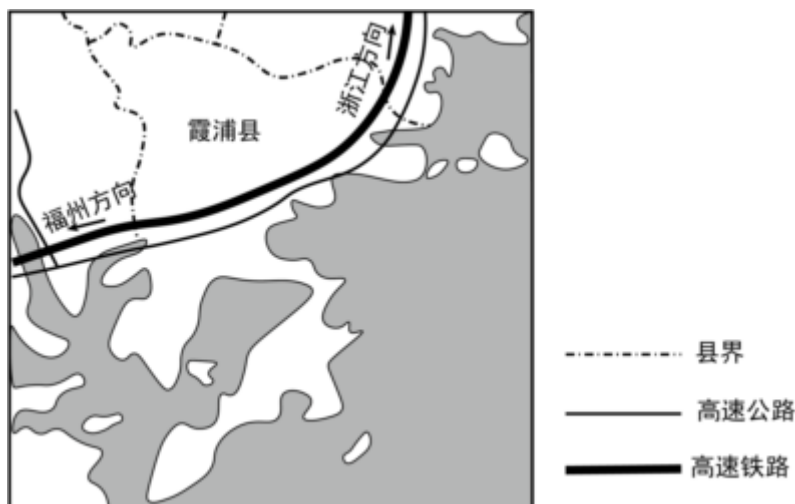
# 2025 年高考地理复习之小题狂练 300 题（解答题）：人口（10 题）

参考答案与试题解析

## 一. 解答题（共 10 小题）

1.（2023•成都模拟）阅读图文资料，完成下列要求。

梅花村位于福建省霞浦县东北部沿海山区。以前，山上土地贫瘠，村道不通，村民争相往镇上搬。自 2018 年开始，该村修建村道，完善配套设施，开发民宿，发掘旅游景点……现在，村里不少荒地种上了水果、茶树，数民宿依山面海、错落排布，三五成群的游客漫步其间，感受海滨风光与田园意趣，昔日的“空心村”成了热闹的“网红村”。梅花村是霞浦发展的一个缩影。目前，霞浦县有各类乡村民宿 400 多家，成为区域社会经济发展的助推器。如图示意霞浦县地理位置。



- （1）简述促使村民搬离梅花村的“推力”。
- （2）分析大量村民搬离对该村民宿的影响。
- （3）分析霞浦县发展民宿的有利条件。
- （4）说明发展民宿给霞浦县社会经济发展带来的效益。

**【分析】**（1）促使村民搬离梅花村的“推力”可以从地形、土壤、耕地、经济发展等角度分析。

（2）大量村民搬离对该村民宿的影响可以从产业升级、环境污染、接待能力等角度分析。

（3）霞浦县发展民宿的有利条件可以从风景、交通、市场、政策等角度分析。

（4）发展民宿给霞浦县社会经济发展带来的效益可以从财政收入、基础设施、社会稳定等角度分析。

**【解答】**解（1）读题干“梅花村位于福建省霞浦县东北部沿海山区。以前，山上土地贫瘠，村道不通，村民争相往镇上搬”可知，促使村民搬离梅花村的“推力”是：当地以山地为主，交通不便；土地贫瘠，耕地不足，基础设施落后；经济落后，就业困难等。

(2) 影响包括有利和不利影响，有利影响：读题干可知，大量村民搬离当地，腾出不少耕地，可以调整产业结构，改种植水果、茶树，改造成“网红村”等；大量村民搬离，减少环境污染和生态破坏，有利于提高民宿的生态环境质量；大量村民搬离，有利于加强民宿的规划和管理。不利影响：大量村民搬离，减少农村劳动力，影响民宿的接待能力；大量村民搬离，很多房子荒废，不利于民宿的发展等。

(3) 霞浦县积极发挥滨海旅游、滩涂摄影、历史文化等三大优势，因地制宜，加强民宿的策划与设计，塑造“霞浦民宿”品牌。霞浦县发展民宿的有利条件是：地处沿海，多山，依山靠海，风景优美；有高速公路和高速铁路穿越，交通便利；距离福州等客源市场近，市场广阔；当地政府的政策支持等。

(4) 发展民宿给霞浦县发展带来的效益包括经济效益、社会效益等。体现在：促进了当地居民的就业，增加了财政收入；促进了基础设施的建设，改善当地居民的生活条件；使当地居民减少外出打工，有利于家庭和社会的稳定和繁荣，助推乡村振兴。

故答案为：

(1) 以山地为主，交通不便；土地贫瘠，耕地不足，基础设施落后。

(2) 腾出耕地，可以调整产业结构；减少环境污染和生态破坏；有利于加强民宿的规划和管理；农村劳动力减少，接待能力下降等。

(3) 依山靠海，风景优美；有高速公路和高速铁路穿越，交通便利；距客源市场近，市场广阔；政府的政策支持等。

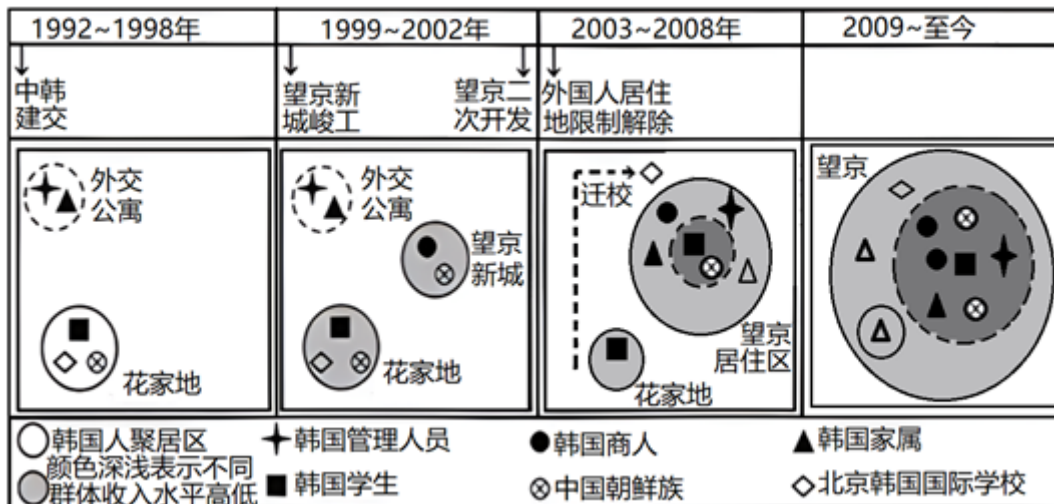
(4) 促进居民的就业，增加财政收入；促进基础设施的建设；减少居民外出打工，有利于家庭和社会的稳定。

**【点评】**本题以霞浦县地理位置为材料，主要考查了人口迁移、旅游的开发和意义等相关内容，考查学生掌握课本知识的能力和综合思维的地理素养。

2. (2023·广州模拟) 阅读图文资料，完成下列要求。

近年来，我国成为全球第三大韩国人移居地。望京地处北京东北部，距市中心约 15 千米，距首都国际机场仅 10 千米。2000 年前，望京缺乏大型商业设施，交通不便。随着城市的发展，2003 年后望京成为北京最大韩国人聚居区。如图示意望京韩国人聚居区的形成和发展过程。





- 指出 1992~1998 年韩国人在北京居住的主要目的。
- 简述 2003 年后望京成为北京最大韩国人聚居区的原因。
- 与西欧相比，分析中国成为韩国人移居地的突出优势。

**【分析】** (1) 影响人口迁移的因素：1、自然环境因素：气候、淡水、土壤、矿产等；2、社会经济因素：经济发展、交通和通信、文化教育、婚姻家庭等；3、政治因素：政策、社会变革、战争等。

(2) 人口分布的因素需要结合政策和经济进行分析。

(3) 中国成为韩国人移居地的突出优势主要从空间距离、文化习惯、经济水平等内容分析。

**【解答】** 解：(1) 从图中可知，1992 年中韩建交，韩国人主要集中在外交公寓与花家地，结合图例可知，空心菱形为北京韩国国际学校，反映出周边集聚的原因是为求学需求；实心星型为韩国管理人员，反映出周围集聚原因为外交需求。

(2) 2003 年外国人居住地限制解除，韩国人居住地限制接触，在政策优势下，望京居住区的吸引力增强；其中韩国管理人员、北京韩国国际学校搬迁进入或靠近望京居住区，使得望京对韩国人的吸引力加强，这就是 2003 年后望京成为北京最大韩国大聚居区的原因。

(3) 中国与韩国空间距离较近，交通方便，便于迁入；中国与韩国处在东亚文化圈，文化差异较小，韩国人易于融入中国，适应中国文化习俗；中国经济发展水平较西欧低，移民居住成本较低，能够节约移民成本。

故答案为：

- 1992~1998 年韩国人在北京居住的主要目的为求学与外交雪需要。
- 外国人居住地限制解除，政策优势明显；学校、外交机构集中搬迁进入或靠近望京居住区。
- 中国与韩国距离较近，便于迁入；中国与韩国处在东亚文化圈，文化差异较小；中国经济发展水平较西欧低，移民居住成本较低。

以上内容仅为本文档的试下载部分，为可阅读页数的一半内容。如要下载或阅读全文，请访问：<https://d.book118.com/928022113020006127>