

2024年沪教版七年级地理上册月考试卷938

考试试卷

考试范围：全部知识点；考试时间：120分钟

学校：_____ 姓名：_____ 班级：_____ 考号：_____


总分栏

题号	一	二	三	四	五	六	总分
得分							

评卷人	得分

一、选择题(共8题，共16分)

1、读图；下列地区中，属于这种降水类型的是（ ）



- A. 赤道附近的亚马孙平原
- B. 台湾的火烧寮
- C. 长江中下游平原地区
- D. 北非地区撒哈拉沙漠

2、

读图；结合所学知识回答9-13题。



樱花盛开的季节，日本最著名的赏樱和旅游胜地是（ ）

- A. 落基山

- B. 黄山
- C. 富士山
- D. 阿尔卑斯山

3、

中亚、西亚人口稀少的主要原因是（ ）

- A. 气候严寒
- B. 地处高山、高原区
- C. 气候湿热
- D. 降水稀少，气候干燥

4、【题文】南北半球的分界线是（ ）

- A. 赤道
- B. 20°W和160°E
- C. 本初子午线
- D. 回归线

5、我国青藏高原纬度较低，但是高原上雪山连绵，冰川广布，其影响的因素是（ ）

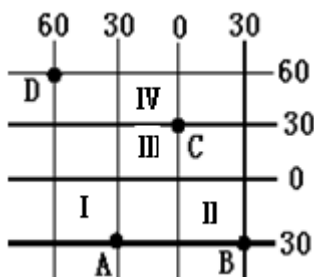
- A. 纬度因素
- B. 地形地势因素
- C. 海陆因素
- D. 环境因素

6、在“坐地日行八万里，巡天遥看一千河”这句诗中“八万里”是指地球的（ ）

- A. 平均半径
- B. 表面积
- C. 赤道周长
- D. 极半径

7、

读经纬网示意图；完成4-8小题.



关于图中C点在A点的什么方向，正确的是（ ）

- A. 东方
- B. 东南
- C. 东北

D. 西南

8、
亚洲与非洲的界线是()

- A. 苏伊士运河
- B. 巴拿马运河
- C. 白令海峡
- D. 马六甲海峡

评卷人	得分

二、多选题(共8题，共16分)

9、下列事例能够说明地球是球形的是（ ）。

- A. 从远方驶来的帆船，总是先看到桅杆，再看到船身
- B. 月食现象
- C. 麦哲伦环球航行
- D. 天圆地方

10、下列关于赤道的叙述，正确的是（ ）

- A. 最长的经线
- B. 东西半球的分界线
- C. 最长的纬线
- D. 南北半球的分界线

11、【题文】下列关于等高线的说法，正确的是（ ）

- A. 等高线的高度是相对高度
- B. 等高线重合处是陡崖
- C. 等高线密集的地方，坡度较大
- D. 等高线向高处凸出的地方是山脊

12、山东盛产的水果有（ ）

- A. 苹果。
- B. 梨。
- C. 菠萝。
- D. 香蕉。

13、下列关于印度气候的叙述，正确的是（ ）

- A. 印度地处热带亚热带，全年高温多雨
- B. 西南季风的强弱和进退早晚是造成水旱灾害的根本原因
- C. 全年气温高，但降水量偏少，气候较干旱
- D. 大部分地区属热带季风气候，全年高温，有明显的旱季和雨季

14、

在我国东部海底，人们发现了人类活动的遗迹，这说明我国东部海底大陆架在地质时期曾经是陆地，造成这种海陆变迁的主要原因是（ ）

- A. 地壳运动
- B. 海平面上升
- C. 人类活动
- D. 地球运动

15、

下列叙述正确的是（ ）

- A. 比例尺越小，地图上反映的地理事物越简略
- B. 比例尺越大，地图上所画的范围越大
- C. 图幅越大，说明比例尺越大
- D. 比例尺越大，地图上反映的地理事物越详细

16、

南、北半球的分界线是（ ）

- A. 0°纬线
- B. 20°N
- C. 赤道
- D. 本初子午线

评卷人	得分

三、填空题(共7题，共14分)

17、写出下列字母所代表的气候类型。

(1) 在图中填出阿拉伯半岛位置，其气候类型是_____

(2) 写出图中字母所表示的气候类型。

A: _____ B: _____ C: _____ D: _____ E: _____.

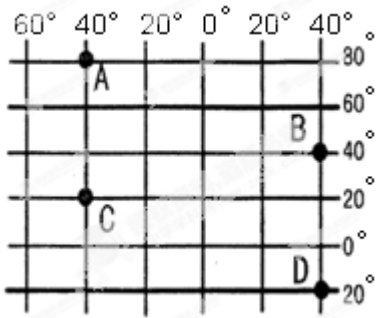


18、中国濒临____洋，四大临海自北而南依次是____、____、____、____。中国最大的岛屿是____，中国第二大岛是____。

19、
南极洲是世界上____最高的大洲。

20、地球仪上经线的长度都相等，纬线则长短不一。____（判断对错）

21、
【题文】读经纬网图；回答下列问题。（6分）

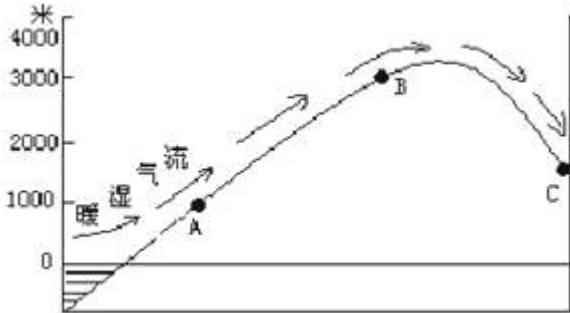


- (1) A点位于C点的____方向； B点位于C点的____方向。
 (2) A、B、C、D四点中，有阳光直射现象的是____、____，四季分明的是____，有极昼极夜现象的是____。
 (填代号)

22、读下图,回答问题:

- (1) A、C两地中降水量较多的是____地,这是因为这里处在山的____坡。
 (2) C地的降水____(多或少),原因是:处在山的____坡。
 (3) 如果此时B地的气温是12°C,则A地的气温大约是____°C。

(4) 若在山顶测得各时刻的气温如下表, 则这一天山顶的日平均气温是____°C。



时刻	2时	8时	14时	20时
气温值	4°C	7°C	20°C	5°C

23、

西亚降水稀少, 农作物需要引水灌溉, 因而农业多分布于河谷平原和沙漠中的绿洲。_____ (判断对错)

评卷人	得分

四、判断题(共4题, 共20分)

24、经线和纬线在地球上实际存在的。 () (判断对错)

25、具有“亚洲多瑙河”之称的国际河流是湄公河。 () (判断对错)

26、苏必利尔湖位于北美洲。 () (判断对错)

27、非洲许多地方保留了较为原始的村落。 ()

评卷人	得分

五、连线题(共4题, 共24分)

28、连线题 (4分)

- ①太平洋 世界第二大洋, 呈“S”型分布。
- ②大西洋 世界面积最大, 岛屿最大, 深度最大。
- ③印度洋 面积最小, 深度最浅, 大部分位于北极圈内。
- ④北冰洋 大部分在南半球。

29、

将下面语言类型与其分布国家或地区用直线连接起来, 答案写在下面的横线上。

- A. 汉语 ①澳大利亚和北美大部分地区
- B. 英语 ②前苏联地区成员国和俄罗斯
- C. 阿拉伯语 ③中国和东南亚地区部分国家
- D. 俄语 ④西班牙和拉丁美洲的许多国家
- E. 西班牙语 ⑤西亚和北非的许多国家

A—_____、B—_____、C—_____、D—_____、E—_____

30、将各洲之间与其对应的分界线连接起来。

- A. 亚、欧两洲分界线 ① 苏伊士运河
- B. 南、北美洲分界线 ② 巴拿马运河
- C. 亚、非两洲分界线 ③ 乌拉尔山

31、

把下列经纬线与其称呼组合。

- A. 0°经线 ① 北极
- B. 90°N ② 本初子午线
- C. 90°S ③ 南极
- D. 0°纬线 ④ 赤道
- E. 66.5°N ⑤ 南回归线
- F. 23.5°S ⑥ 北极圈

A---() B----() C---() D---() E----() F----()

评卷人	得分

六、综合题(共3题，共21分)

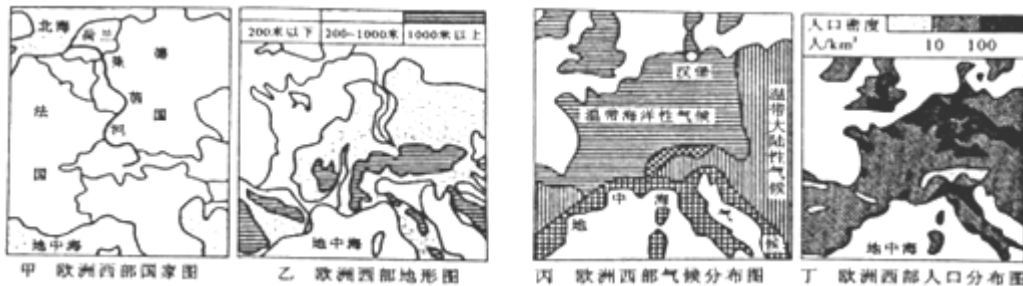
32、

某中学地理兴趣小组欲探究“影响河流航运价值的主要因素”；请你一起完成探究任务。

探究主题：影响河流航运价值的主要因素。

探究资料：

资料一：



资料二：一般来说，河流的通航里程与河流总长度的比值，可以用来衡量各留通航能力的大小。莱茵河长1320千米，通航里程为885千米，航运价值高。

(1) 气候对航运价值的影响：

从甲、丙两图得知莱茵河流经地区的主气候特征 _____

；受其影响莱茵河的主要水文特征有无结冰期，水位变化小，水量较大。

(2) 地形对航运价值的影响：

从乙图得知莱茵河干流流经地区地形特点是 _____；受其影响莱茵河的主要水文特征有流速慢，水流平稳。

(3) 人口对航运价值的影响:

莱茵河所流经地区人口分布特点 _____ (稠密或稀疏); 货运需求量 _____ (大或小)。

(4) 综上所述: 河流的航运价值与 _____; _____、_____ 等因素有关。

拓展延伸:

(5) 俄罗斯东部有多条河流但航运价值不高的气候原因 _____。

33、读北京—广州客运简明时刻表; 完成下列问题。

北京西	北京西	出发站	广州	广州
广州	广州	到达站	北京西	北京西
T15	K598/K599	车次	T16	K600/K597
		站名		
10:59	04:58 05:22	北京西	13:26	22 20:00
16:34 40	14:38 51	郑州	52 07:46	10 11:01
21:10 16	21:50 22:10	武昌	12 03:03	48 03:36
00:29 35	02:18 25	长沙	49 23:43	24 23:18
07:32	10:50	广州	16:48	14:52

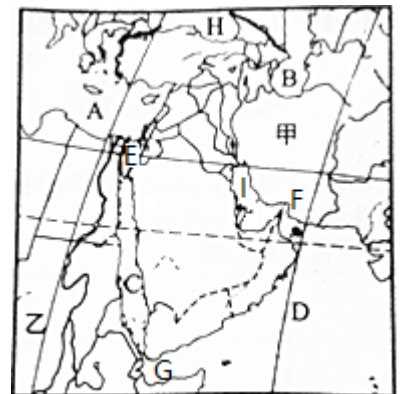
注: 本时刻表更新时间为2012年11月5日

- (1) 列车车次T15; K598哪个更快一些? _____。
- (2) T15次列车的出发站是_____; 到达站是在郑州; 武昌、长沙停留的时间都为_____分钟。
- (3) 如果乘火车从广州到郑州, 希望早上到达, 应该乘坐哪一次列车_____。

34、

读下图; 完成下列问题。

- (1) 填写大洲: 甲 _____; 乙 _____。
- (2) 字母代表的水域名称: A _____; B _____, C _____, D _____, H _____, I _____。
- (3) 运河: E _____; 沟通了 _____ 海和 _____ 海。
- (4) 海峡: F _____; G _____。
- (5) 本地区交通位置的重要性体现在 _____。
- (6) 在图上标出撒哈拉沙漠和阿拉伯半岛。



参考答案

一、选择题(共8题，共16分)

1、B

【分析】

【分析】地形雨的成因是在山地的迎风坡一侧；暖湿气流遇到山地阻挡被迫顺山坡爬升，爬升中气温降低，水汽遇冷凝结形成降水。台湾的火烧寮，是典型的地形雨。故选：B。

【点评】降水类型主要有三种：对流雨；湿润空气受热膨胀上升，变冷凝结形成的降水。

地形雨：湿润空气水平运动时，遇到山地，暖湿气流被迫沿山坡爬升，随着海拔升高，气温下降，水汽凝结，在迎风坡产生的降水。锋面雨：冷暖空气相遇时，暖空气遇冷凝结产生的降水。本题主要考查地形雨的成因。知道迎风坡一侧降水多，背风坡一侧降水少。

2、C

【分析】

解：日本的富士山；山顶常年积雪，洁白晶莹；山麓樱树成林，景色迷人。樱花盛开的季节，富士山是日本最著名的赏樱和旅游胜地。

故选：C。

日本位于亚洲东部；太平洋西北部；是一个多山的岛国，由北海道岛、本州岛、四国岛、九州岛4个大岛、数千个小岛及附近的海域组成，最大的岛屿是本州岛，西隔日本海和中国、韩国等隔海相望。

本题考查日本的旅游胜地，理解解答即可。

【解析】

C

3、D

【分析】

解：亚洲西部和中部以热带沙漠气候为主；终年炎热干燥；所以人口比较稀疏。

故选：D。

世界人口分布很不均衡。有些地方稠密；有些地方稀疏。人口的分布受自然和社会条件的影响。世界人口最稠密的四个地区是：亚洲的东部和南部；欧洲的西部、北美洲和南美洲的东部等；世界人口稀少的地区是气候严寒的高纬度地区、过于湿热的热带雨林区、地势高峻的高原山区和气候干旱的沙漠地区。世界的人口问题包括人口增长过快和过慢带来的问题。

考查了气候对人口分布的影响，难易适中。

【解析】

D

4、A

【分析】

【解析】赤道是最大的纬线圈，把地球平分为南、北两个半球。

【解析】

【答案】A

5、B

【分析】

【分析】地势对气候的影响；主要表现为随着地势的增高，气温降低。一般情况下，每增高100米，气温约下降 0.6°C 。青藏地区的主体是有“世界屋脊”之称的青藏高原，平均海拔4000米以上，地势高，气温低，形成高寒的气候特点。所以青藏高原纬度较低，但是高原上雪山连绵，冰川广布。故选：B。

【点评】青藏地区的主体是号称“世界屋脊”的青藏高原。主要包括西藏自治区、青海省、四川省西部。是世界海拔最高的高原地形，典型的高原山地气候，气候垂直分布十分显著。高原上雪山连绵、冰川广布。考查影响气候的主要因素，要理解记忆。

6、C

【分析】

【分析】学生对地球上重要纬线、经线应熟练掌握，赤道的周长是四万公里，也就是八万里。身处赤道上时，地球自转一圈正好是它的周长，所以就是“坐地日行八万里”了。故C正确。

以上内容仅为本文档的试下载部分，为可阅读页数的一半内容。如要下载或阅读全文，请访问：<https://d.book118.com/928041137032007007>