

一年级下册数学解决问题 100 道

一. 解答题(共 100 题, 共 573 分)

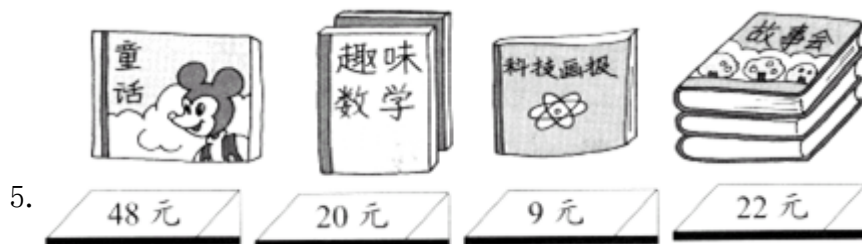
1. 一副乒乓球拍 32 元, 王老师买一副这样的球拍, 可以怎样付钱?



2. 一辆 34 个座位的大巴车, 在车站上车了 30 人, 还有多少个空座位?

3. 小青买了 5 支铅笔, 小林买了 9 支铅笔, 小林比小青多用了 3 元 2 角, 一支铅笔多少钱?

4. 姐姐有 15 支铅笔, 妹妹有 9 支铅笔, 姐姐给妹妹几支铅笔, 两人的铅笔能同样多?



(1) 小红买一本《科技画报》, 她付了 50 元, 应找给她多少钱?

(2) 小华带了 50 元钱, 可以买哪两本书?

(3) 你还能提出什么问题?







大客车比小轿车多坐多少位乘客？

7. 车上原有 39 人，到站后下车 10 人，还剩多少人？

8. 还要种多少盆花？



9. 根据题意作答。

			
5 角	7 角	20 元	50 元

(1) 买一支  和一把  ，要多少钱？

(2)  比  贵多少钱？

10. 电线杆上停着 14 只小鸟。第一次飞走了一些小鸟，第二次又飞走了一些，杆上只剩下 9 只小鸟。两次一共飞走了多少只小鸟？

11. 淘气今年 5 岁。哥哥对他说：“等你长到 7 岁时，我就 15 岁啦！”哥哥今年几岁？

12. 共有 42 条鱼，10 条鱼放一个鱼缸，可以放满几个鱼缸？

13. 幼儿园小班有 20 辆玩具车，幼儿园中班有 30 辆玩具车，幼儿园大班有 52 辆玩具车。

(1) 幼儿园大班和小班一共有多少辆玩具车?

(2) 幼儿园小班几辆玩具车就和大班一样多?

14. 逛超市。



2角



5角



6角



1元



48元




6元5角

(1) 1元钱可以买几把尺子?

(2) 1元钱还能买些什么?

(3) 买1本  怎样付钱最简单?

(4) 买1个  可以怎样付钱? 写出两种。

(5) 你还能提出什么数学问题?

15. 看图回答。



2角



12元



5角



2元

(1) 买一支笔和一块橡皮一共要多少钱？

(2) 洋娃娃比哨子贵多少钱？

(3) 用 5 元买一个哨子，应找回多少钱？

16. 小华与小林都有 100 元钱，小华用了 25 元，小林用了 30 元，谁还剩的多？

17. 看图列式解答。



18. 想一想、算一算。



36 元



8 元



6 元

(1) 买一支钢笔和一个铅笔盒一共多少元？

(2) 书包比铅笔盒贵多少元?

19. 小华用彩纸折“幸运星”，昨天和今天一共折了15颗，今天折了8颗，昨天折了多少颗？



(1) 苹果和梨一共有17个，梨有多少个？

(2) 再加几个苹果，苹果和橘子就一样多了？



21. 解决问题。

(1) 小永有11枚邮票，送给小华2枚，还剩多少枚邮票？

(2) 小兰有11本练习本，用了9本，还剩几本练习本？

22. 一共有58个盘子，还有9个没洗，已经洗了多少个盘子？

23. 小雨和小雪共画了15朵花，小雨画了5朵，小雪画了几朵？

24. 阿姨拿了16个 ，分给小朋友8个，阿姨还剩多少个 ？

25. 操场上有15人踢球，跳绳的比踢球的多8人。跳绳的人有多少人。



26. 小敏有4个硬币，共计1元7角，猜猜他有哪些硬币。

27. 学校运进一批教学用书，数学书有6本，语文书有18本，学校一共运进多少本书？

28. 一盒牙膏9元9角，小红有10元钱，买这盒牙膏钱够用吗？如果够，还剩多少钱？如果不够，还差多少钱？

29. 小明有18枝彩色笔，小刚借走了9支，小明还有几支？

30. 小红借给李军10本练习本，又借给王思8本练习本，共借出多少本？

31. 小丁丁有8本故事书，5本科技书，一共有多少本书？

32. 我要洗58件衣服，其中有30件上衣，已经洗了8件，还有多少衣服没有洗？

33. 小小营业员。



25 元



5 元



40 元

(1) 买一个玩具熊比一个皮球多花多少元？

$$\square \bigcirc \square = \square \quad (\quad)$$

(2) 购买这三样物品共需多少元？

$$\square \bigcirc \square \bigcirc \square = \square \quad (\quad)$$

(3) 小亮买一辆汽车和一个足球，给售货员 50 元，应找回多少钱？

$$\square \bigcirc \square \bigcirc \square = \square \quad (\quad)$$

(4) 你还能提出什么问题并解答？

34. 每人写 15 个大字，小勇写了 6 个字，小强写了 9 个字，小勇还有几个字没有写？

35. 小明去超市买了一支 30 元的钢笔，他付给收银员一张 50 元的人民币，收银员应该找他多少元钱？

36. 划走了几只？



37. 学校举行跳绳比赛, 男运动员 48 人, 女运动员有 30 人。

①男运动员比女运动员多多少人?

②一共有运动员多少人?

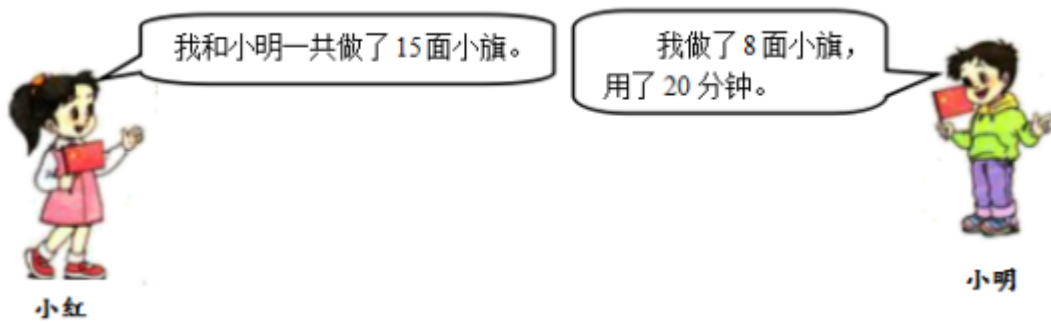
38. 小红买一瓶饮料 3 元, 一个汉堡 10 元 4 角。一个汉堡比一瓶饮料多多少钱?

39. 看图作答。



原来小刚的飞机比小红的飞机多多少架?

40. 小红做了多少面小旗?



41. 车上原有 39 人，到站后上车 5 人，现在有多少人？
42. 看图回答。



- (1) 买 1 支铅笔和 1 本书一共花_____钱。
- (2) 上衣比雨伞贵_____元。
- (3) 红红有 10 元钱，要买一本书，应找回_____钱。
- (4) 你能自己提出一些数学问题并解答吗？

43. 看图提一个数学问题，并解答，不会的字可用拼音代替。



鞋35元



衣服30元



裤子20元


(1) 提一个数学问题:

(2) 列式解答:

44. 我们班有足球 15 个, 排球有 9 个, 足球比排球多几个?
45. 山坡上有 26 只山羊, 9 只绵羊。绵羊比山羊少多少只?
46. 有 18 个小朋友跳绳, 其中女生有 8 人, 男生有多少人?
47. 一年级有 52 名同学, 准备乘两辆车去公园, 一辆车已经坐上了 30 名同学, 另一辆车要坐多少人?
48. 有 20 名运动员和 6 名教练, 一箱矿泉水共有 24, 每人 1 瓶, 够吗?
49. 一支铅笔 9 角, 一支钢笔 5 元 9 角。小明买一支铅笔和一支钢笔, 一共花了多少钱?

50. 小红看一本书, 已经看了 50 页, 还剩下 6 页没有看。这本书一共有多少页?

51. 妈妈买了 16 个苹果和 14 个菠萝, 我吃了 7 个苹果, 还有多少个苹果?

52. 停车场有 20 辆 , 开走了 5 辆, 还剩多少辆?

53. 动物园有兔子 15 只, 羊 8 只, 牛 6 只。

(1) 羊和牛一共有多少只?

(2) 其中白兔有 5 只, 黑兔有多少只?

54. 萍萍和丽丽一共折了 16 只纸鹤。其中萍萍折了 7 只, 丽丽折了多少只?

55. 停车场原来有 17 辆汽车, 现在只有 9 辆, 开走了几辆?



(1) 小光比小明大几岁?

(2) 小光比小丽大几岁?

57. 兰兰摘了多少个 ?



58. 公交车上原来有 15 人，车在某站停靠时下去了 7 人，又上来了 6 人，车上现在有多少人?



□○□○□=□ ()

以上内容仅为本文档的试下载部分，为可阅读页数的一半内容。如要下载或阅读全文，请访问：

<https://d.book118.com/937161156153006110>