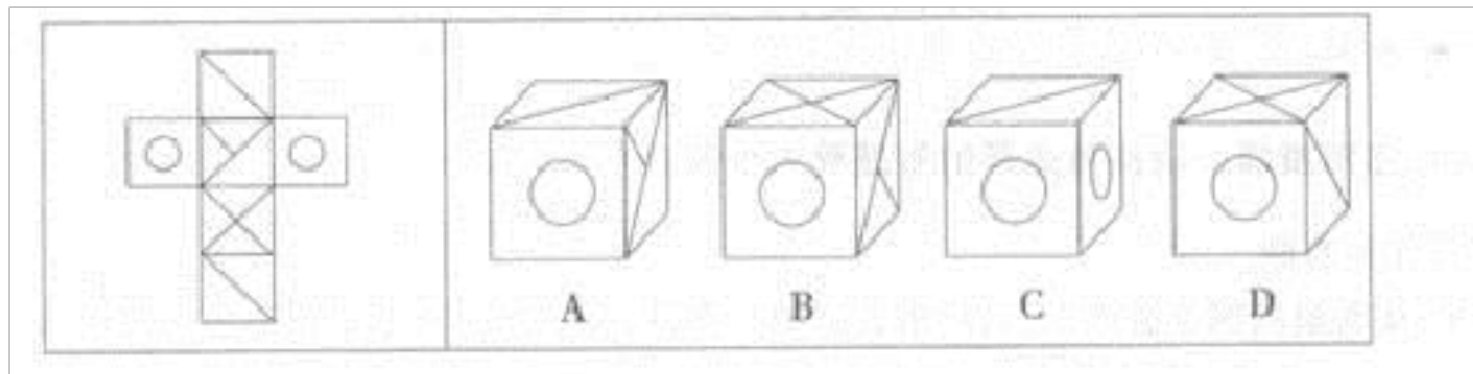


# 备考 2023 年辽宁省铁岭市公务员省考行政职业能力测验测试卷一(含答案)

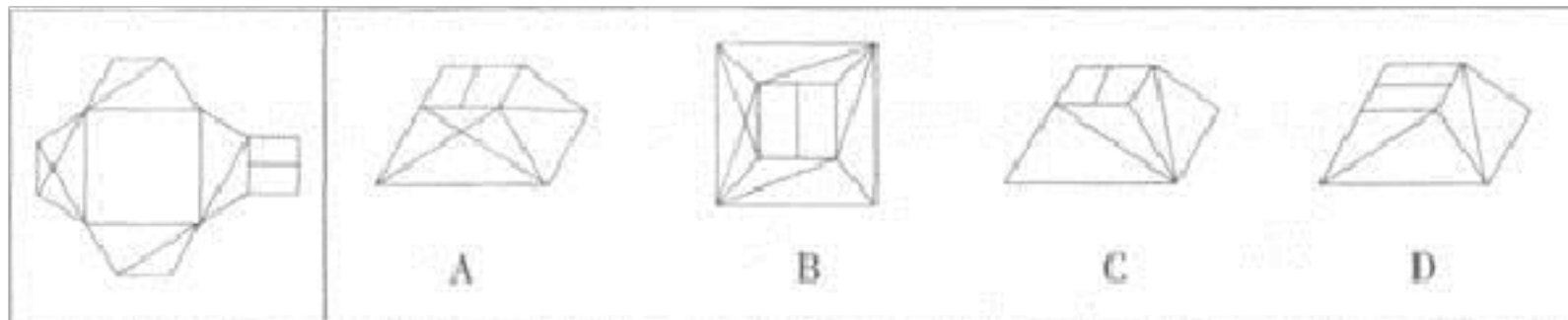
学校:\_\_\_\_\_ 班级:\_\_\_\_\_ 姓名:\_\_\_\_\_ 考号:\_\_\_\_\_

## 一、图形推理(6 题)

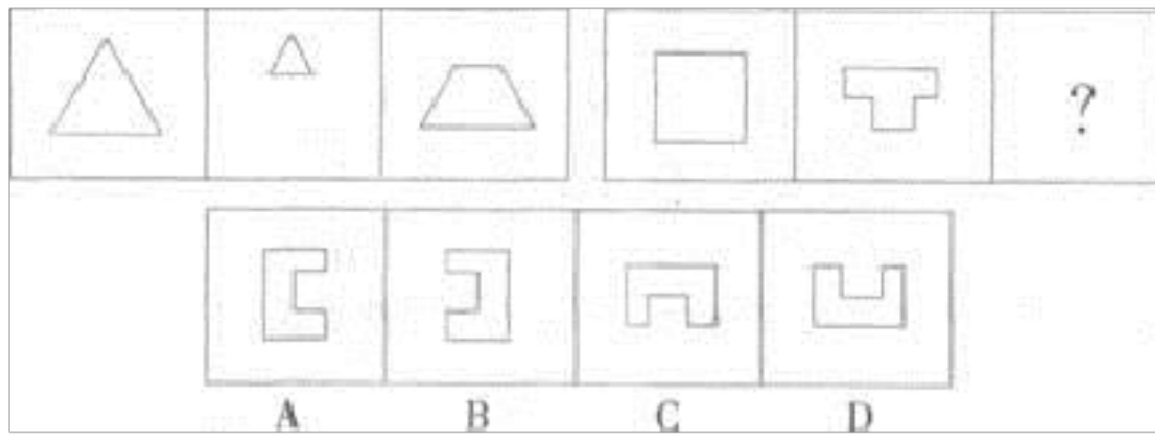
1. 左边给定的是纸盒的外表面, 右边哪一项不能由它折叠而成?



2. 左边给定的是纸盒的外表面, 下面哪一项能由它折叠而成?

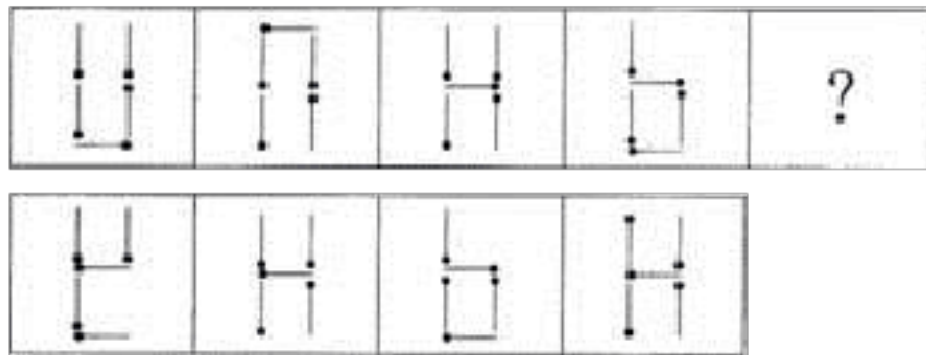


3. 从所给的四个选项中, 选择最合适的一个填入问号处, 使之呈现一定的规律性:




- A. ①②③, ④⑤⑥ B. ①②⑤, ③④⑥ C. ①③⑤, ②④⑥ D. ①⑤⑥, ②③④

4. 从所给的四个选项中, 选择最合适的一个填入问号处, 使之呈现一定的规律性:



ABCD

- A. 如上图所示 B. 如上图所示 C. 如上图所示 D. 如上图所示

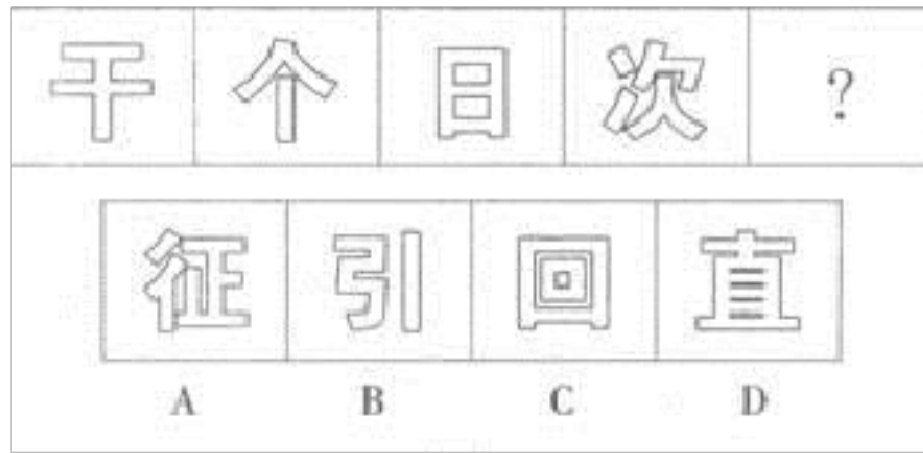


5.

A B C D

6. 从所给的四个选项中, 选择最合适的一个填入问号处, 使之呈现一定

的规律性：



## 二、定义判断(10 题)

7.红皇后效应出自《艾丽斯梦游仙境》一书中的红皇后之口，意思是说：如果你要维持在原来的位置，你必须很快地跑，如果你想要突破现况，就要以两倍于现在的速度去跑。根据上述定义，下列最符合红皇后效应的是：

- A.物竞天择，适者生存 B.千里之行，始于足下 C.锲而不舍，金石可镂  
D.逆水行舟，不进则退

8.意见领袖是指在人际传播网络中经常为他人提供信息，同时对他人施加影响的“活跃分子”，他们在大众传播效果的形成过程中起着重要的中介或过滤的作用，由他们将信息扩散给受众，形成信息传递的两级传播。根据上述定义，下列属于意见领袖的是：

- A.某品牌手机用户都喜欢上该手机的论坛，他们认为这个论坛提供的消息最准确  
B.在工作中，小曹任何事情都对领导的命令坚决执行，他认为服从领导

是正确的工作方法

C.王丽和赵雪是十多年的好朋友，王丽经常在时政问题上给赵雪以指导，但在流行时尚方面赵雪则是王丽的老师

D.小白对电脑一窍不通，他在电脑城里与很多卖家交流后，选择了一位看起来很亲切的卖家卖的电脑

9.

勾兑食品。指在食品里添加了那些不该有的添加剂、防腐剂勾兑，颠覆了原生态的食品生产方式，可以用极高效方式，用最小的投入在最少的时间内加工出色香味俱全的食品来。

根据上述定义，下列不属于勾兑食品的一项是：

A.某品牌酱油的标签上，配料表里除了大豆、麸皮、小麦粉，还有多达5种食品添加剂，业内人士说其中好几种是防腐剂

B.市场上发现一种老陈醋中，含有少许醋精的成分，经检验添加符合国家标准，不存在安全问题

C.经有关部门检测“味千拉面汤底”共有5种半固态调味料，其中3种是以“猪骨汤精”为主要原料

D.某学校学生吃完午饭后均出现呕吐、腹泻等现象，经查是该校食堂的菜品清洗不够干净，含有过多残留农药所致

10.片利共生是指生物界中两个物种间的生态关系，一种生物会因这个关系而获得生存上的利益，但是，另一种生物在这个关系中，并没有获得

任何益处，但也没有获得害处，只是带动对方去获取利益。

根据上述定义，下列现象属于片利共生的是（ ）。

- A.微生物寄生在反刍动物的胃内。同时还可以帮助反刍动物消化食物
- B.鲫鱼的游泳能力较差，其背鳍演变成吸盘吸附在鲨鱼身上，随着鲨鱼遨游四海，在鲨鱼捕获猎物时，鲫鱼就偷吃那些残存的食物
- C.藻类植物生长在树懒的粗毛夹缝中，在雨季时，藻类繁盛，形成绿色的伪装，使树懒更易在树丛中生存。藻类则借助树懒作为衍生的工具
- D.水母捕食海螺的幼虫，幼虫进入水母的体腔后不会被消化，反而获得食物及保护，幼虫长成离开水母体腔时，会带走一个水母繁殖体

11.诈骗罪是指以非法占有为目的，用虚构事实或者隐瞒真相的方法，骗取数额较大的公私财物的行为。

根据以上定义。下列属于诈骗罪的是：

- A.张某利用伪造的名牌大学学位证书，欺骗用人单位进而当上了财务主管，负责上亿元资金交易
- B.李某为销售山寨手机，在店门口用名牌手机图片做广告，一个月内获利数万元
- C.已婚妇女王某谎称自己未婚，以结婚为名向多名单身男子索要了数万元聘礼后逃跑
- D.孙某的公司因经营不善，负债累累，孙某为躲债外逃，数百名客户损失上百万元利益

12.竞争优势效应，是指当合作对双方都有利时，人们也往往会优先选择竞争，而不是选择对双方都有利的“合作”。

根据上述定义，以下不属于竞争优势效应的是：

A.螳螂捕蝉，黄雀在后

B.战国时范雎以五千金破六国合纵。

C.两个公司为了占领市场而相继采取了降价措施，最终导致商品价格低于成本

D.一对夫妻离异，丈夫为了不让妻子平白无故地得到一大笔财产，贱卖自己的车、房

13. 保证人是以自己的信用和财产作担保，来保证债务人履行债务的人。具有民事行为能力、清偿能力的法人、其他组织或公民都可以作为保证人，但国家机关、学校、幼儿园、医院等职能部门和分支机构不能作为保证人。

根据上述定义，下列选项中符合保证人定义的是（ ）。

A.张三向银行申请贷款，由他担任医院院长的哥哥提供还款保证

B.小明向幼儿园同班的小朋友借了 1 块钱，小刚说小明肯定还钱，否则他替小明还

C.李某公司的资产负债率已经很高，但仗义的他还是答应用公司资产给朋友的巨额创业贷款作担保

D.乡政府非常支持某村集体办企业，愿为该村的银行贷款提供担保参考

答案:A

14. 价格竞争是通过降价来使顾客花更少的钱却得到同样满足的一种竞争。非价格竞争。即价值竞争，就是为顾客提供更好、更有特色，或者更能适合各自需求的产品和服务的一种竞争。

根据上述定义，下列不属于非价格竞争策略的一项是：

A.加强品牌建设 B.压缩生产成本 C.进行产品创新 D.提供个性服务

15. 自我设限是指个体针对可能到来的失败威胁，事先调协障碍，为失败创造一个合理的借口，从而保护自我价值，维护自我形象。

根据上述定义，下列选项体现自我设限的是（ ）。

A.小李大学时期本计划着毕业后创业，但担心失败后会血本无归，便称时间不足，选择了应聘就业

B.某公司生产的商品合格品率为 99%，综合分析设备、技术等方面的原因后，该公司主管认为合格率不会提高了

C.小张平时学习成绩处于下游，高考结束后他说自己本能考取本科，但考试中太过紧张影响了正常发挥

D.小赵三次参加公务员考试失利后，在新一年招考来临时由于工作太忙而没有报名

16.精益管理要求企业的各项活动都必须运用“精益思维”。“精益思维”的核心就是以最小资源投入，包括人力、设备、资金、材料、时间和空间，创造出尽可能多的价值，为顾客提供新产品和及时的服务。

根据上述定义，下列符合精益管理理念的是：

- A.由于金融危机影响销售，造成了多余的库存积压
- B.通过招人扩大企业规模，进而生产出更多的产品
- C.生产过程中提倡节约，减少每道工序的操作人员
- D.推出送货上门服务，但需向消费者收取额外费用

### 三、常识判断(10 题)

17.

请根据题目要求，在四个选项中选出一个最恰当的答案。

请开始答题：

1 .毛泽东同志在其诗词中描写过许多历史事件：①六盘山土高峰，红旗漫卷西风；②黄洋界上炮声隆，报道敌军宵遁；③更喜岷山千里雪，三军过后尽开颜；④雾满龙冈千嶂暗，齐声唤，前头捉了张辉瓒。

上述诗词涉及的历史事件按时间先后顺序排列正确的是：

- A.②④③① B.④②①③ C.②④①③ D.④②③①

18. 下列关于制作果酒、果醋和腐乳的叙述，不合理的是：

- A.在果酒发酵后期拧开瓶盖的间隔时间可延长
- B.条件适宜时醋酸菌可将葡萄汁中的糖分解成醋酸
- C.果酒发酵过程中发酵液密度会逐渐减小
- D.将长满毛霉的豆腐装瓶腌制时，底层和近瓶口处需加大用盐量

19. 下列各项对应不正确的是（ ）。



- A.杜甫——《行路难》——长风破浪会有时，直挂云帆济沧海
- B.陈子昂——《登幽州台歌》——前不见古人，后不见来者
- C.范仲淹——《岳阳楼记》——先天下之忧而忧，后天下之乐而乐
- D.高适——《别董大》——莫愁前路无知己，天下谁人不识君

20.现代基本技术包括（ ）。

- A . 物质变化技术
- B . 能源转换技术
- C . 信息控制技术
- D . 能量转换技术

21.第 107 题 公民与法人都享有的人身权是（ ）。

- A.姓名权 B.隐私权 C.名称权 D.名誉权

22.根据内容涉及国家秘密的程度，含有重要的国家秘密，泄露会使国家的安全和利益遭受严重损害的文件属于（ ）。

- A . 内部使用文件
- B . 秘密文件
- C . 机密文件
- D . 绝密文件

23.第 98 题 在下列情况中，离婚时无过错方有权请求损害赔偿的是（ ）。

- A. 某甲的丈夫乙在出外经商定居时与某女青年以夫妻名义同居生活
- B. 某甲的丈夫乙在家中时常打骂凌辱甲和她的孩子
- C. 某甲的丈夫乙在外地用欺骗手段得以和某女青年登记结婚
- D. 某甲的丈夫在婚前隐瞒自己的精神病史

24.在预算的实际执行过程及年终的决算中，人们把（ ）视为一种理想的财政平衡的标志。

- A.结余 B.略有赤字 C.略有结余 D.财政收支平衡

25.

公民对公布的选民名单有不同意见的，可以向选举委员会提出申诉，选举委员会对申诉意见，应当在 3 日内作出处理决定。申诉人如果对处理决定不服，可以在选举日的 5 日以前向（ ）

- A.人民法院起诉 B.人民检察院控诉 C.选举委员会再申诉 D.人民代表大会常务委员会申诉

26. 在现代市场经济中，居支配地位的是：

- A.个人业主制企业 B.合伙制企业 C.合作制企业 D.公司(法人)制企业

四、数量关系(10 题)

27.第 22 题 桌子上放着 7 只杯子，有 3 只杯口朝上，4 只杯口朝下，每个人任意将杯子翻动 5 次，问若干人翻动后。能否将 7 只杯子全变成杯

以上内容仅为本文档的试下载部分，为可阅读页数的一半内容。如要下载或阅读全文，请访问：<https://d.book118.com/938021133044006031>