

考试总分：98分 考试时间：120分钟

学校：\_\_\_\_\_ 班级：\_\_\_\_\_ 姓名：\_\_\_\_\_ 考号：\_\_\_\_\_

一、选择题（本题共计 29小题，每题 2分，共计58分）

1. 下列地区与传统交通运输工具搭配错误的是（ ）

- A. 南方—牛
- B. 北方—马
- C. 青藏—牦牛
- D. 西北—骆驼

2. 如图为“美国东部和我国东北工业分布示意图”。据此完成下列小题。

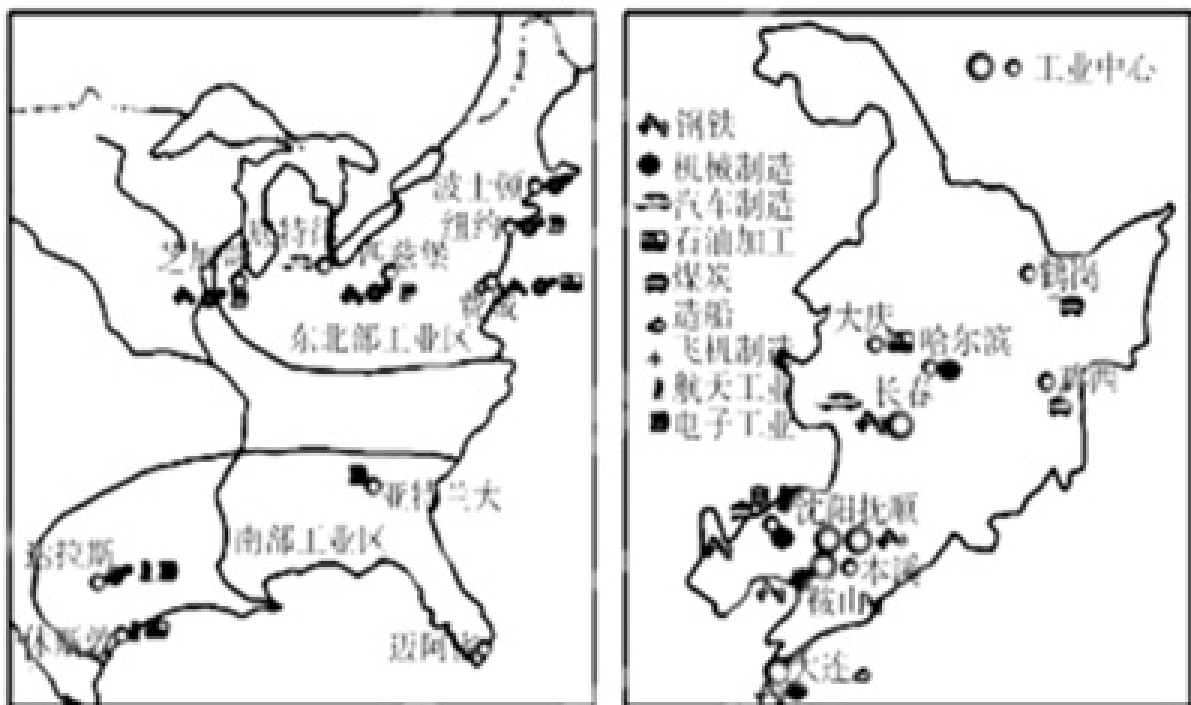


图1

图2

(1) 两地区工业分布的共同点是（ ）

- A. 科技力量雄厚
- B. 接近消费市场
- C. 水源充足
- D. 靠近原料和燃料产地

(2) 两地区都存在着资源日趋枯竭、产品结构单一等问题，借鉴美国改造老工业基地的经验，实现工业可持续发展，我国东北老工业基地应（ ）


- ① 发展新兴工业和第三产业
- ② 增加资金投入，扩大生产规模
- ③ 发展科技，更新设备
- ④ 将部分高能耗产业向西、向北迁移

- A. ①②
- B. ①③

C.②④

D.③④

3. 读图，回答下列小题。



(1) 图中①山脉是 ( )

A.阿尔泰山

B.小兴安岭

C.大兴安岭

D.长白山脉

(2) 下列描述错误的是 ( )

A.①②③是我国最大的天然林区

B.④是我国最大的平原——华北平原

C.④平原是由嫩江、松花江、辽河冲积形成的

D.②山脉全部位于黑龙江省

(3) 下列关于东北地区地形的叙述，正确的是 ( )

A.山地高峻，坡度陡峭

B.平原破碎，地块小

C.地势西高东低，呈阶梯状分布

D.地表结构呈半环状分布

4. 我国“神舟”系列飞船选择地形平坦开阔、云量少、晴天多和人口稀少的地点安全着陆，以下地点最适合的是 ( )

A.内蒙古高原

B.黄土高原

C.云贵高原

## D.长江中下游平原

5. 大型国际航空综合交通枢纽——北京新机场选址在北京市大兴区与河北省廊坊市交界处。新机场建设同时，京冀还将共同打造北京新机场临空经济区。读图，完成第(1)~(2)题。

适宜在新机场临空经济区布局的产业有( )

①跨境电子商务 ②煤炭工业 ③钢铁工业 ④国际会展 ⑤航空物流 ⑥化学工业



A.①②③

B.①④⑤

C.②④⑥

D.③⑤⑥

6. 2017年4月1日，中共中央、国务院决定在河北省的雄县、容城、安新及周边地区设立国家级新区——雄安新区。雄安新区是继深圳经济特区和上海浦东新区之后又一具有全国意义的新区，将成为我国新的区域增长极。按照规划和定位，雄安新区首先是北京“非首都功能”的集中承载地，推进京津冀协同发展；3个县城未来的发展功能各具特色，新区内以公租房为主，不建设商品住宅。据此回答18~20题。



雄安新区集中承载北京的“非首都功能”，有利于北京市( )

A.扩大服务范围

B.提高城市等级

C.丰富城市职能

## D.改善城市环境

7. 黄土“就像冬季地面积雪那样，以差不多的厚度覆盖在起伏不同的各种地形上。”这说明的问题是（ ）

A.黄土是流水冲积而来的

B.黄土是风带来的

C.黄土是地质演变形成的

D.黄土是人为造成的

8. 对南方地区的农村生活、生产描述正确的是（ ）

A.主食以面食为主

B.苹果、梨是当地主要栽种的水果

C.捕鱼捞虾、栽培菱藕、采桑养蚕

D.冬季孩子们喜欢堆雪人、打雪仗、滑冰

9. 下列旅游资源不属于南方地区的是（ ）

A.杭州西湖

B.三江湿地景观

C.苏州园林

D.古镇周庄

10. 读“长江三角洲城市分布简图”，此区城市分布的特点是（ ）



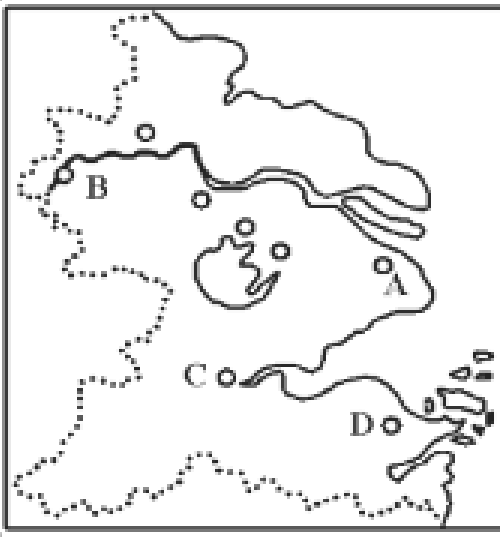
A.沿黄浦江分布

B.沿河流、湖泊和交通线路分布

C.主要分布在沿海

D.城市分布稀疏，主要分布在铁路沿线

11. 读图，回答下面小题。



(1) A城市未来发展的方向是 ( )

A. 全国最大的工业城市和最大的港口

B. 世界经济、金融、贸易中心

C. 世界重化工基地和外贸基地

D. 我国的政治、经济和文化中心

(2) 关于该地区所在经济地带未来发展方向的正确的说法是 ( )

① 大力发展第三产业和高新技术产业

② 扩大耕地面积，巩固和发展农业基础

③ 充分发展技术创新优势

④ 大力发展水电站、交通、电信、电网和城市基础设施

A. ①②③④

B. ①③④

C. ①③

D. ②④

12. 下列不是台湾省的重要工业城市的是 ( )

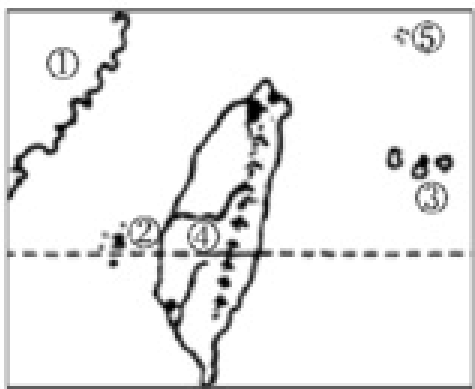
A. 台北

B. 鞍山

C. 高雄

D. 基隆

13. 台湾是祖国领土的一部分，台湾岛是个美丽的宝岛。读右图，回答下列小题。



(1) 图中序号与地理事物对应正确的是 ( )

- A. ①——江苏省
- B. ②——琉球群岛
- C. ③——澎湖列岛
- D. ⑤——钓鱼岛

(2) 下列有关台湾省的叙述，正确的是 ( )

- A. 人口和城市主要分布在东南沿海地区
- B. “进口—加工—出口”型经济特点明显
- C. 日月潭为我国面积最大的淡水湖
- D. 平原面积狭小，主要分布在中部地区

14. 台湾岛大部分河流 ( )

- A. 自西向东注入太平洋
- B. 自东向西注入台湾海峡
- C. 自南向北注入东海
- D. 自北向南注入南海

15. 下列区域与对应称谓相符的一组是 ( )

- A. 台湾省——“东方明珠”
- B. 三江源地区——“世界屋脊”
- C. 塔里木盆地——“干旱的宝地”
- D. 长江三角洲——“白山黑水”

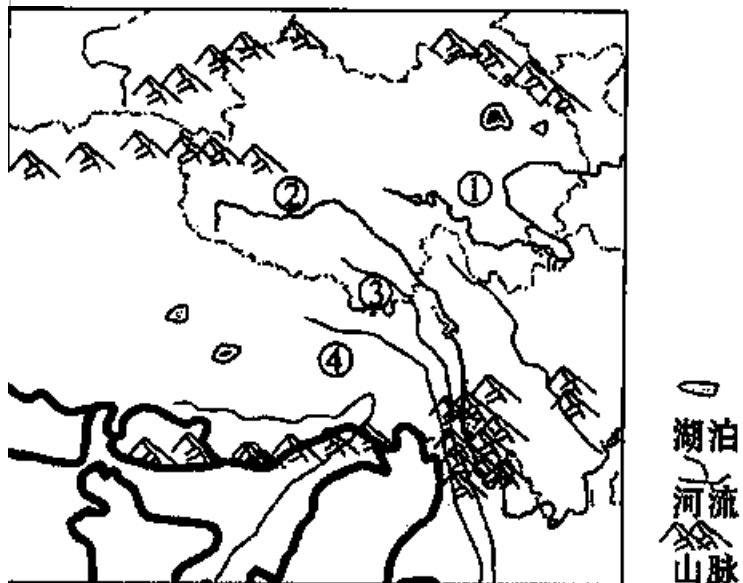
16. 南方地区的主要地形是 ( )

- A. 高原、平原、山地
- B. 高原、山地

C.平原、丘陵、高原

D.高原、盆地、平原、丘陵

17.下图是三江源地区山河分布，读图并结合所学知识回答以下小题。



(1) 图中序号与对应河流名称，正确的是 ( )

A.①—黄河

B.②—澜沧江

C.③—怒江

D.④—长江

(2) 对三江源地区的叙述，不正确的是 ( )

A.东北靠祁连山

B.位于青海省南部

C.草场广布，沼泽密布

D.青藏铁路穿过

(3) 三江源地区成为“野生动物天堂”的原因不正确的是 ( )

A.气候寒冷，天敌较少

B.降水丰富，森林茂密

C.高原湿地，人迹罕至

D.沼泽众多，草原辽阔

(4) 对三江源地区利用和保护的措施，正确的是 ( )

A.河湖沿岸发展种植业

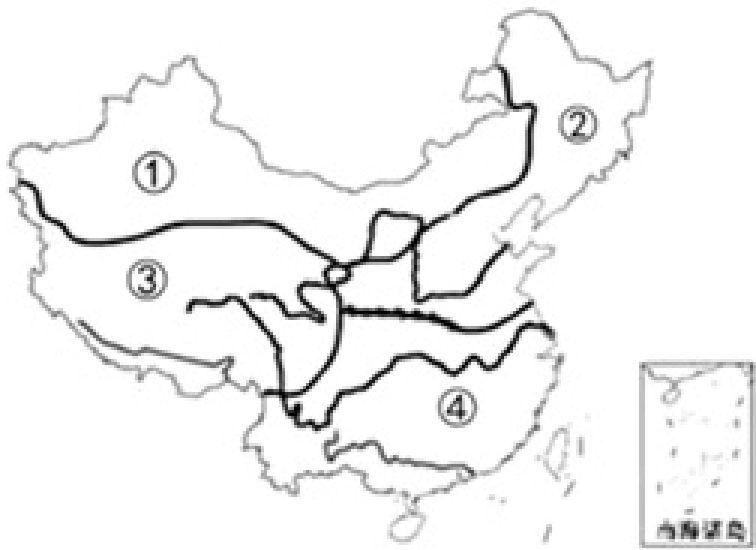
B.开发丰富的矿产资源

C.治理鼠害，全面禁猎

D.控制畜牧业发展

18. 中国国土辽阔，区域差异显著。读“我国四大地理区域示意图”，完成（1）～（3）题。

（1）①是指我国四大地理区域中的（ ）



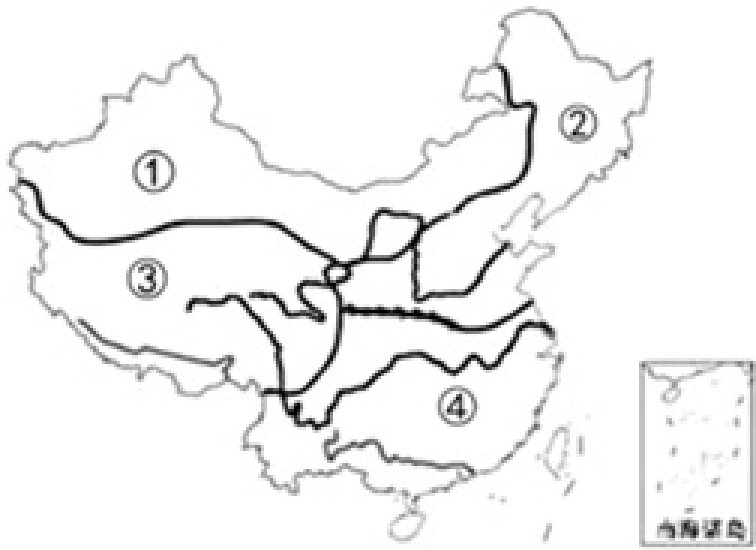
A. 南方地区

B. 北方地区

C. 西北地区

D. 青藏地区

（2）②区域的特色农业是（ ）



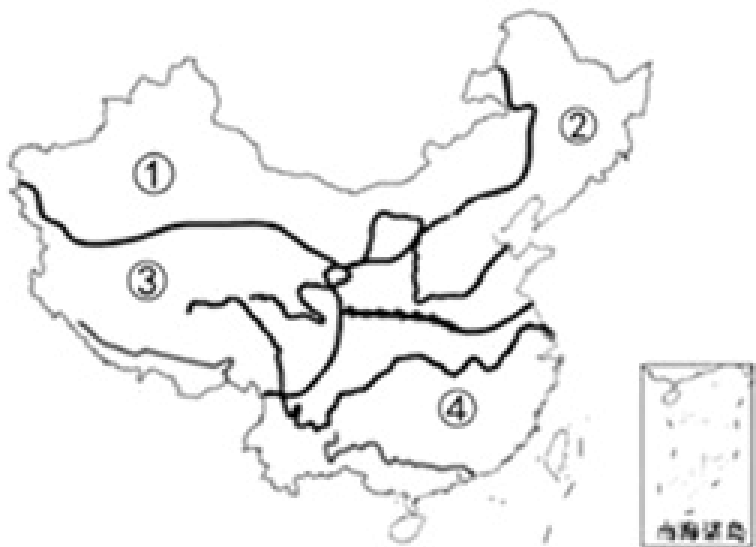
A. 水田农业

B. 旱作农业

C. 灌溉农业

D. 河谷农业

（3）②区域和④区域的分界线是（ ）





A.0°C等温线

B.400mm年等降水量线

C.大兴安岭

D.秦岭——淮河

19.下列灌溉方式属于节水农业的是（ ）

A.推广喷灌、滴灌技术

B.大量使用农药、化肥

C.采用大水漫灌、自流灌溉的灌溉方式

D.选择耗水量大的农作物

20.塔里木盆地的道路主要沿盆地边缘伸展，主要原因是（ ）

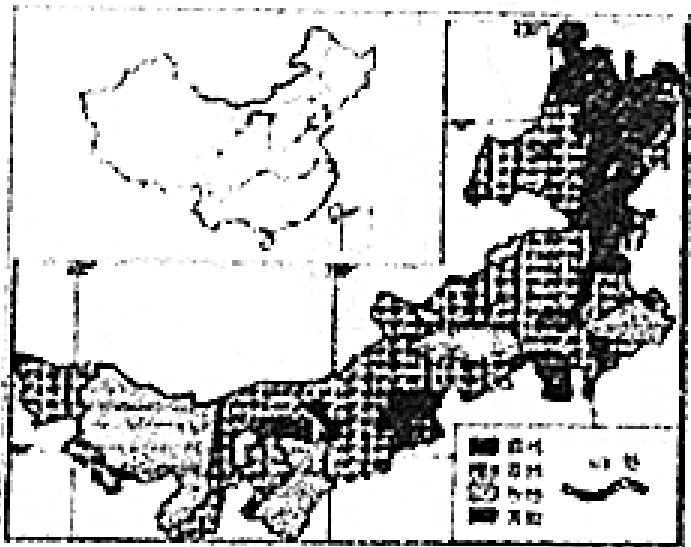
A.水源条件较好，人口较多

B.盆地边缘距离较短，减少运输成本

C.盆地边缘地势平坦，减少建设成本

D.光热资源丰富，土地肥沃

21.如图示意内蒙古自治区植被景观分布，读图完成(1)□(3)题。



(3)内蒙古自治区最主要的农业生产部门是（ ）

A.林业

B.牧业

C.种植业

D.渔业

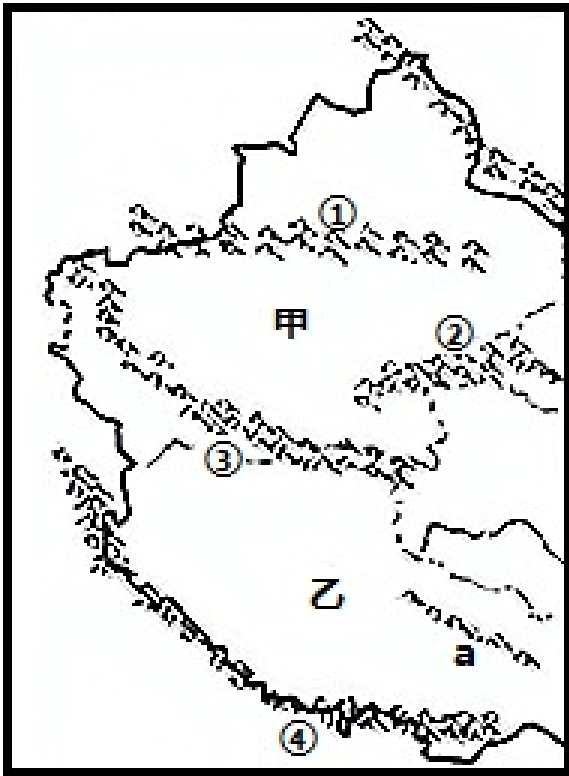
22.北半球一年中最高气温出现在（ ）

B.7月的海洋

C.1月的陆地

D.1月的海洋

23.读“我国局部地区示意图”，完成下面小题。



(1) 关于图中地理事物的判断，不正确的是 ( )

A.山脉①是天山，②是阿尔金山

B.③山脉处在我国地势的第一、二级阶梯分界线上

C.a区域为三江源，位于西藏南部

D.④是世界最高峰，位于中国和尼泊尔交界处

(2) 关于图中甲乙两地区种植业和主要农作物的组合，正确的是 ( )

A.甲-河谷农业-青稞

B.乙-水田农业-水稻

C.甲-绿洲农业-棉花

D.乙-旱地农业-谷子

24.根据课外知识，我知道藏族全民族信仰的喇嘛教属于 ( )

A.藏外基督教

B.藏传佛教

C.藏传伊斯兰教

D.藏传道教

- A.绿洲农业
- B.河谷农业
- C.灌溉农业
- D.基塘农业

26. 儿歌“插艾叶，挂香囊；五彩线，手腕绑；吃粽子，沾白糖；龙舟下水喜洋洋”反映生活之趣，传承中华优秀传统文化，蕴含丰富的地理知识。读洞庭湖水系示意图和图片，回答(1)~(3)题。



汨罗江国际龙舟节

与此节日相关的汨罗江属于( )

- A.黄河水系
- B.淮河水系
- C.长江水系
- D.珠江水系

27. 青藏高原主要的自然特征是( )

- A.干旱
- B.炎热
- C.高寒
- D.湿润

28. 下列开发大西北的自然条件中，主要有利和制约经济发展的自然资源组合正确的是( )

- A.土地面积广阔——水
- B.矿产资源丰富——光照

--森林

D.宜耕荒地广阔--平原

29.世界各国的经济发展存在很大的差异，下列均属发展中国家的一组是（ ）

A.中国、印度

B.日本、巴西

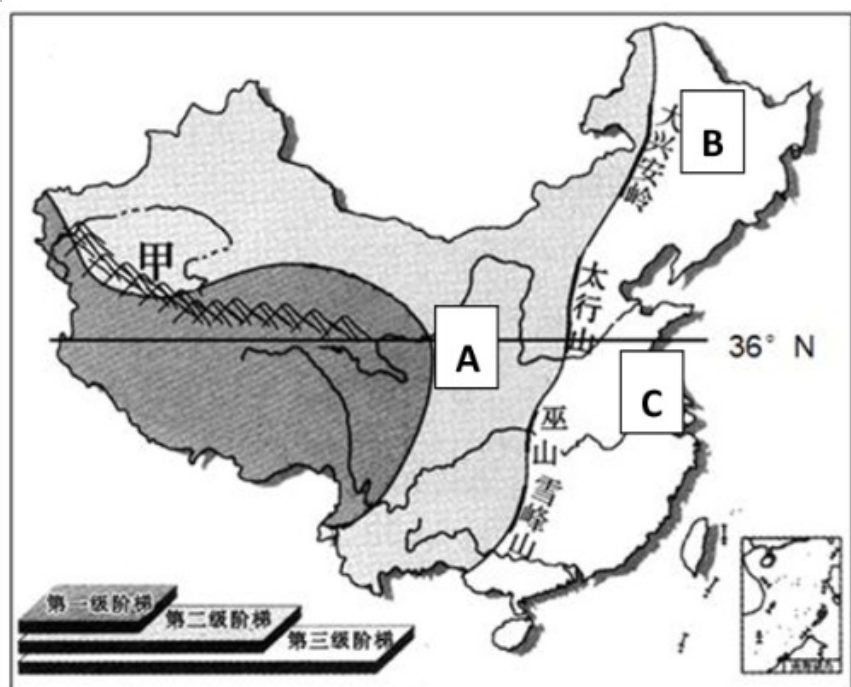
C.澳大利亚、美国

D.加拿大、南非

二、解答题（本题共计 4 小题，每题 10 分，共计 40 分）

30.读材料，完成下列问题。

材料一：长江中下游平原是中国重要的粮、油、棉生产基地，亦为中国水资源最丰富的地区。长江天然水系及纵横交错的人工河渠使该区成为中国河网密度最大地区。同时该区是中国淡水湖群分布最集中地区，著名淡水湖有鄱阳湖、洞庭湖等。长江中下游平原河道纵横，平原区水流平稳，水量丰富，是中国内河航运最发达的地区。



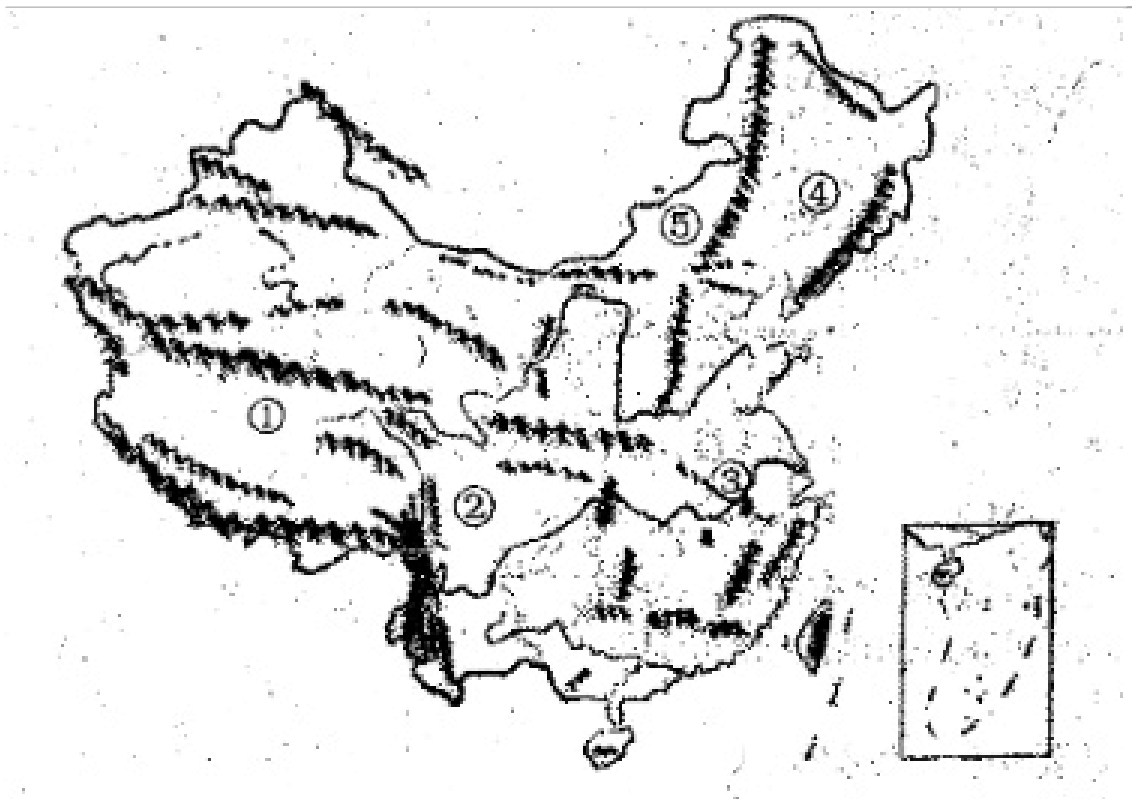
(1) 我国地势特点是\_\_\_\_\_高\_\_\_\_\_低，呈\_\_\_\_\_级阶梯分布。第一阶梯的主要地理单元是\_\_\_\_\_高原。C处的地理单元是\_\_\_\_\_平原。

(2) 黄河流经A处时，水能资源丰富的原因在于？

(3) B地的地方时比A地早的原因是？

(4) C地是我国重要的商品粮基地，请简单说明当地农业发达的原因？

31.读下图，回答下列有关问题。



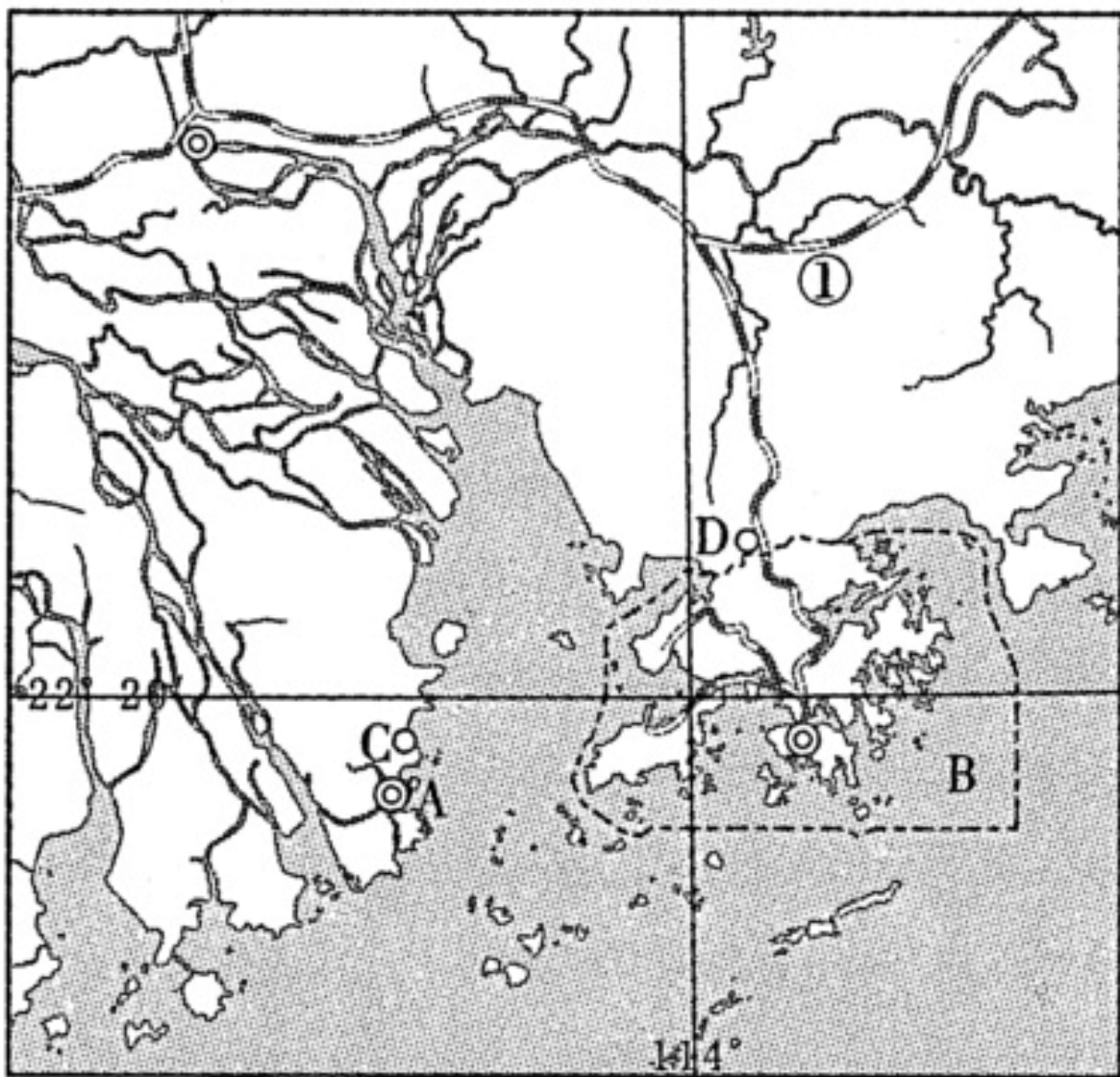
填出字母所代表的地形区：

①\_\_\_\_\_高原 ②\_\_\_\_\_盆地 ③\_\_\_\_\_平原

(2) ④与⑤之间是山脉\_\_\_\_\_。

(3) 我国地势的主要特点是\_\_\_\_\_。

32. 读珠江三角洲地区图，回答问题。（每空1分，共4分）



(1) 特别行政区：A\_\_\_\_\_。

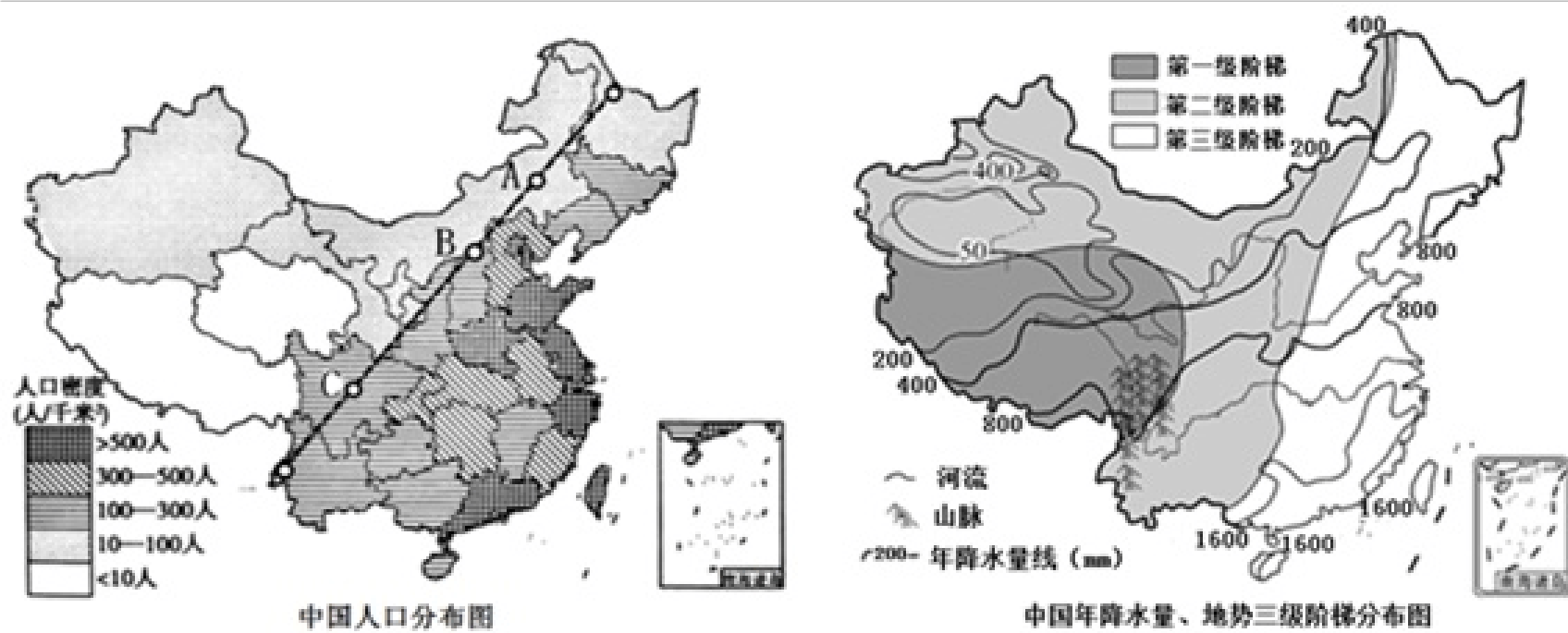
(2) 经济特区：D\_\_\_\_\_。

(3) 改革开放初期，港澳与珠江三角洲的合作是“前店后厂”，其中“厂”是\_\_\_\_\_。

(4) 港澳与祖国大陆的合作优势互补，互惠互利。港澳的优势是\_\_\_\_\_。（一点）

33. 结合图文资料，回答下列问题。

材料 《中国国家地理》杂志推出的“慢步中国”专辑中，有一条慢步路线是“走胡线”（即“胡焕庸线”，指黑河—腾冲两地的连线），漫步在这条线上可以体验到我国多样的自然环境和人文环境。



图中虚线为胡焕庸线，它的两端分别位于\_\_\_\_\_省的黑河市和\_\_\_\_\_省的腾冲县，该线以东以南地区人口\_\_\_\_\_，地形类型以\_\_\_\_\_、丘陵、盆地等为主，气候以\_\_\_\_\_气候为主。

(2) A点所在省区的主要少数民族是\_\_\_\_\_族。

(3) B点位于我国\_\_\_\_\_毫米年等降水量线上，该等降水量线是我国\_\_\_\_\_的分界线。

(4) C点位于\_\_\_\_\_盆地，该盆地位于我国地势第\_\_\_\_\_级阶梯。

# 学年全国初中八年级上地理人教版期末 试卷

一、选择题（本题共计 29 小题，每题 2 分，共计 58 分）

【答案】

A

【考点】

我国人类活动的区域差异

【解析】

依据我国四大地理区域的地理特点和人文特点来解答此题。

【解答】

解：南方地区气候温暖、降水丰富，河湖纵横交错，由于气温的原因，河流终年通航，在缺少现代交通工具的时代，人们以水上运输为主，一直延续到现在，其传统交通工具是船。

故选：A.

2.

【答案】

D

B

【考点】

东北地区

影响工业的因素

【解析】

- (1) 本题主要考查影响工业的区位因素。
- (2) 本题主要考查东北老工业基地可持续发展的措施。

【解答】

(1) 读图可知，美国东北部工业区主要包括阿巴拉契亚山脉的北部和西部和五大湖区两部分，这里矿产资源丰富。我国的东北部工业区是我国最重要的重工业区，这里矿产资源也十分丰富。所以两地工业分布的共同点是靠近原料和燃料产地。

以上内容仅为本文档的试下载部分，为可阅读页数的一半内容。如要下载或阅读全文，请访问：<https://d.book118.com/946222104205010042>