

乌龙木齐第四中学数学七年级上册整式的加减定向攻克

考试时间：90 分钟；命题人：教研组

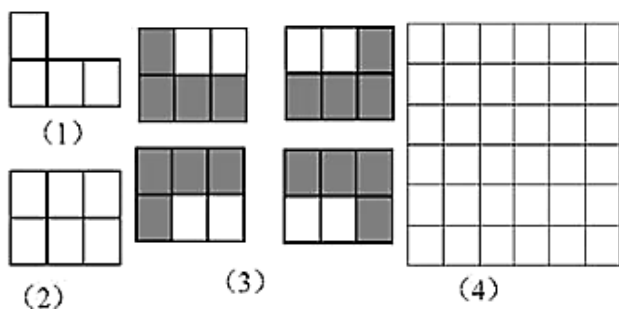
考生注意：

- 1、本卷分第 I 卷（选择题）和第 II 卷（非选择题）两部分，满分 100 分，考试时间 90 分钟
- 2、答卷前，考生务必用 0.5 毫米黑色签字笔将自己的姓名、班级填写在试卷规定位置上
- 3、答案必须写在试卷各个题目指定区域内相应的位置，如需改动，先划掉原来的答案，然后再写上新的答案；不准使用涂改液、胶带纸、修正带，不按以上要求作答的答案无效。

第 I 卷（选择题 20 分）

一、单选题（10 小题，每小题 2 分，共计 20 分）

- 1、下列图中所有小正方形都是全等的。图（1）是一张由 4 个小正方形组成的“L”形纸片，图（2）是一张由 6 个小正方形组成的 3×2 方格纸片。把“L”形纸片放置在图（2）中，使它恰好盖住其中的 4 个小正方形，共有如图（3）中的 4 种不同放置方法，图（4）是一张由 36 个小正方形组成的 6×6 方格纸片，将“L”形纸片放置在图（4）中，使它恰好盖住其中的 4 个小正方形，共有 n 种不同放置方法，则 n 的值是（ ）



- A. 160 B. 128 C. 80 D. 48
- 2、下列代数式中是二次三项式的是（ ）
- A. $2x + x^2 - x^3$ B. $x^2 + 2xy + y^2$ C. $2(m^2 - mn)$ D. $a^3 + 2a^2 - 1$
- 3、已知 $5a^{x+1}b^3$ 与 $\frac{7}{12}a^5b^{y+1}$ 的和是单项式，则 $x+3y$ 等于（ ）

- A. -10 B. 10 C. 12 D. 15

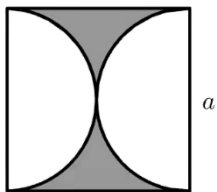
4、对于式子 $\frac{x+2y}{2}, \frac{a}{2h}, \frac{1}{2}, 3x^2+5x-2, abc, 0, \frac{x+y}{2x}, m$ ，下列说法正确的是（ ）

- A. 有 5 个单项式，1 个多项式
 B. 有 3 个单项式，2 个多项式
 C. 有 4 个单项式，2 个多项式
 D. 有 7 个整式

5、给定一系列按规律排列的数： $1, \frac{4}{3}, \frac{3}{2}, \frac{8}{5}, \dots$ ，则这列数的第 9 个数是（ ）

- A. $\frac{9}{10}$ B. $\frac{9}{5}$ C. $\frac{16}{9}$ D. $\frac{20}{11}$

6、如图所示，边长为 a 的正方形中阴影部分的周长为（ ）



- A. $a^2 - \frac{1}{4} \pi a^2$ B. $a^2 - \pi a^2$
 C. $2a + \pi a$ D. $2a + 2\pi a$

7、下列去括号错误的个数共有（ ）。

- ① $2y^2 - (3x - y + 3z) = 2y^2 - 3x - y + 3z$; ② $9x^2 - [y - (5z + 4)] = 9x^2 - y + 5z + 4$;
 ③ $4x + [-6y + (5z - 1)] = 4x - 6y - 5z + 1$; ④ $-(9x + 2y) + (z + 4) = -9x - 2y - z - 4$.

- A. 0 个 B. 1 个 C. 2 个 D. 3 个

8、下列各组中的两项，不是同类项的是（ ）

A. $-x^2y$ 和 $2x^2y$

B. 2^3 和 3^2

C. $-m^3n^2$ 与 $\frac{1}{2}m^2n^3$

D. $2\pi R$ 与 π^2R

9、下列计算的结果中正确的是 ()

A. $6a^2 - 2a^2 = 4$

B. $a+2b=3ab$

C. $2xy^3 - 2y^3x=0$

D. $3y^2+2y^2=5y^4$

10、用实际问题表示代数式 $3a+4b$ 意义不正确的是 ()

A. 3kg 单价为 a 元的苹果与 4kg 单价为 b 元的梨的价钱和

B. 3 件单价为 a 元的上衣与 4 件单价为 b 元的裤子的价钱和

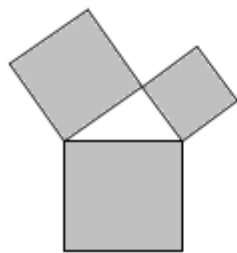
C. 单价为 a 元/吨的 3 吨水泥与 4 箱 b 千克的行李

D. 甲以 a km/h 的速度行驶 3h 与乙以 b km/h 的速度行驶 4h 的路程和

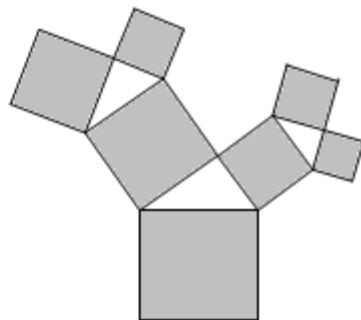
第 II 卷（非选择题 80 分）

二、填空题（10 小题，每小题 3 分，共计 30 分）

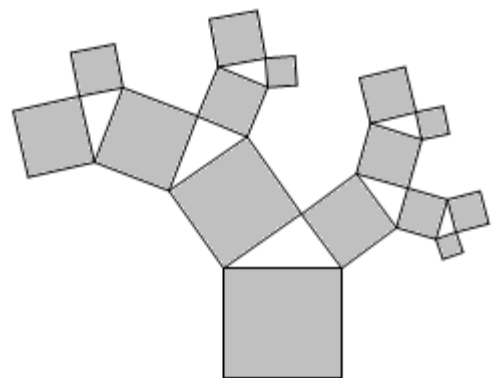
1、“勾股树”是以正方形一边为斜边向外作直角三角形，再以该直角三角形的两直角边分别向外作正方形，重复这一过程所画出来的图形，因为重复数次后的形状好似一棵树而得名。假设如图分别是第一代勾股树、第二代勾股树、第三代勾股树，按照勾股树的作图原理作图，则第六代勾股树中正方形的个数为_____。



第一代勾股树



第二代勾股树



第三代勾股树

2、已知 $A-B=3x^2-2x+1$, $B-C=4-2x^2$, 则 $C-A=$ _____。

3、在代数式 $3xy^2$, m , $6a^2 - a + 3$, 12 , $4x^2yzx - \frac{1}{5}xy^2$, $\frac{2}{3ab}$ 中, 单项式有_____个.

4、单项式 $\frac{2x^2y}{3}$ 的系数是_____, 次数是_____.

5、如果多项式 $4x^3 - 2x^2 - (kx^2 + 17x - 6)$ 中不含 x^2 的项, 则 k 的值为_____.

6、多项式 $a^3b - a^2 + 3ab^2 - 4a^5 + 3$ 是_____次_____项式, 按 a 的降幂排列的结果_____.

7、按一定规律排列的单项式: $-a^2$, $4a^3$, $-9a^4$, $16a^5$, $-25a^6$, \dots , 第 n 个单项式是_____.

8、若多项式 $(k-1)x^2 + 3x^{|k+2|} + 2$ 为三次三项式, 则 k 的值为_____.

9、已知 $|a+2| + (b-3)^2 = 0$, 则单项式 $-2^2x^{a+b}y^{b-a}$ 的系数是_____, 次数是_____.

10、 $\left(2x^2 - \frac{2}{3}x + 1\right) - \underline{\hspace{2cm}} = 3x^2 - 2x + 5$.

三、解答题 (5 小题, 每小题 10 分, 共计 50 分)

1、如图, 在一个长方形休闲广场的四角都设计一块半径相同的四分之一圆形的花坛. 若圆形的半径为 r m, 广场长为 a m, 宽为 b m.



(1) 列式表示广场空地的面积;

(2) 若广场的长为 500m, 宽为 200m, 圆形花坛的半径为 20m, 求广场空地的面积 (计算结果保留 π).

2、用同样大小的两种不同颜色 (白色、灰色) 的正方形纸片, 按如图方式拼成长方形.

[观察思考]

第 (1) 个图形中有 $2 = 1 \times 2$ 张正方形纸片;

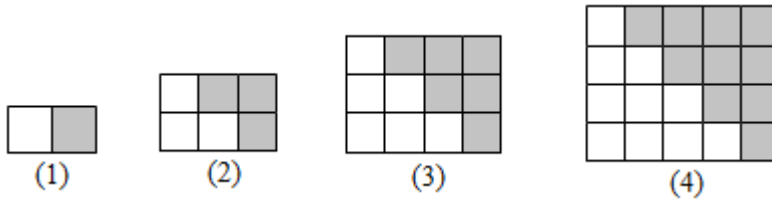
第（2）个图形中有 $2 \times (1 + 2) = 6 = 2 \times 3$ 张正方形纸片；

第(3)个图形中有 $2 \times (1+2+3) = 12 = 3 \times 4$ 张正方形纸片；

第(4)个图形中有 $2 \times (1+2+3+4) = 20 = 4 \times 5$ 张正方形纸片；

.....

以此类推



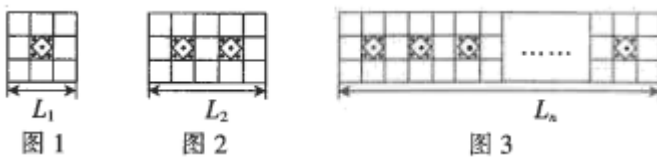
(1) [规律总结] 第(5)个图形中有_____张正方形纸片(直接写出结果)。

(2) 根据上面的发现我们可以猜想: $1+2+3+\dots+n =$ _____。(用含 n 的代数式表示)

(3) [问题解决] 根据你的发现计算: $101+102+103+\dots+200$ 。

3、已知单项式 $-2x^2y$ 的系数和次数分别是 a , b 。求 $a^b - ab$ 的值。

4、为给同学们创造更好的读书条件, 学校准备新建一个长度为 L 的读书长廊, 并准备用若干块带有花纹和没有花纹的两种大小相同的正方形地面砖搭配在一起, 按如图所示的规律拼成图案铺满长廊, 已知每块正方形地面砖的边长均为 0.6m 。



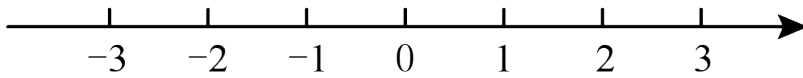
(1) 按图示规律, 第一个图案的长度 $L_1 =$ _____ m ; 第二个图案的长度 $L_2 =$ _____ m 。

(2) 请用式子表示长廊的长度 L_n , 与带有花纹的地面砖块数 n 之间的关系。

(3) 当长廊的长度 L 为 60.6m 时, 请计算出所需带有花纹的地面砖的块数。

5、在数轴上点 A 表示数 a , 点 B 表示数 b , 点 C 表示数 c , 并且 a 是多项式 $-x^2 - 3x + 1$ 的二次项系数, b 是绝对值最小的数, c 是单项式 $-\frac{1}{2}x^2y$ 的次数。请直接写出 a 、 b 、 c 的值并在数轴上把点 A , B , C

表示出来.



-参考答案-

一、单选题

1、A

【解析】

【分析】

先计算出 6×6 方格纸片中共含有多少个 3×2 方格纸片，再乘以4即可得.

【详解】

由图可知，在 6×6 方格纸片中， 3×2 方格纸片的个数为 $5\times 4\times 2 = 40$ （个）

则 $n = 40\times 4 = 160$

故选：A.

【考点】

本题考查了图形类规律探索，正确得出在 6×6 方格纸片中， 3×2 方格纸片的个数是解题关键.

2、B

【解析】

【分析】

根据多项式的次数和项数的概念，逐一判断即可.

【详解】

解：A. $2x + x^2 - x^3$ 是三次三项式，不符合题意，

B. $x^2 + 2xy + y^2$ 是二次三项式，符合题意，

C. $2(m^2 - mn)$ 是二次二项式，不符合题意，

D. $a^3 + 2a^2 - 1$ 是三次三项式，不符合题意，

故选 B.

【考点】

本题主要考查多项式的次数和项数，掌握多项式的次数是多项式的最高次项的次数，是解题的关键.

3、B

【解析】

【分析】

由同类项的含义可得： $x+1=5, y+1=3$ ，再求解 x, y ，再代入代数式求值即可得到答案.

【详解】

解：因为 $5a^{x+1}b^3$ 与 $\frac{7}{12}a^5b^{y+1}$ 的和是单项式，所以它们是同类项，

所以 $x+1=5, y+1=3$ ，

解得 $x=4, y=2$.

所以 $x+3y=4+3\times 2=10$.

故选：B.

【考点】

本题考查的是同类项的含义，一元一次方程组的解法，代数式的值，掌握同类项的概念是解题的关键.

4、C

【解析】

【分析】

分别利用多项式以及单项式的定义分析得出答案.

【详解】

有 4 个单项式: $\frac{1}{2}$, abc , 0 , m ;

2 个多项式: $\frac{x+2y}{2}$, $3x^2+5x-2$.

共有 6 个整式.

综上, 有 4 个单项式, 2 个多项式.

故选: C.

【考点】

本题主要考查了多项式以及单项式, 正确把握相关定义是解题关键.

5、B

【解析】

【分析】

把数列 $1, \frac{4}{3}, \frac{3}{2}, \frac{8}{5}, \dots$ 变 $\frac{2}{2}, \frac{4}{3}, \frac{6}{4}, \frac{8}{5}, \dots$, 分别观察分子和分母的规律即可解决问题.

【详解】

解: 把数列 $1, \frac{4}{3}, \frac{3}{2}, \frac{8}{5}, \dots$ 变 $\frac{2}{2}, \frac{4}{3}, \frac{6}{4}, \frac{8}{5}, \dots$,

可知分子是从 2 开始的连续偶数,

分母是从 2 开始的连续自然数,

则第 n 个数为 $\frac{2n}{n+1}$ 所以这列数的第 9 个数是 $\frac{18}{10} = \frac{9}{5}$,

故选: B.

【考点】

本题考查了数字类规律探索，将原式整理为 $\frac{2}{2}, \frac{4}{3}, \frac{6}{4}, \frac{8}{5}, \dots$ ，分别得出分子分母的规律是解本题的关键。

6、C

【解析】

【分析】

圆的周长+2倍正方形的边长等于阴影部分的周长。

【详解】

解：由图像可知：

阴影部分的周长= $2a + \pi a$ ，

故选：C

【考点】

本题考查了代数式和圆的周长，结合题意正确表示代数式是解题的关键。

7、D

【解析】

【分析】

根据整式加减的运算法则进行逐一求解判断即可。

【详解】

解：① $2y^2 - (3x - y + 3z) = 2y^2 - 3x + y - 3z$ ，故此项错误；

② $9x^2 - [y - (5z + 4)] = 9x^2 - y + 5z + 4$ ，故此项正确；

③ $4x + [-6y + (5z - 1)] = 4x - 6y + 5z - 1$ ，故此项错误；

④ $-(9x + 2y) + (z + 4) = -9x - 2y + z + 4$ ，故此项错误；

故选 D.

以上内容仅为本文档的试下载部分，为可阅读页数的一半内容。如要下载或阅读全文，请访问：<https://d.book118.com/958027000104007014>