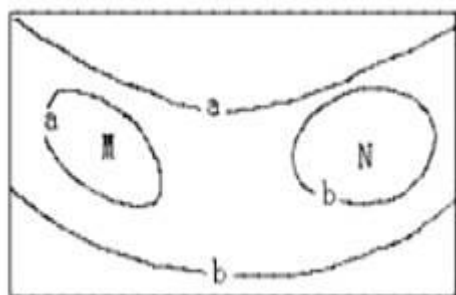


# 2010-2023 历年山东省日照市一中高三上学期第一次月考地理试卷（带解析）

## 第 1 卷

### 一. 参考题库(共 20 题)

1. 读下面的等高线示意图，已知  $a > b$ ，读图回答下列问题：



【小题 1】有关 M、N 两处地形的正确叙述是（ ）

①M 为山坡上的洼地 ②N 为山坡上的洼地 ③M 为山坡上的小丘 ④N 为山坡上的丘

- A. ①②
- B. ①③
- C. ②③
- D. ②④

【小题 2】若 b 海拔高度为 200m, a 海拔高度为 300m, 则 M、N 处的海拔高度为（ ）

- ①  $200 < M < 300$  ②  $300 < M < 400$  ③  $100 < N < 200$  ④  $200 < N < 300$
- A. ①②
- B. ①③
- C. ②③

D. ②④

【小题 3】若图中闭合等高线的高度同为 a 或同为 b，则 M、N 处的地形可能（  
）

①同为洼地 ②同为小丘 ③同为缓坡 ④一处为小丘，一处为洼地

A. ①②

B. ①③

C. ①④

D. ②④

2.我国东部大城市雾霾天气形成的人为因素是

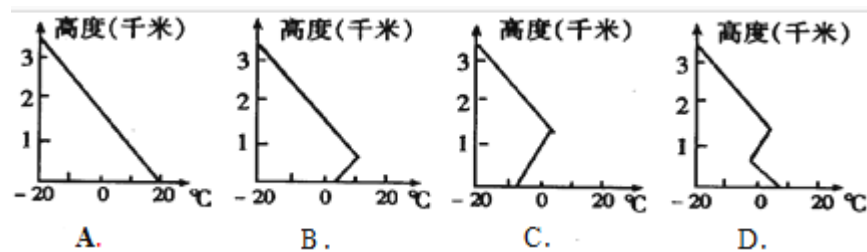
A. 城市规模大、热岛效应显著

B. 汽车数量增长迅速、尾气污染严重

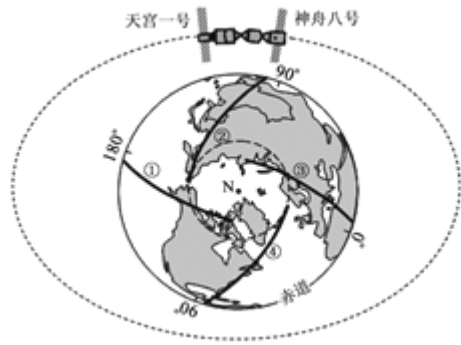
C. 建筑物密集、空气流通不畅

D. 大量使用空调、排放废气多

3.读下列气温垂直分布图，其中最有利于雾霾天气污染物扩散情况的是



4.北京时间 2011 年 11 月 3 日 1 时 36 分 6 秒，“天宫一号”目标飞行器与“神舟八号”飞船成功实现首次交会对接。下图是“神舟八号”与“天宫一号”首次对接空间位置示意图。读图回答下列问题。



【小题 1】首次成功对接时,地球表面的晨线是 ( )

- A. ①线
- B. ②线
- C. ③线
- D. ④线

【小题 2】最可能干扰航天器与地面指挥系统通信联系的是 ( )

- A. 云雾
- B. 流星
- C. 太阳活动
- D. 太阳辐射

【小题 3】“天宫一号”和“神舟八号”第一次成功对接后, 11 月 14 日 20 时又成功完成第二次对接, 下列现象发生在此期间的是 ( )

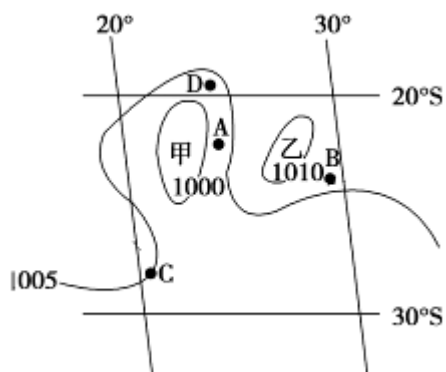
- A. 北京昼短夜长, 且昼变长
- B. 伦敦正午太阳高度一年中最小
- C. 密西西比河正处在丰水期
- D. 南极地区极昼范围逐渐变大

5.易于雾霾天气形成的自然因素是

- A. 雨雪天气

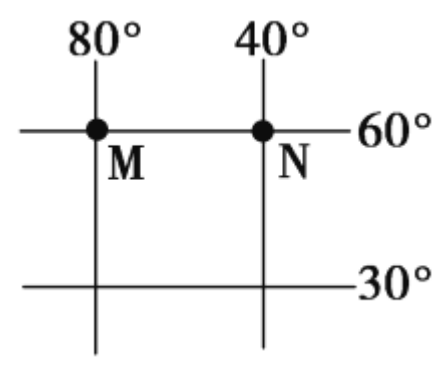
- B. 尘埃颗粒多
- C. 冷空气过境
- D. 暖空气过境

6. 阅读下图（近地面），回答下列问题。（10分）



- (1) 图中甲、乙两个气压中心中高压中心为\_\_\_\_，低压中心为\_\_。（2分）
- (2) 甲、乙两地相比，昼夜温差大的是\_\_\_\_\_，请分析其昼夜温差大的原因（3分）
- (3) 画出 A 地的风向。（1分）
- (4) A、B 两地的风力\_\_\_\_\_大，理由是\_\_\_\_\_。（2分）
- (5) C、D 两地的天气状况一般有何差异？请叙述其成因（2分）

7. 读地球表面某区域的经纬网示意图，回答下列问题。



【小题 1】M 和 N 两点的实际距离约是( )


- A. 4 444 千米

- B. 3 333 千米
- C. 2 222 千米
- D. 1 823 千米

【小题 2】与 M 点关于地心对称的点的坐标为( )

- A. (60°N,80°E)
- B. (60°S,100°E)
- C. (30°S,100°E)
- D. (60°S,80°W)

8.2012 年 5 月 1 日,拍摄者在华北平原看到,日落的位置刚好在某直线铁路的两根铁轨间(如图所示)。据此完成下列问题。



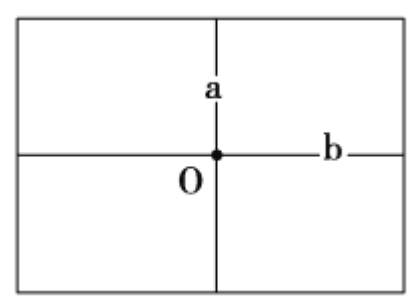
【小题 1】该铁路线的走向为 ( )

- A. 东---西走向
- B. 东南----西北走向
- C. 南---北走向
- D. 东北----西南走向

【小题 2】一年中出现该景象的另一日期约为 ( )

- A. 2012 年 8 月 14 日
- B. 2012 年 10 月 18 日
- C. 2012 年 4 月 5 日
- D. 2012 年 12 月 20 日

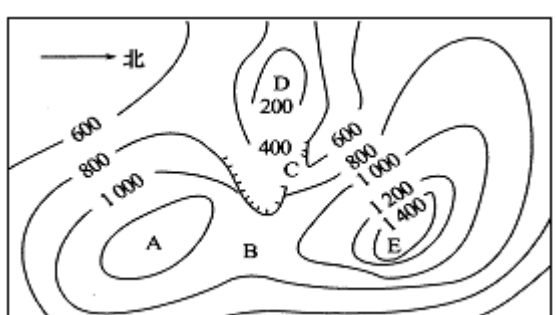
9.下图表示地球局部经纬网,图中三条纵线表示经线,三条横线表示纬线, a、b 相交于点 O。读图完成下题。



如果图中的经纬度差都是 5，则( )

- A. 图中四个方块所表示的面积一定相等
- B. 图中的三条纬线和三条经线的长度一定都相等
- C. 图中的三条经线长度一定相等
- D. 图中 O 点一定在南北回归线之间

10.读下面的等高线图回答下列问题。



【小题 1】图中表示洼地的是

- A. A 处
- B. B 处
- C. C 处
- D. D 处

【小题 2】如果从山麓登山到 E 处，最容易登山的方向是

- A. 西南方向
- B. 西北方向
- C. 东南方向

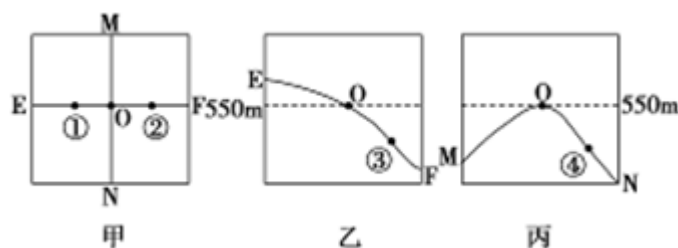
D. 东北方向

【小题 3】图中 D、E 之间的最大高差可能是

A. 1200m B. 1500m C. 1600m D. 1700m

11. 阅读下列材料, 回答相关问题。(10 分)

材料: 2008 年 5 月 12 日, 四川汶川县发生 8.0 级地震, 全国抗震救灾。为给灾区人民选择安全的居住重建地, 某地质工作队通过实地考察测量, 获取了某地形的许多不同位置的高程数据, 并将其传输给某科研院所的研究人员进行计算机分析。但由于病毒感染, 计算机中的许多数据丢失, 最后只得到了如下的沿甲图 EF、MN 所作的地形剖面图乙和图丙。



(1) 请你依据地形剖面图图乙和图丙, 帮助科研院所的研究人员判断该地的地形类型并说明判断理由。(3 分)

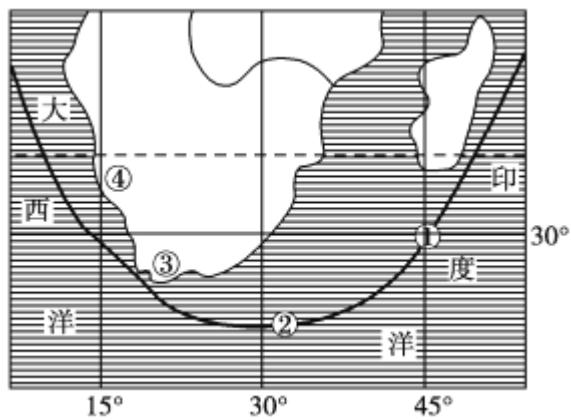
(2) 综合分析甲图, 图中①、②两点相比较, 海拔高度是①\_\_\_\_②, 坡度是①\_\_\_\_②。(填大于或小于) (2 分)

(3) 综合判断③地位于④地的 ( ) (1 分)

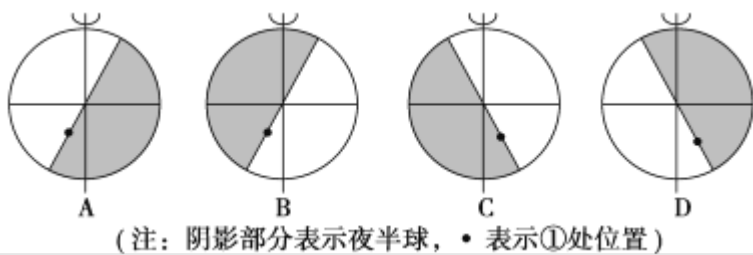
- A. 东南
- B. 东北
- C. 西北
- D. 西南

(4) 结合地形部位特点试在 M、N、E、F 四点中选择一处作为将来的居住重建地, 并说明理由。(4 分)

12. 下图为某区域海上航线示意图。在一艘驶往大西洋的轮船上，船员在图中①处看到了海上日出景观，此时为世界时(中时区区时)4时。读图回答下列问题。



【小题 1】下列四幅图中，与①处当日日出时刻相符的是( )

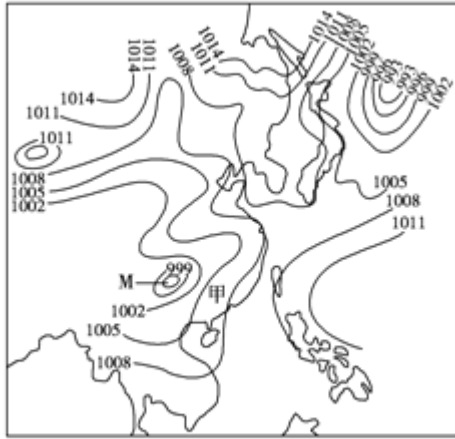


【小题 2】当北京时间为 9:00 时，金砖国家之一南非的比勒陀利亚所在时区(中央经线经度为 30°E)的区时是( )

- A. 3:00
- B. 4:00
- C. 6:00
- D. 15:00

13. 读下图并结合所学知识，回答下列问题。





亚洲东部某日某时地面气压等值线图(单位:百帕)

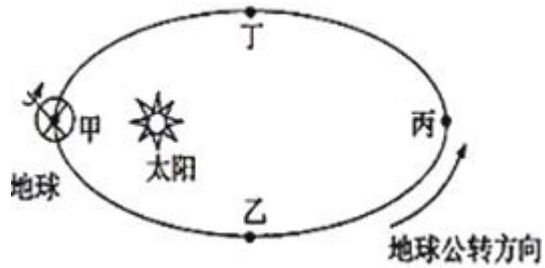
【小题 1】甲地此时的风向是

- A. 东南风
- B. 西北风
- C. 西南风
- D. 东北风

【小题 2】关于图中气压状况的叙述, 正确的是

- A. M 地附近空气冷却下沉形成低压
- B. M 地同纬度的东部海洋上空气受热上升形成高压
- C. 副热带高气压带被陆地上形成的热低压切断
- D. 副极地低气压带被陆地上形成的暖高压切断

14.2012 年 9 月 19 日 3 时 10 分, 我国在西昌卫星发射中心用“长征三号乙”运载火箭, 采用一箭双星方式, 成功将第十四颗和第十五颗北斗导航卫星发射升空并送入预定转移轨道此次北斗导航卫星的成功发射, 标志着我国北斗卫星导航系统快速组网技术日臻成熟, 据此回答下列问题



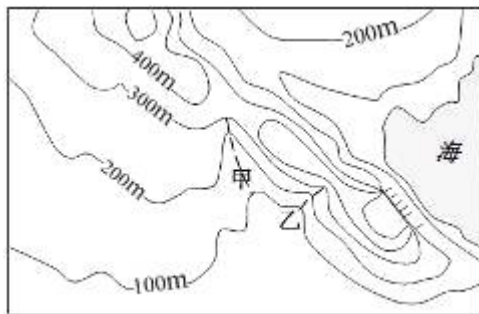
【小题 1】北斗导航卫星发射升空时，地球位于公转轨道的

- A. 甲点附近
- B. 乙点附近
- C. 丙点附近
- D. 丁点附近

【小题 2】此日及以后 3 个月间，下列描述正确的是

- A. 北京的正午太阳高度达一年中最大值
- B. 北半球昼短夜长，夜渐短
- C. 地球的公转速度逐渐减慢
- D. 太阳直射点向南移动，南半球昼变长

15. 等高线地形图可以帮助人们正确认识地形地貌。完成下列问题

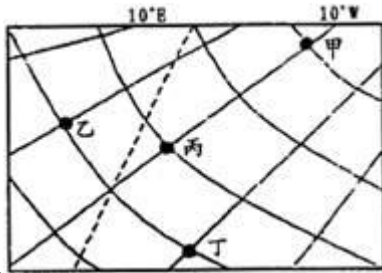


【小题 1】上图地区地形地势的基本特点是

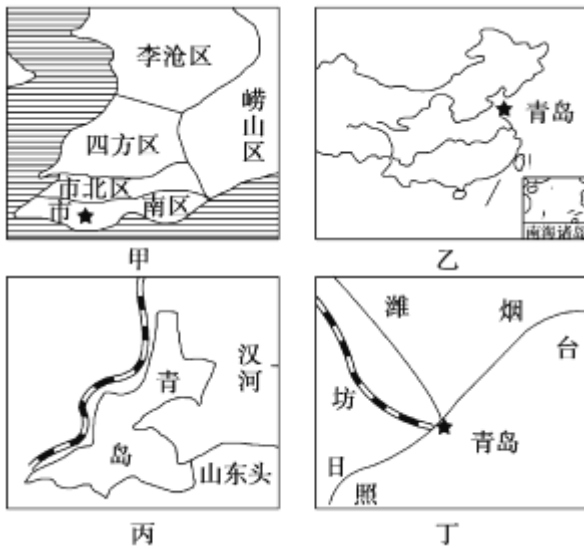
- ①以丘陵、平原为主 ②中部高，西南、东北低
  - ③以平原、盆地为主 ④中部低，西南、东北高
- A. ③④
  - B. ②③
  - C. ①②
  - D. ①④

【小题 2】图中两条虚线所在的地形部位分别是

- A. 山脊、山谷
- B. 山脊、山脊
- C. 山谷、山脊
- D. 山谷、山谷



16. 读下面四幅图，回答下列问题。



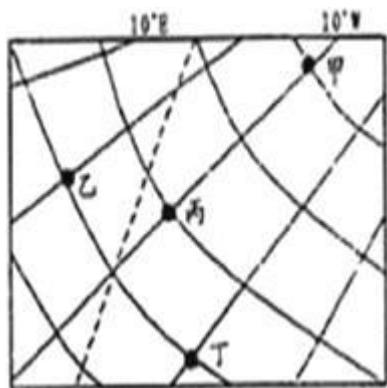
【小题 1】比例尺由大到小排列的叙述，正确的是

- A. 甲丙丁乙
- B. 乙甲丁丙
- C. 丙丁甲乙
- D. 乙丁甲丙

【小题 2】若绘制青岛市崂山区的地形图，应选择哪一种比例尺，图上内容最详细

- A. 1 厘米代表 50 千米
- B. 1/250000
- C. 1:50000
- D. 二百万分之一

17.下图中，相邻经线间的经度差相等，虚线为晨昏线，晨昏圈与极圈相切。据此回答下列问题。



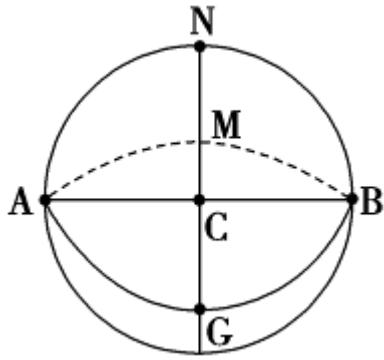
【小题 1】甲地位于乙地的

- A. 西北方向
- B. 西南方向
- C. 东南方向
- D. 东北方向

【小题 2】当图中乙地的时间为 20 点时

- A. 北半球昼长夜短
- B. 全球被平均分为两个日期
- C. 丁地的地方时为 21 点 20 分
- D. 北京时间为次日 4 点

18.读图,N 为北极点,大圆为经线圈,ACB 为赤道,据此完成下列问题。



以上内容仅为本文档的试下载部分，为可阅读页数的一半内容。

如要下载或阅读全文，请访问：

<https://d.book118.com/968066100023007004>