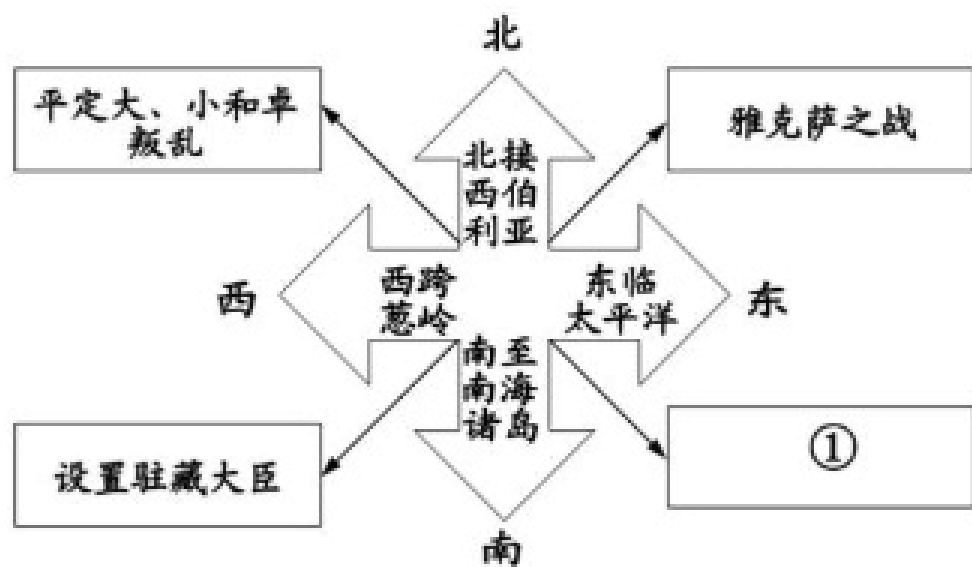


一、选择题（本题共计 19小题，每题 5分，共计95分）

1. 时空观念是了解和理解历史的基础。以下示意图中①处可填（ ）



- A. 设置台湾府
- B. 设置伊犁将军
- C. 设置宣政院
- D. 设置澎湖巡检司

2. 我国古代封建官制中的“丞相”一职，最终在哪个朝代被废止（ ）

- A. 明朝
- B. 秦朝
- C. 汉朝
- D. 元朝

3. 改革与创新是生产力不断发展的动力。唐朝时期改进和创制的两种工具是（ ）

- A. 直辕犁、水排
- B. 曲辕犁、筒车
- C. 水排、筒车
- D. 筒车、翻车

4. 民族团结、民族融合是中国历史发展的主流。唐太宗时期增进汉藏之间友好关系的史实（ ）

- A. 设置驻藏大臣

B.册封达赖五世

C.文成公主入藏

D.金城公主入藏

5. 东“瀛(日本)有多远，芒履难丈量：袈裟作舟帆，风雨莫阻挡”这首诗赞颂的高僧是（ ）

A.蔡伦

B.鉴真

C.玄奘

D.郑和

6. 当时在海上航行时，“舟师（指海上船只航行的管理、技术人员）识地理，夜则观星，昼（白天）则观日（太阳），阴晦（指阴天）则观指南针”，“当时”最早是指（ ）

A.战国时期

B.唐朝

C.北宋

D.元朝

7. 唐玄宗统治前期，出现了封建社会前所未有的盛世景象。这个繁荣盛世局面在历史上被称为（ ）

A.文景之治

B.开皇之治

C.贞观之治

D.开元盛世

8. 他的部队纪律严明，冻死不拆屋，饿死不掳掠，经他抗击金军收复许多失地。他是（ ）

A.李纲

B.寇准

C.岳飞

D.文天祥

9. 在北宋的开封城内有许多娱乐兼营商业的场所，叫做“瓦子”。大的瓦子，可容几千人。瓦子中圈出许多专供演出的圈子，称为“勾栏”。勾栏内商业广告琳琅满目，有各种艺人在这里卖艺谋生，如说书的、唱曲的、演杂剧的、耍杂技的、表演蹴鞠的，令人眼花缭乱。这一现象说明了开封城（ ）

- A.城市规模大
- B.市民生活丰富
- C.贸易往来频繁
- D.文学艺术繁荣

10. 中华民族现在由56个民族组成，在历史上有一个新的民族叫回族形成于（ ）

- A.唐朝
- B.元朝
- C.明朝
- D.清朝

11. PM2.5的持续上升给我们的健康带来了严重危害，为此春节期间全国各地的人们自发少放或不放烟花爆竹。在我国历史上，火药不仅在军事上被广泛使用，人们也用火药制成各种焰火和鞭炮。我国古代用火药广泛运用于战争是在（ ）

- A.西汉
- B.秦朝
- C.唐朝
- D.宋元

12. 词是一种新体诗歌，句子有长有短，也称长短句，便于歌唱。每首词按乐谱要求，有一定的格式，叫词牌。辛弃疾作品的主要特点是（ ）

- A.昂扬进取的精神；蔑视权贵、超凡脱俗的风骨；充满想象力和染力和浪漫情怀
- B.改进了词的创作，扩大了词的境界，提高了词的格调。词风豪迈而飘逸，把写景、抒情、议论结合在一起
- C.词风委婉、细腻、清秀
- D.进一步提高了词的社会功能和在文学史上的地位

13. 我国古代有种文章体裁，每篇由破题、承题、起讲、入手、起股、中股、后股、束股八个部分组成，句型、字数都有严格规定。这种文章体裁是（ ）

- A.律诗
- B.散文
- C.骈文
- D.八股文

14. 下列搭配正确的是 ( )

A. 李时珍——《伤寒杂病论》

B. 吴承恩——《水浒传》

C. 中国十七世纪的工艺百科全书——《长生殿》

D. 清代艺术成就最高的小说——《红楼梦》

15. 德国沃尔夫评价一巨著时说：“(它)是全部天文学和宇宙学思想的基础，详细地阐明了万有引力定律和运动三定律等，委实是个了不起的成就。”这一巨著是 ( )

A. 《天工开物》

B. 《农政全书》

C. 《自然哲学的数学原理》

D. 《物种起源》

16. 明清时期，深刻鞭挞封建制度和封建礼教的罪恶，具有高度思想性和艺术性的古典小说是 ( )

A. 《牡丹亭》

B. 《长生殿》

C. 《红楼梦》

D. 《桃花扇》

17. 同学们使用的历史教科书是按照年代先后顺序编写的，这叫“编年体”，下列在编写体例上与历史教科书类似的是 ( )

A. 《资治通鉴》

B. 《史记》

C. 《窦娥冤》

D. 《牡丹亭》

18. 《荷马史诗》《战争与和平》《红楼梦》这三部文学作品在史学上的共同价值是 ( )

A. 反映了所在国一定时期的社会图景

B. 展现了所在国波澜壮阔的战争场景

C. 揭示了封建制即将没落的历史趋势

D.再现了世界叱咤风云的英雄人物

19. 历代政府都很重视对西藏的管辖。清朝除了册封达赖和班禅外，1727年还设置（ ）管理西藏事务。

- A. 驻藏大臣
- B. 议政王大臣
- C. 军机大臣
- D. 南书房

二、 填空题（本题共计 5 小题，每题 5 分，共计 25 分）

20. 为强化统治基础和在全国扩大统治网，摧毁敌对的家世大族的势力，隋朝最高统治者借鉴和扬弃历史上各种选举制度，结合现实政治的需要，建立了适合自己要求的新型的选官制度。  
\_\_\_\_\_（判断对错）

21. \_\_\_\_\_年，清朝设置台湾府，隶属福建省，加强了中央政府对台湾的管辖，巩固了祖国的东南海防。

22. 嘉庆皇帝平定准葛尔叛乱。\_\_\_\_\_（判断对错）

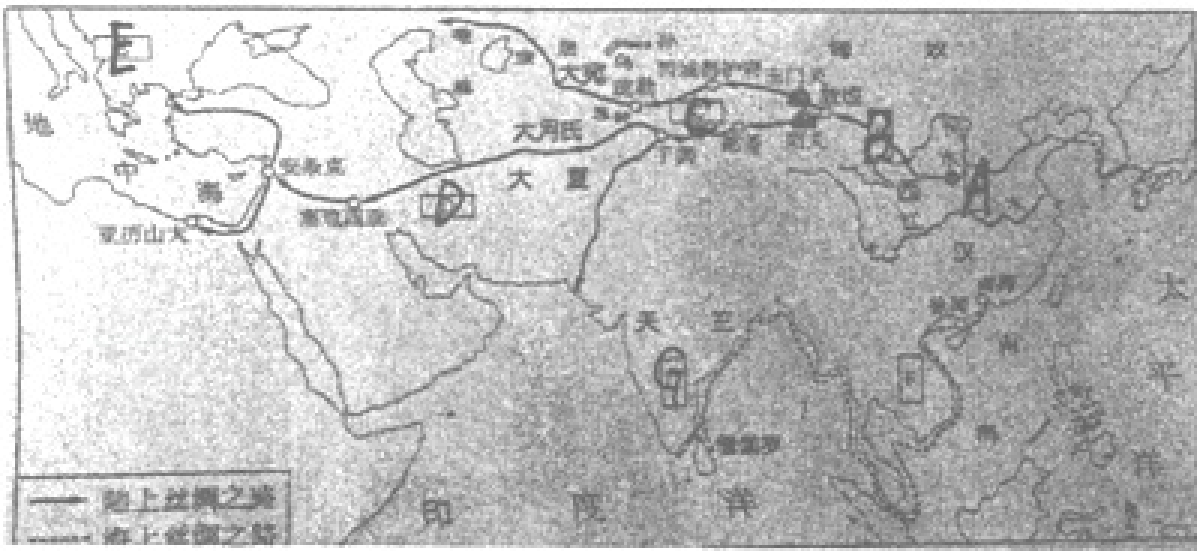
23. 对号连线（将答案对应的字母填在对应的括号内）

(1) 罗贯中 ( )	A. 抗元英雄
(2) 宋应星 ( )	B. 《天工开物》
(3) 李时珍 ( )	C. 《本草纲目》
(4) 司马光 ( )	D. 领导抗倭战争
(5) 戚继光 ( )	E. 《资治通鉴》
(6) 文天祥 ( )	F. 《三国演义》

24. 某班研究性学习布置主题为“探寻丝绸之路”的展板，现邀请你一起参与展板的设计与布置。  
板块一：邮票中的“凿空西域”



中国邮政于2017年9月20日发行的纪念某一探险家的特种邮票



汉代丝绸之路线路图

(1) 依据材料并结合所学，简述该邮票所反映的历史事件。\_\_\_\_\_ (皇帝) 派\_\_\_\_\_ 分别于公元前138年和公元前119年，两次出使西域 (今我国\_\_\_\_\_)，加强了汉朝与西域的友好往来。后来设置了\_\_\_\_\_，是该地区最早归属中央政府的开始。

展板二：地图中的“开辟丝绸”

(2) 依据材料并结合所学，把关于丝绸之路的解说词补充完整。

汉代陆上丝绸之路的起点是A\_\_\_\_\_；穿过中国境内的B\_\_\_\_\_和C\_\_\_\_\_，跨过葱岭，经过西亚的D\_\_\_\_\_，往西可以到达欧洲的汉代称为的E\_\_\_\_\_，往南到达G\_\_\_\_\_。成为沟通东西方的重要桥梁。

展板三：学者眼中的“沟通东西”

内陆的丝绸之路以商队运输形式从中国到罗马帝国，连接了欧亚大陆的两端。丝绸之路也包括海上航运网络，这一网络支撑着东半球大部分地区的海上贸易。丝绸之路上流通着大量的，品种多样的手工业品和农产品。商人；传教士和其他一些旅行者，带着他们的信仰，价值观念和宗教信仰来到远方。

——摘编自《新全球史》

(3) 阅读材料结合所学，写下你心目中的丝绸之路。

丝绸之路是一条\_\_\_\_\_之路，因为\_\_\_\_\_。

三、简答题 (本题共计 6 小题，每题 5 分，共计 30 分)

25. 现在的考试制度来源于中国古代的科举制。

(1) 科举制诞生在哪个朝代？诞生的标志是什么？

(2) 科举制的完善在哪个朝代？

(3) 唐太宗对科举制的贡献是什么？武则天统治时科举制又有哪些变化？

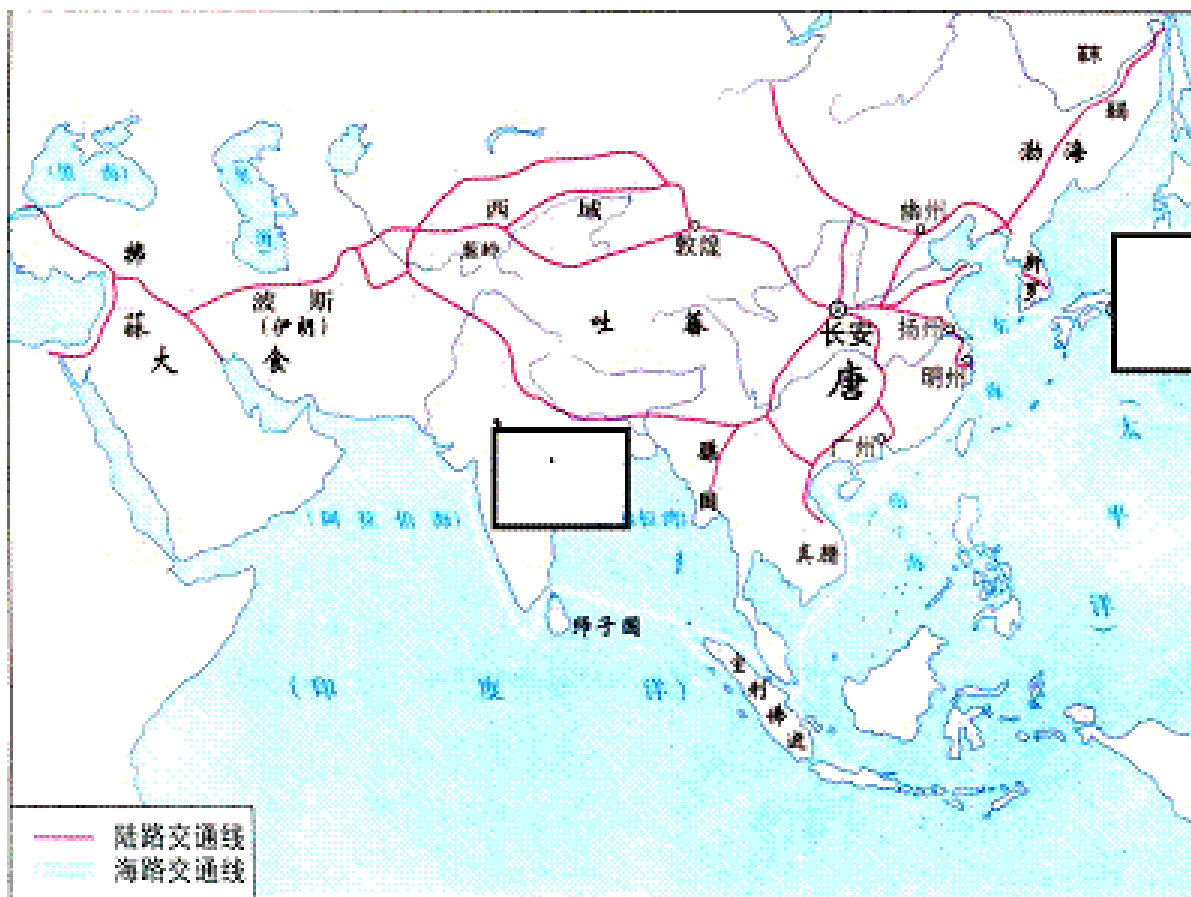
26. 苏“湖熟，天下足”，这是宋朝盛行的一句谚语。据此回答：

此谚语反映了什么现象？该现象最终完成的时间？

27. 简述中国古代由分裂走向统一的四个朝代。

28. 观察《唐朝主要交通路线图》，请将鉴真东渡目的地国家和玄奘西行目的地国家填入答题卡图中

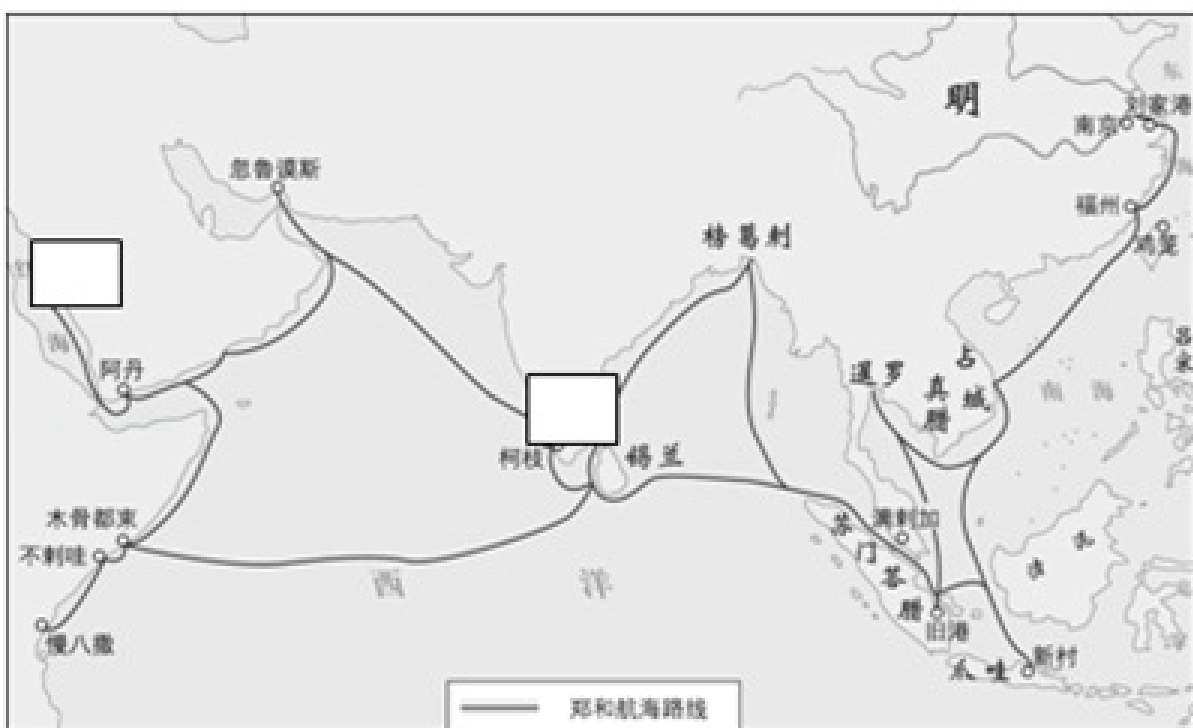




唐朝主要交通路线图

对应的方框内。

29. 观察如图，并在图中填出：



郑和下西洋路线图

A: 郑和下西洋第一次抵达的地方

B: 郑和下西洋第四次到达的地方

30. 小明认为唐太宗李世民统治时期，政治清明，经济发展，手下名臣房玄龄是他的镜子；史称“开元盛世”。你认为小明同学的观点是否正确？请说明理由。

四、材料分析题（本题共计 4 小题，每题 5 分，共计 20 分）

31. 阅读材料，回答问题。

宋人改变了以往自给自节的节日消费习惯。杭都风俗，自初一至端午日，家家买桃、柳、石榴、蒲叶、艾草、时令水果等，像粽子这样的节日象征物也在市场上购买。北宋文学家宋庠还描述了寒食节的各种活动：酒市上弹奏管弦卖酒；陆地上斗鸡、踢球、吹箫；水面上竞船、击鼓、弹笳。热热闹闹，一派繁荣景象。原来仅用于军事上的纸鸢成为清明节的娱乐活动——放风筝，并由宫廷逐渐扩展至民间。

在宋代民风民俗以及市民文化的影响和作用下，节日市场更强调好吃、好喝、好看和好玩，这为各类文化娱乐发展提供了依据和空间。

-- 摘编自张金花等《历史视阈下的经济与文化--宋代城镇节日市场探析》

(1) 依据材料,对以下表述作出判断。直接从材料中得出的,画“√”;违背材料所表达意思的,画“×”;材料没有涉及的,画“○”。

- ①宋代节日习惯、习俗与以往相比有所变化。\_\_\_\_\_
- ②宋人过节从市场购买饮食主要是因为宋代水陆交通方便。\_\_\_\_\_
- ③宋代的节日更加市场化。\_\_\_\_\_
- ④宋人在清明节放风筝是为了满足军事需求。\_\_\_\_\_

(2) 作为中华文化的继承者和弘扬者,我们应该如何继承和弘扬传统文化?

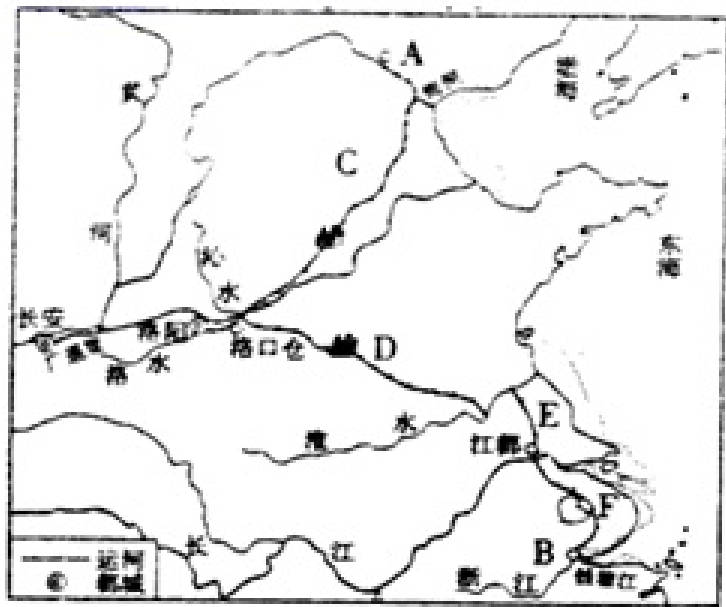
32. 阅读材料,完成下列要求。

材料:电影《戚继光》梗概:戚继光幼年时十分好动。虽然家境贫寒,但是他喜欢读书,通晓儒经、史籍。1544年继承祖上的职位,任登州卫指挥僉事。1546年,戚继光负责管理登州卫所的屯田事务,当时山东沿海一带遭受到倭寇的烧杀抢掠。戚继光有心杀贼,写下了“封侯非我意,但愿海波平”的诗句。1553年戚继光受张居正的推荐进署都指挥僉事一职,管理登州、文登、即墨三营二十五个卫所,防御山东沿海的倭寇。1555年戚继光被调往浙江都司僉事并担任参将一职,防守宁波、绍兴、台州三郡。戚继光到浙江赴任后,招募了三千彪悍金华、义乌人,将其练成一支精锐的部队--“戚家军”,并针对当地山陵沼泽道路崎岖、倭寇又善于设伏、不好短兵相接这一特点,创造了“鸳鸯阵”。戚继光又给他的部队配备火器、狼筅等兵械、战舰等装备,经岑港之战、台州之战等战斗,最终肃清倭寇之患。戚家军因此名闻天下。

结合中国古代史的所学知识,从上述电影梗概中提取一个情节,指出它所反映的中国明朝的重大历史现象,并概述(叙述或简介)和评价该历史现象。(要求:简要写出所提取的电影情节及历史现象,对历史现象的概述(简述或简介)和评价比较准确全面。)

33. 阅读下列材料,回答问题

材料一



材料二 (隋炀)帝谓给事郎蔡征曰:“自古天子有巡狩之礼;而江东诸帝多傅脂粉,坐深宫,不与百姓相见,此何理也?”对曰:“此其所以不能长世”

-- 《资治通鉴》

材料三 隋炀帝“将兴辽东之役(攻打高丽)自洛口开渠,达于涿郡,以通运漕”。

- (1) 材料一中大运河两端城市A、B分别是哪里? C、D、E、F分别是哪一段?
- (2) 大运河的开通与隋朝哪位皇帝有关? 结合所学知识和材料二、三,试说明他开凿运河的主要目的是什么。
- (3) 结合材料和所学知识说说大运河开通有什么重要意义?
- (4) 隋朝大运河在世界运河史上有什么地位?

34. 阅读材料,完成下列要求。

材料一 隋唐时期,人们已使用雕版印刷。但是,雕版印刷费时费料,刻印一部书,往往需要几百



甚至上千块雕版。北宋初年，刻印一部《大藏经》用了约13万块雕版，费时12年之久。雕版印刷的缺陷明显制约了文化的发展。

——摘编自七年级历史教科书

材料二 庆历中有布衣毕昇，又为活版。其法用胶泥刻字，薄如钱唇，每字为一印，火烧令坚……若止印三二本，未为简易；若印数十百千本，则极为神速。常作二铁板，一板印刷，一板已自布字。此印者才毕，则第二板已备，更互用之，瞬息可就。

——沈括《梦溪笔谈》

材料三 北宋毕昇发明的活字印刷术直至明朝时期仍未推广。从印刷品的流通欲望与范围来看，是因为古代中国书籍出版内容主要是历书、农书等工具书和儒家经史子集等经典（而且，这些书籍一旦雕刻成版，“易成、难毁、节费、便藏”，且雕版技术已有悠久的历史和成熟的工艺。）……尽管科举考试之后，读书人进一步增多，但印刷品往往局限于科举范围之内。而且作为世界另一半的女性自古就被排斥在才识之外。

——摘编自李瑞娜《毕昇与古登堡为何无法对话》

- (1) 根据材料一，分析指出雕版印刷术的不足及影响。
- (2) 根据材料二和所学知识，分析指出活字印刷术与雕版印刷术相比的优点。
- (3) 根据材料三和所学知识，分析指出活字印刷术直至明朝时期仍未推广的主要原因。

# 学年全国初中七年级下历史人教版期末 试卷

一、选择题（本题共计 19 小题，每题 5 分，共计 95 分）

【答案】

A

【考点】

郑成功收复台湾与清朝在台湾的建制

【解析】

本题主要考查清朝巩固边疆的措施。重点掌握清政府巩固东南边疆采取的措施。

【解答】

根据所学知识可知，在西北，乾隆帝平定大小和卓的叛乱，设置伊犁将军，管辖包括巴尔喀什湖在内的整个新疆地区，巩固了我国的西北边疆，维护了国家的统一，清朝在伊犁、吉林、黑龙江、盛京、乌里雅苏台等地设立了将军，在西北各地设立了参赞大臣等官职，兼管军务和民政，1727年，雍正帝设驻藏大臣，代表中央政府与达赖和班禅共同管理西藏事务。在东北：17世纪中期，沙皇俄国侵入我国黑龙江流域，在中国的领土上，烧杀抢掠。康熙帝时，两次雅克萨之战，打败沙俄侵略者。在东南边疆，1662年，郑成功打败了盘踞在台湾38年的荷兰殖民者，收复了台湾。康熙帝在位时，1683年，清军进入台湾。1684年，清政府设台湾府，隶属福建省。示意图中①处可填设置台湾府；A符合题意。

2.

【答案】

A

【考点】

军机处的设立

清朝文字狱与文化专制政策

【解析】

此题暂无解析

【解答】

项正确；

BCD不符合题意。

3.

【答案】

B

【考点】

隋唐的经济发展

【解析】

本题以改革与创新是生产力不断发展的动力为切入点，考查的是盛唐的社会气象。

【解答】

唐朝在农业方面，兴修水利工程，农耕技术提高，水稻广泛采用育秧移植，唐朝农民改进犁的构造制成曲辕犁，还创制了新式灌溉工具筒车，B选项符合题意。

4.

【答案】

C

【考点】

唐朝的民族关系和民族政策

【解析】

本题以民族团结、民族融合是中国历史发展的主流为依托，考查唐朝的民族关系和民族政策的知识。注意掌握相关基础知识。

【解答】

民族团结、民族融合是中国历史发展的主流。唐太宗时期增进汉藏之间友好关系的史实是文成公主入藏。7世纪前期，吐蕃（今西藏）赞普松赞干布统一青藏高原后，仰慕中原文化，几次向唐求婚。唐朝唐太宗把文成公主嫁给他。文成公主入藏，带去了许多工艺品、谷物、菜籽、药材、茶叶以及历法、生产技术与各种书籍，大大促进了吐蕃经济文化的发展，奠定了汉藏密切交往的基础。C符合题意。

故选C。

5.

【答案】

B

【考点】

**【解析】**

此题暂无解析

**【解答】**

据“东瀛有多远，芒履难丈量。袈裟作舟帆，风雨莫阻挡”，结合所学可知：这首诗赞颂鉴真最合适。唐玄宗时期，高僧鉴真为弘扬佛法，六次东渡，终达日本。到达日本后，鉴真除讲授佛经，还把唐朝的医药、建筑、雕塑、文学、书法、绘画等技术知识介绍到日本，为中日经济文化交流作出了杰出贡献。所以B符合题意；蔡伦改进造纸术，玄奘西行天竺，郑和下西洋，故ACD不符合题意。故选择B。

6.

**【答案】**

C

**【考点】**

指南针和火药的应用和外传

**【解析】**

本题主要考查指南针的相关史实。

**【解答】**

据“舟师（指海上船只航行的管理、技术人员）识地理，夜则观星，昼（白天）则观日（太阳），阴晦（指阴天）则观指南针”可知，题干所说的是指南针，“当时”最早是指北宋。北宋时，制成了指南针，并开始用于航海事业。南宋时指南针广泛用于航海，还由阿拉伯人传入欧洲，为后来欧洲航海家的航海活动创造了条件。

故选C。

7.

**【答案】**

D

**【考点】**

黄巢起义与唐朝灭亡

开元盛世

安史之乱

**【解析】**

B项开皇之治是隋文帝在位时的盛世局面；C项唐太宗时期，政治比较清明，经济发展较快，国力逐步强盛，历史上称为“贞观之治”；D项唐玄宗统治的前期，年号“开元”，政局稳定，经济繁荣，被誉为“开元盛世”。故选D。

【解答】

此题暂无解答

8.

【答案】

C

【考点】

南宋的建立和岳飞抗金

【解析】

本题以人物描述为切入点，考查了岳飞抗金的相关史实。

【解答】

题目给出他的部队纪律严明，“冻死不拆屋，饿死不掳掠”，他抗击金军，收复许多失地，设问考查人物。结合所学可知，岳飞领导的军队作战勇敢，纪律严明，深受人民的爱戴，被称为“岳家军”。他从金军收复了建康，后又在郾城大败金军骑兵主力，收复许多失地。

故选C。

9.

【答案】

B

【考点】

宋元时期繁华的都市生活

【解析】

本题主要考查北宋的开封城的相关史实。掌握相关基础知识。

【解答】

随着城市的繁荣，宋代的市民阶层不断壮大，市民文化生活也丰富起来。北宋都城东京城内有许多娱乐兼营商业的场所“瓦子”。瓦子中圈出许多专供演出的圈子，称为勾栏，许多穷苦艺人在这里卖艺谋生，有说书的、唱曲的、演杂剧的、耍杂技的、表演踢球的，等等，令人眼花缭乱。瓦子里还有许多摊位，十分热闹。大的瓦子，可容纳几千人。瓦子的存在，增添了城市的生气。故在北宋的开封城内有许多娱乐兼营商业的场所，叫做“瓦子”。大的瓦子，可容几千人。瓦子中圈出许多专供演出的圈子，称为“勾栏”。勾栏内商业广告琳琅满目，有各种艺人在这里卖艺谋生，如说书的、唱曲的、演杂剧的、耍杂技的、表演蹴鞠的，令人眼花缭乱。这一现象说明了开封城市民生活丰富。

2022-2023学年全国初中七年级下历史人教版期末试卷(含答案解析)033814



以上内容仅为本文档的试下载部分，为可阅读页数的一半内容。如要下载或阅读全文，请访问：<https://d.book118.com/976143210213010224>