

# 2021-2022学年河南省郑州中学七年级（上）期末历史试卷

试题数：29，总分：100

1.（单选题，2分）1965年，地质工作者钱方、浦庆余在云南元谋县上那蚌村发现两个人类门齿化石，经古地磁方法测定，其生活年代距今约170万年。以上发现可以证实（ ）

- A.云南省是中华民族的摇篮
- B.科学家具有执着探索的精神
- C.中国的考古技术领先世界
- D.中国是远古人类重要起源地

2.（单选题，2分）下列图片反映出的是（ ）



- A.半坡文化
- B.大汉口文化
- C.仰韶文化
- D.河姆渡文化

3.（单选题，2分）2019年7月6日，联合国教科文组织将位于浙江杭州的“良渚古城遗址”列入《世界遗产名录》。通过良渚考古发掘，学者们普遍认为当时私有制已经产生，阶级分化日益明显，出现了权贵阶层。以下能作为直接证据的考古发现是（ ）

- A.城中发现20多万公斤的炭化稻堆积
- B.少数墓葬有精美的玉器和陶器随葬
- C.古城遗址布局与山形水势充分契合
- D.碳14测定年代为公元前3000年左右

4.（单选题，2分）《礼记·礼运》中“天下为公，选贤与能”的社会局面出现在（ ）

- A.山顶洞人时期
- B.炎黄时期
- C.尧舜禹时期
- D.夏商周时期

5. (单选题, 2分) 如图是甲骨文的“年”字, 上部是一束穗子向下垂的禾谷的象形, 下部是一个弯着腰、臂向下伸的人的象形, 二者合起来像人负禾之形, 表示丰收、收获等义。这反映了商朝 ( )



- A. 重视农业生产
- B. 节日庆典丰富
- C. 阶级分化明显
- D. 文化形式多样

6. (单选题, 2分) 如图文物名为利簋, 作器者名“利”, 内底铭文记载了他参加牧野大战, 胜利后受到奖赏的史实。这可以佐证 ( )



- A. 炎黄战蚩尤
- B. 商汤灭夏
- C. 武王伐纣
- D. 平王东迁

7. (单选题, 2分) 西周分封制在中国历史上影响深远。下列省、直辖市中, 其简称源自西周封国国名的是 ( )

- A. 河南 (豫)
- B. 山西 (晋)
- C. 北京 (京)
- D. 天津 (津)

8. (单选题, 2分) 按照西周时的礼仪规定, 周天子可以享用九鼎, 诸侯只可用七鼎。但春秋时, 郑庄公却享用九鼎, 以后一些诸侯随之效仿。这一现象反应出的实质问题是 ( )

- A. 王室衰微, 诸侯崛起
- B. 用鼎成为时尚潮流
- C. 郑庄公成为天下共主
- D. 青铜制作水平高超

9. (单选题, 2分) 战国时期, 新兴的地主阶级在许多国家掌握政权。他们为了打击旧的奴隶主贵族势力, 建立封建政治和经济秩序, 巩固新生政权, 增强竞争实力。这段话介绍的是各国变法的 ( )

- A.背景
- B.过程
- C.内容
- D.影响

10. (单选题, 2分) 作家余秋雨曾经写道: “就在秦始皇下令修长城的数十年前, 四川平原上已经完成了一个了不起的工程……它至今还在为无数民众输送汨汨清流。”下列对这个“了不起的工程”描述正确的是 ( )

- A.建一于秦朝, 规模宏大
- B.彻底消除湘江水患
- C.因势利导, 防洪灌溉
- D.遗址毁损, 不复相见

11. (单选题, 2分) 据《史记》记载: “老子者, 楚苦县厉乡曲仁里人也 (今位于河南省鹿邑县城东 5 公里的太清宫), 姓李氏, 名耳, 字藕, 周守藏室之史也。”下列属于他的观点的是 ( )

- A.爱人者, 人恒爱之; 敬人者, 人恒敬之
- B.兼相爱, 交相利
- C.祸兮福之所倚, 福兮祸之所伏
- D.法不阿贵, 绳不挠曲

12. (单选题, 2分) 公元前 217 年, 某商人在宛 (今河南南阳) 交易时使用蚁鼻钱 (楚国货币), 被当地官府依据《金布律》处罚。这表明 ( )

- A.秦半两钱过重使用不便
- B.蚁鼻钱比秦半两钱值钱
- C.蚁鼻钱非当时法定货币
- D.秦半两钱未在楚地流通

13. (单选题, 2分) 据史书记载, 秦始皇修筑长城, 历时五年, 动用了约三十万的劳动力, 这个数字相当于当时全国男劳动力的十分之一, 其中绝大多数人死于这沉重的徭役。民歌传唱道: “生男慎勿举 (养育), 生女哺 (喂食) 用脯 (干肉)。不见长城下, 尸骸相支柱!”这导致了秦朝 ( )

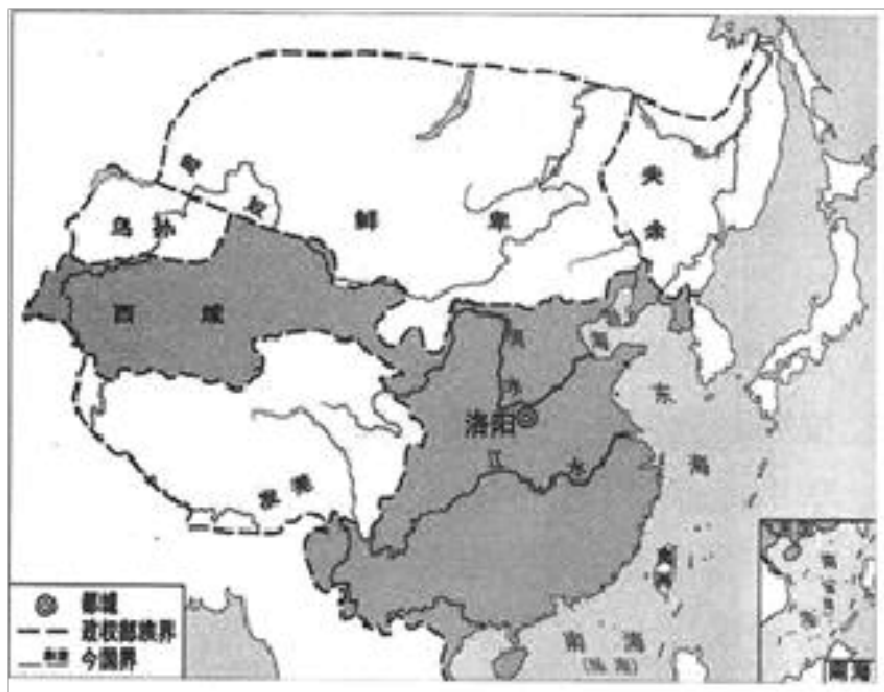
- A.徭役十分繁重

- B.农民起义爆发
- C.“重男轻女”盛行
- D.边疆得到巩固

14. (单选题, 2分) 汉武帝时, 朝廷制作出许多一尺见方的白鹿皮, 定价为40万钱一张。诸侯王参加献礼时, 必须购买白鹿皮用来置放礼物(当时一个“千户侯”一年的租税收入约为20万钱)。朝廷这种做法( )

- A.加强了货币管理
- B.确保了思想上的统一
- C.削弱了诸侯实力
- D.实现了对地方的控制

15. (单选题, 2分) 图中的深色部分大致表示中国古代某王朝的直接统治区域。由此可判断该王朝是( )



- A.周朝
- B.秦朝
- C.西汉
- D.东汉

16. (单选题, 2分) “宗室权落, 外戚兴起; 外戚势衰, 而宦官又盛。”这种现象( )

- A.加速了新朝的灭亡
- B.造成了东汉社会混乱
- C.促使东汉休养生息
- D.加强了东汉君主专制

17. (单选题, 2分) 《史记·大宛列传》载: “骞与乌孙遣使数十人, 马数十匹报谢, 因令窥汉, 知其广大……其后岁余, 骞所遣使通大夏之属者皆颇与其人俱来, 于是西北国始通于汉矣。”这反映了张骞通西域( )

- A.使西汉王朝进入鼎盛时期
- B.促进了汉与西域各国间的往来
- C.使海上丝绸之路得以开通
- D.标志西域正式归属于中央政权

18. (单选题, 2分) 古人读书时, 如有错讹, 即以刀削之, 故古时的读书人及政客常常随身带着刀和笔, 以便随时修改错误。因刀笔并用, 历代的文职官员也就被称作“刀笔吏”。这主要是由于他们的书写材料是 ( )

- A.甲骨
- B.竹简
- C.布帛
- D.蔡侯纸

19. (单选题, 2分) 医圣祠, 坐落在中国中医药服务贸易重点城市、河南省南阳市城东温凉河畔, 它是我国东汉时期伟大的医学家、世界医史伟人、被人们尊为中华“医圣”的墓祠纪念地。材料中“医圣”的成就是 ( )

- A.四诊法
- B.《黄帝内经》
- C.《伤寒杂病论》
- D.麻沸散

20. (单选题, 2分) “本纪以序帝王, 世家以记侯国, 十表以系时事, 八书以详制度, 列传以志人物, 然后一代君臣政事, 贤否得失, 总汇于一编之中。”材料所述这一著作 ( )

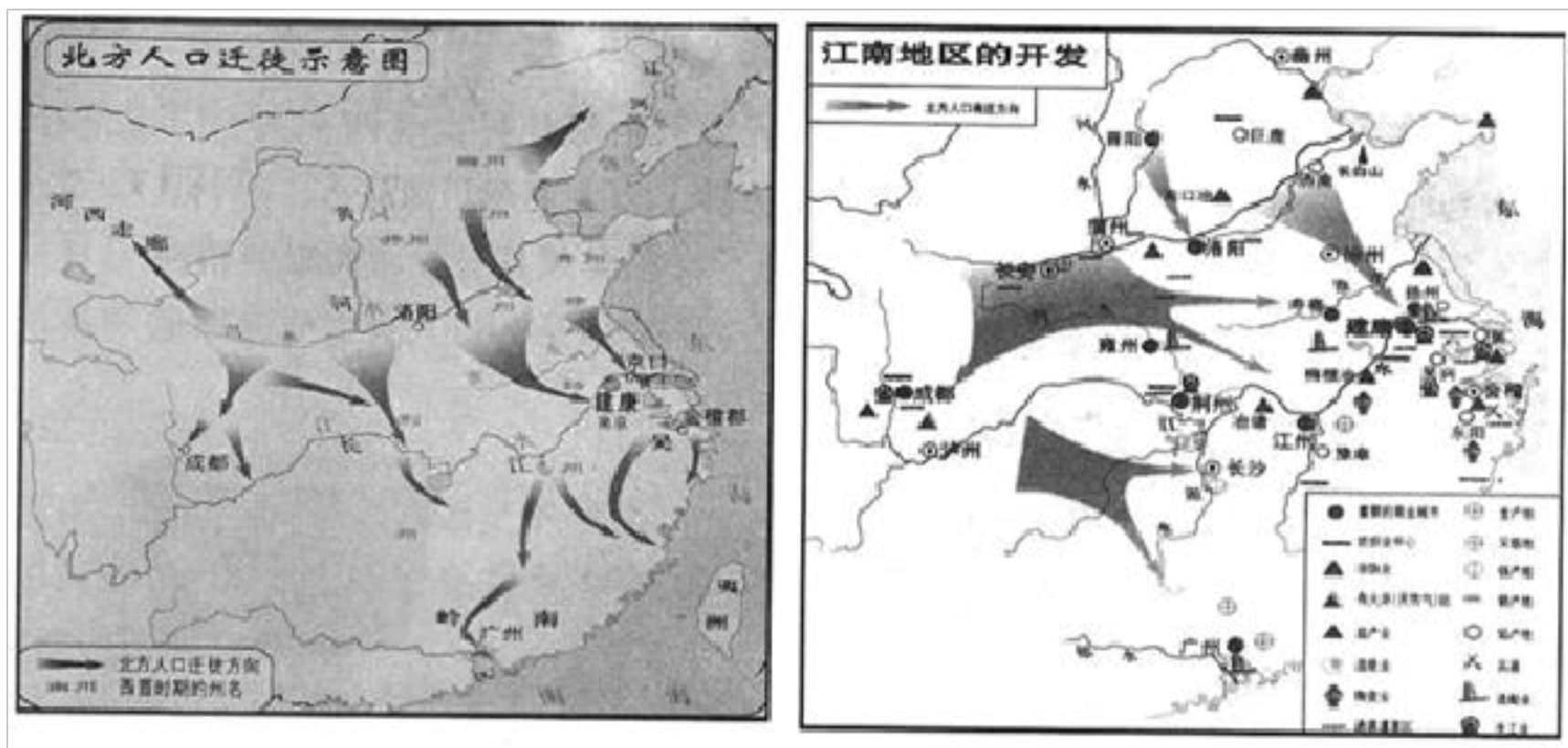
- A.是我国现存最早的一部史书
- B.是我国第一部纪传体断代史
- C.是研究秦汉时期历史的第一手史料
- D.对中国的史学发展产生了深远影响

21. (单选题, 2分) 下列选项中, 史实与结论之间逻辑关系正确的是 ( )

选项	史实	结论
A	229年, 孙权在建业称帝	加速了西南地区的开发
B	280年, 西晋灭吴	西晋统一了全国
C	291年, 八王之乱	直接导致西晋的灭亡
D	383年, 淝水之战	使前秦统一了黄河流域

- A.A
- B.B
- C.C
- D.D

22. (单选题, 2分) 下列选项对两幅图片关系描述正确的是 ( )




- A. 北方战乱导致人口南迁
- B. 人口南迁推动江南开发
- C. 经济重心已经实现南移
- D. 经济发展促进政治稳定

23. (单选题, 2分) 420-589年, 中国南方政权更迭频繁, 相继出现宋、齐、梁、陈四个王朝, 历史上统称为 ( )

- A. 五代十国
- B. 南朝
- C. 北朝
- D. 十六国

24. (单选题, 2分) 《齐民要术》大约成书于北魏末年(公元533-544年), 如图是清光绪元年(1875年)刊刻的, 从中可以看出该书 ( )



- A. 记载内容丰富
- B. 作者注重实践
- C. 对后世影响深远

D.侧重农业生产

25. (单选题, 2分) 历史解释是在史事的叙述和理解的基础上, 对历史事物进行的理性分析和客观评判。下列选项中属于历史解释的是 ( )

A.公元前3世纪初, 秦国军队先后攻灭韩、赵、魏、楚、燕、齐六国

B.公元前202年, 刘邦建立汉朝, 定都长安

C.200年, 曹操获得官渡之战的胜利, 为统一北方奠定基础

D.230年, 孙权派将军卫温率领万人船队到达夷洲

26. (问答题, 14分) 2021年, 中国现代考古学迎来了百年华诞。中国考古学大会公布了全国“百年百大考古发现”, 北京周口店遗址、陕西半坡遗址、河南漯河舞阳贾湖遗址等100项发现入选。其中, 河南14个项目上榜, 位居全国第一。阅读下列材料, 回答问题。

材料一



材料二 “百年百大考古发现”河南入选项目 (部分)

序号	考古发现	时间	序号	考古发现	时间
①	漯河舞阳贾湖遗址	距今约9000~7500年	④	安阳殷墟	约公元前1319年-前1046年
②	三门峡渑池仰韶村遗址	距今约7000~5000年	⑤	三门峡虢国墓地	西周晚期至春秋早期
③	洛阳偃师二里头遗址	距今约3800~3500年	⑥	汉魏洛阳城遗址	东汉至北魏

——摘自国家文物局网站

(1) 据考证, 半坡人人均寿命比北京人大幅度增长。根据材料一中的考古发现并结合所学知识, 概括指出其原因。

(2) 人类历史不断向前发展。根据材料二并结合所学知识, 将考古发现的序号填写到下表对应的历史发展阶段 (错选、少选、多选均不得分)。任选一个考古发现, 谈谈其历史研究价值。

历史发展阶段	序号
原始社会 (新石器时代)	——

奴隶社会	——
封建社会	——

(3) 综合上述材料和探究，请你谈谈考古发现对认识历史有何作用？

27. (问答题，12分) 阅读下列材料，回答问题。

材料一 图中的文字如下：



秦王政二十六年铜诏版

廿(二十)六年，皇帝尽并兼天下诸侯，黔首(百姓)大安，立号为皇帝，乃诏丞相状、绾，法度量，则不壹、歉疑者，皆明壹之。

材料二 秦汉时期是中国历史的重要阶段……秦汉王朝经过四个多世纪的经营与沉淀所建立的政治、经济与思想体系不但为后世历代王朝所取法借鉴，也为中华文明的持续发展奠定了坚实的基础。

——国家博物馆《秦汉文明展》

(1) 结合所学知识，指出材料一“廿六年”是哪一年？请写出“诏版”中文字的字体。

(2) 根据材料一、二并结合所学知识，写出秦汉时期都有哪些举措“为后世历代王朝所取法借鉴”。

(3) 以上材料和探究体现了秦汉时期怎样的时代特征。

28. (问答题，12分) 阅读下列材料，回答问题。

材料一 在春秋争霸的过程中，有的诸侯国被灭掉，一些强大的诸侯国的疆域不断扩展。与此同时，中原的“诸华”“诸夏”在同周边的戎、狄、蛮、夷等民族长期交往和斗争中，出现了大规模的民族交融。

——义务教育教科书《中国历史》七年级上册



材料二 北魏虽然统一了北方，但要巩固政权，还必须解决面临的各种错综复杂的社会矛盾。……因为旧贵族的特权和旧部落习俗密切相连，因此当时改革鲜卑旧的习俗，就成为北魏统治阶级急需解决的一个重要问题。

——卢茵《不可不读的中国历史》

- (1) 根据材料一并结合所学知识，概括指出春秋时期诸侯争霸有何利弊？
- (2) 根据材料二，指出北魏孝文帝改革的目的是，并列举其“改革鲜卑旧的习俗”的措施。
- (3) 综合以上两则材料，概括推动民族交融的因素。

29. (问答题, 12分) 探究式学习有利于培养学生学科核心素养。阅读下列材料, 回答问题。

材料一 战国时期, 铁制工具和牛耕的使用进一步推广, 社会生产力水平不断提高, 新兴地主阶级的势力增强。为适应社会政治经济的变化, 各诸侯国统治者实行变法改革, 确立新的政治经济秩序, 以求富国强兵, 在兼并战争中取胜。

——义务教育教科书《中国历史》七年级上册

材料二 小明同学在学习七年级上册历史内容后, 想编写一本《中华文明史——从文明起源到魏晋南北朝》, 以下是他完成的部分目录。

## 《中华文明史——从文明起源到魏晋南北朝》

### 第一章 辉煌灿烂的科技

#### 第一节 生产工具的革新

打制石器、磨制石器、骨耜

青铜农具、铁器、耒耨、翻车

#### 第二节 天文历算的演变

农历与节气

祖冲之《大明历》

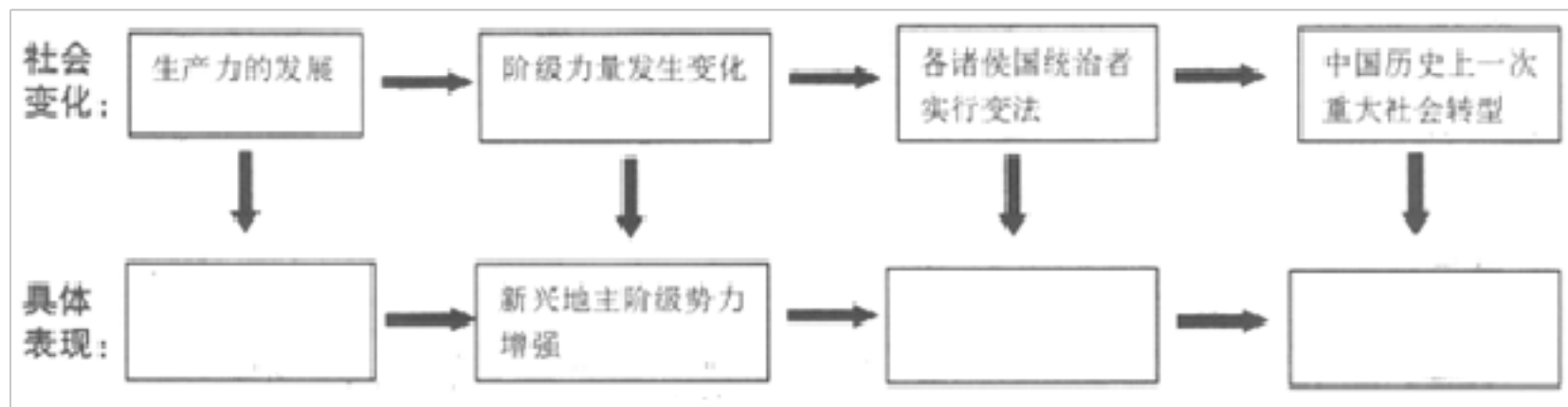
#### 第三节 ……

### 第二章 大放光彩的艺术

#### 第一节 ……

#### 第二节 ……

- (1) 根据材料一并结合所学知识, 将下面的示意图补充完整。



2) 根据材料二并结合所学知识，按照第一章样式续写第二章目录（至少写出两节）。

(3) 请再举出一例梳理史实的方法。

## 参考答案与试题解析

试题数： ， 总分： 100

1. (单选题, 2分) 1965年, 地质工作者钱方、浦庆余在云南元谋县上那蚌村发现两个人类门齿化石, 经古地磁方法测定, 其生活年代距今约170万年。以上发现可以证实( )
- A. 云南省是中华民族的摇篮
  - B. 科学家具有执着探索的精神
  - C. 中国的考古技术领先世界
  - D. 中国是远古人类重要起源地

【正确答案】: D

【解析】: 本题考查元谋人的相关知识, 掌握相关基础知识。

【解答】: 由材料“1965年, 地质工作者钱方、浦庆余在云南元谋县上那蚌村发现两个人类门齿化石, 经古地磁方法测定, 其生活年代距今约170万年”可知, 元谋人的发现可以实证中国是远古人类的重要起源地之一, D项符合题意。ABC三项在材料中体现不出来。  
故选: D。

【点评】: 本题考查学生的识记能力, 掌握元谋人的相关知识。

2. (单选题, 2分) 下列图片反映出的是( )



- A. 半坡文化
- B. 大汉口文化
- C. 仰韶文化
- D. 河姆渡文化

【正确答案】: D

种植水稻。

**【解答】**：据图片并结合所学知识可知，距今约 7000 年的河姆渡人生活在长江流域，他们使用磨制石器、骨器、用耒耜耕地，手工业方面会制作陶器和玉器，住干栏式房屋，过着定居生活，种植水稻，D 是正确的选项；ABC 不符合题意。

故选：D。

**【点评】**：解答本题需明确考查的知识点是河姆渡人，在此基础上，结合分析各个说法，选出正确答案。

3. (单选题, 2 分) 2019 年 7 月 6 日, 联合国教科文组织将位于浙江杭州的“良渚古城遗址”列入《世界遗产名录》。通过良渚考古发掘, 学者们普遍认为当时私有制已经产生, 阶级分化日益明显, 出现了权贵阶层。以下能作为直接证据的考古发现是 ( )

- A. 城中发现 20 多万公斤的炭化稻堆积
- B. 少数墓葬有精美的玉器和陶器随葬
- C. 古城遗址布局与山形水势充分契合
- D. 碳 14 测定年代为公元前 3000 年左右

**【正确答案】**：B

**【解析】**：本题考查私有制的出现。私有制出现的根本原因是生产力的发展。

**【解答】**：“少数墓葬有精美的玉器和陶器随葬”反映出随葬品因主人的地位不同而有差异，说明当时私有制已经产生，阶级分化日益明显，出现了权贵阶层，B 符合题意；ACD 不符合题意。

故选：B。

**【点评】**：本题以私有制的出现为背景，考查学生运用所学分析和解决问题能力。

4. (单选题, 2 分) 《礼记·礼运》中“天下为公，选贤与能”的社会局面出现在 ( )

- A. 山顶洞人时期
- B. 炎黄时期
- C. 尧舜禹时期
- D. 夏商周时期

**【正确答案】**：C

禅让”制。首先实施该制度的是尧推选舜为继承人，结束该制度的是禹。

**【解答】**：据材料“天下为公，选贤与能”并结合所学知识可知，材料反映的是我国原始社会时期禅让制，相传，尧年老时，征求各部落首领的意见，推举舜做他的继承人。舜年老时，采取同样的办法把位置让给治水有功的禹。这种通过推举成为部落联盟首领的办法，历史上叫做“禅让”。禅让制”的实质是一种民主推选部落联盟首领的制度。

故选：C。

**【点评】**：解答本题要正确理解题意，考查了禅让制，在此基础上，结合分析各个选项，选出正确答案。

5.（单选题，2分）如图是甲骨文的“年”字，上部是一束穗子向下垂的禾谷的象形，下部是一个弯着腰、臂向下伸的人的象形，二者合起来像人负禾之形，表示丰收、收获等义。这反映了商朝（ ）



- A.重视农业生产
- B.节日庆典丰富
- C.阶级分化明显
- D.文化形式多样

**【正确答案】**：A

**【解析】**：本题考查甲骨文，知道甲骨文的“年”字反映了商朝重视农业生产。

**【解答】**：如图是甲骨文的“年”字，上部是一束穗子向下垂的禾谷的象形，下部是一个弯着腰、臂向下伸的人的象形，二者合起来像人负禾之形，表示丰收、收获等义。这反映了商朝重视农业生产。BCD不符合题意。

故选：A。

**【点评】**：本题考查甲骨文，考查学生的理解和分析能力，解题关键是掌握基础知识。

6.（单选题，2分）如图文物名为利簋，作器者名“利”，内底铭文记载了他参加牧野大战，胜利后受到奖赏的史实。这可以佐证（ ）



A.

B.商汤灭夏

C.武王伐纣

D.平王东迁

**【正确答案】：C**

**【解析】：**本题考查武王伐纣，知道公元前 1046 年周武王通过牧野之战灭掉商朝，建立西周。

**【解答】：**据题干信息“牧野大战”并结合所学知识可知，此文物反映的是我国历史上的武王伐纣，公元前 1046 年周武王通过牧野之战灭掉商朝，建立西周。

故选：C。

**【点评】：**本题考查学生的理解和分析能力，掌握武王伐纣的相关知识。

7. (单选题，2 分) 西周分封制在中国历史上影响深远。下列省、直辖市中，其简称源自西周封国国名的是 ( )

A.河南 (豫)

B.山西 (晋)

C.北京 (京)

D.天津 (津)

**【正确答案】：B**

**【解析】：**本题主要考查对分封制的认识和理解，考查学生对西周分封制的基础知识的掌握和理解。

**【解答】：**结合所学知识可知，西周时期的主要封国有齐、鲁、宋、卫、晋、燕等，对应选项可知，山西在西周的封国为晋。河南简称豫，北京简称京，天津简称津，这都不是西周时期封国，排除 ACD。

故选：B。

**【点评】：**解答本题要求学生能够掌握西周主要封国及其地理位置，主要考查学生对基础知识的掌握能力。

2分)按照西周时的礼仪规定,周天子可以享用九鼎,诸侯只可用七鼎。但春秋时,郑庄公却享用九鼎,以后一些诸侯随之效仿。这一现象反应出的实质问题是( )

- A.王室衰微,诸侯崛起
- B.用鼎成为时尚潮流
- C.郑庄公成为天下共主
- D.青铜制作水平高超

**【正确答案】:** A

**【解析】:** 本题以按照西周时的礼仪规定,周天子可以享用九鼎,诸侯只可用七鼎。但春秋时,郑庄公却享用九鼎,以后一些诸侯随之效仿为切入点,考查春秋争霸的相关知识点。

**【解答】:** 据材料“按照西周时的规定,周天子可以享用九鼎,诸侯只可用七鼎。但春秋时,郑庄公却享用九鼎,以后一些诸侯随之效仿。”可知,春秋时期王室衰微,诸侯势力强大。A选项符合题意。

故选: A。

**【点评】:** 本题主要考查学生的识记能力以及分析问题的能力。理解并识记春秋争霸的相关史实。

9.(单选题,2分)战国时期,新兴的地主阶级在许多国家掌握政权。他们为了打击旧的奴隶主贵族势力,建立封建政治和经济秩序,巩固新生政权,增强竞争实力。这段话介绍的是各国变法的( )

- A.背景
- B.过程
- C.内容
- D.影响

**【正确答案】:** A

**【解析】:** 本题考查战国时期社会变革的相关知识,关键是对材料的解读。

**【解答】:** 由材料“战国时期,新兴的地主阶级在许多国家掌握政权。他们为了打击旧的奴隶主贵族势力,建立封建政治和经济秩序,巩固新生政权,增强竞争实力”可知,这反映的是战国时期各国变法的背景。

故选: A。

**【点评】:** 注意对材料的解读,掌握战国时期社会变革的相关知识。

以上内容仅为本文档的试下载部分，为可阅读页数的一半内容。如要下载或阅读全文，请访问：<https://d.book118.com/977066201010006036>