

# 2010-2023 历年江苏省泰州市姜堰四中八年级上学期期中考试地理试卷（带解析）

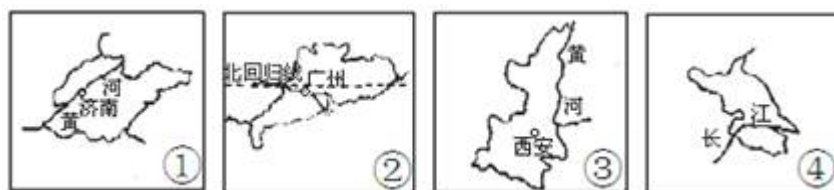
## 第 1 卷

### 一. 参考题库(共 25 题)

1.我国各民族的分布特征是

- A. “大杂居、小聚居”
- B. 少数民族主要分布于东部和中部
- C. 汉族以中部和西部最为集中
- D. 各地区分布比较均衡

2.读我国四个省（区）略图，回答小题。



【小题 1】泰州地处长江北岸、江苏中部，她位于图中的\_\_省（区）

- A. ①
- B. ②
- C. ③
- D. ④

【小题 2】孔子是春秋后期鲁国人，鲁现在是哪幅图所示省的简称

- A. ①

- B. ②
- C. ③
- D. ④

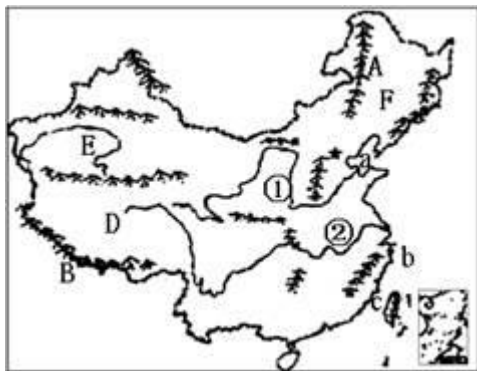
【小题3】四省区中，有太阳直射现象的是\_\_省（区）

- A. ①
- B. ②
- C. ③
- D. ④

【小题4】图示四个省区中，有两个简称的是

- A. ①
- B. ②
- C. ③
- D. ④

3.读中国略图，回答下列问题。（10分）



(1) 我国东部濒临的海域中，a是\_\_海，b是\_\_海，c处是\_\_\_\_海峡。

(2) 写出下列字母代表的地形名称：

A是\_\_\_\_（山脉）

B是\_\_\_\_（山脉）

D处是\_\_\_\_高原

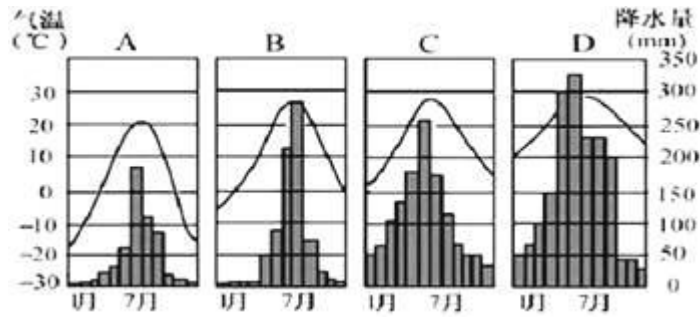
E处是\_\_\_\_盆地，

F处是\_\_\_\_平原。

(3) E、F两处中，年降水较多的是\_\_地。

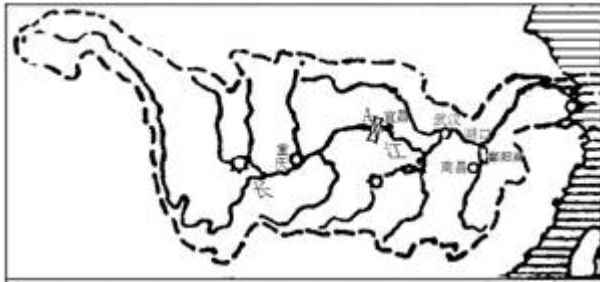
(4) ①、②两条大河中，冬季可能出现凌汛现象的是\_\_。

4.读“我国东部季风区四城市气温曲线和降水柱状图”，回答下列问题。（7分）



- (1) 我国东部地区的降水主要是由\_\_（夏、冬）季风带来的。
- (2) 四城市中，1月平均气温最高的是\_\_\_\_，气温年较差最大的是\_\_\_\_，年降水最少的是\_\_\_\_。（填字母）
- (3) 通过对四城市降水的判读，可看出降水主要集中在\_\_季，南方的降水量比北方\_\_，南方的雨季比北方\_\_。

5.读长江水系示意图，回答下列问题。（5分）



- (1) 长江发源于\_\_高原，最后流入\_\_海。
- (2) 湖口为长江中、下游的分界点，它位于\_\_省境内。
- (3) A处是\_\_水电站，它是目前世界上最大的水电站。长江水能资源主要集中在\_\_游河段。

6.2012年9月7日11时19分，在我国滇、黔两省交界处（北纬27.5度，东经104.0度）发生5.7级地震。据此回答小题。

【小题1】该处经纬度可表示为

- A. 27.5°N、104°E  
 B. 27.5°N、104°W  
 C. 27.5°S、104°E  
 D. 27.5°S、104°W

【小题2】该处发生地震，主要是因为

- A. 地壳比较稳定
- B. 与外国接壤
- C. 植被遭到破坏
- D. 地壳运动剧烈

【小题3】滇、黔两省主要位于哪一高原区上

- A. 青藏高原
- B. 内蒙古高原
- C. 云贵高原
- D. 黄土高原

【小题4】滇、黔两省的行政中心分别是

- A. 成都、贵阳
- B. 昆明、贵阳
- C. 昆明、南宁
- D. 成都、南宁

【小题5】傣族主要分布于滇省区。下列选项中，体现傣族人文特色的是

- A. 集体舞
- B. 泼水节
- C. 长鼓舞
- D. 摔跤

7.关于我国气温分布特点的叙述，正确的是

- A. 冬、夏季南北温差都很大
- B. 冬季南北温差大，夏季南北普遍高温
- C. 冬季最冷的地方是青藏高原
- D. 夏季最热的地区在海南岛

8.壮族是我国人口最多的少数民族，其主要分布在

- A. 广东
- B. 宁夏
- C. 广西
- D. 江西

9.下表为我国各类地形面积占全国面积的百分比，回答小题。

类型

山地

高原

盆地

平原

丘陵

百分比 (%)

33

26

19

12

10

【小题 1】构成我国地形的骨架是

- A. 高原
- B. 山脉
- C. 盆地
- D. 丘陵

【小题 2】下列关于我国地形的说法，不正确的是

- A. 类型复杂多样
- B. 山地面积最大
- C. 各类地形交错分布
- D. 平原、丘陵多集中分布在热带地区

【小题 3】下列关于如何实现山地区社会、经济和生态可持续发展的叙述，错误的是

- A. 山区风景秀丽，开发生态旅游
- B. 砍伐与抚育更新相结合，大力发展林业
- C. 大量砍伐林木，以满足市场需要
- D. 山区急流水能丰富，积极建设水电站

10.我国四大高原中，具有“地面平坦、一望无垠”特点的是

- A. 青藏高原
- B. 黄土高原
- C. 内蒙古高原
- D. 云贵高原

11.藏族主要分布在下列哪一省级行政区



12.我国年降水量分布的总趋势是

- A. 由东南沿海向西北内陆递减
- B. 由西北内陆向东南沿海递减
- C. 由西南向东北递减
- D. 由东北向西南递减

13.下列关于黄河的说法，正确的是

- A. 发源于唐古拉山
- B. 曲折东流入渤海
- C. 含沙量大，中下游地区形成“地上河”
- D. 中游河段水能资源最丰富

14.关于我国地理位置的叙述，正确的是

- A. 位于亚洲东部、太平洋西岸，海陆兼备
- B. 位于东半球、南半球
- C. 领土大部分位于低纬度，属于热带
- D. 与日本、蒙古陆地接壤

15.下列河流中，结冰期最长的是

- A. 长江
- B. 珠江
- C. 黄河
- D. 黑龙江

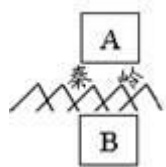
16.我国季风区与非季风区的划分界线是

- A. 大兴安岭——太行山——巫山——雪峰山
- B. 天山——阴山
- C. 昆仑山——秦岭
- D. 大兴安岭——阴山——贺兰山

17.受地势的影响，我国的河流绝大多数流入

- A. 印度洋
- B. 大西洋
- C. 北冰洋
- D. 太平洋

18.关于下图中 A、B 两地的说法，正确的是



- A. A 地的年降水量一般在 800 mm 以上
- B. 雨热同期是 A、B 两地共同的气候特征
- C. 由于受秦岭阻挡，A 地几乎不受寒潮影响
- D. B 地一月平均气温一般在 0°C 以下

19.我国人口分布的基本特点是

- A. 分布均匀
- B. 南少北多
- C. 西多东少
- D. 东多西少

20.长江有“黄金水道”之称，主要是因为长江

- A. 长度最长
- B. 水量最大
- C. 水能最丰富
- D. 通航里程最长

21.20 世纪 70 年代以来，我国实行人口基本国策的根本原因是

- A. 人口分布不均匀
- B. 人口增长与社会经济、资源环境的矛盾突出
- C. 农村人口密度大
- D. 人口老龄化问题严重

22.塔里木河河水主要来自高山冰雪融水，其汛期多出现在

- A. 3-5 月份
- B. 7-9 月份
- C. 11-12 月份
- D. 1-2 月份

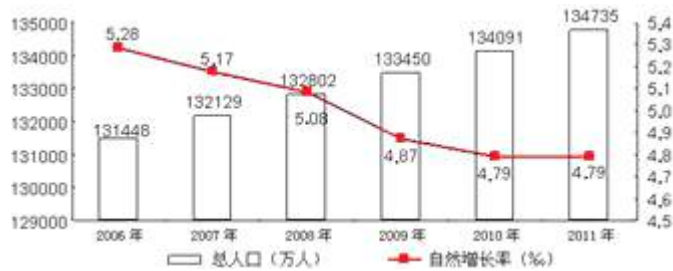
23.春节期间，小强想去滑雪和看冰雕。下列省级行政区中，他最应该去

- A. 广东省
- B. 福建省
- C. 黑龙江省
- D. 四川省

24.读“2006—2011 年中国（除台湾省外）人口数量及自然增长率变化情况图”，

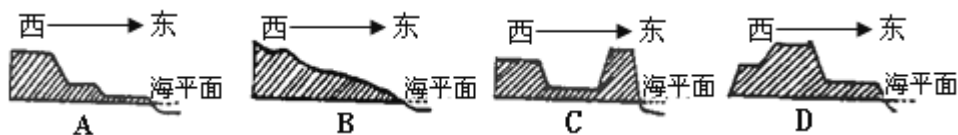
回答下列问题。（8 分）





- (1) 图示柱状图和折线图中，表示人口自然增长率变化的是\_\_\_图。
- (2) 人口自然增长率=\_\_\_率—死亡率。2011年，我国（除台湾省外）总人口达到\_\_\_亿人（保留2位小数），自然增长率为\_\_\_‰。
- (3) 2006—2011年间，我国人口总数呈\_\_\_趋势，人口自然增长率呈\_\_\_趋势。
- (4) 我国在人口方面的基本国策是\_\_\_\_\_。目前，我国的人口总数居世界第\_\_\_位。

25. 下列四幅图中，最能体现我国地势特征的是



## 第 1 卷参考答案

### 一. 参考题库

1. 参考答案：A 试题分析：我国民族分布特点：大杂居，小聚居。汉族遍及全国，主要分布在东部和中部；少数民族主要分布在西南、西北和东北等边疆地区。

考点：本题主要考查的是我国民族的知识。

点评：本题还可以考查我国共有 56 个民族，汉族人口占 92%。55 个少数民族，壮族人口最多。人口过 500 万的少数民族有壮满回苗维吾尔彝土家蒙古藏等 9

个。（记忆口诀：少数民族五十五，人口最多是壮族，五百万人满回土，苗维彝藏和蒙古）；几个特殊少数民族的分布：5个自治区与维蒙古族藏状回，高山族——台湾省，黎族——海南省；少数民族的文化：①维吾尔族手鼓舞、傣族孔雀舞、朝鲜族长鼓舞、蒙古族摔跤、藏族集体舞等。②傣族泼水节、彝族白族火把节、蒙古族那达慕大会、壮族三月三歌墟节等、回族开斋节。③回族维族伊斯兰教、藏族喇嘛教④蒙古族——马头琴，哈萨克族——冬不拉；民族政策：各民族无论大小，一律平等。

2. 参考答案：

【小题 1】 D

【小题 2】 A

【小题 3】 B

【小题 4】 C 试题分析：

【小题 1】 泰州地处长江北岸、江苏中部，她位于图中的④省（区），①为山东，②为广东省，③为陕西省。

【小题 2】 孔子是春秋后期鲁国人，鲁现在是①山东省的简称。广东省的简称为粤，陕西省的简称为陕或秦，江苏省的简称为苏。

【小题 3】 四省区中，有太阳直射现象的是②广东省，北回归线穿过，以南为热带，有太阳直射现象。

【小题 4】 图示四个省区中，有两个简称的是陕西省的简称为陕或秦，①山东省的简称，广东省的简称为粤，江苏省的简称为苏。

考点：本题主要考查的是我国行政区划的知识。

点评：本题还可以考查三级行政区划：基本划分为省(自治区、直辖市、行政特区)、县(自治县、市、县级市)、乡(镇)。省级行政区共 34 个，包括 23 个省， 5

个自治区，4个直辖市，2个特别行政区香港、澳门。熟记省级行政单位的全称、简称、省会、位置和板块轮廓。省级行政单位的记忆：①逆时针有邻国的9省区：辽吉黑、内蒙古、甘和新、藏云桂；②从北往南14个临海省市：辽冀津鲁、苏沪浙闽、粤港澳桂台琼；③黄河流经9省区：青川甘、宁内晋、陕豫鲁；长江流经11省市：青川藏云、渝鄂湘赣、皖苏沪。④北回归线自西向东穿过的省区：云桂粤台；⑤有邻国又是沿海省：辽桂。临两个海：辽鲁(苏闽)台；⑥有两个简称的省：云贵川陕甘——滇黔蜀秦陇；⑦祖国四端省区：北黑东黑、南琼西新；⑧用河流作简称：湖南——湘江、江西——赣江、福建——闽江等(另外黑、辽也可算)；用名山作简称：安徽——皖山等；用湖泊作简称：云南——滇(滇池)(另青海也可算)；用古国名：蜀秦晋鲁；用历史名作简称：晋冀鲁豫秦陇蜀。

### 3. 参考答案：(10分)

(1) 渤海 东海 台湾

(2) 大兴安岭 喜马拉雅山 青藏 塔里木 东北

(3) F

(4) ①试题分析：(1)我国东部濒临的海域中，a是渤海，b是东海，c处是台湾海峡。(2)下列字母代表的地形名称：A是大兴安岭；B是喜马拉雅山；D处是青藏高原；E处是塔里木盆地，F处是东北平原。(3)E、F两处中，年降水较多的是F地。(4)①、②两条大河中，冬季可能出现凌汛现象的是①，位于北方地区，冬季气温低。

考点：本题主要考查的是我国疆域的知识。

点评：本题还可以考查我国陆地领土：(1)陆地面积960万km<sup>2</sup>，居世界第三位。

(2)陆上疆界2万多千米；(3)海岸线1.8万多千米；东起逆时针14

以上内容仅为本文档的试下载部分，为可阅读页数的一半内容。

如要下载或阅读全文，请访问：

<https://d.book118.com/978044142037007003>