

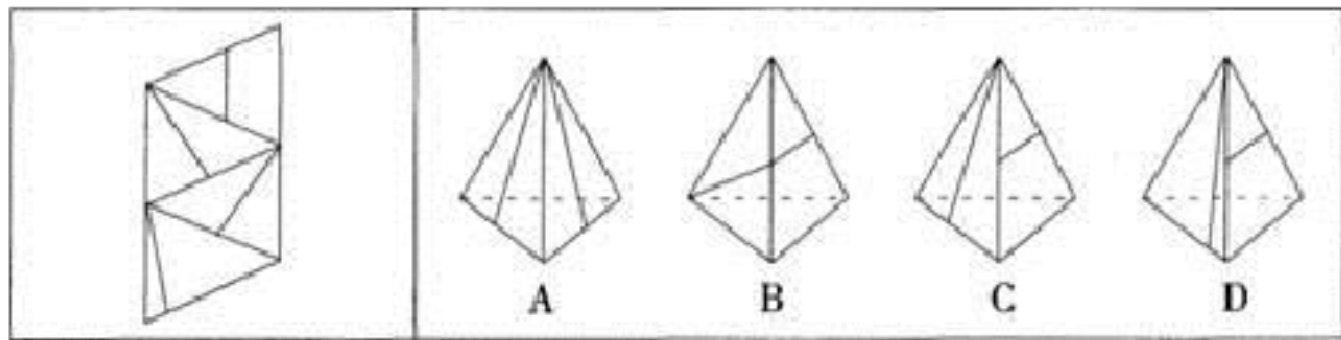
【备考 2023 年】山西省太原市公务员省考 行政职业能力测验真题二卷(含答案)

学校:_____ 班级:_____ 姓名:_____ 考号:_____

一、图形推理(6 题)


1. 从所给的四个选项中, 选择最合适的一个填入问号处, 使之呈现一定的规律性。

2. 左边给定的是纸盒外表面的展开图, 右边哪一项能由它折叠而成? 请把它找出来。

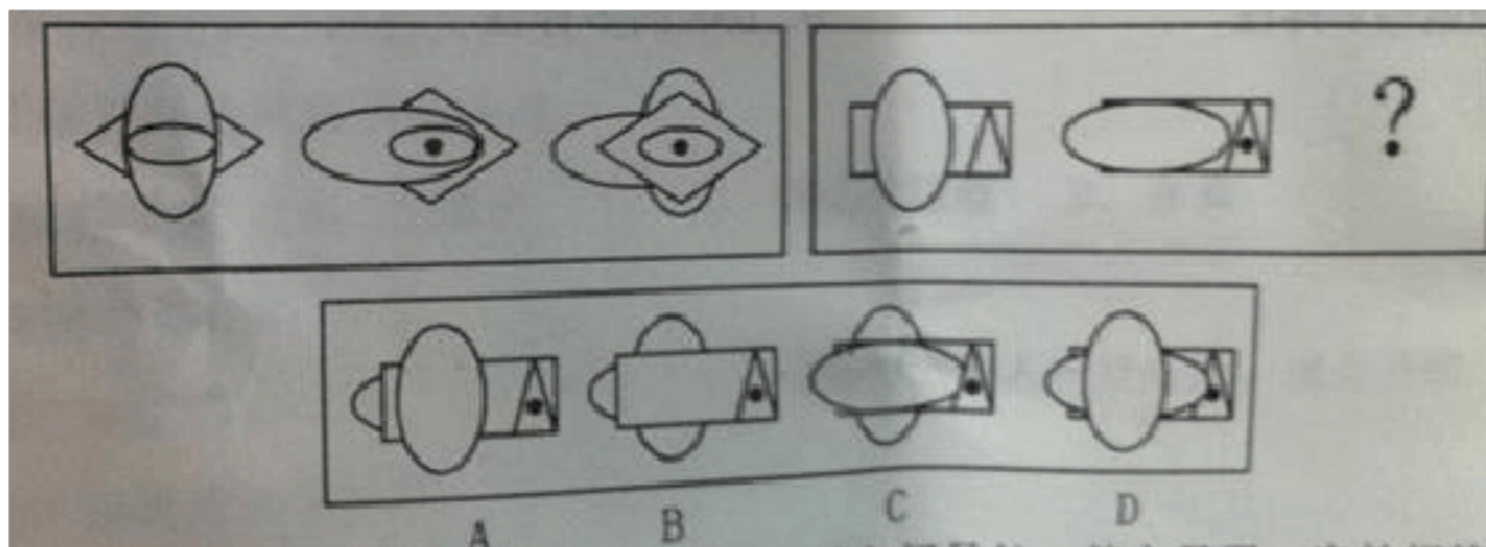


A. 如上图所示 B. 如上图示 C. 如上图 D. 如图所示

3. 从所给的四个选项中, 选择最合适的一个填入问号处, 使之呈现一定的规律性:



4. 从所给四个选项中，选择最合适的一个填入问号处，使之呈现一定的规律性：

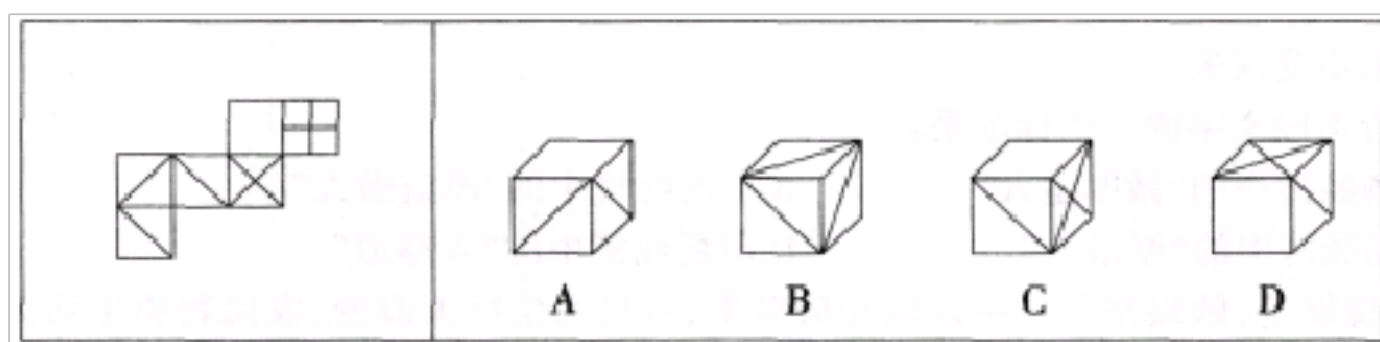


5. 把下面的六个图形分为两类，使每一类图形都有各自的共同特征或规律，分类正确的一项是：



A. ①②③, ④⑤⑥ B. ①③④, ②⑤⑥ C. ①④⑥, ②③⑤ D. ①③⑥, ②④⑤

6. 以下各项不能由给出图形折出的是：



二、定义判断(10 题)

7. 所谓文化暴发户，就是利用工作或其他途径掌握了话语权者，亦或者是因为财富而突然拥有了所谓的社会地位者，自认为是社会精英或者社会文化代言人，而实际文化素养、价值观以及审美并未达到一定层次的人。同时也可指那些没有学术修养，利用大众的求知欲望，以洗脑的方式开设学习班骗取钱财的人。

根据上述定义，下列选项不属于文化暴发户的是：

A.某企业老总依靠炒房发家，由于文化修养不够觉得没面子，于是请枪手代写管理书籍，又雇佣所谓“读者”举办签售活动

B.原本初中辍学的李某发现现今“国学”十分流行，于是自我包装成为“国学大师”，进行虚假宣传后到处演讲，骗取钱财

C.徐某文笔优秀，立志成为文学家，无奈文化市场不景气，只好下海经商，开办了软件公司，成名后在访谈节目中还特意谈起了年轻时的文学梦

D.兽医张某经过策划公司的大力宣传，在公众心目中成为了国内知名的养生专家，并著书立说，宣传其“豆腐”养生学

8.网络团购，是借助互联网，将具有相同购买意向的零散消费者集合起来，向商家大批量购买，以求得最优惠的价格。网络团购的特点是：有成交数量和成交时间限制、价格折扣高、可以小额支付等特点，实现网络组织者、消费者和生产者三方获益。

以下属于网络团购的是（ ）。

- A.某公司在网上订购 500 件棉衣享受六折优惠
- B.某购物网站征集欲购买某品牌跑步鞋的消费者后向厂家下了三千双的订单
- C.某机构网络营销店长期代购某品牌产品且会员享受原价五折优惠
- D.小王联络十余名邻居一同购买某家具以减免运费

9.

分布式能源，是一种新型的建于用户当地或附近的发电系统，可产生电能及其他形式能量，并优先满足当地用户需求，且由用户来管理支配。

根据上述定义，下列选项中属于分布式能源的是：

- A.葛洲坝水电枢纽发电满足附近省市用电需求
- B.某核电站生产的电能并入了国家电网
- C.某农户将自家化粪池产生的沼气用于照明
- D.西部地区某乡建风电站发电用于本乡生产生活

10. 代偿心理是指人们在遇到挫折、损失或面临困境的时候，将对某一对象的需要转向其他的对象。可以分为自觉的和盲目的两种。自觉的代偿指知道自己的短处和缺陷所在，可以做到扬长避短。盲目的代偿并不了解自己的短处与缺陷，往往导致过分代偿，结果某些方面畸形发展，破坏了人格的协调统一，反而加剧心理冲突，造成适应困难，人际关系不良。

根据上述定义，下列没有体现代偿心理的是：

- A.堤内损失堤外补 B.塞翁失马。焉知非福 C.院内开花院外香 D.失之东隅，收之桑榆

11. 证据按其来源可分为原始证据和传来证据。原始证据就是直接来源于案件客观事实的证据；传来证据是指不是直接来源于案件事实或原始出处，而是从间接的非第一来源获得的证据材料。

根据上述定义。下列属于传来证据的是：

- A.甲致乙重伤所使用的匕首上留下的指印与甲的指纹同一的鉴定结论
B.公安机关勘验杀人现场时发现的插在被害人胸部上的一把匕首
C.医生魏某转述的被害人在临死前向他讲述的遭受犯罪分子侵害的事实
D.证人看到甲身上有血迹，从犯罪现场走出的证言

12. 失范行为是与教育规范不相一致、不协调甚至是冲突的行为。可以划分为：目的取向型失范行为、价值取向型失范行为、情感型失范行为、传统型失范行为这四类理想类型。其中情感型失范行为，主要指为了满足生理、心理或情感上的需要而做出的失范行为。

根据上述定义，下列属于情感型失范行为的是：

- A.两名职校学生受李某之邀，一起为其被欺负的女友找对方“理论”，引发了一场殴斗
B.某校4名无聊的中学生为寻找乐趣，用烟头烫同学小明，甚至强迫其吞下他们的痰

C.一群未满 16 周岁的学生组成盗窃团伙，趁自己不会被判刑抓紧时间进行“无罪偷窃”

D.中学生杨某发现网吧服务器存在漏洞后，多次利用该漏洞修改上网卡的账号金额数据

13. 原点思维 :是指给人或事调定到一个原点,时常回到原远点行思考, i 进行状态对照, 纠正偏差, 不断向目标前进。下列属于原点思维的是 ()。

A.怎样看出人的优秀素质——重点考核小时候表现

B.谁是中国历史上的罪人——宋代的秦桧

C.谁能解下老虎脖子下的金铃——解铃还须系铃人

D.怎样处理好人与人之间的关系——经常交流沟通

14.洗脑, 是指利用暴力等外部压力, 向别人灌输异于一般价值观的特殊思想。来符合操纵者的意愿的一连串的手法与过程。洗脑与宣传的不同之处在于, 洗脑具有强制性、长期性、批判性等特点。

根据上述定义, 下列属于洗脑的是 :

A.从小学开始就要上思想政治课, 学习社会主义核心价值观

B.如果你走入教堂会有不少基督教徒向你传播教义, 邀请你加入

C.一歹徒入室抢劫被屋主制服, 当听说歹徒抢劫是为救人后, 该屋主给了歹徒数万元

D.某组织打着“创业”的口号吸引了不少青年, 每天讲述快速赚钱的经

验，却要求入会者交纳会费

15.

色彩营销，就是要在了解和分析消费者心理的基础上，做消费者所想，给商品恰当定位，然后给产品本身、产品包装、人员服饰、环境设置、店面装饰一直到购物袋等配以恰当的色彩，使商品高情感化，成为与消费者沟通的桥梁，实现“人心——色彩——商品”的统一，将商品的思想传达给消费者，提高营销的效率，并减小营销成本。根据上述定义，以下属于色彩营销的是()。

- A. 人民公园在菊花节到来之际，把整个公园装饰成了菊花的海洋，吸引了大量市民来此赏花
- B. 刘阳和谢荣的婚房装修的主色调是红色，看起来喜庆极了
- C. 王华开了个饰品店，她比较喜欢绿色，因此在装修的时候就把主色定为了绿色，装好之后看起来还挺温馨
- D. 某品牌化妆品选用米色、乳白、粉红等中间色包装，以产生高雅富丽、质量上乘的美感效果

16. 分权是指现代企业组织为发挥低层组织的主动性和创造性，而把生产管理决策权分给下属组织，最高领导层只集中少数关系全局利益和重大问题的决策权。授权则是指主管将职权或职责授给某位部属负担，并责令其负责管理性或事务性工作。

根据上述定义，下列选项属于授权的一项是：

- A. 菜市市委组织部任命王某为该市 A 区副区长。主管 A 区的科技教育

工作

B.某电信公司将具体业务交给各省区子公司负责，总公司只负责战略制定和技术支持

C.某企业人力资源总监因为要去外地出差，将新员工的招聘工作交给副总监负责

D.某国际著名奢侈品牌将旗下所有产品在大陆的独家经营权交给了国内一家贸易公司

三、常识判断(10 题)

17. 否认事物的发展是前进性和曲折性的统一，会导致两种错误，一种是直线论，另一种是（ ）。

A.激变论 B.循环论 C.庸俗进化论 D.庸俗唯物论

18. 社会主义市场经济条件下按劳分配的主体是（ ）。

A.国家 B.企业 C.个人 D.市场

19.小宋受朋友之请去某饭店吃饭，中途去洗手间时，因地面油滑不慎摔倒，致使腿骨骨折。对小宋受到的损害，以下说法错误的是（ ）。

A . 小宋与饭店没有形成合同关系，所以饭店不承担责任

B . 小宋不是消费者，所以饭店不承担责任

C . 小宋是消费者，所以饭店应当承担责任

D . 小宋是自己不注意摔倒的，饭店并无加害行为，所以饭店不承担责任

20.人们长时间处在较大的压力状态下，身体、心理状态都会产生一定的变化。以下人们在长时间压力状态下的反应，最为常见的是（ ）。

- A.一直保持亢奋的精神状态
- B.保持一段时间的比较投入的状态后，精神和体力状态急剧下降
- C.一直保持比较抑郁的状态
- D.比较长时间的压抑状态之后。精神和体力状态达到高峰

21.

在开放的经济条件下，一国国际收支理想的状况是：

- A.收大于支，迅速增加外汇储备
- B.支大于收，动用外汇储备实现平衡
- C.经常项目和资本项目的收支合计大体平衡
- D.经常项目保持平衡，资本项目收大于支

22.特别行政区行政长官有权依法任免（ ）。

- A.行政会议或行政会成员
- B.局长
- C.海关关长
- D.廉政专员

23.城管执法人员为阻止摊贩继续非法占道经营，暂扣了摊贩兜售的物品，这一行为在法律性质上属于：

A.行政强制措施 B.直接执行方式 C.行政处罚 D.民事侵权行为

24.为构建社会主义和谐社会提供最根本保证的是（ ）。

A.中国共产党的领导和我国的社会主义制度

B.社会生产力明显提高，综合国力显著增强

C.社会各阶级、各党派、各民族、各团体政治上团结一致

D.马克思主义在党和国家工作中的指导地位已经确立并不断得到巩固

25.第 103 题（ ）可以设定除限制人身自由以外的行政处罚。

A.法律 B.地方性法规 C.行政法规 D.国务院部委规章

26.第 20 题 下列各项中可以不通过招标方式签订合同的是（ ）。

A. 大型水电站工程

B. 世界银行资助的绿化项目

C. 修建高速公路

D. 农村土地承包

四、数量关系(10 题)

27.第 7 题 甲、乙、丙、丁四人步行，在同时间内甲行 5 步时乙可行 6

步；乙行 7 步时丙可行 8 步；丙行 9 步时丁可行 10 步。又甲、乙、丙、

丁每步的距离之比为 15 :14 :12 :10。问甲行 630 米时,丁可行多少米?()

A.640米

B.680米

C.720米

D.750米

28.三个人进城，甲每隔 9 天进一次城，乙每隔 11 天进一次城，丙每隔

7 天进一次城。假如这次他们是星期二相遇的，问下次他们是星期几相遇？

A.星期一 B.星期二 C.星期四 D.星期三

29.一个由 4 个数字(0-9 之间的整数)组成的密码,每连续两位都不相同,问任意猜一个符合该规律的数字组合,猜中密码的概率为:

A.1/5040
B.1/7290
C.1/9000
D.1/1000

30.

二、数学运算：共 20 题。你可以在草稿纸上运算，遇到难题，你可以跳过不做，待你有时间再返回来做。

第 6 题 甲、乙两校共有毕业生 180 人，两校各买了一批纪念册，给本校毕业生每人一本后，甲校余 116 本，乙校余 114 本。经研究两校各向彼校毕业生每人送一本纪念册，送后甲校还比乙校多剩 10 本。问甲校的毕业生人数比乙校的毕业生人数多多少人？（ ）

A.20人
B.16人
C.10人
D.8人

31. 一个三口之家的年龄和是 93 岁，

母亲年龄比父亲年龄的 $\frac{6}{7}$ 大 2 岁，儿子比母亲年龄的 $\frac{1}{2}$ 小 6 岁。问多少年后父亲年

龄是儿子年龄的奇数倍？

A.9 B.11 C.13 D.不存在

32.第 20 题 健康与安全理事会所收集到的数字似乎支持这样一个非常流行的观点，即：我们已受到压力流行病的袭击。1990 年的劳动力调查显示，有 182700 人——占整个劳动力人口的 1%——相信，他们正患有与工作有关的紧张、焦虑或抑郁。5 年后同样的调查显示，这一数字已上升至 28 万，增长了 30%，另外还有 25 万人自诉患有与压力有关的身体疾病。给这段文字加入一个最恰当的标题（ ）。

- A. 压力：现代流行病
- B. 压力：健康的杀手
- C. 警惕压力
- D. 压力与疾病

33. 有一块边长 24 厘米的正方形纸片，如果在它的四个角各剪去一个小正方形，就可以做成一个无盖的纸盒。现在要使做成的纸盒容积最大，剪去的小正方形的边长应为几厘米？

A.2 B.3 C.4 D.5

34. 某公司年会设有 6 个红包，分别装有 100、200、300、400、500、600 元现金，若从中任意抽取 3 个红包且红包内总金额能被三等分，则三个红包归抽中的人所有。那么中奖概率为多少？

A.20% B.40% C.60% D.80%

35.第 41 题 $\frac{1}{11}, \frac{1}{22}, \frac{1}{34}, \frac{1}{47}, (\quad)$

以上内容仅为本文档的试下载部分，为可阅读页数的一半内容。如要下载或阅读全文，请访问：<https://d.book118.com/987044200064006056>