

2024年外研版选修4地理下册月考试卷含答案

考试试卷

考试范围：全部知识点；考试时间：120分钟

学校：_____ 姓名：_____ 班级：_____ 考号：_____

总分栏

题号	一	二	三	总分
得分				

评卷人	得分

一、选择题(共8题，共16分)

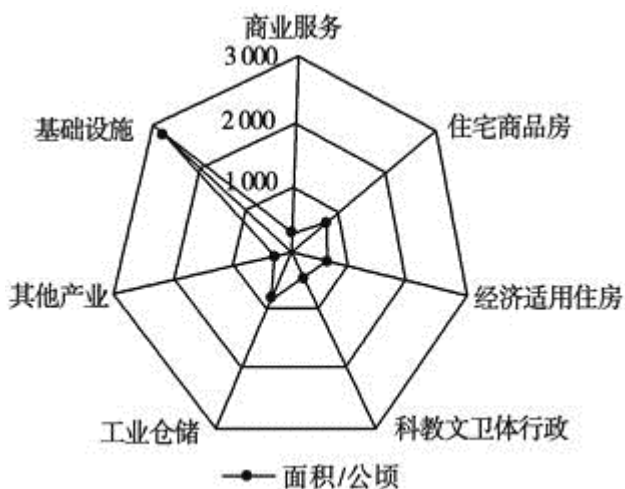
1、不同类型的聚落呈现出的景观有较大差异，其主要原因是()

- A. 社会制度的差异
- B. 建筑风格的差异
- C. 风俗习惯的差异
- D. 劳动生产方式的差异

2、浦东开发开放所取得的成就为世界瞩目；改革开放积极促进了浦东地区（ ）

- ①城市空间结构的变化②城市用地不断扩大③第二产业比重大幅增长④第一产业比重大幅增长
- A. ①②
 - B. ②③
 - C. ③④
 - D. ①④

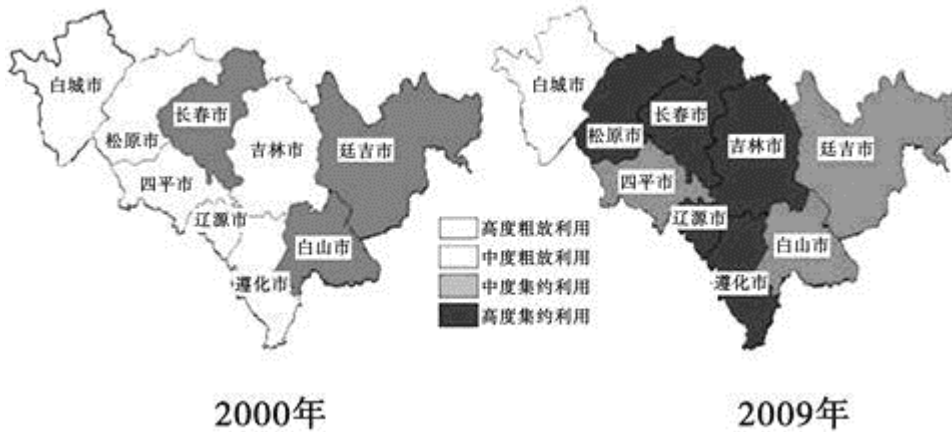
3、读以下我国某特大城市建设土地供应计划图；下列说法正确的是（ ）



- A. 工业仓储用地是该市最广泛的土地利用方式
- B. 商业服务用地较少的最主要原因是地价高
- C. 其土地供应计划有利于改善该市人居环境

D. 基础设施的建设大幅度增加是金融业和服务业带动的结果

4、单位土地面积上投放的劳动力和资金多；产出多，则土地利用的集约度高，为集约利用；反之，土地利用集约度低，为粗放利用。下图是2000年和2009年吉林省土地集约利用程度区域差异图。读图，吉林省土地集约利用程度的变化特点是（ ）



- A. 2000年全省土地利用集约度自西向东逐渐升高
- B. 2000年以来全省土地利用集约度的地区差异没有变化
- C. 2009年全省土地利用集约度较2000年总体提升
- D. 长春市土地利用集约水平提高幅度最大

5、据《青岛市重点镇布局规划》显示，到2020年，青岛市将建成12个具有较高的人口与产业集聚度较强的综合竞争力和区域辐射与带动力的“小城市”，首期建设6个重点镇，人口规模10万~15万。在编制该规划过程中，需要分析劳动后备军的数量和被抚养人口比例，目的是（ ）

- A. 推算人口自然增长率
- B. 制定托儿所、幼儿园及中小学的规划指标
- C. 分析就业情况和劳动力的发展状况
- D. 确定城市住宅类型的选择

6、香港地处“岭南文化区”；是重要的国际金融中心。下图为当地传统民居建筑中的“趟栊门”，反映该地（ ）



- A. 昼夜温差大
- B. 光照充足
- C. 潮湿闷热

D. 台风频发

7、在小城市的建设过程中；要（ ）

- ①满足农业产业化要求 ②将市场需求和本地优势相结合。
③努力弘扬当地的历史文化传统 ④把经济建设列为主要内容
- A. ②③④
B. ①③④
C. ①②④
D. ①②③

8、读北方某城市书店和书亭分布图；书店与书亭服务范围的不同点是（ ）



- A. 书店的服务范围小，分布的数目少
B. 书店的服务范围大，服务的人口多
C. 书亭的服务范围大，覆盖整个城市
D. 书亭的服务范围小，服务的人口多

评卷人	得分

二、填空题(共6题，共12分)

9、分析我国某X城市郊外四种农作物生产；运费与市场价格资料；完成下列各题。

项目	花卉	蔬菜	稻米	甘薯
作物				
市场价格/(元/kg)	30	20	12	6
生产成本/(元/kg)	15	12	6	2
运费/(元/kg·km)	3.0	2.0	0.5	0.2
单位面积产量/kg	20	15	4	10

- (1) 该X城市可能位于我国 _____ 气候类型区。
(2) 四种农作物中，单位面积产量利润最小的是 _____。
(3) 该地区最适宜经营哪两种作物？ _____。
(4) 该城市郊外农业土地利用离城市的最远边界是多少km？ _____。

10、上海的南京路是上海市的商业中心，它的布局是以 _____ 原则。

11、分析我国某X城市郊外四种农作物生产；运费与市场价格资料；完成下列各题。

作物	项目。	花卉。	蔬菜。	稻米。	甘薯。
市场价格/(元/kg)		30	20	12	6
生产成本/(元/kg)		15	12	6	2
运费/(元/kg·km)		3.0	2.0	0.5	0.2
单位面积产量/kg		20	15	4	10

- (1) 该X城市可能位于我国_____气候类型区。
- (2) 四种农作物中；单位面积产量利润最小的是_____。
- (3) 该地区最适宜经营哪两种作物？_____。
- (4) 该城市郊外农业土地利用离城市的最远边界是多少km？_____。

12、上海的南京路是上海市的商业中心，它的布局是以_____原则。

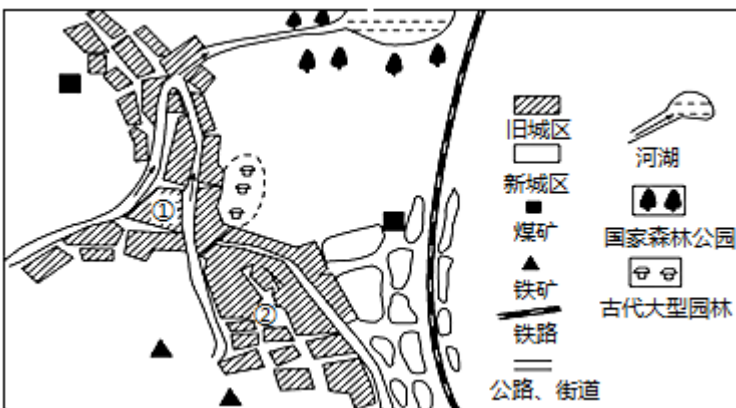
13、居住小区是指达到一定的_____和_____，基础设施配套比较齐全的_____。在居住小区内设有基本的_____服务设施，居民不必穿越城市主要交通线即可满足基本的生活需求。

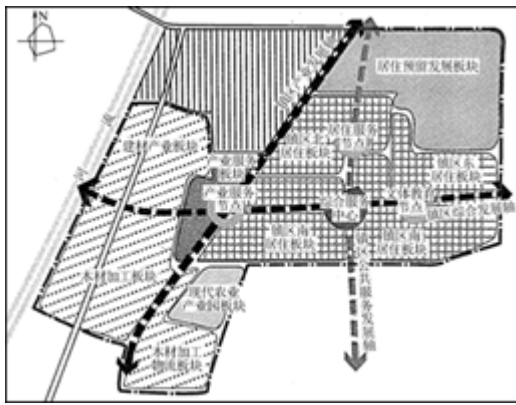
14、完善的城乡公共服务设施的重要意义：_____、为社会提供丰富的文化产品和优质的文化服务；弘扬民族优秀文化；推动文化交融等。

评卷人	得分

三、综合题(共9题，共18分)

15、读某历史名城图。回答下列问题。



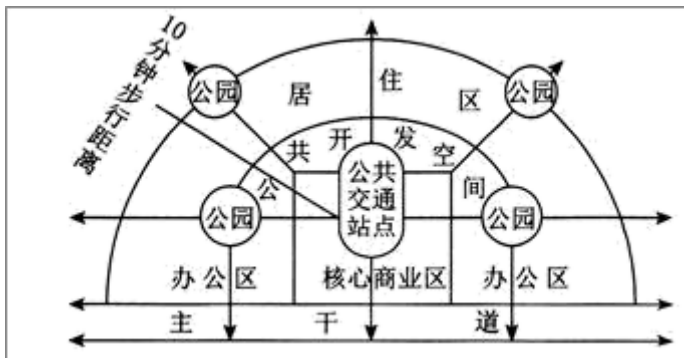


- (1) 简述该中心镇区规划的空间形态及其好处。
- (2) 说明工业区布局的合理性。
- (3) 简析公共服务发展轴的分布特点及其遵循的原则。

18、[城乡规划] 阅读材料；回答问题。

材料 1：20 世纪 50 年代后期；随着私人汽车的普及，高速公路的大量建设，信息化技术的发展以及郊区的低税率，美国人开始大量向郊区迁移。新城市主义是 20 世纪 90 年代初针对北美城市化问题而形成的一种城市规划和城市发展理念，主张借鉴二战前美国小城镇和城镇规划优秀传统，塑造具有城镇生活氛围；紧凑的社区，取代城市无限度向郊区蔓延的发展模式。其核心思想是重视区域规划，以人为中心，尊重历史与自然，强调规划设计与环境的和谐。

材料 2：新城市主义主张建立以公共交通为中枢的步行化城区，即以公交站点为中心，以 400~800 米或 5~10 分钟步行距离为半径，建立集工作、商业、文化、教育、高居住密度等功能为一体的城区，以实现各个城市组团紧凑布局的协调发展模式。下图示意新城市主义理念下的步行化城区。



- (1) 新城市主义理念下，步行化城区建设的主要目的是为了重点解决城市_____的问题。
- (2) 步行化城区的规划设计适宜于_____
 - A.小城镇的远期人口规划
 - B.中等城市的产业结构调整。
 - C.大城市的旧城改造项目
 - D.城市群的合理布局。
- (3) 城市规划的空间形态由集中式向组团式发展；其优点有哪些？
- (4) 谈谈新城市主义对中国城市规划的启示。

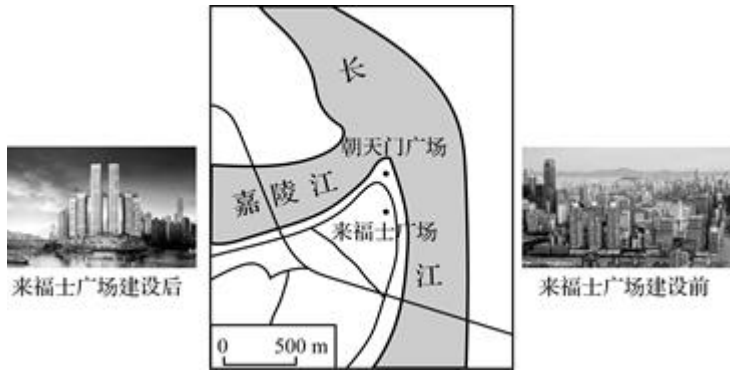
19、人居环境中的自然要素主要是指_____、_____、阳光、土壤、_____、动物等，它们构成了人类生存的基本物质和能量，是人居环境的基础。

20、（城乡规划）阅读材料；回答下列问题。

材料一

重庆朝天门位于长江和嘉陵江两江交汇地；是重庆的十七座古城门之一，朝天门对于重庆人而言具有极高的地位。朝天门的来福士广场是新加坡凯德集团和星桥腾飞集团联合开发的项目，由8栋超高层塔楼；底部裙楼及一座横跨天际的空中连廊组成，涵盖高端住宅、购物中心、办公楼、五星级酒店和服务公寓五大核心业态，将成为重庆新地标。

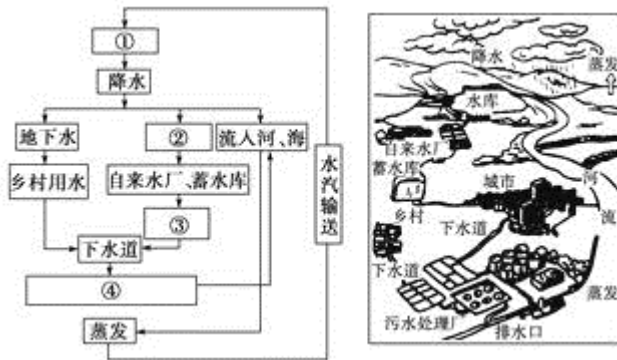
材料二 下图为“来福士广场位置及效果对比图”。



- (1) 来福士广场选址朝天门的理由是_____。
- (2) 如何协调该项目建设与保护当地历史文化遗产之间的关系？
- (3) 请你谈谈来福士广场项目对重庆市发展的意义。

21、阅读材料；回答以下各题。

材料1:



材料2：城市的发展除了保证有正常能源；水源等供应外；还要有特色。在北京，一个马来西亚建筑师去看北京的城市建筑，转了一圈一时难以找到传统建筑。他惊讶于北京的现代建筑如此之多，但很多都是从国外复制过来的二三流设计作品。他惋惜那么多北京的四合院没有了，北京的传统建筑越来越少，已变得千城一面，万楼一样了。

材料3：四川成都的芙蓉古城被公认为继承传统建筑文化；突出地域文化特点的全中国著名房地产项目。它集川西民居之灵气、巴蜀文化之精华、古老成都之淳朴、江南园林之情趣于一身；是目前国内屈指可数的融居住、旅游、休闲、度假、商务为一体的超大规模园林和传统民居风格建筑。在此居住的人们不仅有舒适的住宅，而且享受到浓郁的川西建筑文化。

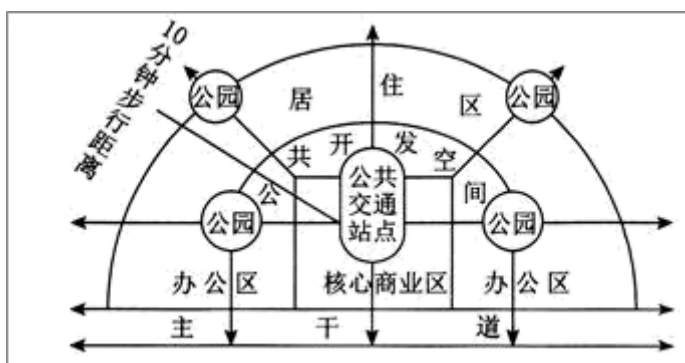
- (1) 材料1图中序号表示的含义分别是：①_____；②_____；③_____；④_____。
- (2) 流经城市河流的径流水流平稳；利于航运，但极易受城市工业及生活用水的污染，请为经过城市的河流的治理与利用提供合理建议。
- (3) 在现代城市建设规划和设计中；要使一个城市有特色，应做到：
一是_____；即及时有效地保护现有的地域建筑特色。
二是_____；即将传统的；民族的建筑特征融入现代建筑设计中，传承优秀的传统建筑文化艺术。

三是_____，即让传统的建筑艺术精华在现代城市建筑中得以传承、延续，并在原有的基础上进行新颖的设计，使民族文化在现代社会中得以延续和发扬光大。

22、[城乡规划] 阅读材料；回答问题。

材料 1：20 世纪 50 年代后期；随着私人汽车的普及，高速公路的大量建设，信息化技术的发展以及郊区的低税率，美国人开始大量向郊区迁移。新城市主义是 20 世纪 90 年代初针对北美城市化问题而形成的一种城市规划和发​​展理念，主张借鉴二战前美国小城镇和城镇规划优秀传统，塑造具有城镇生活氛围；紧凑的社区，取代城市无限度向郊区蔓延的发展模式。其核心思想是重视区域规划，以人为中心，尊重历史与自然，强调规划设计与环境的和谐。

材料 2：新城市主义主张建立以公共交通为中枢的步行化城区，即以公交站点为中心，以 400~800 米或 5~10 分钟步行距离为半径，建立集工作、商业、文化、教育、高居住密度等功能为一体的城区，以实现各个城市组团紧凑布局的协调发展模式。下图示意新城市主义理念下的步行化城区。



(1) 新城市主义理念下，步行化城区建设的主要目的是为了重点解决城市_____的问题。

(2) 步行化城区的规划设计适宜于_____

- A. 小城镇的远期人口规划
- B. 中等城市的产业结构调整。
- C. 大城市的旧城改造项目
- D. 城市群的合理布局。

(3) 城市规划的空间形态由集中式向组团式发展；其优点有哪些？

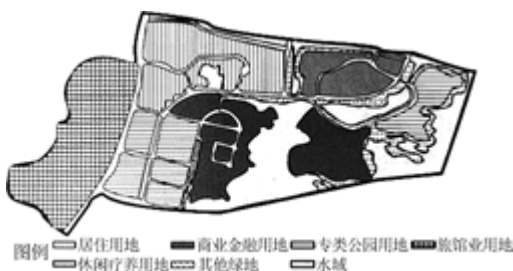
(4) 谈谈新城市主义对中国城市规划的启示。

23、（城乡规划）阅读下列材料；回答问题。

材料一

康养小镇是指以“健康”为小镇开发的出发点和归缩点，以健康产业为核心，将健康、养生、养老、休闲、旅游等多种功能融为一体的特色小镇。浙江省湖州市依托环太湖湿地打造田园康养小镇。

材料二 下图为“田园康养小镇土地利用规划图”。



(1) 简述康养小镇建设的区位条件。

(2) 与一般城镇相比；田园康养小镇土地利用的特点有_____。

(3) 湿地在小镇规划中的功能有___。

(4) 康养小镇土地利用规划中应遵循的原则有_____。

参考答案

一、选择题(共8题, 共16分)

1、D

【分析】

【分析】

【详解】

聚落的主要形式包括乡村和城市。乡村是人口规模不大, 主要从事农业生产活动的居民聚居地。城市是人口达到一定规模, 主要从事非农业生产活动的居民聚居地。不同类型的聚落呈现出的景观有较大差异, 其主要原因是劳动生产力的差异。D正确。社会制度的差异、建筑风格的差异、风俗习惯的差异对聚落景观的影响不如劳动生产方式的差异大, ABC错误。故选D。

2、A

【分析】

【分析】

【详解】

浦东开发导致城市空间结构发生变化; 陆家嘴成为上海的金融中心, ①正确。城市用地规模也在不断扩大, 催生了很多新城, ②正确。随着经济的发展, 农业用地规模减少, 第一产业比重下降。第二产业如劳动力密集型产业大量外迁, 导致第二产业比重下降。大力发展金融业, 第三产业比重上升, ③④错误。故本题选A。

【点睛】

浦东开放的时间是1990年, 距今已经有30多年的历史了。城市化的发展会挤占农业用地, 也会促进产业结构的调整和升级。

3、C

【分析】

以上内容仅为本文档的试下载部分，为可阅读页数的一半内容。如要下载或阅读全文，请访问：<https://d.book118.com/995211342101012013>