

2024年统编版2024九年级地理上册阶段测试试卷465

考试试卷

考试范围：全部知识点；考试时间：120分钟

学校：_____ 姓名：_____ 班级：_____ 考号：_____

总分栏

题号	一	二	三	四	五	总分
得分						

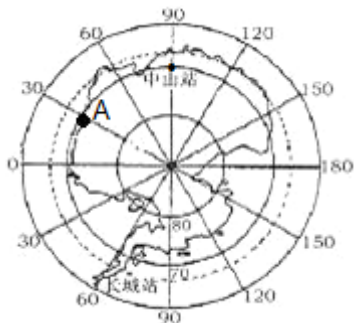
评卷人	得分

一、选择题(共7题，共14分)

1、我国领土最北端位于黑龙江漠河附近，以下关于漠河的叙述可信的是（ ）

- A. 如果暑假去漠河旅游依然可以观赏到当地美丽雪景
- B. 在当地可以看到大片的油菜花地和成片的稻田
- C. 夏季的漠河，即使是晚上七八点钟户外活动也是很正常的，因为天还很亮
- D. 漠河与云南腾冲一线是我国的人口分界线

2、读南极地区图；A点分别位于中山站和长城站的什么方向（ ）



- A. 南方、西北方
- B. 西方、东南方
- C. 东方、西北方
- D. 北方、东南方

3、在海边观察远处驶来的轮船，总是先看到桅杆，再看到船身，该现象反映的地理事实是

- A. 海陆在不断变迁
- B. 地球自西向东自转
- C. 地球是个球体
- D. 地球表面三分陆地七分海洋

4、有关人种与地理环境之间关系的说法，正确的是（ ）

- A. 人种肤色大致由赤道向两极逐渐变深
- B. 热带地区黑色皮肤有助于保护人体免受紫外线的伤害

- C. 非洲黑人头发卷曲主要与降水有关
- D. 北欧人的鼻子高而长与夏季高温散热有关

5、图中M地区最突出的生态环境问题是（ ）

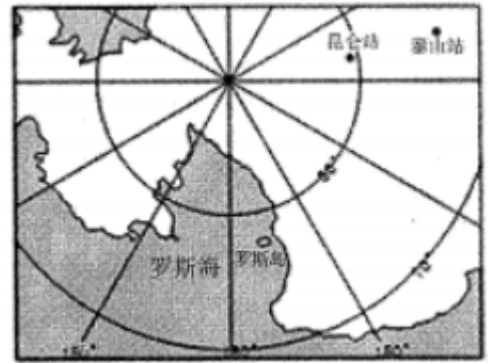
- A. 大气污染
- B. 水土流失
- C. 旱涝灾害
- D. 水体污染

6、中国第33

次南极科考中；“雪龙”号环南极航行抵达罗斯海海域，为中国第五个南极考察站选址。读南极部分地区示意图，回答6~7题。

南极地区科考最适宜的时间是（ ）

- A. 3、4、5月
- B. 6、7、8月
- C. 9、10、11月
- D. 12、1、2月



7、

自贡和拉萨纬度相近，但是气温相差很大，影响的主要因素是（ ）

- A. 纬度位置
- B. 海陆位置
- C. 洋流
- D. 地形

评卷人	得分

二、多选题(共5题，共10分)

8、下列货物的运输，选择交通运输方式最合理的是（ ）

- A. 两箱急救药品从北京广州选择航空运输
- B. 六十万吨大米从武汉运往南京选择空运
- C. 七十万吨煤炭从秦皇岛到上海选择海运
- D. 五十万吨钢材从重庆运往昆明选择公路运输

9、关于纬线特点的叙述，正确的是（ ）

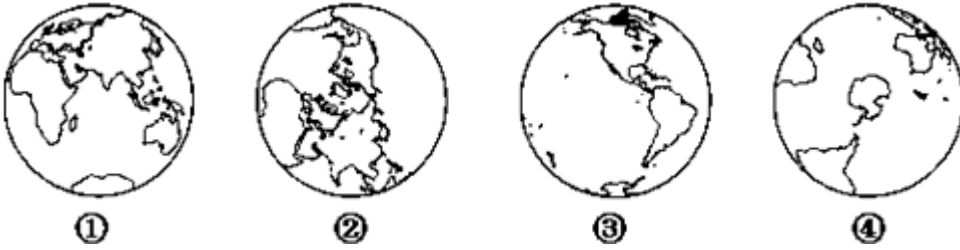
- A. 纬线的长度都相等
- B. 指示南北方向
- C. 纬线都是自成圆圈
- D. 指示东西方向

10、下列省区完全位于亚热带、湿润地区的是（ ）

- A. 辽宁省
- B. 江西省

- C. 湖南省
- D. 甘肃省

11、以下关于半球的叙述正确的是 ()



- A. ①为东半球
- B. ②为西半球
- C. ③为北半球
- D. ④为南半球

12、非洲人打鼓，在 () 时，众鼓齐鸣。

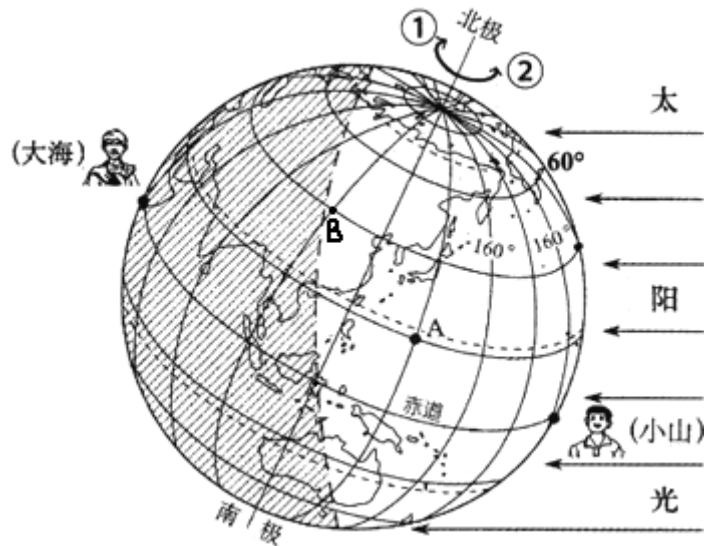
- A. 打猎
- B. 欢迎贵宾
- C. 出现敌情
- D. 死亡报丧

评卷人	得分

三、填空题(共6题，共12分)

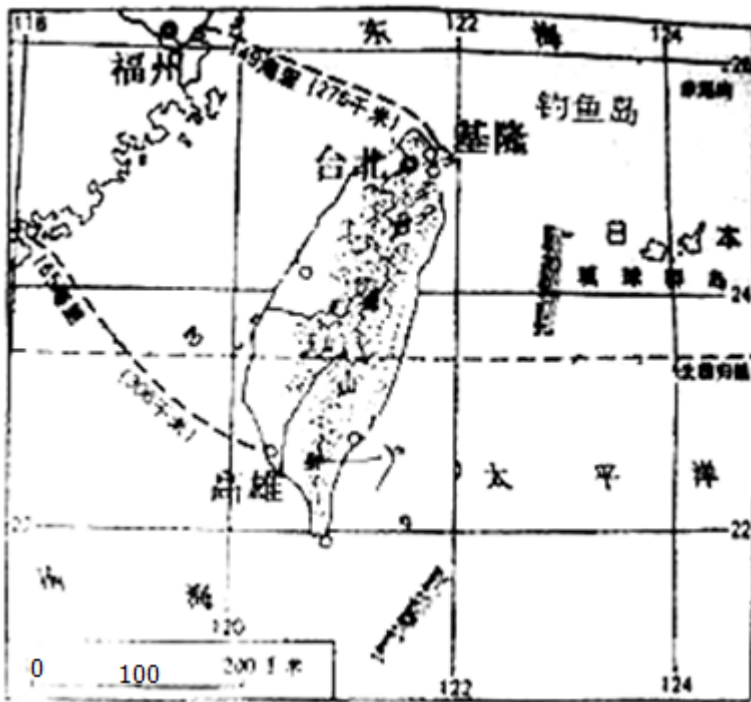
13、读下面“太阳光照示意图”；回答下列问题：

- (1) 图中地轴短线上的箭头正确表示地球自转方向是____。(填代码)
- (2) 图中大海和小山两位同学，时至深夜酣睡的是____。
- (3) 图中A点的经纬度是____、____，所在的大洋是____。
- (4) 沿小山所在的点随地球自转一周需要____(时间)。
- (5) B点在大海的____方向。
- (6) A、B两点中____点将首先迎来一天中的第一缕曙光。



14、全球定位系统的缩写是____。

15、读台湾省地图完成下列问题。



(1) 福州到基隆的实地直线距离是____千米。

(2) 我国固有领土钓鱼岛位于台湾岛的____方向。

(3) 到台湾高雄旅游的小刚发现中午太阳从头顶上照射；建筑物都没有影子，同一天在台北旅游的小强却没有看到这种现象，请运用地图信息帮他们分别解释两地现象。（四个要点）

(4) 上述现象说明小刚和小强是在哪个月份赴台旅游的____。

A.3月 B.6月 C.9月 D.12月。

(5) 台湾是我国地震较多的省份，请用板块构造学说解释原因。

16、读图；回答下列问题：

(1) 我国行政区划基本分为____、____、____ 三级；

(2) 写出数码所代表的省级行政区：

我国跨经度最广的省区1是____；纬度位置最高的省份是（填写图中字母）____，名称是____2是____省；2010年8月因暴雨发生了严重的泥石流现象，致使一千多人死亡。

(3) 写出数码所代表的省级行政区的简称：4____、5____、6____、7____、8____；

(4) 写出字母所代表的海域：

A是____海 B是____海 C是____海 D是____海。

(5) 请在图中描绘出北回归线（用虚线）。北回归线自西向东穿过的省是____、____、____、____。

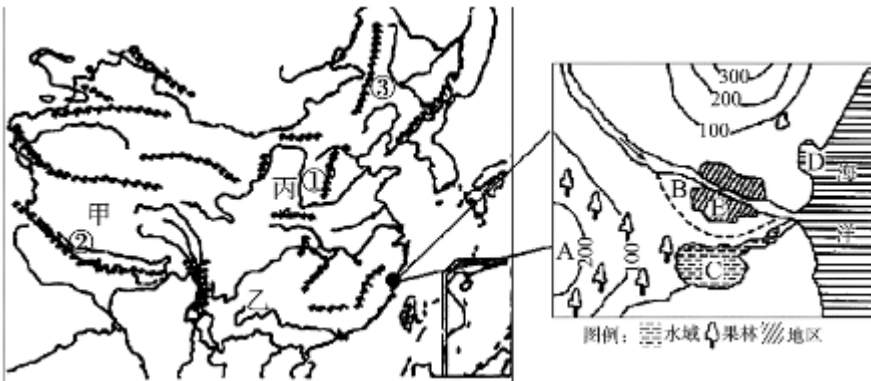


17、读“长江流域水系图”；回答下列问题。



- (1) 长江发源于___峰，流经___高原、___盆地、___平原等地形区，注入___海。
- (2) 长江素有“水能宝库”之称的河段位于___（上、中、下）游，三峡水利枢纽工程位于___（填字母）处，K为___水利枢纽工程；长江支流众多，构成纵横广阔的水运网，干流横贯东西，终年不冻，宜宾以下四季通航，素有“___”之称。
- (3) 河流①嘉陵江、②汉江与长江的汇合处A、B分别是___、___（城市）。河流④江注入的湖泊是___。

18、我国纵横交错的山脉和复杂多样的地形；为我们提供了丰富多彩的自然景观，又使祖国各地的生产活动和生活方式各有不同。读图回答下列问题：



- (1) 图中序号代表的是：乙___高原，②___山脉。
- (2) 山脉③以西的土地利用类型主要是___（填“耕地；林地或者草地”）
- (3) 丙高原地表支离破碎，千沟万壑，存在的生态环境问题是___现象严重。
- (4) 根据聚落的形成与发展因素，简要分析E地发展成为城镇的优势。

评卷人	得分

四、判断题(共2题，共20分)

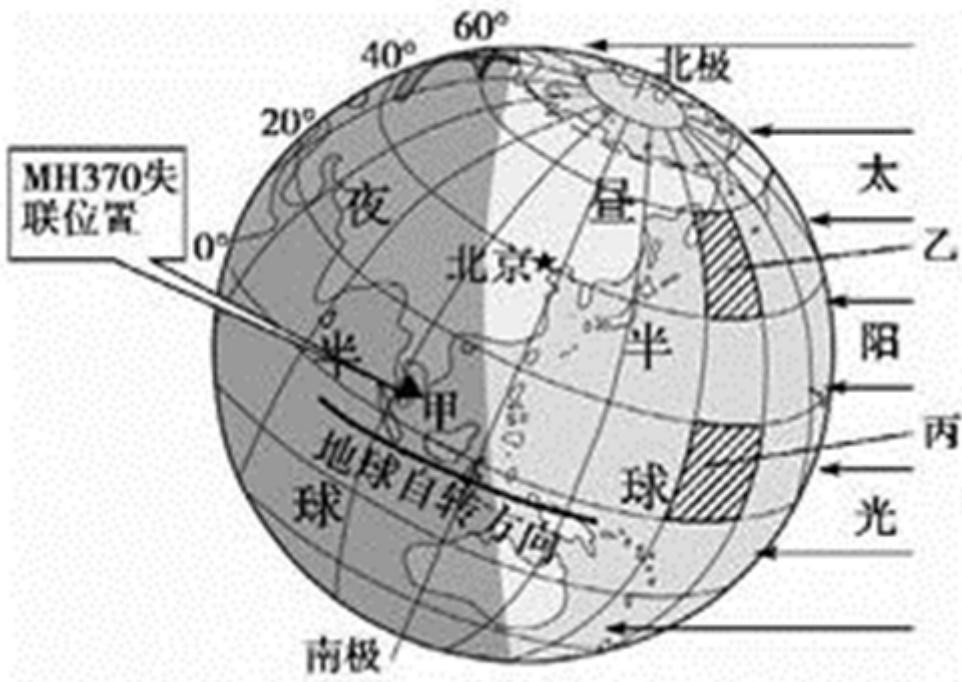
19、在地球仪上，经线也叫子午线，180°经线叫本初子午线。___。（判断题）

20、赤道是东、西半球分界线。___。（判断对错）

评卷人	得分

五、连线题(共3题，共30分)

21、读地球上的昼与夜示意图，完成下列要求(7分)。



- (1) 在图中标示“地球自转方向”的弧线上添加箭头，以表示地球的自转方向。
- (2) 马来西亚航空公司于当地（东七区）时间 2014年 3月 8日凌晨 2点 40分声明，一架由吉隆坡飞往北京的航班MH370与管制中心失去联系，失联位置位于图中甲地（06°55′15″N，103°34′43″E）。MH370失去联系时太阳直射光在向_____方向移动，失联位置位于北京的_____方向。
- (3) 0°纬线的长度约是_____千米。
- (4) 图示时刻，北京是_____（白天、黑夜）。北京的昼夜长短发生变化是由地球的_____运动所产生的地理现象。
- (5) 乙、丙两区域中，面积较大的是_____



loading...

22、将下列三大宗教与其分布主要地区的序号填写在下面的括号里

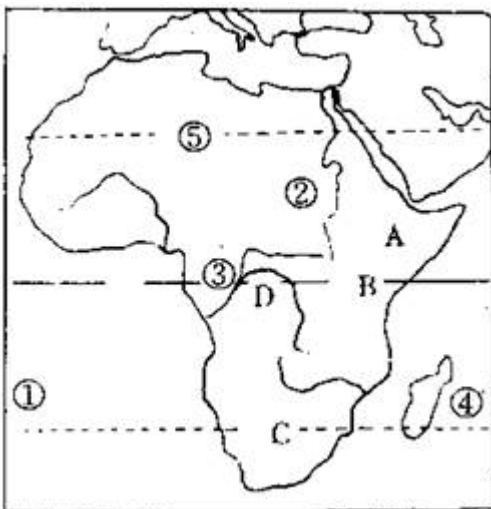
- A. 基督教 ①亚洲东部和东南部
- B. 伊斯兰教 ②欧洲、美洲、非洲和大洋洲
- C. 佛教 ③亚洲西部和东南部、非洲北部和东部

A— () B— () C— ()



loading...

23、



地形区

B- ()

C- ()

D- ()

河流② ()

沙漠④ ()



loading...

参考答案

一、选择题(共7题，共14分)

1、C

【分析】

【分析】我国领土的四至点是：最北端--漠河以北黑龙江主航道中心；最南端--曾母暗沙；最西端--帕米尔高原；最东端--黑龙江与乌苏里江的汇合处。

【解析】

【解答】解：我国冬季南北温差很大；夏季普遍高温，暑假去漠河旅游观赏不到当地雪景，故A错误；

大片的油菜花地和成片的稻田是我国南方地区的景观；黑龙江漠河位于我国的最北端，主要粮食作物是春小麦，主要油料作物是大豆，故B错误；

夏季的漠河白昼时间最长；因此即使是晚上七八点钟户外活动也是很正常的，故C正确；

黑龙江的黑河与云南腾冲一线是我国的人口分界线；故D错误。

故选：C。

2、B

【分析】

【分析】中国在南极地区的科学考察站有长城站；中山站和昆仑站；2014年2月8日；我国南极泰山站正式建成开站，这继长城站、中山站和昆仑站之后中国的第四个南极科考站。

地球的自转方向是自西向东的，在南极上空看，地球的自转方向为顺时针方向旋转；在北极上空看，地球的自转方向为逆时针方向旋转。

【解析】

【解答】解：地球的自转方向是自西向东的；题干中的图示为南极地区。在南极上空看，地球的自转方向为顺时针方向旋转；图中的A点和中山站位于同一纬线上，且A点按顺时针方向旋转到中山站，与地球的自转方向一致，故A点在中山站的西方；A点离南极点近，长城站离南极点远，A点按逆时针方向旋转到长城站，与地球的自转方向相反，故A点位于长城站的东南方向。根据题意。

故选：B。

3、C

【分析】

本题考查地球形状的认识；要理解记忆。能证明地球形状是球体的例子很多，如离岸的船总是船身先消失，桅杆后消失；站得高，才能看得远、麦哲伦环球航行、月食、人造卫星拍摄的地球照片。故选C。

【解析】

【答案】 C

4、B

【分析】

以上内容仅为本文档的试下载部分，为可阅读页数的一半内容。如要下载或阅读全文，请访问：<https://d.book118.com/996144052124011012>